


EM CLÉLIA CARMELO DA SILVA
CADERNO DE ATIVIDADES N. 11

3. ANO B - PERÍODO DA TARDE



APOSTILA REFERENTE AOS DIAS:
⇒ **20, 21, 22, 23, 24, 27 e 28/09**

DEVOLVER EM: 29 e 30/09

ALUNO:

QUERIDO ALUNO,



AS AULAS ESTAO RETORNANDO, FIQUE ATENTO ÀS DATAS EM QUE VOCE TERÁ AULA...

O USO DA MÁSCARA É OBRIGATÓRIO E O DISTANCIAMENTO SOCIAL TAMBÉM!



PROFESSORA VANIA FIUZA

ATIVIDADE N. 01

ENVIE PARA A PROFESSORA UMA FOTO DO SEU BRINQUEDO PREFERIDO.

Convite

OLÁ AMIGUINHO!
QUERO CONVIDÁ-LO PARA A MINHA
FESTA DE DESPEDIDA!

DIA: ___/___/18

HORA: 15:00

LOCAL: NA ESCOLA PINHEIRO
REVELLES

MONSTRO



ESSE TEXTO É UM:

POEMA

CONVITE

RECEITA

QUAL A DATA DA FESTA?

O HORÁRIO DA FESTA?

LOCAL DA FESTA?

QUEM ESTÁ CONVIDANDO?

PINTE NO DIAGRAMA AS PALAVRAS ABAIXO:

periquito - boca - panela - papagaio - bota - bode
pudim - bacia - palito - borboleta - biscoito - pele



R	N	J	B	I	S	C	O	I	T	O	L
P	E	L	E	F	B	O	C	A	Y	S	R
G	P	E	R	I	Q	U	I	T	O	V	X
B	O	R	B	O	L	E	T	A	M	K	W
L	B	O	T	A	T	P	U	D	I	M	B
P	A	N	E	L	A	X	B	A	C	I	A
Y	W	P	A	P	A	G	A	I	O	K	C
M	P	A	L	I	T	O	Z	Q	T	P	J
R	G	F	J	B	O	D	E	V	P	D	N

Agora, escreva as palavras encontradas no quadro correspondente:



P	B

INTERPRETANDO O ANÚNCIO

- OBSERVE O TEXTO ABAIXO E FAÇA O QUE SE PEDE.



A) ESTE TEXTO É:

UM ANÚNCIO.

UMA POESIA.

UM BILHETE

B) QUAL É O PRODUTO ANUNCIADO?

MEL

BOLO

DOCE

C) COMPRANDO  PAGAREI:

R\$3,00

R\$1,00

R\$2,00

D) QUAL É O NOME DO ESTABELECIMENTO?

F) ONDE SE LOCALIZA ESTA LOJA?

ANÚNCIO

CIRCO FELICIDADE

CURTA
TEMPORADA



ESPETÁCULOS:

DE 2ª À 6ª DAS 19 ÀS 22 HORAS.
SÁBADOS, DOMINGOS E FERIADOS À PARTIR DAS
14:00 HORAS.

- * PALHAÇOS
- * MALABARISTAS
- * MÁGICOS
- * LEÕES
- * FOCAS E CÃES ADESTRADOS
- * ROLETA RUSSA

SÓ HOJE
R\$5,00
POR PESSOA

PROMOÇÃO:

MENORES DE 5 ANOS
NÃO PAGAM INGRESSO

VENHA RIR E SE DIVERTIR PRA VALER !

RESPONDA:

1-QUAL É O NOME DO CIRCO ? _____

2-QUAIS SÃO AS ATRAÇÕES QUE SÃO APRESENTADAS DURANTE O ESPETÁCULO ?

3-QUA É A PROMOÇÃO ? _____

4-QUANTO CADA PESSOA PAGARÁ ? _____

5-SE VOCE PUDESSE MUDAR O NOME DO CIRCO, QUAL O NOME QUE DARIA AO CIRCO ?

LEIA A PARLENDIA E SEPRE AS SÍLABAS DAS PALAVRAS QUE ESTAO NO QUADRO:



MONOSSÍLABA	DISSÍLABA	TRISSÍLABA	POLISSÍLABA
PÓ	CAFÉ	CASINHA	DEMORANDO

COMPLETE O POEMA COM AS RIMAS DE ACORDO COM OS NOMES DOS ANIMAIS

ESSA CASA É DO CACO.
 QUEM MORA NELA É O _____.
 ESSA CASA É TÃO BONITA.
 QUEM MORA NELA É A _____.
 ESSA CASA É DE CIMENTO.
 QUEM MORA NELA É O _____.
 ESSA CASA É DE LATA,
 QUEM MORA NELA É A _____.
 ESSA CASA É ELEGANTE,
 QUEM MORA NELA É O _____.
 EU DESCOBRI DE REPENTE,
 QUE NÃO FALEI DE CASA DE _____.



1. ESCREVA O NOME DE CADA FIGURA ABAIXO.








2. ORGANIZE OS NOMES ACIMA EM ORDEM ALFABÉTICA.

3. VEJA O CARTAZ E RESPONDA:




A) QUAL MENSAGEM QUE ESTE CARTAZ QUER TRANSMITIR PARA A POPULAÇÃO?

1.Desenhe:


01 Dúzia de balas.



Meia dezena de pirulitos



01 Dezena de bolas



1. Complete as sequências.

10	11	12	13	14	15	16	17	18	19	20
20	21									30
30					35			38		40
40		42								
50							57			60
60						66				
70					75					80
80	81						87			90
90				94				98		

2. Escreva com palavras os nomes dos números.


22 _____

43 _____

54 _____

Maurício ganhou uma dezena de bolinhas de gude e seu irmãozinho Pedro quer saber quantas bolinhas são. Ajude Maurício explicar para Pedro o que são dezenas.

1. Desenhe 01 dezena de bolinhas.



2. Quantas bolinhas você desenhou? _____

Agora, complete:

01 dezena ou _____ unidades.

02 dezenas ou _____ unidades

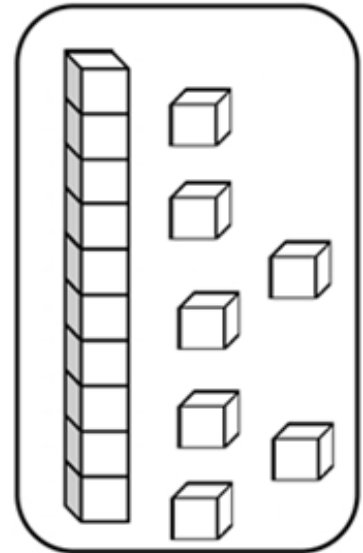
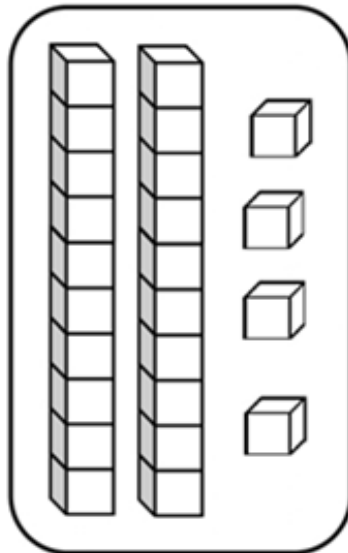
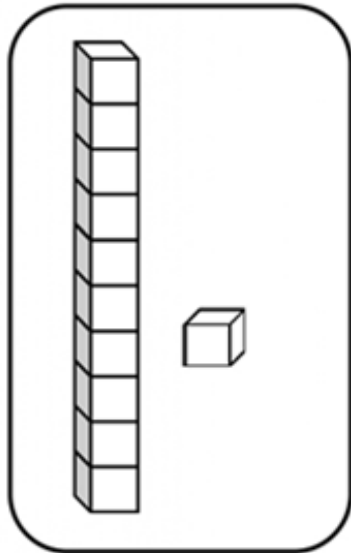
03 dezenas ou _____ unidades

04 dezenas ou _____ unidades

05 dezenas ou _____ unidades



1. Qual é o número?



2. Escreva os números representados acima em ordem crescente.

3. Escreva o antecessor e sucessor dos números.

Faça como a Mônica:
use a máscara!



_____ 11 _____

_____ 17 _____

_____ 24 _____

Represente no Quadro posicional:

- a) $70 + 5$
- b) 2 dezenas e 8 unidades
- c) 97
- d) 4 dezenas
- e) $80 + 3$
- f) 5 unidades



DEZENAS	UNIDADES

1. Mamãe foi ao sacolão e comprou:

08 cenouras

02 alfaces

06 tomates



Quantos itens ela comprou ao todo?

2. Ela levou R\$ 25,00 e gastou R\$ 18,00. Quanto sobrou?

4. Com o troco ela irá comprar 04 bolinhos que custam R\$ 1,00 cada. Quanto irá sobrar?

1. RESOLVA AS OPERAÇÕES:

$$\begin{array}{r} 11 \\ +12 \\ \hline \end{array}$$

$$\begin{array}{r} 14 \\ +15 \\ \hline \end{array}$$

$$\begin{array}{r} 21 \\ +23 \\ \hline \end{array}$$

$$\begin{array}{r} 31 \\ +13 \\ \hline \end{array}$$

$$\begin{array}{r} 17 \\ +12 \\ \hline \end{array}$$

$$\begin{array}{r} 32 \\ +11 \\ \hline \end{array}$$

$$\begin{array}{r} 22 \\ +24 \\ \hline \end{array}$$

$$\begin{array}{r} 41 \\ +13 \\ \hline \end{array}$$

$$\begin{array}{r} 42 \\ +24 \\ \hline \end{array}$$

$$\begin{array}{r} 23 \\ +26 \\ \hline \end{array}$$

$$\begin{array}{r} 67 \\ +11 \\ \hline \end{array}$$

$$\begin{array}{r} 64 \\ +23 \\ \hline \end{array}$$



1. RESOLVA AS OPERAÇÕES:

$$\begin{array}{r} 32 \\ -21 \\ \hline \end{array}$$

$$\begin{array}{r} 42 \\ -13 \\ \hline \end{array}$$

$$\begin{array}{r} 56 \\ -25 \\ \hline \end{array}$$

$$\begin{array}{r} 48 \\ -34 \\ \hline \end{array}$$

$$\begin{array}{r} 26 \\ -14 \\ \hline \end{array}$$

$$\begin{array}{r} 53 \\ -32 \\ \hline \end{array}$$

$$\begin{array}{r} 18 \\ -13 \\ \hline \end{array}$$

$$\begin{array}{r} 38 \\ -16 \\ \hline \end{array}$$

$$\begin{array}{r} 28 \\ -16 \\ \hline \end{array}$$

$$\begin{array}{r} 23 \\ -12 \\ \hline \end{array}$$

$$\begin{array}{r} 67 \\ -16 \\ \hline \end{array}$$

$$\begin{array}{r} 64 \\ -32 \\ \hline \end{array}$$



1. Escreva o número correspondente.

vinte e dois _____

setenta e seis _____

quarenta e dois _____

noventa e quatro _____

oitenta e dois _____

2. Quem é maior?

32 ou 23? _____

94 ou 49? _____

67 ou 67? _____

71 ou 17? _____

84 ou 48? _____

**ÁGUA...
QUE FALTA FAZ!**



1. Escreva, em ordem crescente, os números que aparecem nos quadros abaixo:

30 37 45 98 12 08 76 56 9

2. Neste quadro há dois números posicionados em lugares indevidos. Encontre -o e circule-os

11 16 13 19 15 12 17 18 14 20

Agora, escreva a sequência em ordem correta.

3. Pinte os números maiores do que 50.

