

E.M. GUILHERMINA PAULA DOMINGUES – SIMULADO 3º BIMESTRE 2021

NOME: «Nome_do_Aluno»

Nº: «Nº»

SÉRIE: 4º ANO A

TURMA: A

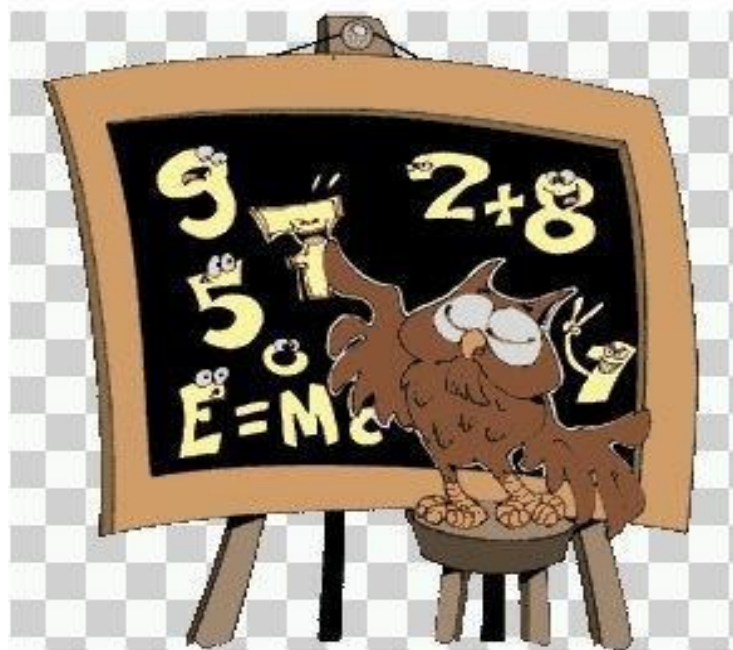
NOTA:

DISCIPLINA: Matemática

DATA: 20/09 A 28/09

PROFESSOR: Israel

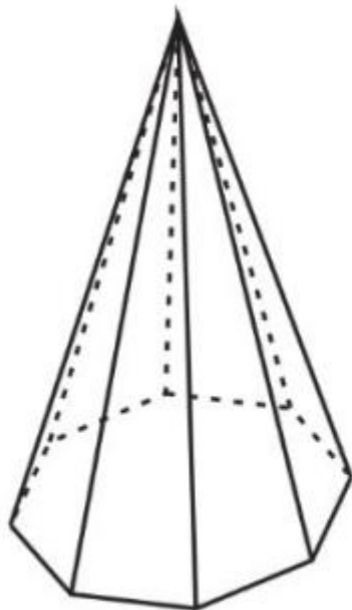
4º ANO - MATEMÁTICA



3º Bimestre - 2021

QUESTÃO 01

Veja a figura geométrica abaixo.



A quantidade de arestas nessa figura é

- A) 6
- B) 8
- C) 9
- D) 16

QUESTÃO 02

Observe a tabela abaixo com a quantidade de brinquedos de Joana e Pablo.

PRODUTOS	JOANA	PABLO
Brinquedos	21	15
Livros	10	12

De acordo com a tabela, quantos brinquedos Joana tem a mais que Pablo?

- A) 6
- B) 27
- C) 31
- D) 58

QUESTÃO 03

Uma confeitaria recebeu três caixas de chocolates. Uma caixa de chocolate preto com 80 unidades, a segunda continha 300 unidades de chocolate branco e a última com 1 000 unidades de chocolate ao leite.

No total, quantas unidades de chocolate a confeitaria recebeu?

- A) 138
- B) 1 308
- C) 1 380
- D) 1 830

QUESTÃO 04

Um pintinho leva em média 28 dias para nascer depois de chocado.

Quantas semanas um pintinho demora para nascer?

- A) 4
- B) 7
- C) 14
- D) 28

QUESTÃO 05

Carlos verificou pelo computador que a distância de sua casa até a casa de seu avô é de 4 000 m.

Qual é a distância, em quilômetros, da casa de Carlos até a casa de seu avô?

- A) 4 000
- B) 400
- C) 40
- D) 4

QUESTÃO 06

Maurício comprou uma garrafa com 2.000 ml de suco.

Essa quantidade em litros é

- A) 2
- B) 20
- C) 200
- D) 2 000

QUESTÃO 07

Laura comprou um vestido que custou 78 reais.

Quantos reais custou esse vestido de Laura?

- A) Setenta.
- B) Setenta e oito.

C) Oitenta.

D) Oitenta e sete

Atividade 03

DATA: 22/09/2021

QUESTÃO 08

Veja a conta abaixo.

$$746 + 352$$

Qual o resultado dessa conta?

A) 349






B) 394

C) 1 089

D) 1 098

QUESTÃO 09

Na malha quadriculada abaixo foram desenhadas algumas frutas considerando-se como base dois referenciais: linha e coluna.

	E	F	G	H
1				
2				
3				
4				

Qual é a fruta que está na posição 3G nessa malha quadriculada?

A) Abacaxi.

B) Banana.

C) Limão.

D) Uva.

QUESTÃO 10

Marcos comprou uma camisa por R\$ 46,00, e um boné por R\$ 16,00. Ele pagou com uma nota de R\$ 100,00. Qual o troco que Marcos recebeu?

- A) R\$ 162,00.
- B) R\$ 62,00.
- C) R\$ 38,00.
- D) R\$ 16,00.

Atividade 04

DATA: 23/09/2021

QUESTÃO 11

Observe a conta abaixo.

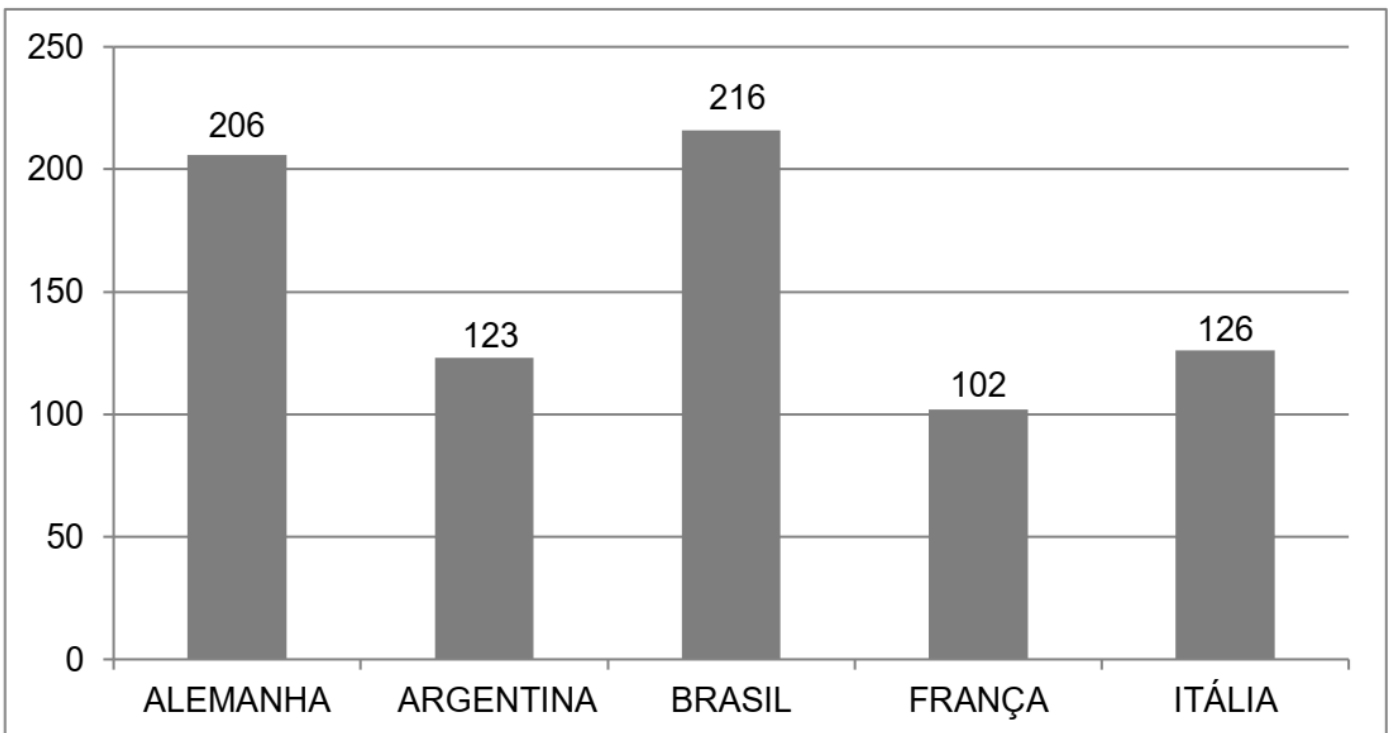
$$123 \div 3$$

O resultado dessa conta é

- A) 14
- B) 17
- C) 41
- D) 43

QUESTÃO 12

Veja o gráfico com a quantidade de gols marcados de cinco seleções de futebol em copas do mundo.



A soma dos gols da seleção brasileira e Argentina é

- A) 123

- B) 216
- C) 339
- D) 393

QUESTÃO 13

Um prisma triangular, tem quantas faces?

- A) 5
- B) 6
- C) 8
- D) 9

Atividade 05

DATA: 24/09/2021

QUESTÃO 14

Paulo pagou com uma nota R\$ 50,00, um brinquedo de R\$ 24,80 numa loja.
Quanto Paulo recebeu de troco?

- A) R\$ 22,50
- B) R\$ 25,20
- C) R\$ 74,80
- D) R\$ 78,40

QUESTÃO 15

Observe abaixo o relógio que mostra a hora que Ana Paula saiu de casa.



Qual foi o horário que ela saiu de casa?

- A) 1h50min
- B) 2h10m

C) 2h50min

D) 10h10min

QUESTÃO 16

A tarefa de Ana pede que ela forme um número com algarismo **9** na ordem das unidades simples, o **2** na ordem das dezenas, o **3** na ordem das centenas e o **5** na ordem das unidades de milhar.

O número que Ana deve formar é?

A) 5 239

B) 5 329

C) 9 235

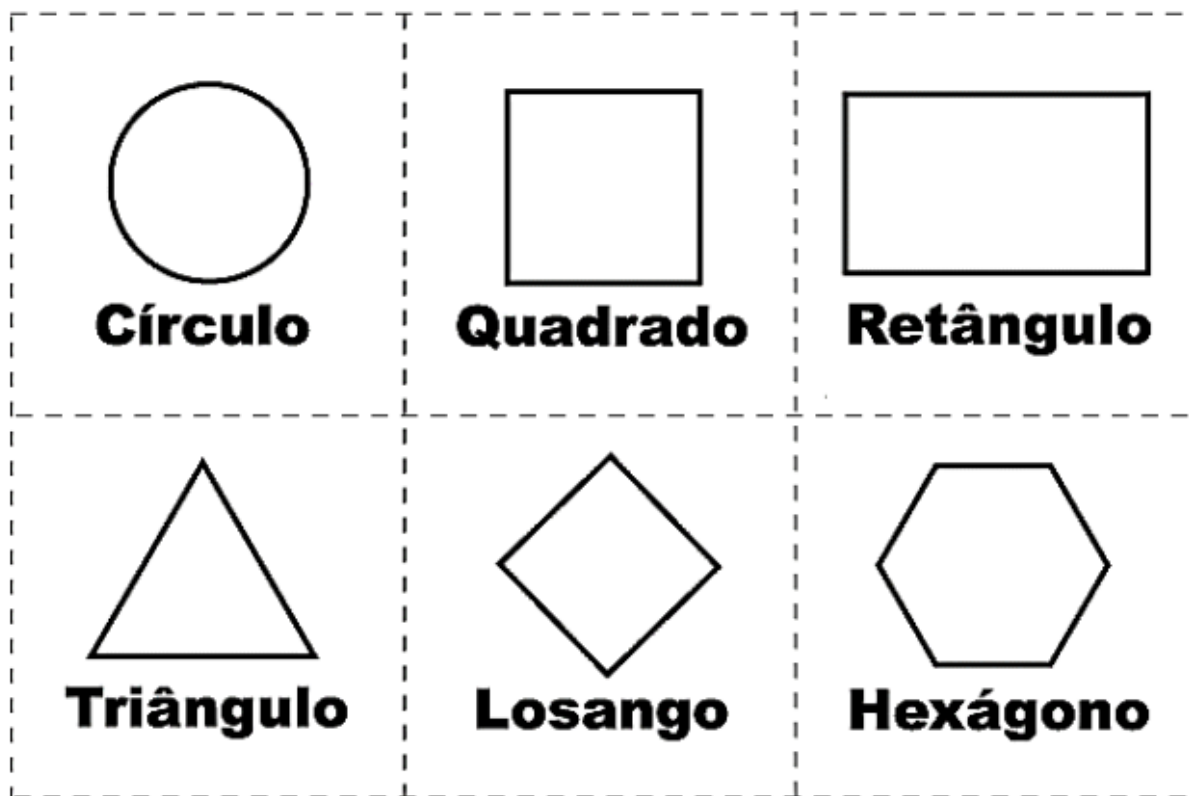
D) 9 325

Atividade 06

DATA: 27/09/2021

QUESTÃO 17

Observe as figuras geométricas abaixo.



Entre as figuras acima, quais não são quadriláteros?

A) Quadrado e círculo

B) Retângulo e quadrado

C) Hexágono e losango

D) Círculo e triângulo

QUESTÃO 18

Observe a operação abaixo.

$$326 \times 4$$

Qual é o resultado dessa operação?

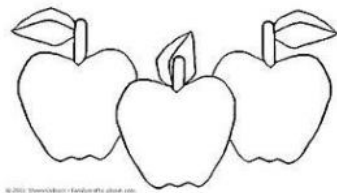
- A) 303
- B) 330
- C) 1 304
- D) 1 403

Atividade 07


DATA: 28/09/2021

QUESTÃO 19

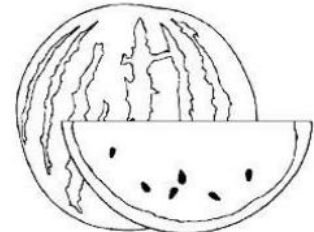
Luís Cláudio foi ao supermercado fazer algumas compras. Observe o que ele comprou.



2,5 kg



1,5 kg



3,5 kg

O peso total dos produtos comprados foi

- A) 7 kg
- B) 7,5 kg
- C) 8 kg
- D) 75 kg

QUESTÃO 20

A subtração ao lado tem como resto: $875 - 286$:

- A) 583
- B) 599
- C) 586
- D) 589

QUESTÃO 21

Ao entrar em sala, Ana leu o que estava escrito na lousa: oitocentos e cinquenta e seis. Procure outra forma para escrever o numeral que Ana leu:

- A) $800 + 50 + 6$
- B) $800 + 500 + 6$
- C) $80 + 50 + 6$
- D) $8.000 + 50 + 6$

QUESTÃO 21

O número 10.060, o algarismo 6 ocupa a ordem da:

- A) Centena Simples
- B) Dezena Simples
- C) Unidade Simples
- D) Dezena De Milhar