

PREFEITURA DA INSTÂNCIA DE IBIÚNA

E.M. "LOURIVAL CORREIA DE ARAÚJO"

PROFESSORA: IVANA TAKAMUNE

11º E 12º REMESSA

4º ANO A



NOME: \_\_\_\_\_

Ibiúna, 20 de Setembro de 2021

OBSERVE O CALENDÁRIO E RESPONDA:

### Setembro 2021

Domingo	Segunda-feira	Terça-feira	Quarta-feira	Quinta-feira	Sexta-feira	Sábado
			1	2	3	4
5	6	7	8	9	10	11
12	13	14	15	16	17	18
19	20	21	22	23	24	25
26	27	28	29	30		

1) EM QUE DIA DA SEMANA INICIOU O MÊS?

2) EM QUE DIA DA SEMANA TERMINARÁ O MÊS?

3) OS DOMINGOS SERÃO EM QUAIS DIAS?

4) QUANDO INICIA A PRIMAVERA?

Ibiúna, 20 de Setembro de 2021

# ADIÇÃO E SUBTRAÇÃO:

$\begin{array}{r} 75 \\ -54 \\ \hline \end{array}$	$\begin{array}{r} 31 \\ -18 \\ \hline \end{array}$	$\begin{array}{r} 93 \\ -67 \\ \hline \end{array}$	$\begin{array}{r} 82 \\ -54 \\ \hline \end{array}$	$\begin{array}{r} 46 \\ -24 \\ \hline \end{array}$
$\begin{array}{r} 77 \\ +73 \\ \hline \end{array}$	$\begin{array}{r} 28 \\ +55 \\ \hline \end{array}$	$\begin{array}{r} 29 \\ +66 \\ \hline \end{array}$	$\begin{array}{r} 45 \\ +44 \\ \hline \end{array}$	$\begin{array}{r} 32 \\ +44 \\ \hline \end{array}$
$\begin{array}{r} 68 \\ -54 \\ \hline \end{array}$	$\begin{array}{r} 80 \\ -49 \\ \hline \end{array}$	$\begin{array}{r} 67 \\ -34 \\ \hline \end{array}$	$\begin{array}{r} 85 \\ -48 \\ \hline \end{array}$	$\begin{array}{r} 59 \\ -24 \\ \hline \end{array}$
$\begin{array}{r} 35 \\ +24 \\ \hline \end{array}$	$\begin{array}{r} 37 \\ + 8 \\ \hline \end{array}$	$\begin{array}{r} 69 \\ +52 \\ \hline \end{array}$	$\begin{array}{r} 48 \\ +58 \\ \hline \end{array}$	$\begin{array}{r} 27 \\ +66 \\ \hline \end{array}$

Ibiúna, 21 de Setembro de 2021

# PRIMAVERA

ESCREVA O QUE VOCÊ MAIS GOSTA DESTA  
ESTAÇÃO DO ANO:

---

---

---

---

---

---

---

---

---

---



Ibiúna, 21 de Setembro de 2021

# PRIMAVERA

PESQUISE SOBRE A PRIMAVERA E REGISTRE AQUI:

COMO É O TEMPO?

---

---

---



COMO É A NATUREZA NA PRIMAVERA?

---

---

---

---



ESCREVA NOMES DE FLORES QUE SE DESTACAM NA PRIMAVERA

---

---

---

---

---

---

---



QUANTAS ESPÉCIES DE FLORES EXISTEM NO BRASIL?

---



Ibiúna, 21 de Setembro de 2021


# PRIMAVERA



A PRIMAVERA  
ME FAZ SENTIR



O TEMPO NA  
PRIMAVERA É



O QUE MAIS GOSTO  
NA PRIMAVERA


NA PRIMAVERA  
EU VEJO



Ibiúna, 22 de Setembro de 2021

## MEU JARDIM DE PALAVRAS


ESCREVA NOMES DE FLORES E BICHINHOS DE JARDIM:



Ibiúna, 22 de Setembro de 2021

# CAÇA-PALAVRAS

ENCONTRE NO QUADRO NOMES DE FLORES:



C	T	V	I	O	L	E	T	A	B	R	C
Y	O	C	H	Y	R	A	T	I	A	D	R
I	T	U	A	S	E	D	Y	W	B	C	A
A	U	S	L	I	M	N	S	Y	Y	U	V
Z	L	R	I	A	L	I	R	I	O	T	O
A	I	E	L	D	P	R	O	T	B	E	E
L	P	Y	Q	A	E	F	S	E	P	N	S
E	S	L	S	A	R	L	A	R	E	U	L
I	Q	L	A	W	C	Q	A	I	A	T	P
A	H	I	I	Y	Y	S	S	A	T	E	H
P	N	I	Y	M	A	R	G	A	R	I	A
T	J	A	S	M	I	M	L	N	Q	I	E



## Atividade 1

Ibiúna, 22 de Setembro de 2021

1. Cleisson, Naís e Eduardo foram à feira. Observe a quantia de reais que cada um



levou e responda:

a) Quantos reais tem Eduardo?

R- \_\_\_\_\_

b) Quem levou mais dinheiro para a feira? Quanto essa pessoa levou?

R- \_\_\_\_\_

c) Qual a quantia que essas três pessoas levaram juntas?

R- \_\_\_\_\_

d) Se Cleisson emprestar R\$ 5,00 para Naís, com quanto ele fica? E a Naís?

R- \_\_\_\_\_

e) Eduardo comprou 4 litros de leite por R\$ 5,00. Quanto ainda lhe resta?

R- \_\_\_\_\_



f) Cada kg de batata custa R\$ 2,00, quantos reais Cleisson vai precisar gastar para comprar 4 kg?

R- \_\_\_\_\_

Ibiúna, 23 de Setembro de 2021

# CRUZADINHA

ESCREVA OS NOMES DAS FLORES:



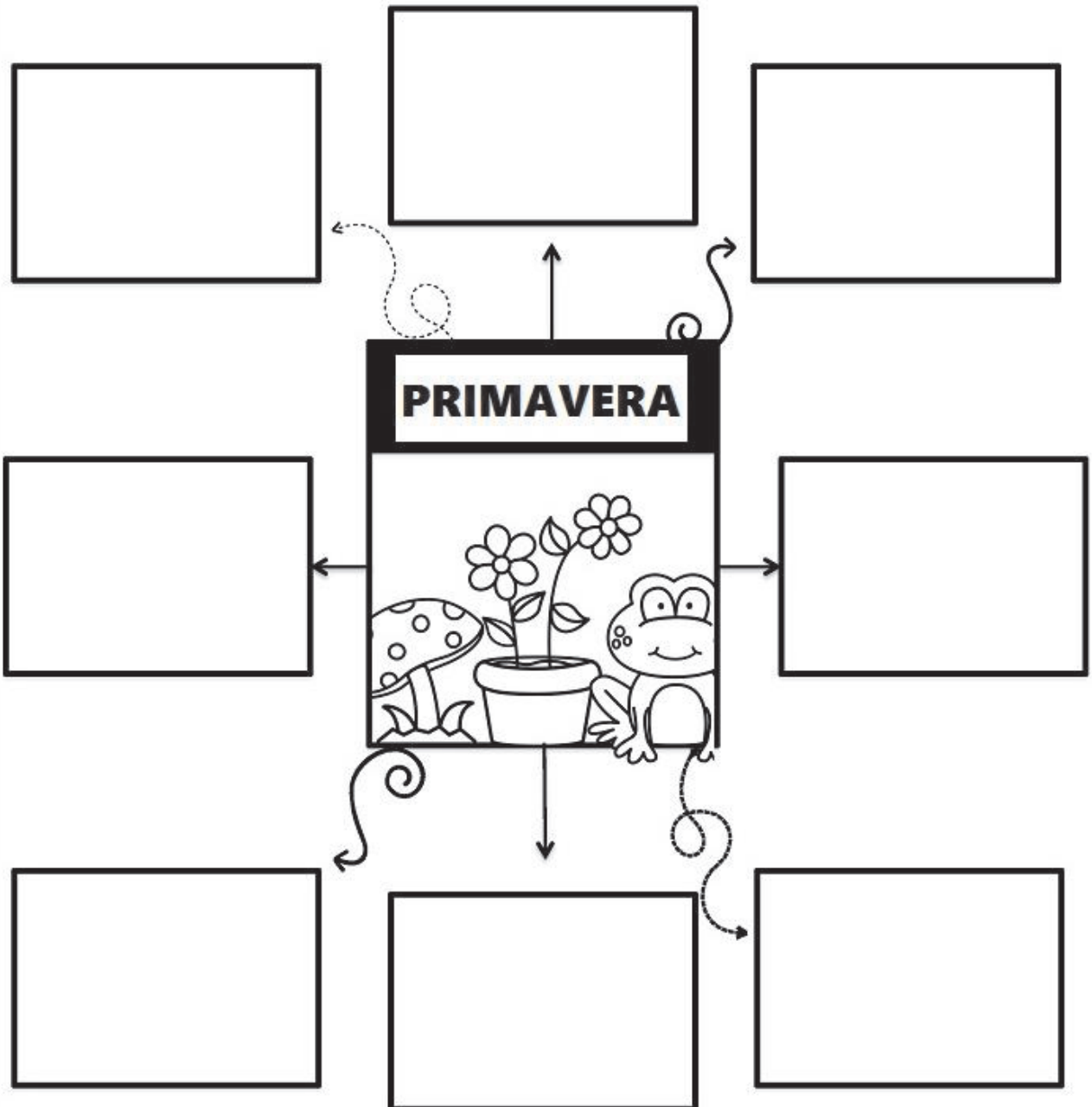
**É  
PRIMAVERA!**



Ibiúna, 23 de Setembro de 2021

# MEU JARDIM DE PALAVRAS

ESCREVA PALAVRAS RELACIONADAS A  
PRIMAVERA:



2. Observe os preços:

Ibiúna, 23 de Setembro de 2021

<b>Pipoca</b>	_____	<b>R\$ 0,50</b>
<b>Pinhão</b>	_____	<b>R\$ 1,00</b>
<b>Pipocão</b>	_____	<b>R\$ 1,50</b>
<b>Refrigerante</b>	_____	<b>R\$ 1,50</b>
<b>Cachorro Quente</b>	_____	<b>R\$ 3,00</b>
<b>Churrasquinho</b>	_____	<b>R\$ 4,00</b>
<b>Doces e Salgados</b>	_____	<b>R\$ 2,00</b>
<b>Brincadeiras</b>	_____	<b>R\$ 1,00</b>

a) Wesley levou R\$ 12,00 para gastar no parque, faça uma lista do que ele pode comprar sem que sobre troco ou falte dinheiro.

R- \_\_\_\_\_

b) Agora faça uma lista do que ele pode comprar sendo que dos R\$ 12,00 sobre R\$ 5,50.

R- \_\_\_\_\_

3. Analise a tabela abaixo:

**Mochila R\$ 48,00**

**Estojo R\$ 9,00**

**Lapiseira R\$ 6,00**

**Caderno R\$ 16,00**

**Lápis R\$ 1,00**

a) Qual o produto mais barato?

R- \_\_\_\_\_

b) Qual o produto mais caro?

R- \_\_\_\_\_

Ibiúna, 23 de Setembro de 2021

c) Qual o valor da mochila mais o estojo?

R\_ \_\_\_\_\_

d) Quanto gastarei se comprar um caderno e uma lapiseira?

R\_ \_\_\_\_\_

e) Qual o valor total dos materiais?

R\_ \_\_\_\_\_

f) O que posso comprar com R\$ 30,00?

R\_ \_\_\_\_\_

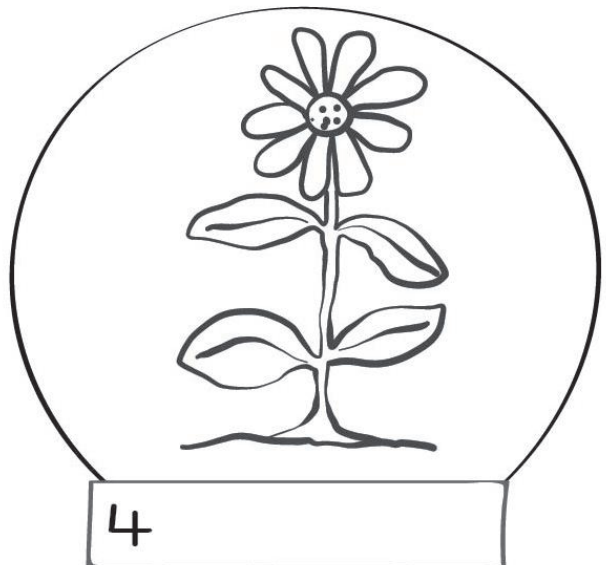
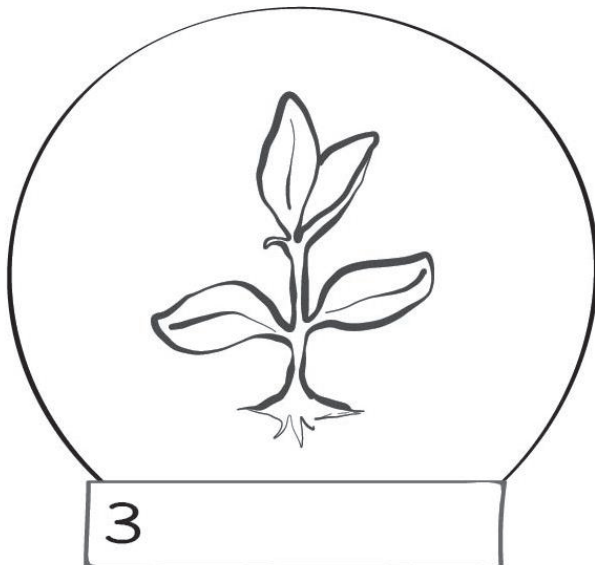
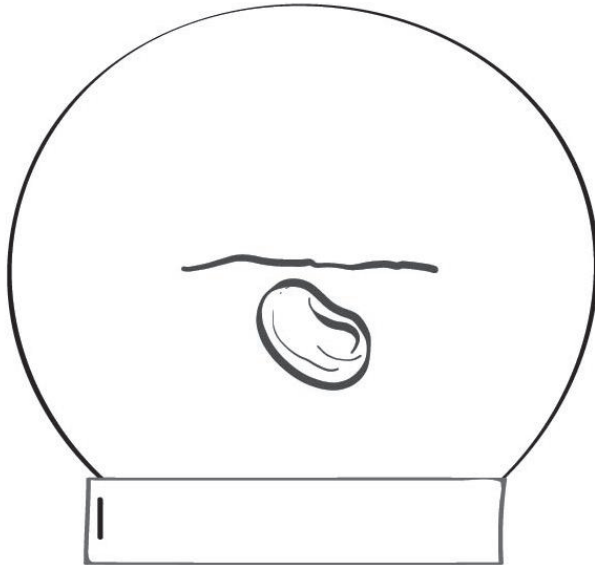
g) Tenho R\$ 20,00, quanto me sobra de troco se eu comprar um estojo e um lápis?

R\_ \_\_\_\_\_

Ibiúna, 24 de Setembro de 2021

## COMO NASCE UMA FLOR?

OBSERVE O CICLO DE VIDA DA FLOR. DEPOIS ESCREVA AS FASES DO CICLO NOS LUGARES CERTOS:



broto


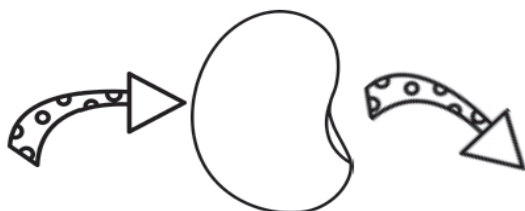
semente

flor

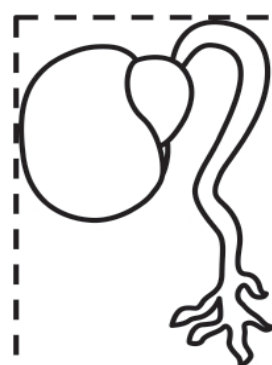
planta

Ibiúna, 24 de Setembro de 2021

RECORTE E COLE AS PARTES DO CICLO DE VIDA DA FLOR NOS LUGARES CERTOS:



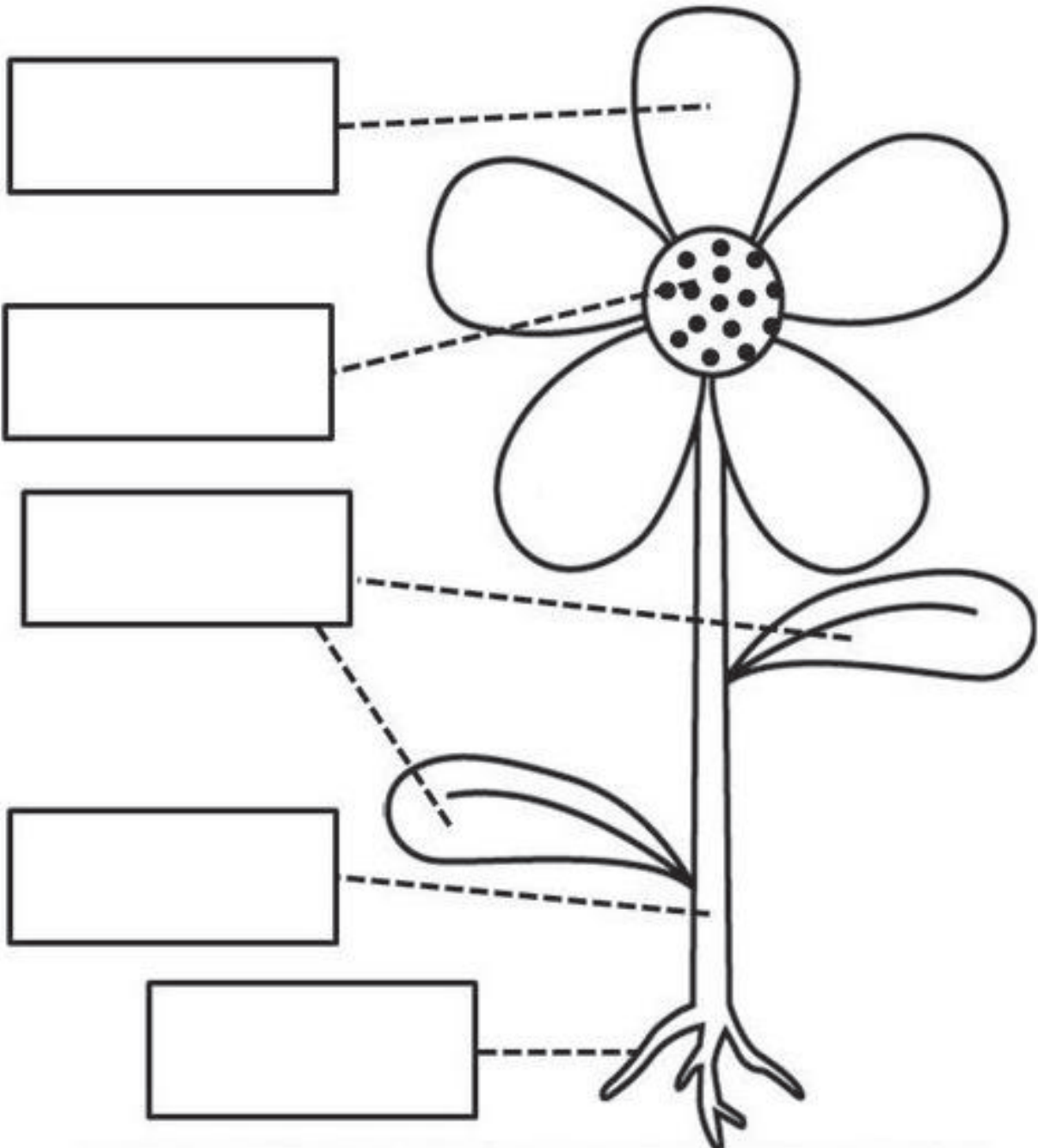
O CICLO DE VIDA DA FLOR



Ibiúna, 24 de Setembro de 2021

# AS PARTES DA FLOR

ESCREVA OS NOMES DAS PARTES DA FLOR:





Ibiúna, 27 de Setembro de 2021

ESCREVA NOS QUADROS TUDO SOBRE AS FLORES:

## AS FLORES...

NECESSITAM DE...

PODEM SER...

ENFEITAM...

SÃO...



Ibiúna, 27 de Setembro de 2021



# ACRÓSTICO

ESCREVA UMA PALAVRA PARA CADA LETRA:

P \_\_\_\_\_

R \_\_\_\_\_

I \_\_\_\_\_

M \_\_\_\_\_


A \_\_\_\_\_

V \_\_\_\_\_

E \_\_\_\_\_

R \_\_\_\_\_

A \_\_\_\_\_

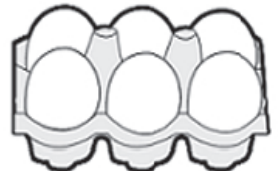


## Atividade 2

Ibiúna, 27 de Setembro de 2021


### ATIVIDADES DE MATEMÁTICA

1) DESCUBRA QUAL O TROCO QUE DONA SANDRA IRÁ RECEBER AO PAGAR AS COMPRAS:




	1 KG FEIJÃO	1 KG ARROZ	1 LITRO DE LEITE	MEIA DÚZIA DE OVOS
VALOR	R\$ 6,00	R\$ 9,00	R\$ 3,00	R\$ 2,00
PAGAMENTO	R\$ 10,00	R\$ 20,00	R\$ 5,00	R\$ 2,00
OPERAÇÃO	10 - 6	___ - ___	___ - ___	___ - ___
TROCO	R\$ 4,00			

2). FAÇA UMA PESQUISA E DESCUBRA O PREÇO DE CADA UM DESSES PRODUTOS QUE COMPRAMOS NO SUPERMERCADO.

PRODUTO	VALOR UNIDADE	VALOR 3 UNIDADES
 ACHOCOLATADO		
 LATA DE ÓLEO		
 1 KG DE FEIJÃO		
 1 LITRO DE LEITE		
 PÃO FRANCÊS		

Ibiúna, 28 de Setembro de 2021

ESCREVA COMO VOCÊ FAZ PARA PLANTAR UMA FLORZINHA:




---

---

---

---




---

---

---

---



---

---

---

---




---

---

---

---



### Atividade 3

Ibiúna, 28 de Setembro de 2021

#### Questão 01

Na bilheteria de um teatro, o responsável começa o trabalho com três notas de R\$5,00, quatro notas de R\$2,00 e duas moedas de R\$0,50 para facilitar o troco. Com quanto ele começou a trabalhar?

- a) ( ) R\$ 7,50
- b) ( ) R\$ 14,50
- c) ( ) R\$ 23,10
- d) ( ) R\$ 24,00

#### Questão 02

Joana tinha R\$ 200,00 e gastou, dessa quantia, três notas de 20 reais, quatro notas de 10 reais e 0,50 centavos. Quantos reais sobraram?

- a) ( ) R\$ 139,50
- b) ( ) R\$ 99,00
- c) ( ) R\$ 99,50
- d) ( ) R\$ 100,00

#### Questão 03

Luciana tem duas cédulas de R\$5,00, quatro moedas de R\$1,00, oito moedas de R\$0,10 e cinco moedas de R\$0,50. Somadas as cédulas e as moedas, quantos reais Luciana possui?


- a) ( ) R\$ 6,60
- b) ( ) R\$ 12,30
- c) ( ) R\$ 17,30
- d) ( ) R\$ 19,00



Ibiúna, 29 de Setembro de 2021

# VAMOS PLANTAR UMA FLOR?

ESCREVA AS INSTRUÇÕES PARA O PLANTIO:



Handwriting practice lines consisting of 10 horizontal lines for writing instructions.



**Questão 08**

Ibiúna, 29 de Setembro de 2021

Clara comprou três ingressos para o circo e pagou um total de R\$ 27,00. Ela precisa cobrar o valor dos ingressos de duas amigas que irão com ela ao circo. Qual o valor que ela deve cobrar de cada uma?

- a) ( ) R\$ 8,00
- b) ( ) R\$ 9,00
- c) ( ) R\$ 13,50
- d) ( ) R\$ 18,00

**Questão 09**

Jonas deverá arrecadar R\$60,00 em dinheiro para fazer uma festa surpresa para seu colega, já arrecadou cinco notas de R\$2,00, seis notas de R\$1,00, 10 moedas de R\$0,50, vinte moedas de R\$ 0,25 e 30 moedas de R\$0,10. Quanto deverá arrecadar ainda para completar os R\$60,00?

- a) ( ) (R\$ 20,00
- b) ( ) R\$ 29,00
- c) ( ) R\$ 31,00
- d) ( ) R\$ 41,00

**Questão 10**

Num ponto turístico, é oferecido passeio de balão aos visitantes. Em cada viagem o balão leva 6 pessoas. Cada pessoa paga R\$ 24,50 pelo passeio. Quantos reais ganharão o baloneiro se fizer 15 passeios com o balão lotado?

- a) ( ) R\$ 149,00
- b) ( ) R\$ 367,50
- c) ( ) R\$ 457,50
- d) ( ) R\$ 2 205,0



Ibiúna, 30 de Setembro de 2021

PROCURE NOMES DE FLORES USADAS NA ALIMENTAÇÃO E DE FLORES USADAS PARA ENFEITAR. DEPOIS ESCREVA OS NOMES QUE ENCONTROU NAS COLUNAS CERTAS:

BROALCMOPUTRCBORT  
COLMSUALCACHOFRAG  
LVAREBEMVANODSERP  
MCOUVE-FLORMQGCET  
PARNSRGHAETCOUMON  
ANWBRÓCOLISNPRTM  
PORTGUDANTSENOMAS  
ZVIOLETAGTBEDRTMG  
CVEAORQUÍDEAOTMEA  
SDBFEMARGARIDAIWO



PARA ALIMENTAÇÃO	PARA ENFEITAR






## Atividade 4

Ibiúna, 30 de Setembro de 2021

1- Represente as quantias ao lado e depois escreva como se lê abaixo:

a)  +  +  = \_\_\_\_\_




---

b)  +  +  +  +  = \_\_\_\_\_

---

c)  +  +  +  = \_\_\_\_\_

---

d)  +  +  +  = \_\_\_\_\_

---

2- Escreva por extenso as quantias:

a) R\$ 63,00 : \_\_\_\_\_

b) R\$ 48,00: \_\_\_\_\_

c) R\$ 50,00: \_\_\_\_\_

d) R\$ 361,00: \_\_\_\_\_

e) R\$ 195,00: \_\_\_\_\_

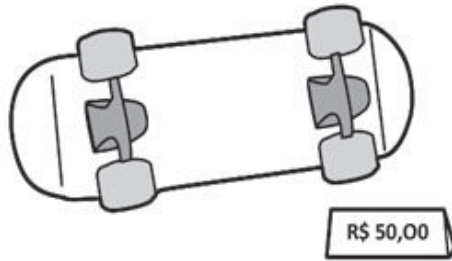
f) R\$ 10,00: \_\_\_\_\_

## Atividade 5

Ibiúna, 30 de Setembro de 2021

### ATIVIDADES DE MATEMÁTICA

1) OBSERVE O VALOR DOS OBJETOS ABAIXO:



2) AGORA, FAÇA O QUE SE PEDE:

A. VOCÊ QUER COMPRAR A BOLA E O SKATE. CIRCULE AS NOTAS QUE VOCÊ PRECISARÁ USAR PARA COMPRAR OS OBJETOS:



B. QUANTO VOCÊ GASTOU PARA COMPRÁ-LOS?

---

---


C. SE VOCÊ FOSSE PAGAR COM UMA NOTA DE R\$ 100,00, QUANTO RECEBERIA DE TROCOP?

---

---

Ibiúna, 01 de Outubrode 2021

# É PRIMAVERA!



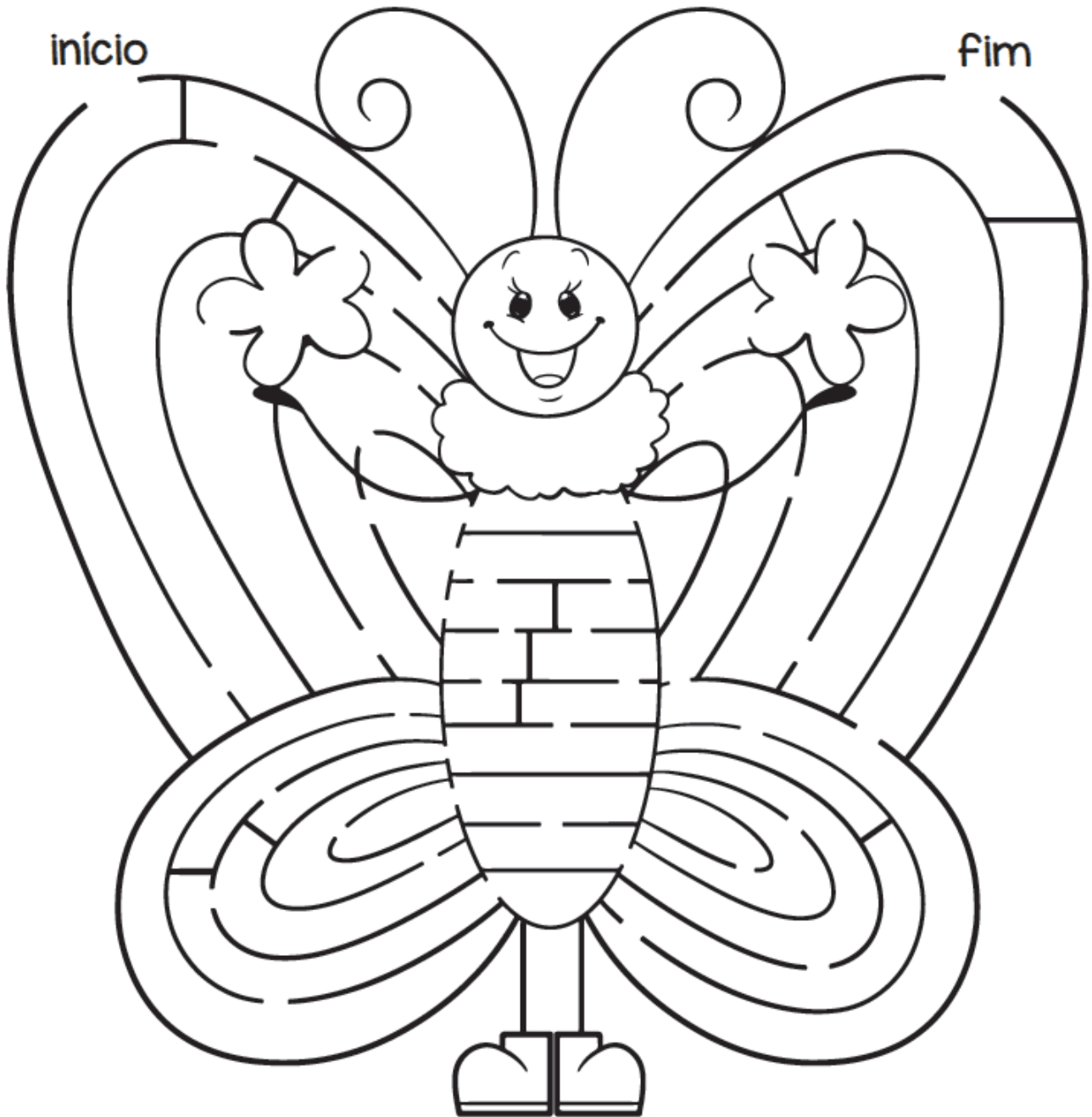
# Fazendo Compras

- ✎ Vários alunos da sala 8 foram ao bazar beneficente da escola para fazer compras. Complete o quadro com os valores que faltam.

Nome do aluno	Pagou com:	Valor da compra	Recebeu de troco
Carlos	Uma nota de 10 reais.	3 reais e 40 centavos	
Luana	Quatro moedas de 25 centavos		20 centavos
Pedro	Uma nota de 5 reais.	2 reais e 75 centavos	
Joana	Três moedas de 50 centavos	1 real e 15 centavos	
Rita	Uma nota de 2 reais.		1 real e 20 centavos
Celso	Duas moedas de 1 real.		80 centavos
Marco	Uma nota de 1 real.	25 centavos	
Laura	Uma nota de 5 reais.		2 reais e 90 centavos
Bruno	Uma nota de 20 reais.	7 reais e 30 centavos	

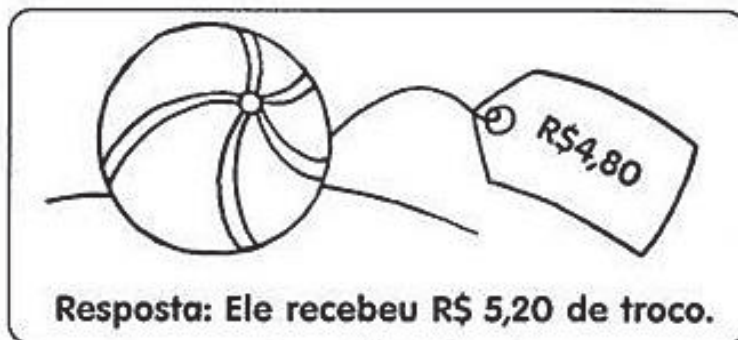
Ibiúna, 04 de Outubro de 2021

ENCONTRE O CAMINHO DO INÍCIO ATÉ CHEGAR À SAÍDA (FIM):



# Calculando o Troco

Paulo comprou uma bola. Ele deu uma nota de R\$ 10,00. Quanto ele recebeu de troco?



✎ Agora faça o mesmo, completando o quadro abaixo:

Você comprou	Deu em dinheiro	Recebeu de troco
R\$ 9,50 	R\$ 20,00	
R\$ 33,80 	R\$ 50,00	
 R\$ 159,00	R\$ 200,00	
R\$ 52,90 	R\$ 100,00	
 R\$ 41,70	R\$ 50,00	

### Atividade 13

Ibiúna, 05 de Outubro de 2021

Situações problema: recorte, cole no caderno e resolva:

---

1) Joana tem R\$100,00 para pagar duas dívidas, uma de R\$27,00 e outra de R\$35,00. Quanto vai sobrar de dinheiro após ela pagar suas dívidas?

---

2) Na sapataria, o valor de cada par de sapatos é de R\$28,00, Jéssica vai levar 6 pares de sapatos para seu primos. Quanto ela vai gastar?

---

3) Joãozinho foi até o supermercado e comprou cinco laranjas, cada uma custou R\$ 0,50. Ao passar no caixa ele pagou com uma nota de R\$ 5,00.

Qual foi o valor que ele levou para casa de troco?

---

4) Mariazinha foi até o supermercado e comprou dez pacotinhos de salgadinhos, cada um custou R\$ 1,20. Ao passar no caixa ela pagou com uma nota de R\$ 20,00.

Qual foi o valor que ela levou para casa de troco?

---

5) Um amiguinho do Joãozinho estava com uma grande dúvida:

Ele queria saber quanto gastaria para poder comprar 6 pacotinhos de figurinhas para completar seu álbum, e qual seria o valor que restaria dos seus R\$ 5,00 economizados.

Joãozinho que é muito bom em matemática perguntou:

Quanto custa cada pacotinho de figurinhas?

O amiguinho respondeu:

Cada pacote de figurinhas custa R\$ 0,30.

Quanto o amiguinho do Joãozinho vai gastar e quanto vai sobrar dos R\$ 5,00 economizados?

---

