

E.M. "VEREADOR LOURIVAL CORREIA DE ARAÚJO"

11ª e 12ª APOSTILA DE ATIVIDADES REMOTAS

DIAS :20/21/22/23/24/27/ 28/ENTRE29 E 30 DE SETEMBRO

01/04/05/06/07 E 08 DE OUTUBRO



GESTORA: VIVIANE VILAR

PROFESSORA: MARIA CRISTINA A ELIAS

SÉRIE: 2º ANO A

## LIVRO LEILÃO DE JARDIM





E este sapo, que é jardineiro?



E a cigarra e a sua canção?  
E o grilinho dentro do chão?



Quem me compra este formigueiro?



Um lagarto entre o  
muro e a hera,  
uma estátua da  
Primavera?



Este é meu  
leilão

Cecília Meireles



DATA: 21/09/2021

LEIA O POEMA:

# LEILÃO NO JARDIM

CECÍLIA MEIRELES



QUEM ME COMPRA  
UM JARDIM COM FLORES?  
BORBOLETAS DE MUITAS CORES.



LAVADEIRAS E PASSARINHOS,  
OVOS VERDES E AZUIS NO NINHO?



QUEM ME COMPRA ESTE CARACOL?  
QUEM ME COMPRA UM RAIOS DE SOL?



UM LAGARTO ENTRE O MURO E A HERA.  
UMA ESTÁTUA DA PRIMAVERA?



QUEM ME COMPRA ESTE FORMIGUEIRO?



E ESTE SAPO QUE É JARDINEIRO?  
E A CIGARRA E A SUA CANÇÃO?  
E O GRILO DENTRO DO CHÃO?



(ESTE É O MEU LEILÃO)



DATA: 21/09/2021

APÓS LER O POEMA DE CECÍLIA MEIRELES DEU  
CURIOSIDADE DE SABER O QUE É UM LEILÃO ?

**LEILÃO É QUANDO ACONTECE A COMPRA OU  
VENDA DE COISAS.**


O MAIS IMPORTANTE EM UM LEILÃO É SABER QUEM  
VAI DAR O VALOR MAIS ALTO PELO QUE ESTÁ  
SENDO VENDIDO OU COMPRADO



1. FAÇA UMA LISTA DE TUDO O QUE ESTA SENDO VENDIDO NO POEMA


DATA: 22/09/2021

ESCREVA A PRIMEIRA E A ÚLTIMA SÍLABA DE CADA FIGURA ABAIXO :



COMPLETE O QUADRO

PALAVRA	LETRA INICIAL	LETRA FINAL	TOTAL DE LETRAS	LETRAS QUE REPETEM
SAPO				
BORBOLETAS				
SOL				
PRIMAVERA				
CIGARRA				

DO QUADRO ACIMA RETIRE PALAVRAS COM :

3 LETRAS \_\_\_\_\_

4 LETRAS \_\_\_\_\_

7 LETRAS \_\_\_\_\_

9 LETRAS \_\_\_\_\_

10 LETRAS \_\_\_\_\_





DATA: 22/09/2021

### Cecília Meireles



Meireles, Cecília (1901 - 1964)

**BIOGRAFIA:**

Cecília Meireles (1901-1964) foi poetisa, professora, jornalista e pintora brasileira. Foi a primeira voz feminina, de grande expressão na Literatura Brasileira, com mais de 50 obras publicadas. Com 18 anos, estreia na Literatura com o livro "Espectros". Participou do grupo literário da Revista Festa, grupo católico, conservador e anti modernista. Dessa vinculação, herdou a tendência espiritualista que percorre seus trabalhos com frequência.

**SOBRE A AUTORA:**



**OS POEMAS SÃO ESCRITOS EM VERSOS E ESTROFES**

**RELEIA A PRIMEIRA ESTROFE**

:

QUEM ME COMPRA

VERSO 1

UM JARDIM COM FLORES ?

VERSO 2

BORBOLETAS DE MUITAS CORES ?

VERSO 3

LAVADEIRAS E PASSARINHOS ?

**VERSO 4**

OVOS VERDES E AZUIS NO NINHO ?

VERSO 5



**1ª**

**ESTROFE**

QUANTAS ESTROFES TEM O POEMA LEILÃO DE JARDIM ?

COPIE DO POEMA AS PALAVRAS QUE RIMAM COM :

CARACOL

FLORES

CANÇÃO

PASSARINHO

DATA: 23/09/2021

## UM ELOGIO A NATUREZA

**COM UM TOM DE BRINCADEIRA LEVE, O POEMA CONVIDA O LEITOR, SEJA ADULTO OU CRIANÇA A DISPENSAR UM OLHAR ATENTO E DEMORADO SOBRE O QUE ESTÁ A NOSSA VOLTA. O MEIO EM QUE ESTAMOS INSERIDOS E QUE TANTAS VEZES, NO DIA A DIA, NÃO PERCEBEMOS.**

**SÃO SERES QUE CONVIVEM CONOSCO DIARIAMENTE: A BORBOLETA, OS PASSARINHOS, O CARACOL. QUANTAS VEZES ESSAS CRIATURAS PASSAM POR NÓS E NÃO DAMOS CONTA, OUTRAS TANTAS SOMOS AQUECIDOS PELO RAIOS DO SOL E NÃO DAMOS VALOR À ELES.**

### CECÍLIA MEIRELES

1- CIRCULE NAS FIGURAS AO LADO, SOMENTE OS ANIMAIS QUE APARECEM NO POEMA **LEILÃO DE JARDIM**



2- OS ANIMAIS SÃO SERES VIVOS ?

( ) SIM      ( ) NÃO

3- OS ANIMAIS DO POEMA VIVEM SÓ NO JARDIM?

( ) SIM      ( ) NÃO



DATA: 23/09/2021

O NOSSO ALFABETO É COMPOSTO POR 26 LETRAS.  
NELE ENCONTRAMOS 21 LETRAS CHAMADAS DE CONSOANTES  
E 5 LETRAS SÃO CHAMADAS DE VOGAIS.  
LEIA O ALFABETO.

**A B C D E F G H I J K L M**  
**N O P Q R S T U V W X Y Z**

AGORA VEJA E LEIA SÓ AS CONSOANTES.

**B C D F G H J K L M N P Q R S T V W X Y Z.**

VEJA E LEIA AS VOGAIS.

**A E I O U**

ESCREVA O NOME DAS FIGURAS ABAIXO:



DATA: 24/09/2021

**TRABALHANDO O POEMA:**



1) COMPLETE

A) O NOME DO POEMA É \_\_\_\_\_

B) A AUTORA DO POEMA É \_\_\_\_\_

C) O POEMA TEM \_\_\_ ESTROFES E \_\_\_ VERSOS

2) PINTE NO POEMA AS PALAVRAS QUE RIMAM (USE CORES DIFERENTES)

3) CRIE OUTRAS RIMAS COM AS PALAVRAS DO POEMA :

JARDIM RIMA COM : \_\_\_\_\_

CARACOL RIMA COM : \_\_\_\_\_

CHÃO RIMA COM : \_\_\_\_\_

BORBOLETAS RIMA COM : \_\_\_\_\_

4) ESCREVA O NOME DOS ANIMAIS QUE APARECEM NO POEMA :

\_\_\_\_\_

\_\_\_\_\_



DATA: 24/09/2021

5) PROCURE E COPIE DO POEMA O QUE SE PEDE :

A) 2 PALAVRAS COM TIL \_\_\_\_\_

B) 1 PALAVRA COM CEDILHA \_\_\_\_\_

C) 1 PALAVRA COM M ANTES DE P E B \_\_\_\_\_

D) 1 PALAVRA COM RR \_\_\_\_\_

E) 1 PALAVRA COM SS \_\_\_\_\_

F) 1 PALAVRA COM LH \_\_\_\_\_

G) 1 PALAVRA COM CH \_\_\_\_\_



6) FORME FRASES COM AS PALAVRAS :

A) **FORMIGUEIRO**

---

B) **JARDIM**

---

C) **JARDINEIRO**

---



DATA: 27/09/2021

**ORDEM ALFABÉTICA** : AS PALAVRAS SEGUEM A ORDEM DAS LETRAS DO ALFABETO. PARA ISSO BASTA OBSERVAR A PRIMEIRA LETRA DE CADA PALAVRA;

**SAPO**

**GRILO**

**BORBOLETA**

**LAGARTO**

**CARACOL**

**JOANINHA**



LISTA DOS ANIMAIS PARA O LEILÃO- COLOCAR EM ORDEM ALFABÉTICA

1- \_\_\_\_\_

2- \_\_\_\_\_

3- \_\_\_\_\_

4- \_\_\_\_\_

5- \_\_\_\_\_

6- \_\_\_\_\_

**SEPARE AS PALAVRAS ABAIXO EM SÍLABAS**

**HERA**

**PRIMAVERA**

**CARACOL**

**MURO**

DATA: 27/09/2021

AINDA SOBRE O **POEMA LEILÃO DE JARDIM**, REALIZE AS ATIVIDADES

COMPLETE O POEMA COM AS PALAVRAS DO QUADRO ABAIXO, CADA UMA DEVE FICAR NO LUGAR CERTO :

FLORES – CORES – PASSARINHOS – NINHOS – CARACOL – SOL – HERA –  
PRIMAVERA – FORMIGUEIRO – JARDINHEIRO – CANÇÃO – CHÃO – LEILÃO

### LEILÃO DE JARDIM

CECÍLIA MEIRELES

QUEM ME COMPRA UM JARDIM COM  ?

BORBOLETAS DE MUITAS

LAVADEIRAS E ,

OVOS VERDES E AZUIS NOS  ?

QUEM ME COMPRA ESTE

QUEM ME COMPRA UM RAIO DE  ?

UM LAGARTO ENTRE O MURO E A ,

UMA ESTÁTUA DA  ?

QUEM ME COMPRA ESTE  ?

E ESTE SAPO, QUE É  ?

A CIGARRA E A SUA  ?

E O GRILINHO DENTRO DO  ?

(ESTE É O MEU  ).



DATA: 28/09/2021

DIA **21 DE SETEMBRO** É DIA DA ÁRVORE

NÓS VAMOS FAZER UMA ÁRVORE DIFERENTE; SERÁ A **ÁRVORE DOS SENTIMENTOS**



RECORTE AS MAÇÃS QUE VOCÊ ACHA QUE DEVE SER COLOCADA EM NOSSA ÁRVORE DOS SENTIMENTOS (SOMENTE BONS SENTIMENTOS)



DATA: 28/09/2021

## CAÇA PALAVRAS

B	O	R	B	O	L	E	T	A	C
A	S	J	A	R	D	I	M	P	A
T	O	C	H	Ã	O	H	N	Ç	R
E	L	A	V	A	D	E	I	R	A
L	E	I	L	Ã	O	R	N	M	C
C	I	G	A	R	R	A	H	Q	O
O	F	L	O	R	E	S	O	B	L
P	R	I	M	A	V	E	R	A	W

FAÇA LEITURA DAS PALAVRAS E AS  
ENCONTRE NO CAÇA PALAVRAS

CHÃO	CARACOL
LEILÃO	JARDIM
CIGARRA	SOL
PRIMAVERA	NINHO
BORBOLETA	LAVADEIRA
HERA	FLORES



DATA: 29/09/2021

## CIÊNCIAS

COLOQUE NO QUADRO ABAIXO O NOME DOS ANIMAIS QUE APARECEM NO POEMA DE ACORDO COM A FORMA COM QUE CADA UM SE **LOCOMOVE**

VOAM	PULAM	ANDAM	RASTEJAM

LEIA COM SUA FAMÍLIA AS CURIOSIDADES SOBRE ESTE OUTRO ANIMAL DE JARDIM E DESCUBRA QUEM É ELE.

QUEM SOU EU?

- SOU MUITO PEQUENA, MENOR QUE UMA FOLHA
- VIVEMOS EM COLÔNIAS E NOS DIVIDIMOS ENTRE RAINHA, MACHO E OPERÁRIA
- GOSTO DE DOCES
- MEU CORPO É DIVIDIDO EM TRÊS PARTES: CABEÇA, TÓRAX E ABDOMEN
- MINHAS COMPANHEIRAS E EU ANDAMOS EM FILA
- MINHA PICADA É DOLORIDA
- SOU CAPAZ DE LEVANTAR QUALQUER COISA QUE TENHA APROXIMADAMENTE 50 VEZES O MEU PESO
- NA MINHA ESPÉCIE SOMENTE A RAINHA BOTA OVOS
- TENHO SEIS PATAS
- POSSO ME COMUNICAR ATRAVÉS DE MINHAS ANTENAS



## CIÊNCIAS

DATA: 29/09/2021

### **METAMORFOSE DAS BORBOLETAS – O QUE É?**

**É A TRANSFORMAÇÃO QUE ACONTECE NA FORMA OU ESTRUTURA DE ALGUNS ANIMAIS. A BORBOLETA É UM DOS BICHOS QUE SOFREM A METAMORFOSE MAIS COMPLETA.**

The diagram illustrates the life cycle of a butterfly. On the left, a vertical stack of seven boxes shows the stages: FOLHAS, PUPA, CASULO, OVOS, BORBOLETA, LAGARTA, and ADULTA. On the right, a text box titled "METAMORFOSE DAS BORBOLETAS" contains a paragraph with several blue rectangular redaction boxes covering missing words. The text describes the adult butterfly laying eggs on a leaf, the hatching of a caterpillar, its feeding habits, its entry into the pupal stage (casulo), and its transformation into an adult butterfly.

**METAMORFOSE DAS BORBOLETAS**

A BORBOLETA ADULTA BOTA SEUS [REDAÇÃO] EM UMA FOLHA.

DE DENTRO DO OVO SAI UMA [REDAÇÃO], ELA SENTE MUITA FOME E POR ISSO COME TODAS AS [REDAÇÃO] QUE ENCONTRA PELA FRENTE. DEPOIS DE COMER MUITO, ELA ENTRA NA FASE DE [REDAÇÃO]. NESSA FASE, ELA PERMANECE DENTRO DE SEU [REDAÇÃO]. LÁ ELA FICA ATÉ SE TRANSFORMAR EM UMA [REDAÇÃO].

DATA: 30/09/2021

LIGUE CADA FASE DA METAMORFOSE AO SEU DEVIDO NOME :

PUPA

LAGARTA

OVOS

BORBOLETA

RECORTE E MONTE CADA FASE DA TRANSFORMAÇÃO DA BORBOLETA DE ACORDO COM OS NÚMEROS

1

2

3

4

DATA: 30/09/2021

# FICHA DE LEITURA

## BORBOLETA



AR - ER - IR - OR - UR

BARCO	MARCA	BERÇO	MAR
ÁRVORE	ARCO	PORTA	CARTA
CERCA	MORNO	FORTE	URSO
CARNE	PERNA	CIRCO	CURSO
CORVO	PERTO	FORNO	URNA



DATA: 01/10/2021

## MATEMÁTICA

COMPLETE A SEQUÊNCIA NUMÉRICA ATÉ 100



1	2	3	4	5	6	7	8	9	10
11				15					
21						27			
31		33							
41								49	
51							58		
61					66				
71			74						
81	82								
91									100

DOS NÚMEROS LISTADOS A SEGUIR, CIRCULE O MAIOR DELES:

71	49	66	55	78	81	98	17	37	35
----	----	----	----	----	----	----	----	----	----

DATA: 01/10/2021

**RESOLVA OS PROBLEMAS ABAIXO**

• DONA CECÍLIA RESOLVEU VENDER O SEU JARDIM. O NOVO DONO, SEU JOSÉ, VENDEU NA CIDADE ALGUMAS FLORES: **2 DÚZIAS DE ROSAS E 1 DÚZIA DE GIRASSÓIS.** QUANTAS DÚZIAS DE FLORES SEU JOSÉ VENDEU NA CIDADE?

1 DÚZIA

3 DÚZIAS

4 DÚZIAS



• CURIOSO, SEU JOSÉ RESOLVEU CONTAR QUANTOS NINHOS E QUANTOS OVOS HAVIAM NO JARDIM: ENCONTROU **3 NINHOS** E EM CADA NINHO **5 OVOS.** QUANTOS OVOS AO TODO SEU JOSÉ ENCONTROU?

10 OVOS

15 OVOS

18 OVOS



• CAMINHANDO PELO JARDIM, SEU JOSÉ PERCEBEU QUE, QUANDO CHEGOU, HAVIAM **50 BORBOLETAS** DE MUITAS CORES. DE REPENTE, **SUMIRAM 20.** QUANTAS BORBOLETAS FICARAM NO JARDIM?

20

40

30

10

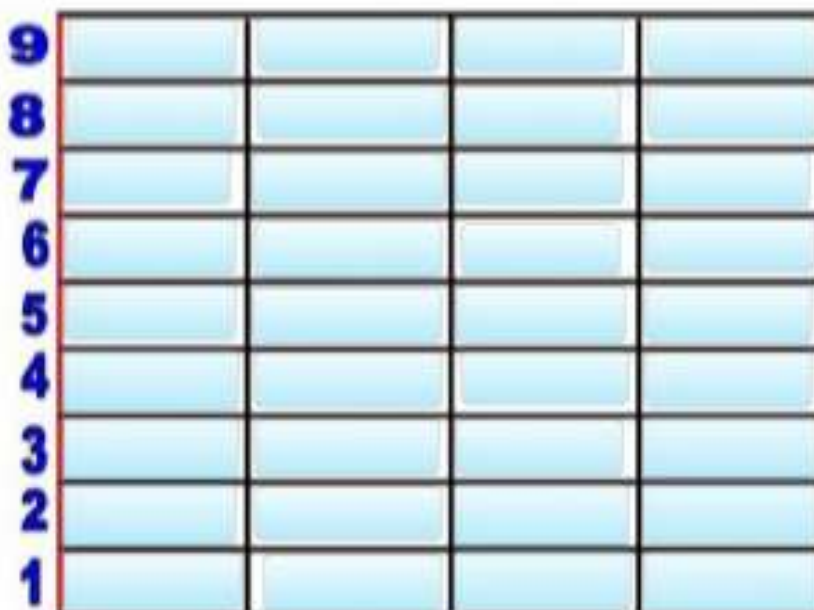


DATA: 04/10/2021

A PRIMAVERA É CONSIDERADA A ESTAÇÃO DAS FLORES. POR ISSO, A PROFESSORA MARGARETH FEZ UMA PESQUISA COM AS MÃES PARA SABER QUAL ERA A FLOR PREFERIDA DELAS. OBSERVE O RESULTADO NA TABELA ABAIXO:

	MARGARIDA	ROSA	CRAVO	TULIPA
FLORES				
VOTOS	<input type="checkbox"/>	<input checked="" type="checkbox"/>	L	<input type="checkbox"/>

AGORA COLOQUE O RESULTADO DA TABELA NO GRÁFICO ABAIXO, CLICANDO NO QUADRINHOS DE BAIXO PARA CIMA, DE ACORDO COM A QUANTIDADE DE VOTOS QUE CADA FLOR RECEBEU.
















DATA: 04/10/2021

O DESAFIO DE HOJE É APRENDER A **MULTIPLICAR!**

NÃO SE PREOCUPE, NÃO É DIFÍCIL, MULTIPLICAR É **SOMAR QUANTIDADES IGUAIS**

VEJA O MODELO AO LADO E CONTINUE A MULTIPLICAR.



 $1 + 1 = 2$ $2 \times 1 = 2$		
 $2 + 2 = 4$ $2 \times 2 = \underline{\quad}$	 $3 + 3 = 6$ $2 \times 3 = \underline{\quad}$	 $4 + 4 = 8$ $2 \times 4 = \underline{\quad}$
 $5 + 5 = 10$ $2 \times 5 = \underline{\quad}$	 $6 + 6 = 12$ $2 \times 6 = \underline{\quad}$	 $7 + 7 = 14$ $2 \times 7 = \underline{\quad}$
 $8 + 8 = 16$ $2 \times 8 = \underline{\quad}$	 $9 + 9 = 18$ $2 \times 9 = \underline{\quad}$	 $10 + 10 = 20$ $2 \times 10 = \underline{\quad}$

DATA: 05/10/2021

MATEMÁTICA



VOCÊ SABE QUANDO UM NÚMERO PODE SER CHAMADO DE PAR OU ÍMPAR? LEIA A EXPLICAÇÃO.



AGORA QUE VOCÊ JÁ SABE O QUE SÃO NÚMEROS PARES E NÚMEROS ÍMPARES, ESCREVA OS NÚMEROS DA CARTELA DE BINGO NA CARTELA CORRESPONDENTE.

BINGO				
1	27	33	48	75
8	19	45	56	61
3	18	♥	49	69
15	26	41	53	66
2	21	37	46	65

NÚMEROS PARES			

NÚMEROS ÍMPARES			

VOCÊ ACEITA UM DESAFIO? CONTE QUANTAS CRIANÇAS HÁ NA IMAGEM ABAIXO E DEPOIS INDIQUE SE A QUANTIDADE É UM NÚMERO PAR OU ÍMPAR.



NÚMERO DE CRIANÇAS:

ESSA QUANTIDADE É PAR OU ÍMPAR?

DATA: 05/10/2021

NA ESCOLA DE ROBERTO, HÁ UM JARDIM. JUNTO COM SEUS COLEGAS, ROBERTO FICOU OLHANDO AS FLORES E OS BICHINHOS DESSE JARDIM. VIRAM JOANINHAS, CARACÓIS, TATUZINHOS E MINHOCAS.




A- QUANTOS CARACÓIS VOCÊ PRECISA DESENHAR PARA TER O MESMO NÚMERO QUE O DE JOANINHAS ?

---

B-QUANTOS BESOUROS SÃO NECESSÁRIOS QUE VOCÊ DESENHE, A FIM DE TER O MESMO NÚMERO DE MINHOCAS ?

---





DATA: 06/10/2021

NA SEXTA-FEIRA PELA MANHÃ, SEU JOSÉ, PAI DE CECÍLIA, FEZ AS SEGUINTE ANOTAÇÕES EM UMA TABELA :

REGISTRO DE VENDAS DA SEMANA				
	SEGUNDA-FEIRA	TERÇA-FEIRA	QUARTA-FEIRA	QUINTA-FEIRA
ROSAS	36	24	34	18
CRAVOS	25	21	22	28
MARGARIDAS	42	41	44	48
GÉRBERAS	24	36	30	48

FONTE: FLORICULTURA BELEZA DAS FLORES



RESPONDA :

A- QUANTAS ROSAS FORAM VENDIDAS NA SEGUNDA-FEIRA?

B-QUANTOS CRAVOS FORAM VENDIDOS NA TERÇA-FEIRA ?

C-EM QUE DIA DA SEMANA FORAM VENDIDAS MAIS MARGARIDAS ?

D-EM QUE DIA DA SEMANA FORAM VENDIDAS MENAS GÉRBERAS ?

DATA: 07/10/2021

JULIANA CONTOU AOS SEUS AMIGOS QUE SUA DIVERSÃO PREDILETA É A LEITURA. ELA COLECIONA LIVROS DE HISTÓRIA E, ATÉ SEU ANIVERSÁRIO, TINHA 42 LIVROS. NESSE DIA, ELA GANHOU OUTROS 10. QUANTOS LIVROS JULIANA PASSOU A TER ?

RESOLVA AQUI A SUA CONTINHA




VOCÊ ACHA FÁCIL ADICIONAR O NÚMERO 10 EM SUAS CONTAS ?

ENTÃO, RESOLVA AS ADIÇÕES ABAIXO :

$10 + 10$	$11 + 10$	$12 + 10$	$13 + 10$	$14 + 10$
$15 + 10$	$16 + 10$	$17 + 10$	$18 + 10$	$19 + 10$

DATA: 08/10/2021

OS ANIMAIS RESOLVERAM FAZER UMA CORRIDA. INDIQUE COM NÚMEROS ORDINAIS (1º/2º/3º.....) A POSIÇÃO QUE SE ENCONTRA A SEQUÊNCIA.



- A BORBOLETA CHEGOU EM.....LUGAR
- O SAPO CHEGOU EM .....LUGAR
- O CARACOL CHEGOU EM.....LUGAR
- O PASSARINHO CHEGOU EM .....LUGAR
- O GRILO CHEGOU EM .....LUGAR
- O LAGARTO CHEGOU EM.....LUGAR

**2- CALCULE E ESCREVA O RESULTADO**

- A- 9 SAPINHOS E 9 BORBOLETAS
- B- 11 GRILOS E 8 PASSARINHOS
- C- 8 LAGARTOS E 3 CARACOIS
- D- 12 CIGARRAS E 7 LAVADEIRAS

**FAÇA AS CONTAS AQUI**

A	B	C	D



## BIOGRAFIA

- APOSTILA "NA PONTA DO LÁPIS" – 2º ANO – VOL 3
- [pactofarroupilha.pbworks.com/w/file/fetch/70112678/Silvana](https://pactofarroupilha.pbworks.com/w/file/fetch/70112678/Silvana)
- [educaemcasa.petropolis.rj.gov.br](https://educaemcasa.petropolis.rj.gov.br)
- [cucasuperlegal.com](https://cucasuperlegal.com)
- [liveworks.sheets.com](https://liveworks.sheets.com)
- CURRÍCULO EM AÇÃO EMAI 2021
- BLOG EDUCAÇÃO E TRANSFORMAÇÃO
- APIS GEOGRAFIA 2º ANO
- APIS HISTÓRIA 2º ANO
- [Ceuzul.pr.gov.br](https://Ceuzul.pr.gov.br)
- [Webzpetropolis.rj.gov.br](https://Webzpetropolis.rj.gov.br)
- PINTEREST