



PREFEITURA DA ESTÂNCIA TURÍSTICA DE
IBIÚNA
Por uma Ibiúna próspera. Investindo no presente, gerando o futuro.



E.M. PREFEITO SEME ISSA

Aluno(a): _____

Ano: 3º ano B Bairro: _____

Professor(a): Keith Paolla Fone: _____

11ª APOSTILA 2021



- A apostila é referente aos dias: 20, 21, 22, 23, 24, 27 e 28 de setembro = 7 dias
- Esta APOSTILA deverá ser devolvida para correção **no dia 29/09 (quarta-feira)**

Atenciosamente

Equipe E.M “Prefeito Seme Issa”

E.M. "PREFEITO SEME ISSA"

NOME: _____











DATA: 20/09/2021

PROFESSORA: KEITH PAOLLA

ANO/SÉRIE: 3º ANO B

LÍNGUA PORTUGUESA

1 Dê nomes aos desenhos, acentuando corretamente as palavras.

	1.	acento agudo	acento circunflexo
	3.	1.	6.
	2.	2.	7.
	5.	3.	8.
	4.	4.	9.
	6.	5.	10.
	7.		
	8.		
	9.		
	10.		

2 Escolha uma palavra acentuada de cada quadro do exercício 1 e escreva duas frases.

3 Complete as frases com as palavras do quadro.



bebe — bebê
esta — está
e — é
sábua — sabua — sabiá

a) O no berço
todo o leite da mamadeira.

b) menina com
dor de cabeça.

c) Vera alta magra.

d) A menina já que o
..... é um pássaro cantor.

E.M. "PREFEITO SEME ISSA"

NOME: _____

DATA: 20/09/2021

PROFESSORA: KEITH PAOLLA

ANO/SÉRIE: 3º ANO B

MATEMÁTICA



ADIÇÃO

SEM AGRUPAMENTO

VAMOS CALCULAR:

LEMBRE-SE: UNIDADE COM UNIDADE, DEZENA COM DEZENA E CENTENA COM CENTENA!

C	D	U	
6	3		
1	5	+	
<hr/>			

C	D	U	
5	1		
2	4	+	
<hr/>			

C	D	U	
2	8		
4	0	+	
<hr/>			

C	D	U	
7	4		
2	4	+	
<hr/>			

C	D	U	
4	5		
5	4	+	
<hr/>			

C	D	U	
8	4		
1	1	+	
<hr/>			

C	D	U	
6	9		
3	0	+	
<hr/>			

C	D	U	
3	3		
3	5	+	
<hr/>			

C	D	U	
2	8	1	
5	0	3	+
<hr/>			

C	D	U	
1	5	3	
1	2	1	+
<hr/>			

C	D	U	
2	0	0	
3	7	8	+
<hr/>			

C	D	U	
4	7	0	
3	1	9	+
<hr/>			

C	D	U	
6	6	2	
3	2	4	+
<hr/>			

C	D	U	
7	2	5	
1	6	3	+
<hr/>			

C	D	U	
5	7	4	
3	1	1	+
<hr/>			

C	D	U	
3	1	0	
5	8	6	+
<hr/>			

C	D	U	
2	7	5	
2	4	+	
<hr/>			

C	D	U	
8	6		
1	0	3	+
<hr/>			

C	D	U	
9	4	3	
5	2	+	
<hr/>			



E.M. "PREFEITO SEME ISSA"


NOME: _____

DATA: 21/09/2021


PROFESSORA: KEITH PAOLLA

ANO/SÉRIE: 3º ANO B

LÍNGUA PORTUGUESA



Sinais de pontuação



Ponto final: indica que a frase terminou.



Ponto de exclamação: indica surpresa, admiração, alegria, dor, etc.



Ponto de interrogação: usado em perguntas.



Ordena as palavras e forma frases.

Não esqueças de utilizar os sinais de pontuação!

árvore cortou O homem não a

sorvete Vou tomar amanhã um



estrelada Que noite


aqui Como você chegou



tarefa difícil Que

anos Quantos tem você

gosta biscoito de Anita



E.M. "PREFEITO SEME ISSA"

NOME: _____

DATA: 21/09/2021

PROFESSORA: KEITH PAOLLA

ANO/SÉRIE: 3º ANO B

MATEMÁTICA

SUBTRAÇÃO

ARME E RESOLVA

COM REAGRUPAMENTO

$71 - 4 =$

D	U

$84 - 3 =$

D	U

$11 - 8 =$

D	U

$47 - 6 =$

D	U



$17 - 36 =$

D	U

$55 - 15 =$

D	U

$46 - 14 =$

D	U

$58 - 15 =$

D	U

$36 - 27 =$

D	U

$14 - 11 =$

D	U

$41 - 11 =$

D	U

$61 - 18 =$

D	U

E.M. "PREFEITO SEME ISSA"

NOME: _____

DATA: 22/09/2021

PROFESSORA: KEITH PAOLLA

ANO/SÉRIE: 3º ANO B

LÍNGUA PORTUGUESA

A GALINHA CARIJÓ

A GALINHA CARIJÓ ESTAVA MUITO ORGULHOSA. ERA A PRIMEIRA VEZ QUE SAÍA COM SEUS PINTINHOS.

CARIJÓ PASSEAVA COM SEUS PINTINHOS PELO QUINTAL QUANDO APARECEU TROVÃO, UM CACHORRO GRANDE E BRAVO. TROVÃO FOI LOGO FAZENDO CARA FEIA E AVANÇANDO PARA CIMA DE CARIJÓ.

MAS CARIJÓ, COMO TODAS AS MÃES, NÃO TEVE MEDO DE PROTEGER SEUS FILHOTES. ELA ARREPIOU-SE TODA E FOI LOGO DANDO BICADAS E MAIS BICADAS EM TROVÃO.

DESTA VEZ, QUEM CORREU ASSUSTADO FOI TROVÃO.

MARIA LUISA AROEIRA

1) QUAL É O TÍTULO DO TEXTO?

2) ONDE SE PASSA A HISTÓRIA?

3) QUAIS SÃO OS PERSONAGENS DO TEXTO?

4) O QUE A GALINHA ESTAVA FAZENDO NO QUINTAL?

5) O QUE ACONTECEU ENQUANTO A GALINHA ESTAVA NO QUINTAL?


6) QUAL É O NOME DO BICHO MAIS BRAVO DA HISTÓRIA?

7) O QUE A GALINHA FEZ PARA PROTEGER SEUS FILHOTES?

ADIÇÃO E SUBTRAÇÃO

OPERAÇÕES INVERSAS

EFETUANDO E TIRANDO A PROVA



$$\begin{array}{r} 74 \\ - 66 \\ \hline \end{array}$$

$$+ 66$$

$$\begin{array}{r} 513 \\ - 423 \\ \hline \end{array}$$

$$\begin{array}{r} 711 \\ - 618 \\ \hline \end{array}$$

$$\begin{array}{r} 71 \\ - 49 \\ \hline \end{array}$$

$$\begin{array}{r} 107 \\ - 82 \\ \hline \end{array}$$

$$+ 423$$

$$+ 618$$

$$+ 49$$

$$+ 82$$



<https://i.pinimg.com/originals/64/2f/f8/642ff89ea0a26cea1057b83247ece91f.png>

E.M. "PREFEITO SEME ISSA"

NOME: _____

DATA: 23/09/2021

PROFESSORA: KEITH PAOLLA

ANO/SÉRIE: 3º ANO B

LÍNGUA PORTUGUESA

PRODUZINDO UM TEXTO

Coitadinho do passarinho do Cássio. Ele machucou a sua asinha. Escreva um texto contando como foi que aconteceu.





E.M. "PREFEITO SEME ISSA"

NOME: _____

DATA: 23/09/2021








PROFESSORA: KEITH PAOLLA

ANO/SÉRIE: 3º ANO B

CIÊNCIAS

CURIOSIDADES VITAIS

Conheça o tempo de vida de alguns animais:

	Cavalo – 30 anos
	Gato – 15 anos
	Tartaruga – 100 anos
	Elefante – 60 anos
	Camelo – 40 anos
	Rato – 3 anos
	Galinha – 7 anos

De acordo com as informações acima, responda:

1- Qual o mamífero que vive mais tempo? _____

2- E o mamífero que vive menos tempo? _____

3- Qual é o réptil que pode chegar a viver um século? _____



Você sabia que o ciclo vital dos seres vivos vai do nascimento até a morte?

E.M. "PREFEITO SEME ISSA"

NOME: _____

DATA: 24/09/2021

PROFESSORA: KEITH PAOLLA

ANO/SÉRIE: 3º ANO B


MATEMÁTICA



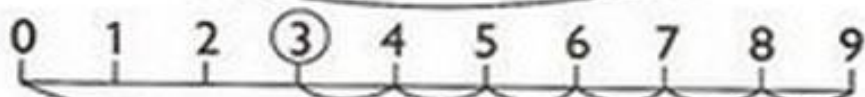
ADICIONANDO E SUBTRAINDO NA RETA NUMÉRICA

1) OBSERVE AS RETAS NUMÉRICAS E REPRESENTE OS FATOS.


SUBTRAÇÃO



$$9 - 3 = 6$$




$$\dots - \dots = \dots$$




$$\dots - \dots = \dots$$

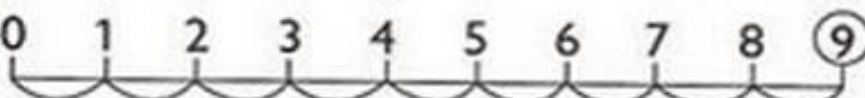
ADICÃO



$$\dots + \dots = \dots$$



$$\dots + \dots = \dots$$



$$\dots + \dots = \dots$$

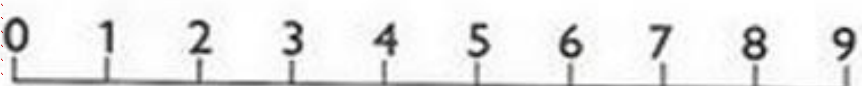
2) AGORA É SUA VEZ DE REPRESENTAR.



$$4 + 5 = \dots$$



$$9 - 5 = \dots$$



$$6 + 3 = \dots$$



GEOGRAFIA

Geografia

O trabalho na Indústria



Complete e leia: ba tra lham

▶ Nas cidades as pessoas em indústrias ou fábricas. As indústrias transformam matérias-primas em produtos industrializados. tu re Na za

▶ Matéria-prima é o material que a fornece. Produto industrializado é aquele já transformado pelas qui nas má

© Veja os exemplos:

Matéria-prima	Produto industrializado
<p>TE MA TO</p> <p>.....</p>	<p>© Molho de tomate enlatado</p>
<p>RO COU</p> <p>.....</p>	<p>© Sapato</p> <p>© Bolsa</p> <p>© Sofá</p>
<p>DÃO GO AL</p> <p>.....</p>	<p>© Tecido para roupas</p>

E.M. "PREFEITO SEME ISSA"

NOME: _____

DATA: 27/09/2021


PROFESSORA: KEITH PAOLLA

ANO/SÉRIE: 3º ANO B

LÍNGUA PORTUGUESA

PRODUÇÃO DE TEXTO

Observe os desenhos e escreva uma história com diálogo. Não se esqueça de lhe dar um título.



E.M. "PREFEITO SEME ISSA"

NOME: _____

DATA: 27/09/2021

PROFESSORA: KEITH PAOLLA

ANO/SÉRIE: 3º ANO B

HISTÓRIA

O café sustentou o Brasil

As primeiras plantações de café do Brasil datam do período colonial. Foi na monarquia, que essa cultura alcançou grande expansão.

* As primeiras mudas e sementes foram trazidas da Guiana Francesa, pelo paraense Francisco de Melo Palheta, em 1727, e plantadas próximas a Belém do Pará.



- * Em 1760 foram trazidas mudas para o Rio de Janeiro, pelo desembargador João Alberto Castelo Branco. O café expandiu-se graças à mão-de-obra escrava, à facilidade de transporte e à proximidade do porto.
- * Do Rio de Janeiro, a cultura expandiu-se para São Paulo, Minas Gerais e Espírito Santo. Posteriormente atingiu o Oeste Paulista.
- * Terra roxa e clima temperado e úmido foram fatores que favoreceram a aclimação do café na Região Sul (Paraná).

❖ Ligue cada personagem aos seus feitos.



D. Pedro II



Duque de Caxias

Ajudou na pacificação das revoltas iniciadas no período das Regências.

Enfrentou conflitos com alguns países vizinhos.

ADIÇÃO E SUBTRAÇÃO

PROBLEMAS

1. Um trem levava 256 passageiros. Numa estação subiram mais 76 passageiros e desceram 29. Quantos passageiros seguiram no trem?

Cálculo

Resposta

2. Numa loja foram vendidos 108 fogões, 97 liquidificadores e 85 ventiladores. Quantos eletrodomésticos foram vendidos?

Cálculo

Resposta

3. Na cantina da escola há 75 garrafas de guaraná, 86 de soda limonada e 104 de outras bebidas. Foram vendidas 75 garrafas de bebidas. Quantas garrafas de bebidas ficaram?

Cálculo

Resposta

E.M. "PREFEITO SEME ISSA"

NOME: _____

DATA: 28/09/2021

PROFESSORA: KEITH PAOLLA






























ANO/SÉRIE: 3º ANO B

ARTES

JOGO DA MEMÓRIA

Recorte o jogo da memória para poder jogar. Após recortar é o momento de você exercitar sua mente e leitura (leia o nome de cada desenho ao virar cada pecinha, para ter certeza que encontrou seu par).

JOGO DA MEMÓRIA

PAVÃO 	MAÇÃ 	MAÇÃ 	LEITÃO 	LEITÃO 	TUBARÃO 
TUBARÃO 	CAMALEÃO 	CAMALEÃO 	BALÃO 	BALÃO 	VIOLÃO 
VIOLÃO 	LEÃO 	LEÃO 	CAPITÃO 	CAPITÃO 	PEÃO 
PEÃO 	PIÃO 	PIÃO 	TELEVISÃO 	TELEVISÃO 	SABÃO 
SABÃO 	MACARRÃO 	MACARRÃO 	AVIÃO 	AVIÃO 	PAVÃO 