



12^a. APOSTILA DE ESTUDOS ENSINO HÍBRIDO 3º BIMESTRE



ENSINO FUNDAMENTAL

ALUNO:

PROFESSORA: SIMONE PROENÇA

TURMA: 1º ANO A

DATA DE DEVOLUÇÃO: 08/10/2021

E. M. "PROF. CALIL RAHAL NETO".

NOME: _____

PROFESSORA: SIMONE

TURMA: 1º ANO A

DATA: 29/09/2021



ATIVIDADE 1:


HISTÓRIA

DIA DAS CRIANÇAS

A INICIATIVA DE CRIAR UM DIA ESPECIAL EM HOMENAGEM ÀS CRIANÇAS FOI DO DEPUTADO FEDERAL GALDINO VALLE FILHO E ATRAVÉS DO DECRETO Nº 4867, DE 1924, O ENTÃO PRESIDENTE ARTHUR BERNARDES OFICIALIZOU A DATA.

MUITOS ANOS APÓS A APROVAÇÃO DO DECRETO É QUE A DATA PASSOU A SER COMEMORADA QUANDO DUAS FÁBRICAS DE PRODUTOS INFANTIS, NUMA PROMOÇÃO CONJUNTA, LANÇARAM A SEMANA DO BEBÊ ROBUSTO. OUTRAS EMPRESAS DECIDIRAM CRIAR A SEMANA DA CRIANÇA, DESTA FORMA MUITOS FABRICANTES DECIDIRAM ESCOLHER UM ÚNICO DIA PARA A PROMOÇÃO DE BRINQUEDOS E FIZERAM RESSURGIR O ANTIGO DECRETO.

AS CRIANÇAS TÊM DIREITOS:



AGORA QUE VOCÊ JÁ CONHECE OS SEUS DIREITOS, PINTE AS IMAGENS QUE REPRESENTAM OS DIREITOS QUE VOCÊ MAIS GOSTOU DE SABER!

E. M. "PROF. CALIL RAHAL NETO".

NOME: _____

PROFESSORA: SIMONE TURMA: 1º ANO A DATA: 29/09/2021



ATIVIDADE 2:
MATEMÁTICA



ADIÇÃO

VAMOS SOMAR?

LUCAS TINHA UMA BOLA E GANHOU MAIS UMA.
QUANTAS ELE TEM AGORA?




+



=




MARINA TINHA DOIS SORVETES E GANHOU MAIS UM.
QUANTOS ELA TEM AGORA?




+




=




ALICE TINHA 3 LAÇOS E GANHOU MAIS UM.
QUANTOS ELA TEM AGORA?



+



=



E. M. "PROF. CALIL RAHAL NETO".

NOME: _____

PROFESSORA: SIMONE

TURMA: 1º ANO A

DATA: 30/09/2021



ATIVIDADE 1: GEOGRAFIA

TRABALHO INFANTIL

VOCÊ SABIA QUE É DIREITO DE TODA CRIANÇA ESTUDAR? E QUE, AINDA ASSIM, MUITAS DELAS NÃO FREQUENTAM A ESCOLA?

ISSO ACONTECE PORQUE SÃO OBRIGADAS, POR ALGUM MOTIVO, A TRABALHAR: ORA PARA AJUDAR A FAMÍLIA NO SUSTENTO DA CASA, ORA PORQUE NÃO TÊM ONDE MORAR, ORA PORQUE FORAM ABANDONADAS PELOS PAIS E VIVEM SOZINHAS, ENTRE MUITOS OUTROS MOTIVOS.

ESSAS CRIANÇAS DEIXAM DE FREQUENTAR A ESCOLA PARA TRABALHAR NAS RUAS VENDENDO BALAS, NO CAMPO, NA LAVOURA COM PLANTAÇÕES, NAS FÁBRICAS OU NAS CASAS DE FAMÍLIAS SOB A FORMA DE EXPLORAÇÃO.


É DEVER DAS CRIANÇAS ZELAR PELO AMBIENTE EM QUE VIVEM, AJUDANDO O PAPAÍ E A MAMÃE A ORGANIZAR A CASA, JOGANDO O LIXO NA LIXEIRA, GUARDANDO SEUS BRINQUEDOS, ETC.

TRABALHANDO SOBRE O TEXTO

1. VAMOS CRIAR UMA LEGENDA PARA AS IMAGENS?

- PINTA DE **VERDE** OS QUADRADOS DAS IMAGENS QUE MOSTRAM CRIANÇAS AJUDANDO NAS TAREFAS DA CASA;

- PINTA DE **VERMELHO** IMAGENS QUE MOSTRAM CRIANÇAS EM SITUAÇÃO DE TRABALHO INFANTIL:



E. M. "PROF. CALIL RAHAL NETO".

NOME: _____

PROFESSORA: SIMONE

TURMA: 1º ANO A




DATA: 30/09/2021



ATIVIDADE 2:
LÍNGUA PORTUGUESA

SEMANA DA CRIANÇA

1- ESCREVA A LETRA INICIAL DO NOME DE CADA BRINQUEDO
MARQUE COM UM X, O SEU BRINQUEDO PREFERIDO.



E. M. "PROF. CALIL RAHAL NETO".

NOME: _____

PROFESSORA: SIMONE TURMA: 1º ANO A DATA: 01/10/2021



ATIVIDADE 1: MATEMÁTICA

- 1- PREENCHA O CALENDÁRIO DE OUTUBRO
- 2- PINTE O DESENHO
- 3- DIA 12 COMEMORAREMOS O DIA DAS CRIANÇAS, LOCALIZE-O NO CALENDÁRIO E PINTE COM A SUA COR PREFERIDA.
- 4- DIA 15 É O DIA DOS PROFESSORES, LOCALIZE-O NO CALENDÁRIO E ESCREVA EM QUAL DIA DA SEMANA COMEMORAREMOS ESSA DATA:

CALENDÁRIO OUTUBRO - 2021



DOMINGO	SEGUNDA - FEIRA	TERÇA- FEIRA	QUARTA- FEIRA	QUINTA- FEIRA	SEXTA- FEIRA	SÁBADO
					1	
31						

E. M. "PROF. CALIL RAHAL NETO".

NOME: _____

PROFESSORA: SIMONE

TURMA: 1º ANO A

DATA: 01/10/2021



ATIVIDADE 2:

ARTE

PARA COLORIR

Crianças voam ... quando seus direitos são respeitados



E. M. "PROF. CALIL RAHAL NETO".

NOME: _____

PROFESSORA: SIMONE TURMA: 1º ANO A DATA: 04/10/2021



ATIVIDADE 1: GEOGRAFIA

O TEMPO EM NOSSA VIDA


PENSAR SOBRE O TEMPO FAZ PARTE DA EXPERIÊNCIA HUMANA (...). OS HUMANOS PERCEBEM A PASSAGEM DO TEMPO, CONTAM O TEMPO, ORGANIZAM O TEMPO.

CRIAM COMEMORAÇÕES, INVENTAM CALENDÁRIO, ORGANIZAM ÁLBUNS DE FOTOS (...).



(Vamos Aprender: Interdisciplinar, História e Geografia, 2º ano, Medida do Tempo, Pag. 131).

1- CIRCULE NO QUADRO OS INSTRUMENTOS QUE UTILIZAMOS PARA MEDIR O TEMPO:



MANHÃ - TARDE - NOITE

O DIA PODE SER DIVIDIDO EM DIFERENTES PERÍODOS: MANHÃ, TARDE E NOITE.

1. OBSERVE AS ILUSTRAÇÕES E MARQUE A ALTERNATIVA CORRETA:



MANHÃ



TARDE



NOITE

PELA MANHÃ O MENINO:

ACORDOU

BRINCOU

TOMOU BANHO

À TARDE O MENINO:

ESTUDOU

ACORDOU

ALMOÇOU

À NOITE O MENINO:

ALMOÇOU

FOI DORMIR

TOMOU BANHO.

E. M. "PROF. CALIL RAHAL NETO".

NOME: _____

PROFESSORA: SIMONE


TURMA: 1º ANO A

DATA: 04/10/2021

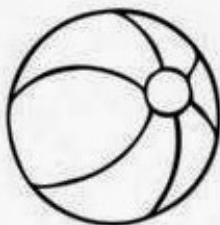


ATIVIDADE 2:
LÍNGUA PORTUGUESA


- COMPLETE AS PALAVRAS COM AS VOGAIS:




B □ C □ C □ □ T □



B □ L □



C □ R R □



P □ T □ C □

E. M. "PROF. CALIL RAHAL NETO".

NOME: _____

PROFESSORA: SIMONE

TURMA: 1º ANO A

DATA: 05/10/2021



ATIVIDADE 1: HISTÓRIA

DEVERES DA CRIANÇA

CRIANÇA TAMBÉM TEM DEVERES
PRESTE AGORA ATENÇÃO
TEM QUE RESPEITAR O PRÓXIMO
AOS PROFESSORES, PAIS E IRMÃOS



TEM QUE TER RESPONSABILIDADE
FAZER TODA A SUA LIÇÃO
SER BONDOSO, AMÁVEL E PACIENTE
CUIDAR BEM DA HIGIENE
E TAMBÉM DO MEIO AMBIENTE



TEM QUE OBEDECER AS LEIS
E AS REGRAS RESPEITAR
DEVE AJUDAR AS PESSOAS
SEMPRE QUE PRECISAR



OS DEVERES DEVEM SER GARANTIDOS
POR TODOS OS CIDADÃOS
CRIANÇA PRECISA SER CRIANÇA
NÃO PODE HAVER EXPLORAÇÃO.



(DAY VIANA)



ATIVIDADE:

PINTE AS PLAQUINHAS COM OS DEVERES DAS CRIANÇAS:



RESPEITO



ALIMENTAÇÃO



PRESERVAÇÃO



FAZER LIÇÃO



MORADIA



SER BONDOSO



TER HIGIENE



DIVERSÃO

NOME: _____

PROFESSORA: SIMONE TURMA: 1º ANO A DATA: 05/10/2021



ATIVIDADE 2:
MATEMÁTICA



VAMOS SUBTRAIR?

RESOLVA OS PROBLEMINHAS.

1.

GUTO TINHA... COMEU... QUANTAS RESTARAM?

$5 - 2 = \quad$

2.

ANA GANHOU... ESTOUROU... QUANTOS RESTARAM?

$4 - 1 = \quad$

3.

JOÃO PEGOU... CAÍRAM... QUANTAS RESTARAM?

$6 - 4 = \quad$

4.

LUIZA COMPROU... DEU... QUANTOS RESTARAM?

$8 - 3 = \quad$

E. M. "PROF. CALIL RAHAL NETO".

NOME: _____

PROFESSORA: SIMONE TURMA: 1º ANO A DATA: 06/10/2021



ATIVIDADE 1:

CIÊNCIAS

OBSERVE AS IMAGENS E LIGUE AO HÁBITO DE HIGIENE ADEQUADO PARA CADA MOMENTO.



TOMAR CAFÉ DA MANHÃ

ESCOVAR OS DENTES

ASSISTIR TELEVISÃO



LAVAR AS MÃOS

BRINCAR

COMER SOBREMESA



DORMIR

JANTAR

TOMAR BANHO

E. M. "PROF. CALIL RAHAL NETO".

NOME: _____

PROFESSORA: SIMONE

TURMA: 1º ANO A

DATA: 06/10/2021



ATIVIDADE 2:

LÍNGUA PORTUGUESA

LEITURA E INTERPRETAÇÃO TEXTUAL

O MENINO E A BOLA

O MENINO JOGA BOLA.
FUTEBOL É SEU ESPORTE FAVORITO
A BOLA BATE NO PÉ DO MENINO.
O MENINO CHUTA A BOLA.
A BOLA VAI DIRETO PARA O GOL.
A TORCIDA GRITA E O MENINO FICA MUITO FELIZ.



1. O TÍTULO DO TEXTO É:

() O MENINO E A MOLA

() A MENINA E A BOLA

() O MENINO E A MULA

() O MENINO E A BOLA

2. O MENINO JOGA:

() PETECA

() DADO

() BOLA

() DAMA

3. A BOLA BATE:

() NA MÃO DO MENINO


() NA CABEÇA DO MENINO

() NO PÉ DO MENINO

4. A BOLA:

() CAI NO MATO

() VAI DIRETO PARA O GOL



E. M. "PROF. CALIL RAHAL NETO".

NOME: _____

PROFESSORA: SIMONE TURMA: 1º ANO A DATA: 07/10/2021



ATIVIDADE 1:
MATEMÁTICA

OBSERVE O GRÁFICO DE ROUPAS ARRECADADAS PELAS CRIANÇAS E RESPONDA AS QUESTÕES A SEGUIR.



- QUANTOS?

	<input type="text"/>		<input type="text"/>
	<input type="text"/>		<input type="text"/>
	<input type="text"/>		<input type="text"/>

QUANTOS A MAIS
QUE ?

QUANTAS A MENOS
QUE ?

E. M. "PROF. CALIL RAHAL NETO".

NOME: _____

PROFESSORA: SIMONE

TURMA: 1º ANO A

DATA: 08/10/2021



**ATIVIDADE 1:
MATEMÁTICA
SISTEMA MONETÁRIO**

1. LIGUE O PRODUTO À MOEDA EQUIVALENTE AO SEU PREÇO:

25 centavos		
5 centavos		
1 real		
10 centavos		
50 centavos		

OBSERVE A QUANTIA QUE SOFIA E PEDRO TÊM, E RESOLVA AS QUESTÕES A SEGUIR.



A) QUANTO SOFIA TEM?



B) QUANTO PEDRO TEM?

C) QUEM TEM MAIS?

E. M. "PROF. CALIL RAHAL NETO".

NOME: _____

PROFESSORA: SIMONE TURMA: 1º ANO A DATA: 08/10/2021



ATIVIDADE 2:

ARTE

PARA COLORIR

12 DE OUTUBRO



VIVA O DIA DA CRIANÇA!

REFERÊNCIAS DE PESQUISA

<https://marcoscassemiro.wordpress.com/2010/10/21/eca-direitos-da-crianca-projeto-estatuto-da-crianca/>

<https://br.pinterest.com/pin/604889793685298794/>

<https://br.pinterest.com/pin/706994841475538818/>

[https://isabellarts.blogspot.com/2021/05/criancas-voam-quando-seus-direitos-sao.html?sref=fb&fbclid=IwAR31BKsZjH1HMO352BlZkPFI6JIAaxc7r84blNqH3bGmsmRG6LoqfVcbC
rw](https://isabellarts.blogspot.com/2021/05/criancas-voam-quando-seus-direitos-sao.html?sref=fb&fbclid=IwAR31BKsZjH1HMO352BlZkPFI6JIAaxc7r84blNqH3bGmsmRG6LoqfVcbC
rw)

<http://1.bp.blogspot.com/n8oXCXHAOws/VDMNNziqLDI/AAAAAAAAAJZY/8x60zex0TrI/s1600/ATIVIDADE%2B5.JPG>

<https://br.pinterest.com/pin/655203445783956139/>

https://drive.google.com/file/d/1SIO5ts25j6OiYVn0nsOt48wwEijAq1_e/view

[https://1.bp.blogspot.com/2NlaMrM7WQc/Xi8QODwbHpI/AAAAAAAAAm0I/FdYLFikLoHYEId
mRVDUwFxCyIOG_BRgCNcBGAsYHQ/s1600/SUBTRAIR.png](https://1.bp.blogspot.com/2NlaMrM7WQc/Xi8QODwbHpI/AAAAAAAAAm0I/FdYLFikLoHYEId
mRVDUwFxCyIOG_BRgCNcBGAsYHQ/s1600/SUBTRAIR.png)

[https://www.liveworksheets.com/worksheets/pt/Ci%C3%A4ncias/Higiene/H%C3%A1bitos_de_higi
ene_mh1893710br](https://www.liveworksheets.com/worksheets/pt/Ci%C3%A4ncias/Higiene/H%C3%A1bitos_de_higi
ene_mh1893710br)

<https://br.pinterest.com/pin/663999538808582496/>

<https://br.pinterest.com/pin/431923420509648092/>

<https://atividadespedagogicas.net/wp-content/uploads/2014/12/Colorir-dia-das-criancas-3.gif>