



PREFEITURA DA ESTÂNCIA TURÍSTICA DE IBIÚNA
EM PROF. CALIL RAHAL NETO

Rua Projetada, 620 - Capim Azedo - Ibiúna - SP - Telefone: 3241-5917



12^a. APOSTILA DE ESTUDOS ENSINO HÍBRIDO 3º BIMESTRE



ENSINO FUNDAMENTAL

ALUNO: _____

PROFESSORA: RENATA ELIAS ROSA ABIBI

TURMA: 3º ANO B

DATA DE DEVOLUÇÃO: 08/10

EM "Prof. Calil Rahal Neto"

Nome: _____

Professora: Renata Abibi

Turma: 3º ano B

Data: 29/09/2021

LÍNGUA PORTUGUESA

Vincent Van Gogh



Vincent Van Gogh, conhecido apenas como **Van Gogh** é considerado um dos principais representantes da pintura mundial.

OBSERVE A OBRA "OS GIRASSÓIS" DE **VAN GOGH** E DESENHE DO SEU JEITO:

RELEITURA OS GIRASSÓIS VAN GOGH



EM "Prof. Calil Rahal Neto"

Nome: _____

Professora: Renata Abibi

Turma: 3º ano B

Data: 29/09/2021

LÍNGUA PORTUGUESA

ÇAÇA-FLOR

FLOR


AFLITO

FLÚOR

AFLIÇÃO

FLUTUAR

INFLAMAR



EM "Prof. Calil Rahal Neto"

Nome: _____

Professora: Renata Abibi

Turma: 3º ano B

Data: 30/09/2021

MATEMÁTICA

QUANTO VALEM , JUNTAS, AS NOTAS E MOEDAS DE CADA GRUPO?



EM "Prof. Calil Rahal Neto"

Nome: _____

Professora: Renata Abibi

Turma: 3º ano B

Data: 30/09/2021

1 – OBSERVE A ESCRITA DOS NÚMEROS ABAIXO:

20- VINTE	70-SETENTA
30- TRINTA	80 - OITENTA
40 - QUARENTA	90 - NOVENTA
50- CINQUENTA	
60- SESSENTA	

AGORA, SOME E ESCREVA POR EXTENSO.

20+1	21	VINTE E UM
20+3	23	VINTE E TRÊS
30+3		
40+2		
50+5		
60+7		
70+2	72	SETENTA E DOIS
80+3		
80+4		
90+5		

EM "Prof. Calil Rahal Neto"

Nome: _____

Professora: Renata Abibi

Turma: 3º ano B

Data: 01/10/2021

MATEMÁTICA

1 – OBSERVE OS NUMERAIS:

1	2	3	4	5	6	7	8	9	10
11	12	13	14	15	16	17	18	19	20
21	22	23	24	25	26	27	28	29	30
31	32	33	34	35	36	37	38	39	40
41	42	43	44	45	46	47	48	49	50
51	52	53	54	55	56	57	58	59	60
61	62	63	64	65	66	67	68	69	70
71	72	73	74	75	76	77	78	79	80
81	82	83	84	85	86	87	88	89	90
91	92	93	94	95	96	97	98	99	100

2 - ESCREVA O ANTECESSOR E O SUCESSOR DOS NÚMEROS ABAIXO:

	15	
--	----	--

	26	
--	----	--

	38	
--	----	--

	42	
--	----	--

	55	
--	----	--

	63	
--	----	--

	74	
--	----	--

	83	
--	----	--

	95	
--	----	--

Nome: _____

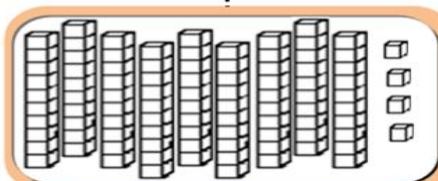
Professora: Renata Abibi

Turma: 3º ano B

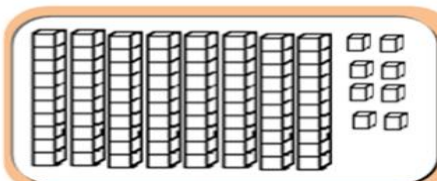
Data: 01/10/2021

ATIVIDADES

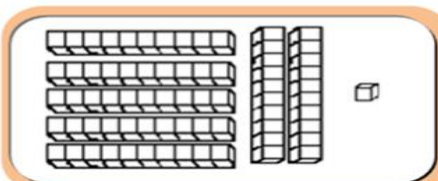
Descubra qual é o número que foi representado em cada quadro e escreva-os por extenso:



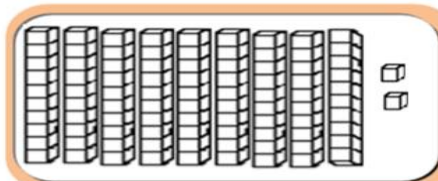
$$\dots + \dots = \dots$$



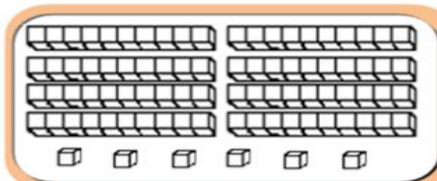
$$\dots + \dots = \dots$$



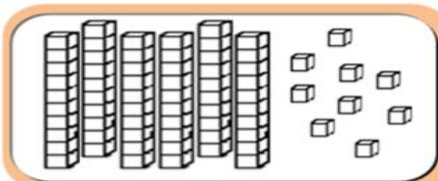
$$\dots + \dots = \dots$$



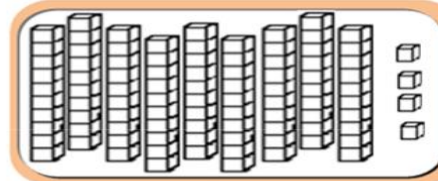
$$\dots + \dots = \dots$$



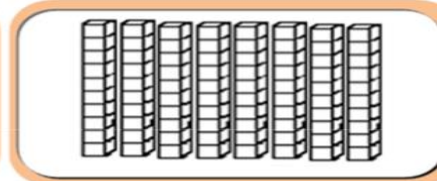
$$\dots + \dots = \dots$$



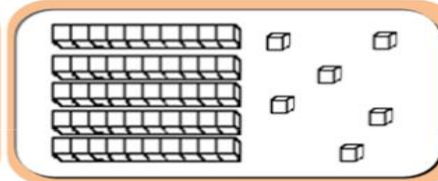
$$\dots + \dots = \dots$$



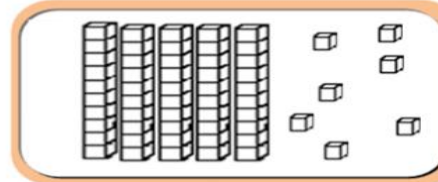
$$\dots + \dots = \dots$$



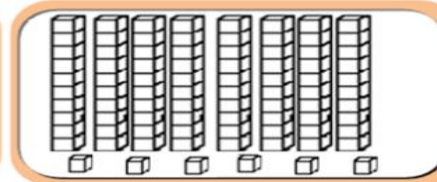
$$\dots + \dots = \dots$$



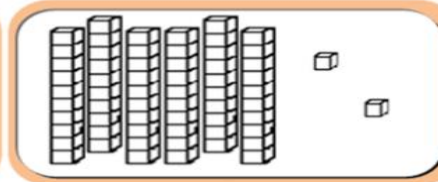
$$\dots + \dots = \dots$$



$$\dots + \dots = \dots$$



$$\dots + \dots = \dots$$



$$\dots + \dots = \dots$$

EM "Prof. Calil Rahal Neto"

Nome: _____

Professora: Renata Abibi

Turma: 3º ano B

Data: 04/10/2021

OUTUBRO É O MÊS DAS CRIANÇAS

LEIA ESSA BONITA POESIA:

Ser criança

Isabel Cristina Silveira Soares

É muito bom ser criança
É ter direito a proteção,
Ser do mundo a esperança
E ter cuidado, amor e atenção!

É deixar livre o imaginar
E com tudo poder brincar!

Uma caixa de papelão
Pode ser um carrinho,
Uma casinha de bonecas
Ou até um caminhão!

Brinco com vento, a chuva
O tempo e a natureza,
Em meu mundo de sonho
Reina a verdadeira pureza!



EM "Prof. Calil Rahal Neto"

Nome: _____

Professora: Renata Abibi

Turma: 3º ano B

Data: 04/10/2021

AGORA COMPLETE CONFORME A POESIA SER CRIANÇA:

É MUITO BOM SER _____

É TER DIREITO À _____,

SER DO MUNDO À _____

E TER _____, _____ E _____.

É DEIXAR LIVRE O _____

E COM TUDO PODER _____!

UMA CAIXA DE _____

PODE SER _____,

UMA CASINHA DE _____

OU ATÉ UM _____!

BRINCO COM O _____,

O TEMPO E A _____,

EM MEU MUNDO DE _____

REINA A VERDADEIRA _____!

EM "Prof. Calil Rahal Neto"

Nome: _____

Professora: Renata Abibi

Turma: 3º ano B

Data: 05/10/2021

OS DIREITOS DA CRIANÇA



EM 1989 AS NAÇÕES UNIDAS ADOTARAM A CONVENÇÃO
DOS DIREITOS DA CRIANÇA, OS PAÍSES QUE A RATIFICARAM,
DEVEM ASSEGURAR A TODAS AS CRIANÇAS
-SEM DISTINÇÃO DE RAÇA, COR, SEXO, LÍNGUA,
RELIGIÃO, ORIGEM ÉTNICA
- O ACESSO A DETERMINADOS
DIREITOS BÁSICOS.

EM "Prof. Calil Rahal Neto"

Nome: _____

Professora: Renata Abibi

Turma: 3º ano B

Data: 05/10/2021

HISTÓRIA

DECLARAÇÃO DOS DIREITOS DA CRIANÇA



Lazer



Desenvolver sua inteligência



Saúde



Alimentação



Fazer suas próprias descobertas



Ser protegida



Amor e carinho



Liberdade de expressão



Descanso

EM "Prof. Calil Rahal Neto"

Nome: _____
Professora: Renata Abibi Turma: 3º ano B
Data: 06/10/2021

ARTE

ESCOLHA SEU PERSONAGEM PREFERIDO DE DESENHO
ANIMADO E FAÇA UM BELO DESENHO ABAIXO:



EM "Prof. Calil Rahal Neto"

Nome: _____
 Professora: Renata Abibi Turma: 3º ano B
 Data: 06/10/2021

MATEMÁTICA

Q	W	N	O	V	E	C	E	N	T	O	S	O
U	T	R	E	Z	E	N	T	O	S	X	Z	I
I	T	Z	X	C	V	B	N	M	L	Z	F	T
N	R	S	E	I	S	C	E	N	T	O	S	O
H	I	E	Q	W	R	C	E	M	T	E	C	C
E	N	D	U	Z	E	N	T	O	S	S	R	E
N	T	S	E	T	E	C	E	N	T	O	S	N
T	A	X	M	N	B	V	G	H	J	U	N	T
O	Z	Q	E	R	T	Y	U	I	O	P	P	O
S	Q	U	A	T	R	O	C	E	N	T	O	S

ACHE NO CAÇA – PALAVRAS AS CENTENAS EXATAS E ESCREVA-AS ABAIXO:

100- CEM	600-
200-	700-
300-	800-
400-	900-
500-	

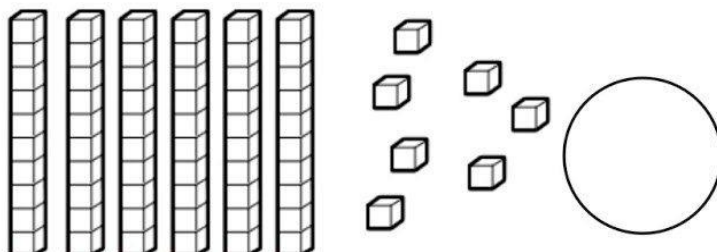
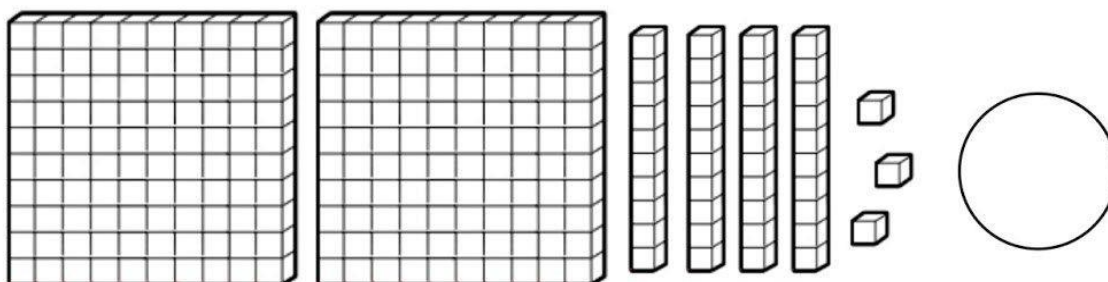
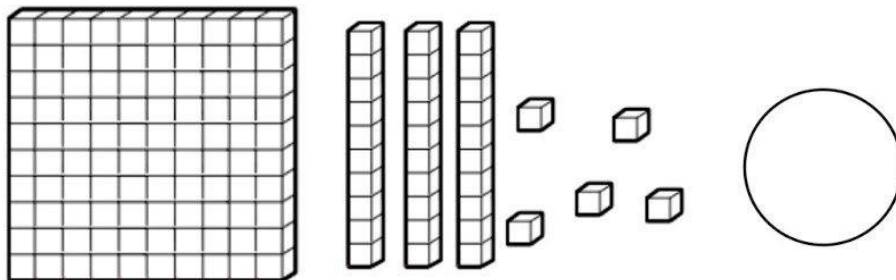
Nome: _____

Professora: Renata Abibi

Turma: 3º ano B

Data: 07/10/2021

1. Observe e registre a quantidade



3. Desenhe as quantidades representadas.

234

78

Nome: _____

Professora: Renata Abibi

Turma: 3º ano B

Data: 07/10/2021

LIGANDO OS NÚMEROS

Ligue as multiplicações aos seus produtos.

3×7

16

2×8

12

3×3

21

1×5

6

2×6

9

3×2

5



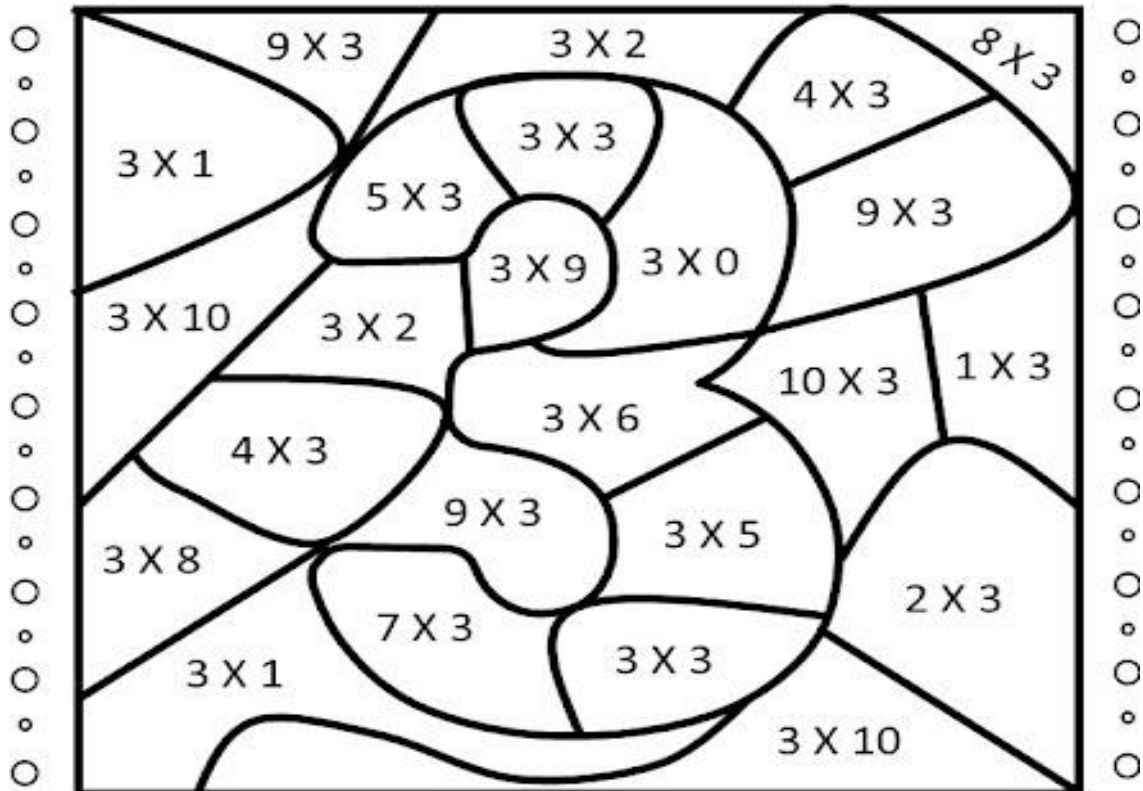
Nome: _____

Professora: Renata Abibi

Turma: 3º ano B

Data: 08/10/2021

MULTIPLICANDO POR 3



RESOLVA AS MULTIPLICAÇÕES E SIGA A LEGENDA PARA COLORIR:

VERMELHO $3 - 6 - 24$

VERDE $9 - 18$

AZUL $12 - 27 - 30$

AMARELO $0 - 15 - 21$

EM "Prof. Calil Rahal Neto"

Nome: _____

Professora: Renata Abibi


Turma: 3º ano B


Data: 08/10/2021

]LÍNGUA PORTUGUESA

PRODUÇÃO DE TEXTO

OBSERVE AS CENAS ABAIXO. COLOQUE AS EM ORDEM E ESCREVA UMA HISTÓRIA





REFERÊNCIAS BIBLIOGRÁFICAS

<https://www.espacoprofessor.com/texto-informativo-dia-da-arvore-para-baixar/>

<https://www.soescola.com/2017/03/sequencia-de-atividades-alfabetizacao-poema-leilao-de-jardim-cecilia-meireles.html>

<https://www.soescola.com/2016/07/tabelas-de-numerais-para-imprimir.html>

<https://br.pinterest.com/pin/637540890994396449/>

https://www.google.com/search?q=ATIVIDADES+SOBRE+O+DIA+DA+CRIAN%C3%87A-DIREITOS+DAS+CRIAN%C3%87AS&tbm=isch&ved=2ahUKEwjS35bDI_ryAhX8spUCHQvnCeUQ2-cCegQIAB

<https://br.pinterest.com/pin/731905376916211254/>

