



Prefeitura da Estância Turística de

IBIÚNA

TRANSFORMAÇÃO RESPONSÁVEL. CUIDANDO DE PESSOAS.

Av. São Sebastião, 192. 4º Piso. Centro. Fones: (15) 3248 1292. 3248 1574. Email: apoiopedagogicosmeibiuna@hotmail.com



E.M. GUILHERMINA PAULA DOMINGUES

PROFESSORA VERÔNICA BRAGANÇA GOMES

10º APOSTILA (30/08/21 A 17/09/21)

(DEVOLUÇÃO DESTA APOSTILA SERÁ NO DIA 20/09)



NOME DO (A) ALUNO (A):

2º ANO A

SETEMBRO/2021

NOME: _____ DATA: 30/08/2021.

LINGUA PORTUGUESA

POEMA

O QUE HÁ,
O QUE HÁ,
COM O AGÁ
QUE A GENTE SABE
E VÊ QUE HÁ,
MAS NA HORA DE FALAR
NEM PARECE QUE HÁ?



Elias José. Quem lê com pressa tropeça.
Ed. Lê, Belo Horizonte, 1992

CIRCULE A LETRA **H**

HÁ
HOSPITAL
HORTELÃ
HOMEM

HORA
HOTEL
HINO
HUGO

HORÁRIO
HORTA
HIENA
HÉLICE

HERÓI
HUMANO
HEPATITE
HÉLIO

COMPLETE COM H

__AVIA

__OJE

__IPOPÓTAMO

__EROÍNA

__UMBERTO

__ÉLICE

__IGIENE

__OLOFOTE

__UGO

LIGUE O QUE COMEÇA COM:

HAVIA
HOJE
HÁBITO
HIENA
HOLOFOTE
HINO
HUMANO

HA
HE
HI
HO
HU

HUGO
HÉLIO
HÉLICE
HOJE
HORA
HINO
HUGO

NOME: _____ DATA: 31/08/2021.

LÍNGUA PORTUGUESA

LISTA

TODAS AS PESSOAS DA LISTA TÊM O NOME COM A LETRA H.



COLOQUE EM ORDEM ALFABÉTICA O NOME DAS PESSOAS DA LISTA.

VEJA O QUADRO DE PALAVRAS.

<u>H</u> IGIENE	<u>H</u> ÉLICE	<u>H</u> ORTA	<u>H</u> UMANO
<u>H</u> AMBÚRGUER	<u>H</u> INO	<u>H</u> UMOR	<u>H</u> IENA
<u>H</u> ARMONIA	<u>H</u> ORA	<u>H</u> ERÓI	<u>H</u> OJE

AGORA ORGANIZE AS PALAVRAS ESCRIVENDO-AS, PORÉM OBSERVE COMO SE PEDE.

HA	_____
HE	_____
HI	_____
HO	_____
HU	_____

NOME: _____ DATA: 01/09/2021.

LÍNGUA PORTUGUESA

DIAGRAMA

DESCUBRA NO DIAGRAMA PALAVRAS COM A LETRA H.
DEPOIS, COPIE-AS ABAIXO.

B	C	H	O	J	E	D	F
P	H	N	H	I	E	N	A
H	O	T	E	L	G	Q	R
T	R	I	J	V	X	Z	H
K	A	W	S	Y	J	K	O
L	M	H	O	R	T	A	M
H	I	G	I	E	N	E	E
H	É	L	I	C	E	Z	M

ORGANIZE AS PALAVRAS DE ACORDO
COM A FAMÍLIA A QUE PERTENCEM.

HABILIDADE
HORTELÃO

HOTELEIRO
HOSPITALIZADO

HABILIDOSO
HABILITAÇÃO

HÁBIL


HOTEL

HOSPITAL


NOME: _____ DATA: 02/09/2021.

LÍNGUA PORTUGUESA

CRUZADINHA LETRA H



- 1 - É NOME DE MULHER.
- 2 - NOME DE PLANTA COM A QUAL SE FAZ CHÁ.
- 3 - É FEMININO DE MULHER.
- 4 - ANIMAL MAMÍFERO PAQUIDERME, ADORA ÁGUA.
- 5 - NOME DE FLOR.
- 6 - O RELÓGIO MARCA.
- 7 - NOME DE HOMEM.
- 8 - NA IGREJA A GENTE CANTA.



NOME: _____ DATA: 03/09/2021.

LÍNGUA PORTUGUESA

O QUE COMEMORAMOS NO DIA 7 DE SETEMBRO?

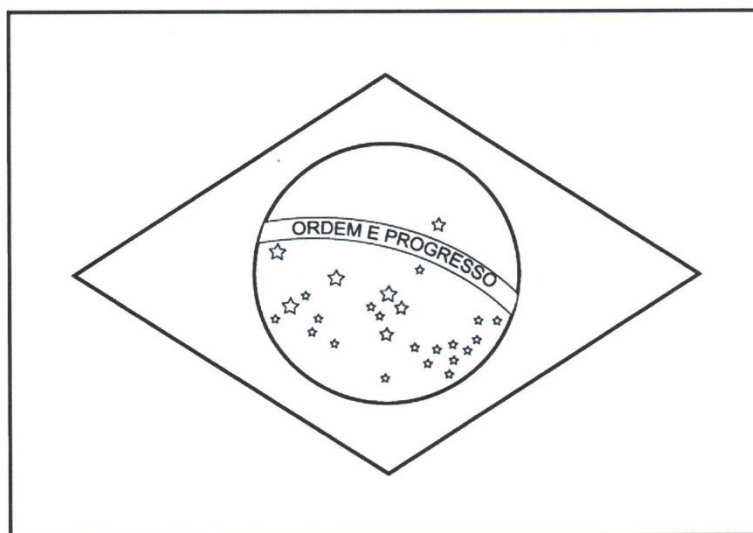
No dia **7 de setembro** comemora-se a **Independência do Brasil**, acontecimento esse que se passou no mesmo dia em 1822. Naquela ocasião, d. Pedro (futuro d. Pedro I), posicionado às margens do Rio Ipiranga em São Paulo, declarou a independência do Brasil e deu início ao processo de separação do laço colonial de nosso país com Portugal. Esse dia é atualmente um **feriado nacional** que celebra a memória desse acontecimento.

© profa. hedy pedreira

PINTE A PALAVRA INDEPENDÊNCIA COM AS CORES DA BANDEIRA:

INDEPENDÊNCIA

VAMOS COLORIR A **BANDEIRA DO BRASIL**:



NOME: _____

DATA: 08/09/2021.

LÍNGUA PORTUGUESA

Produção de Texto

- Monte sua história escrevendo o que acontece nas cenas, passo a passo! Não se esqueça de dar um título para a história.



.....

.....


.....

.....

.....

.....

.....



.....

.....


.....

.....

.....

.....

.....



.....

.....

.....

.....

.....


.....

.....

NOME: _____ DATA: 09/09/2021.

LÍNGUA PORTUGUESA

OBSERVE AS CENAS ABAIXO:



NUMERE AS FRAS DE ACORDO COM A ORDEM DOS ACONTECIMENTOS:

AO TENTAR PUXAR, A MOCHILA CAI NO CHÃO.

O CACHORRO VÊ O SANDUICHE NA MESA.

ELE SOBE NA MOCHILA E LOGO APANHA A SALSICHA.

ELE TENTA PUXAR O SANDUICHE.

NOME: _____ DATA: 10/09/2021.

LÍNGUA PORTUGUESA

SONS IGUAIS, ESCRITAS DIFERENTES

1 - LEIA AS PALAVRAS E SECREVA-AS NO GRUPO CORRESPONDENTE.

RATO – CARRO – ROLETA – GARRAFA – RICO – CARROÇA – RECADO –
RUÍDO – CIGARRA – IRRITAÇÃO – REMÉDIO – SORRISO.

R	RR

2- ESCOLHA TRÊS PALAVRAS DA ATIVIDADE ANTERIOR E FORME FRASES.

1 - _____

2- _____

3 - _____.

3 – PESQUISE 10 NOVAS PALAVRAS COM R / RR.







R	RR

LÍNGUA PORTUGUESA



CAÇANDO PALAVRAS COM RR

1) Procure, no caça-palavras, os nomes dos desenhos e, depois, escreva-os abaixo.

M	A	R	R	E	C	O	Y	B	U	R	R	O	C	N	K	L	T
O	S	J	A	R	R	A	T	P	B	I	G	A	P	R	L	M	S
V	N	C	B	T	M	A	D	A	R	S	O	D	M	T	A	V	W
C	A	R	R	O	D	L	R	S	T	S	E	R	R	O	T	E	B
A	B	C	D	E	F	G	H	I	J	K	G	A	R	R	A	F	A

2) Observe os desenhos e crie frases. Atenção! Nenhuma palavra inicia-se com rr!







NOME: _____ DATA: 14/09/2021.

LÍNGUA PORTUGUESA

CAÇA PALAVRAS DO R

1 - PROCURE AS PALAVRAS DO QUADRO NO CAÇA ABAIXO.

AMORA – CAREJA – CORUJA – GORILA – PAREDE – OURO – CARIOCA - GIRAFA



G	S	T	K	S	A	O	U	R	O	C
I	R	G	O	R	I	L	A	T	V	E
R	C	A	R	I	O	C	A	M	N	R
A	M	Y	U	P	A	R	E	D	E	E
F	L	C	O	R	U	J	A	O	P	J
A	V	P	A	M	O	R	A	F	V	A

2 – FAÇA CONFORME O MODELO:

UM PÉ DE LIMÃO É UM LIMOEIRO.

- A) UM PÉ DE _____ É UMA GOIABEIRA.
- B) UM PÉ DE ABACATE É UM _____.
- C) UM PÉ DE _____ É UMA PEREIRA.
- D) UM PÉ DE CAJU É UM _____.
- E) UM PÉ DE _____ É UMA AMOREIRA.
- F) UM PÉ DE BANANA É UMA _____.
- G) UM PÉ DE _____ É UM MAMOEIRO.


NOME: _____

DATA: 16/09/2021.

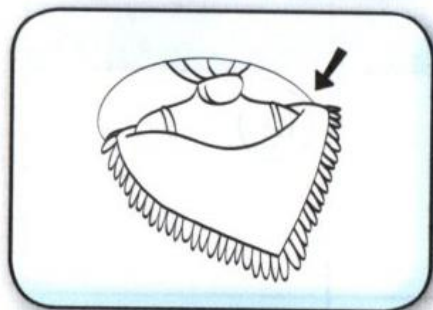
LÍNGUA PORTUGUESA

Junta Sílabas


● Junte as sílabas das palavras e pinte o nome da gravura:



SA → PO _____
SA → CO _____
SA → COLA _____



XA → LE _____
XA → VECO _____
XA → XIM _____



ZE → BU _____
ZE → RO _____
ZE → LO _____



RA → BO _____
RA → BADA _____
RA → TO _____

LÍNGUA PORTUGUESA

Desafio Silábico

● Siga as pistas e descubra sílabas no quadro para as respostas:

	1	2	3	4
A	XÍ	A	SA	RA
B	A	BI	TO	ZEI
C	SÁ	DO	Á	NA
D	ZEI	CA	TE	BA


1 - Ave pequena (C1 - B2 - C3)

2 - Tipo de óleo da oliva (B1 - B4 - D3)

3 - Sétimo dia da semana (C1 - D4 - C2)

4 - É usada para tomar chá (A1 - D2 - A4)

5 - Fruto da Oliveira (A2 - D1 - B3 - C4)



NOME: _____ DATA: 30/08/2021.

MATEMÁTICA

DESAFIOS

ESTA É A FAMÍLIA DOS IRMÃOS ENRICO E SOFIA. OS AVÓS MATERNOS DAS CRIANÇAS MORAM COM ELES.



ARTE: IMESP

1. DESCUBRA A IDADE DE CADA UMA DESSAS PESSOAS DA FAMÍLIA, LENDO AS INFORMAÇÕES A SEGUIR:

- ENRICO É 3 ANOS MAIS VELHO QUE SOFIA, QUE TEM 9 ANOS.
- A MÃE É 6 ANOS MAIS NOVA QUE SEU MARIDO, QUE TEM 36 ANOS.
- VOVÓ TEM O DOBRO DA IDADE DA MÃE.
- VOVÔ É 10 ANOS MAIS VELHO DO QUE A VOVÓ.

- A. REGISTRE-AS NOS QUADRINHOS.

SOFIA	ENRICO	MAMÃE	PAPAI	VOVÓ	VOVÔ

- B. O QUE VOCÊ OBSERVA AO COMPARAR A IDADE DA MAMÃE COM A DA VOVÓ?

- C. O QUE VOCÊ OBSERVA AO COMPARAR A IDADE DE ENRICO COM A DE SEU PAI?

MATEMÁTICA

CALCULANDO O DOBRO

A PROFESSORA DE SOFIA PEDIU ÀS MENINAS DE SUA TURMA QUE CALCULASSEM OS RESULTADOS DAS ADIÇÕES APRESENTADAS NO PRIMEIRO QUADRO. PARA OS MENINOS, ELA PEDIU QUE COMPLETASSEM O SEGUNDO QUADRO. PREENCHA OS DOIS QUADROS E COMPARE OS RESULTADOS OBTIDOS.

$1 + 1 =$
$2 + 2 =$
$3 + 3 =$
$4 + 4 =$
$5 + 5 =$
$6 + 6 =$
$7 + 7 =$
$8 + 8 =$
$9 + 9 =$
$10 + 10 =$

O DOBRO DE 1 É
O DOBRO DE 2 É
O DOBRO DE 3 É
O DOBRO DE 4 É
O DOBRO DE 5 É
O DOBRO DE 6 É
O DOBRO DE 7 É
O DOBRO DE 8 É
O DOBRO DE 9 É
O DOBRO DE 10 É

AGORA RESPONDA ÀS QUESTÕES:

A. QUAL É O DOBRO DE 20?

B. E O DOBRO DE 30?

MATEMÁTICA

CALCULANDO O TRIPLO

EM OUTRA AULA, A PROFESSORA DE SOFIA PEDIU NOVAMENTE ÀS MENINAS QUE CALCULASSEM O RESULTADO DE ADIÇÕES, DO PRIMEIRO QUADRO. PARA OS MENINOS, ELA PEDIU QUE COMPLETASSEM O SEGUNDO QUADRO.

- 1.** PREENCHA OS DOIS QUADROS E COMPARE OS RESULTADOS OBTIDOS EM CADA UM:

$1 + 1 + 1 =$
$2 + 2 + 2 =$
$3 + 3 + 3 =$
$4 + 4 + 4 =$
$5 + 5 + 5 =$
$6 + 6 + 6 =$
$7 + 7 + 7 =$
$8 + 8 + 8 =$
$9 + 9 + 9 =$
$10 + 10 + 10 =$

O TRIPLO DE 1 É
O TRIPLO DE 2 É
O TRIPLO DE 3 É
O TRIPLO DE 4 É
O TRIPLO DE 5 É
O TRIPLO DE 6 É
O TRIPLO DE 7 É
O TRIPLO DE 8 É
O TRIPLO DE 9 É
O TRIPLO DE 10 É

- 2.** AGORA RESPONDA:

A. QUAL É O TRIPLO DE 20?

B. E O TRIPLO DE 30?

MATEMÁTICA

SITUAÇÕES PROBLEMAS

LEIA COM ATENÇÃO E RESOLVA CADA UMA DAS SITUAÇÕES A SEGUIR:

A. OS AVÓS DE MARIA EDUARDA FORAM AO SUPERMERCADO. AS COMPRAS DA VOVÓ TOTALIZARAM 20 REAIS E A DO VOVÔ, O DOBRO DESSA QUANTIA. QUANTO O VOVÔ GASTOU?




B. SOFIA E ENRICO ESTÃO COLECIONANDO CHAVEIROS. SOFIA TEM 12 CHAVEIROS E ENRICO TEM O DOBRO DESSA QUANTIDADE. QUANTOS CHAVEIROS ENRICO TEM?



C. ANDREIA, A MÃE DE SOFIA, TEM 15 REAIS NA CARTEIRA E SEU MARIDO ADALTO TEM O TRIPLO DESSE VALOR. QUANTOS REAIS ADALTO TEM EM SUA CARTEIRA?




D. ENRICO TEM UM AQUÁRIO COM VÁRIOS PEIXINHOS. OBSERVE NA ILUSTRAÇÃO, QUANTOS PEIXINHOS HÁ NO AQUÁRIO. QUANTOS PEIXINHOS ENRICO PRECISA COLOCAR NO AQUÁRIO PARA QUE ELE FIQUE COM O TRIPLO DE PEIXINHOS DO QUE TEM AGORA?



MATEMÁTICA

DESAFIO!



SEU PEDRO TEM DUAS FILHAS: ALINE E BETE. ELAS FORAM JUNTAS COM OS COLEGAS DE SUA ESCOLA A UM PARQUE DE DIVERSÕES. ANDARAM JUNTAS NO CARRINHO BATE-BATE QUE CABEM DUAS CRIANÇAS EM CADA UM.

1. AJUDE SEU PEDRO A ORGANIZAR AS CRIANÇAS DE ACORDO COM O NÚMERO DE CARRINHOS.

QUANTIDADE DE CARRINHOS	QUANTIDADE DE CRIANÇAS
1	2
2	4
3	
4	
5	
6	
7	
8	
9	
10	

- A. SE FOREM OCUPADAS AS 10 CADEIRAS DO CARRINHO BATE-BATE, QUANTAS CRIANÇAS ANDARÃO DE CADA VEZ?

MATEMÁTICA

O QUE É, O QUE É?



JULIANA E JOÃO PEDRO ESTÃO BRINCANDO DE ADIVINHAÇÕES.

ELES ESCREVEM UM ENIGMA EM UM PEDAÇO DE PAPEL E O OUTRO PRECISA ADIVINHAR O NOME DA FIGURA A QUE SE REFERE.

QUE TAL BRINCAR COM ELES?

	<p>PAREÇO COM O DADO QUE VOCÊ USA EM ALGUNS JOGOS. TENHO SEIS FACES. TODAS AS MINHAS FACES SÃO QUADRADAS. ALGUMAS CAIXAS DE PRESENTES SE PARECEM COMIGO. QUEM SOU EU?</p>	
	<p>PAREÇO UMA CABANA DE ACAMPAMENTO. OS ANTIGOS EGÍPCIOS FAZIAM CONSTRUÇÕES COM MEU FORMATO. ALGUMAS DAS MINHAS FACES SÃO TRIANGULARES. QUEM SOU EU?</p>	
	<p>UMA CAIXA DE SAPATOS TEM MEU FORMATO. TENHO 6 FACES RETANGULARES. MEU NOME É BEM COMPRIDO. QUEM SOU EU?</p>	
	<p>LATAS LEMBRAM MEU FORMATO. SOU UMA FIGURA COM UMA PARTE ARREDONDADA, MAS POSSO ME APOIAR COM FIRMEZA. QUEM SOU EU?</p>	

NOME: _____ DATA: 09/09/2021.

MATEMÁTICA
SÓLIDOS GEOMÉTRICOS

DESENHE DIFERENTES OBJETOS QUE LEMBREM AS FIGURAS INDICADAS:

CUBO

PARALELEPÍPEDO

PIRÂMIDE

CILINDRO

NOME: _____ DATA: 10/09/2021.

MATEMÁTICA

1. COMPLETE O QUADRO DE NÚMEROS ABAIXO:

21	22					28			
		33				37		39	
			44		46				50
				55					

2. AGORA ESCREVA OS NÚMEROS EM CADA TIRA, OBSERVANDO A SEQUÊNCIA INICIADA.

47	46	45							
----	----	----	--	--	--	--	--	--	--

62	61	60							
----	----	----	--	--	--	--	--	--	--

35	34	33							
----	----	----	--	--	--	--	--	--	--

MATEMÁTICA

PREENCHER TABELA

NO PERÍODO DA MANHÃ CARLOS FOI VISITAR A BRINQUEDOTECA DE SUA CIDADE.

ELE OBSERVOU QUE NA PAREDE HAVIA UMA ESTANTE COM DIVERSOS BRINQUEDOS. RESOLVEU FAZER UMA PESQUISA DE QUANTOS BRINQUEDOS IGUAIS HAVIA NA ESTANTE.

1. AJUDE CARLOS A ORGANIZAR OS DADOS DE SUA PESQUISA DE ACORDO COM A ILUSTRAÇÃO ABAIXO.



FONTE: ELABORADO PELO GRUPO DE REFERÊNCIA DE MATEMÁTICA. FOTOS E ARTES: IMESP

BRINQUEDOS	QUANTIDADE
BOLAS	6

BRINQUEDOS	QUANTIDADE

NOME: _____ DATA: 14/09/2021.

MATEMÁTICA

MESES DO ANO

1. VOCÊ JÁ OBSERVOU QUE CADA MÊS DO ANO É REPRESENTADO POR UM NÚMERO? ESCREVA AO LADO DE CADA MÊS O NÚMERO CORRESPONDENTE A ELE.

JANEIRO		MARÇO		DEZEMBRO	
ABRIL		FEVEREIRO		JUNHO	
SETEMBRO		MAIO		NOVEMBRO	
JULHO		OUTUBRO		AGOSTO	

2. ESCREVA ABAIXO OS MESES QUE TÊM 30 DIAS:

--	--	--	--

3. AGORA, ESCREVA QUAIS MESES TÊM 31 DIAS:

4. ESCREVA O NOME DO MÊS QUE TEM 28 OU 29 DIAS:

--

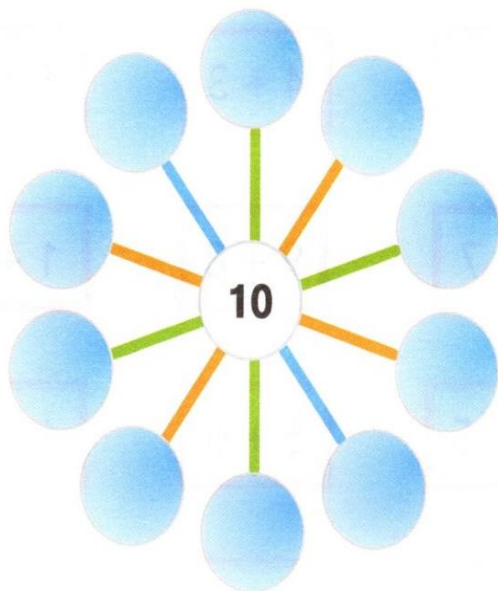
5. O PAI DE LUIZA VIAJOU EM UMA SEGUNDA-FEIRA E VOLTOU PARA CASA NA SEXTA-FEIRA DA MESMA SEMANA. QUANTO DIAS DUROU SUA VIAGEM?

--


MATEMÁTICA JOGO – SEMPRE 10

1. FÁBIO ENCONTROU NA INTERNET UM JOGO INTERESSANTE.

EM CADA CÍRCULO DA FIGURA É PRECISO ESCREVER UMA ADIÇÃO QUE TENHA COMO RESULTADO O NÚMERO ESCRITO NO CENTRO, QUE É 10. ESCREVA-AS:

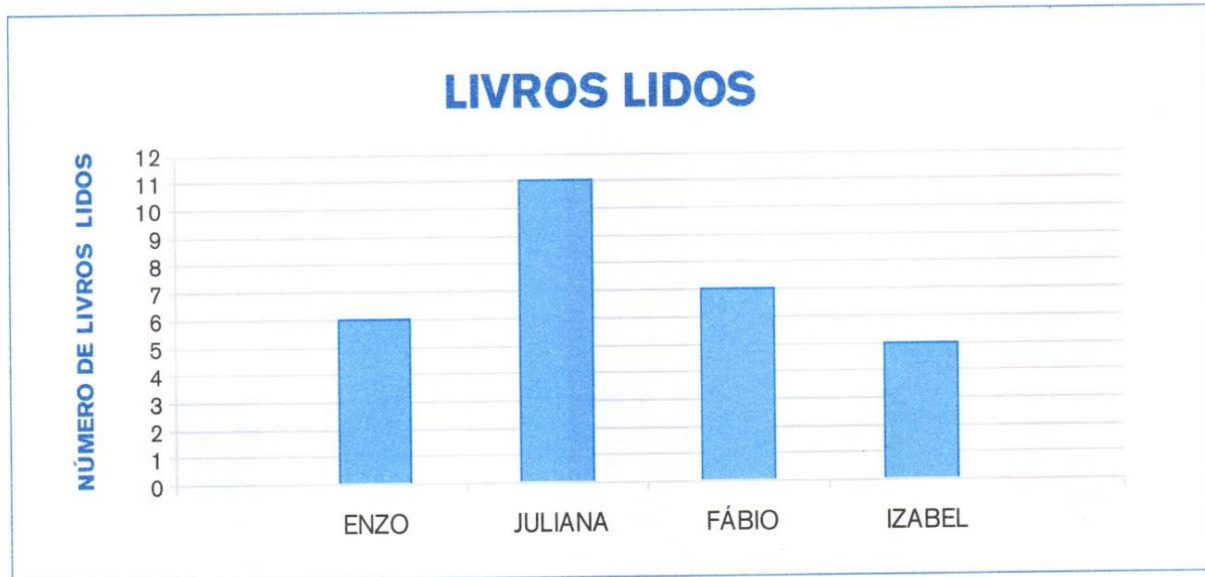


E SE O NÚMERO ESCRITO NO CENTRO FOR 9, QUAIS ADIÇÕES PODEM SER COLOCADAS?



MATEMÁTICA
INTERPRETANDO GRÁFICO

1. QUATRO AMIGOS SE REUNIRAM PARA CONVERSAR SOBRE OS LIVROS QUE LERAM E DECIDIRAM MOSTRAR ESSAS INFORMAÇÕES NUM GRÁFICO DE COLUNAS. VEJA COMO FICOU:



Fonte: dados obtidos por Juliana

2. RESPONDA:

- A. QUAIS OS NOMES DESSES AMIGOS? _____

- B. QUANTOS LIVROS ENZO LEU? _____
- C. QUEM LEU MAIS LIVROS? _____
- D. QUE MENINA LEU MAIS LIVROS? _____
- E. QUANTOS LIVROS FÁBIO LEU A MAIS QUE IZABEL? _____
- F. QUEM LEU MAIS DE 6 LIVROS? _____

REFERÊNCIAS:

EMAI: 1° e 2° ano – volume 1 e 2.

137 atividades para alfabetização - Editora ciranda cultural: www.cirandacultural.com.br

Alfabetização em blocos – Waldirene Dias Mendonça e Mariene Dias.

<https://www.smartkids.com.br/colorir/desenho-bandeira-do-brasil>