



12^a. APOSTILA DE ESTUDOS ENSINO HÍBRIDO 3º BIMESTRE



ENSINO FUNDAMENTAL

ALUNO:

PROFESSORA:

TURMA:

DATA DE DEVOLUÇÃO:



E. M. "PROF. CALIL RAHAL NETO"

NOME: _____

PROFESSORA: ANA PAULA

TURMA: 1º ANO B

DATA: 29/09/2021

ATIVIDADE 1

HISTÓRIA

O MÊS DE OUTUBRO É UM MÊS MUITO ESPECIAL, POIS NO DIA 12 DE OUTUBRO, COMEMORA-SE O "DIA DAS CRIANÇAS". ESTA DATA CELEBRA OS DIREITOS DAS CRIANÇAS E ADOLESCENTES, AJUDANDO A CONSCIENTIZAR AOS PAIS E A TODAS AS PESSOAS, SOBRE OS CUIDADOS NECESSÁRIOS DURANTE ESTA FASE DA VIDA. JUNTAMENTE COM SEUS FAMILIARES, FAÇA A LEITURA DOS DIREITOS.

		
Lazer	Desenvolver sua inteligência	Saúde
		
Alimentação	Fazer suas próprias descobertas	Ser protegida
		
Amor e carinho	Liberdade de expressão	Descanso

AGORA QUE VOCÊ JÁ CONHECE OS SEUS DIREITOS, PINTE AS IMAGENS QUE REPRESENTAM OS DIREITOS QUE VOCÊ MAIS GOSTOU DE SABER!



E. M. "PROF. CALIL RAHAL NETO"

NOME: _____

PROFESSORA: ANA PAULA

TURMA: 1º ANO B

DATA: 29/09/2021

ATIVIDADE 2

MATEMÁTICA



ADIÇÃO

VAMOS SOMAR?

LUCAS TINHA UMA BOLA E GANHOU MAIS UMA.
QUANTAS ELE TEM AGORA?




+



=



MARINA TINHA DOIS SORVETES E GANHOU MAIS UM.
QUANTOS ELA TEM AGORA?




+



=




ALICE TINHA 3 LAÇOS E GANHOU MAIS UM.
QUANTOS ELA TEM AGORA?



+



=





E. M. "PROF. CALIL RAHAL NETO"

NOME: _____

PROFESSORA: ANA PAULA

TURMA: 1º ANO B

DATA: 30/09/2021

ATIVIDADE 1

HISTÓRIA

TODA CRIANÇA TEM DIREITOS E DEVERES.

1) PINTE AS IMAGENS QUE APARECEM OS DIREITOS DAS CRIANÇAS.



TODA CRIANÇA TEM DIREITO A UM NOME.

2) ESCREVA SEU NOME NO QUADRO ABAIXO:



E. M. "PROF. CALIL RAHAL NETO"

NOME: _____

PROFESSORA: ANA PAULA





TURMA: 1º ANO B

DATA: 30/09/2021

ATIVIDADE 2

LÍNGUA PORTUGUESA

1- ESCREVA A LETRA INICIAL DO NOME DE CADA BRINQUEDO
MARQUE COM UM X, O SEU BRINQUEDO PREFERIDO.





E. M. "PROF. CALIL RAHAL NETO"

NOME: _____

PROFESSORA: ANA PAULA

TURMA: 1º ANO B

DATA: 01/10/2021

ATIVIDADE 1
MATEMÁTICA

- 1- PREENCHA O CALENDÁRIO DE OUTUBRO
- 2- PINTE O DESENHO
- 3- DIA 12 COMEMORAREMOS O DIA DAS CRIANÇAS, LOCALIZE-O NO CALENDÁRIO E PINTE COM A SUA COR PREFERIDA.
- 4- DIA 15 É O DIA DOS PROFESSORES, LOCALIZE-O NO CALENDÁRIO E ESCREVA EM QUAL DIA DA SEMANA COMEMORAREMOS ESSA DATA:

CALENDÁRIO OUTUBRO DE 2021



DOMINGO	SEGUNDA	TERÇA	QUARTA	QUINTA	SEXTA	SÁBADO
					1	
31						



E. M. "PROF. CALIL RAHAL NETO"

NOME: _____

PROFESSORA: ANA PAULA

TURMA: 1º ANO B

DATA: 01/10/2021


ATIVIDADE 2

SALADA, SALADINHA
BEM TEMPERADINHA
COM SAL, PIMENTA.
FOGO!
FOGUINHO!



(FONTE: MATEMÁTICA NA PRÉ-ESCOLA. ED. FTD)

1) PINTE DE AZUL A CORDA QUE ESTÁ PARA CIMA E PINTE DE VERMELHO A CORDA QUE ESTÁ PARA BAIXO.





E. M. "PROF. CALIL RAHAL NETO"

NOME: _____

PROFESSORA: ANA PAULA

TURMA: 1º ANO B

DATA: 04/10/2021

ATIVIDADE 1

GEOGRAFIA

O TEMPO EM NOSSA VIDA


PENSAR SOBRE O TEMPO FAZ PARTE DA EXPERIÊNCIA HUMANA (...). OS HUMANOS PERCEBEM A PASSAGEM DO TEMPO, CONTAM O TEMPO, ORGANIZAM O TEMPO.



CRIAM COMEMORAÇÕES, INVENTAM CALENDÁRIO, ORGANIZAM ÁLBUNS DE FOTOS (...).

(Vamos Aprender: Interdisciplinar, História e Geografia, 2º ano, Medida do Tempo, Pag. 131).

1- CIRCULE NO QUADRO OS INSTRUMENTOS QUE UTILIZAMOS PARA MEDIR O TEMPO:



MANHÃ - TARDE - NOITE

O DIA PODE SER DIVIDIDO EM DIFERENTES PERÍODOS: MANHÃ, TARDE E NOITE.

1. OBSERVE AS ILUSTRAÇÕES E MARQUE A ALTERNATIVA CORRETA:



MANHÃ



TARDE



NOITE

PELA MANHÃ O MENINO:

ACORDOU

BRINCOU

TOMOU BANHO

À TARDE O MENINO:

ESTUDOU

ACORDOU

ALMOÇOU

À NOITE O MENINO:

ALMOÇOU

FOI DORMIR

TOMOU BANHO.



E. M. "PROF. CALIL RAHAL NETO"

NOME: _____

PROFESSORA: ANA PAULA

TURMA: 1º ANO B

DATA: 04/10/2021

ATIVIDADE 2
MATEMÁTICA

- RESOLVA O PROBLEMINHA:



1- OBSERVE A CENA E RESPONDA COM ATENÇÃO:

♡ QUANTAS CRIANÇAS BRINCANDO?

♡ QUANTAS SÃO MENINAS?

♡ QUANTOS BALÕES A MENINA
ESTÁ SEGURANDO?

♡ QUANTAS SÃO MENINOS?

♡ QUANTAS BORBOLETAS?

♡ QUANTAS FLORES?



E. M. "PROF. CALIL RAHAL NETO"

NOME: _____

PROFESSORA: ANA PAULA

TURMA: 1º ANO B

DATA: 05/10/2021

ATIVIDADE 1

HISTÓRIA

DEVERES DA CRIANÇA

CRIANÇA TAMBÉM TEM DEVERES
PRESTE AGORA ATENÇÃO
TEM QUE RESPEITAR O PRÓXIMO
AOS PROFESSORES, PAIS E IRMÃOS



TEM QUE TER RESPONSABILIDADE
FAZER TODA A SUA LIÇÃO
SER BONDOSO, AMÁVEL E PACIENTE
CUIDAR BEM DA HIGIENE
E TAMBÉM DO MEIO AMBIENTE



TEM QUE OBEDECER AS LEIS
E AS REGRAS RESPEITAR
DEVE AJUDAR AS PESSOAS
SEMPRE QUE PRECISAR



OS DEVERES DEVEM SER GARANTIDOS
POR TODOS OS CIDADÃOS
CRIANÇA PRECISA SER CRIANÇA
NÃO PODE HAVER EXPLORAÇÃO.



(DAY VIANA)



ATIVIDADE:

PINTE AS PLAQUINHAS COM OS DEVERES DAS CRIANÇAS:



RESPEITO



ALIMENTAÇÃO



PRESERVAÇÃO



FAZER LIÇÃO



MORADIA



SER BONDOSO



TER HIGIENE



DIVERSÃO



E. M. "PROF. CALIL RAHAL NETO"

NOME: _____

PROFESSORA: ANA PAULA

TURMA: 1º ANO B

DATA: 05/10/2021

ATIVIDADE 2
LÍNGUA PORTUGUESA

Dia das crianças - 12 de outubro

AS CRIANÇAS BRINCAM NO JARDIM.



- São quantas crianças?

- Quantos brinquedos?

COMPLETE O QUADRO:

PALAVRA	NÚMERO DE LETRAS	LETRA INICIAL	LETRA FINAL
BOLA			
BALANÇO			
CORDA			



E. M. "PROF. CALIL RAHAL NETO"

NOME: _____

PROFESSORA: ANA PAULA

TURMA: 1º ANO B

DATA: 06/10/2021

ATIVIDADE 1:

CIÊNCIAS

OBSERVE AS IMAGENS E LIGUE AO HÁBITO DE HIGIENE ADEQUADO PARA CADA MOMENTO.



TOMAR CAFÉ DA MANHÃ

ESCOVAR OS DENTES

ASSISTIR TELEVISÃO



LAVAR AS MÃOS

BRINCAR

COMER SOBREMESA



DORMIR

JANTAR

TOMAR BANHO



E. M. "PROF. CALIL RAHAL NETO"

NOME: _____


PROFESSORA: ANA PAULA

TURMA: 1º ANO B

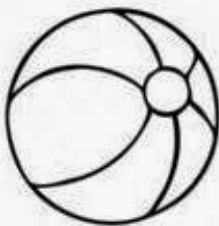
DATA: 06/10/2021

ATIVIDADE 2
LÍNGUA PORTUGUESA


- COMPLETE AS PALAVRAS COM AS VOGAIS:




B □ C □ C □ □ T □



B □ L □



C □ R R □



P □ T □ C □



NOME: _____

PROFESSORA: ANA PAULA

TURMA: 1º ANO B

DATA: 07/10/2021





ATIVIDADE 1



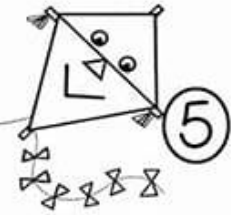
LÍNGUA PORTUGUESA


SEMANA DA CRIANÇA

1- COMPLETE A CRUZADINHA COM O NOME DE CADA BRINQUEDO.

CRUZA-BRINQUEDOS

2  3  1  4 

8  3  6  5

6  7

8

			1						
		2	B						
		3	I						
		4	C						
		5	I						
			C						
			L						
		6	E						
			7	T					
		8	A						



E. M. "PROF. CALIL RAHAL NETO"

NOME: _____











PROFESSORA: ANA PAULA

TURMA: 1º ANO B

DATA: 07/10/2021

ATIVIDADE 2
MATEMÁTICA
SISTEMA MONETÁRIO

1. LIGUE O PRODUTO À MOEDA EQUIVALENTE AO SEU PREÇO:

25 centavos		
5 centavos		
1 real		
10 centavos		
50 centavos		

E. M. "PROF. CALIL RAHAL NETO"



NOME: _____

PROFESSORA: ANA PAULA

TURMA: 1º ANO B


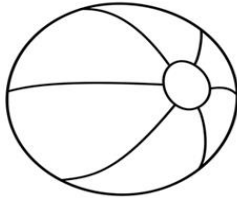

DATA: 08/10/2021

ATIVIDADE 1

LÍNGUA PORTUGUESA

FELIZ DIA DAS CRIANÇAS

QUE TAL ESCREVER O NOME DOS BRINQUEDOS?



BOLA PATINS BONECA PIPA



E. M. "PROF. CALIL RAHAL NETO"

NOME: _____

PROFESSORA: ANA PAULA

TURMA: 1º ANO B

DATA: 08/10/2021

ATIVIDADE 2

ARTE

12 DE OUTUBRO



VIVA O DIA DA CRIANÇA!

REFERÊNCIAS DE PESQUISA

<https://cantinhodosaber.com.br/tag/imprimir-atividades/page/2/>

https://www.pnav.es.gov.br/uploads/filemanager/Atividades_Disciplinares/Semana_19/ Direitos da Crianca.pdf

<https://www.pinterest.pt/clauidiasbsanto/direitos-das-crian%C3%A7as/>

<https://atividadespedagogicas.net/wp-content/uploads/2014/12/Colorir-dia-das-criancas-3.gif>

<https://www.pinterest.dk/pin/717761259353473828/>

<http://asbelascoisasdaminhavidia.blogspot.com/2013/04/trabalhando-com-parlendas.html?m=1>

<https://marcoscasemiro.wordpress.com/2010/10/21/eca-direitos-da-crianca-projeto-estatuto-da-crianca/>

<https://isabellarts.blogspot.com/2021/05/criancas-voam-quando-seus-direitos->

<sao.html?spref=fb&fbclid=IwAR31BKsZjH1HMO352BIZkPFI6JIAaxc7r84blNqH3bGmsmRG6LoqfVcbCrw>

<http://cantinhodosaber.com.br/dia-das-criancas/atividades-para-o-dia-das-criancas-12/>