

**E.M. "WALDOMIRO ANTONIO SOARES"**

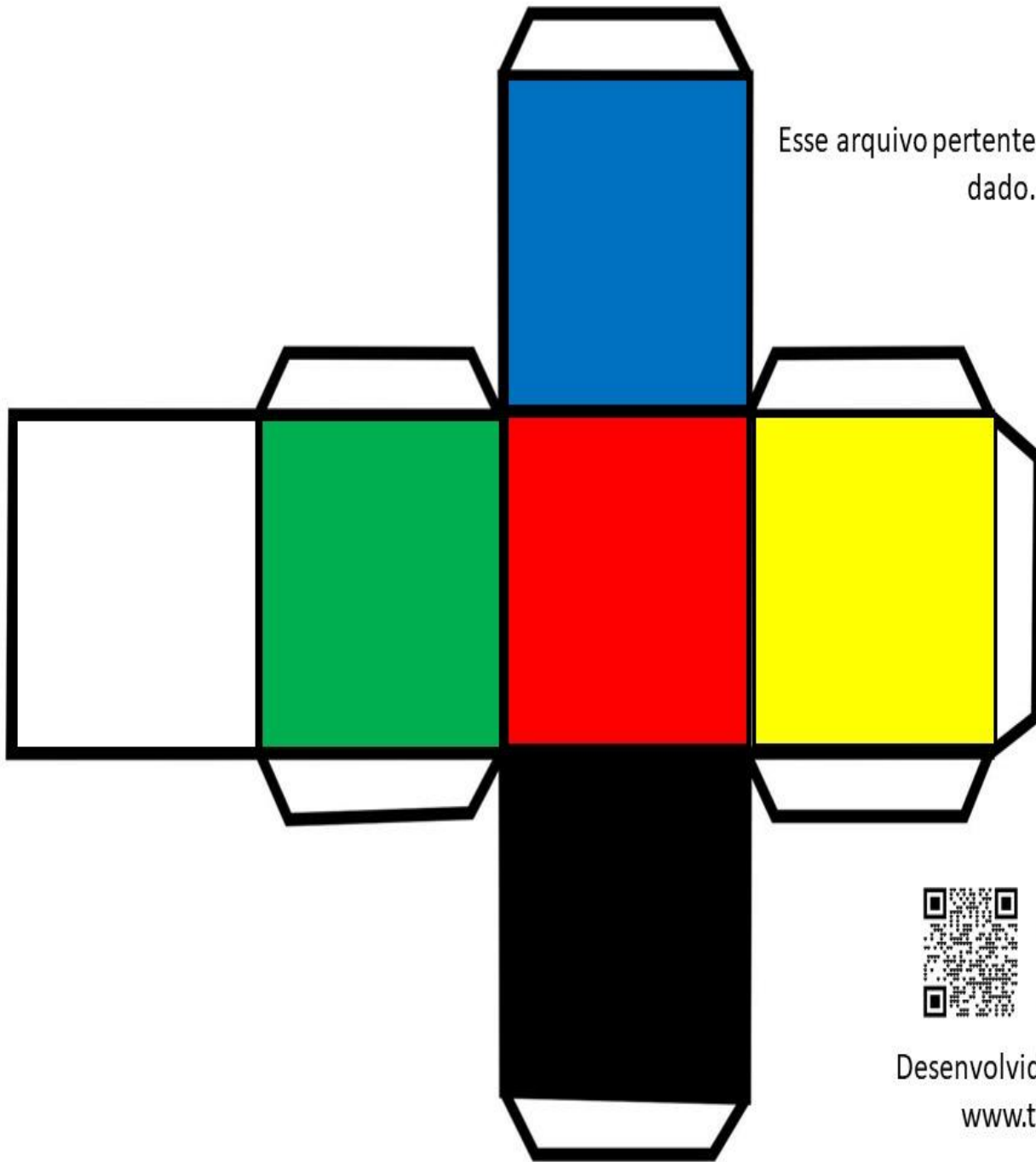
**12<sup>ª</sup> APOSTILA**

Nome: \_\_\_\_\_

Ano: FASE 1B

Professora: DAIANE






Esse arquivo pertence à dinâmica com  
dado.



Desenvolvido por @atiabya  
[www.tiabya.com](http://www.tiabya.com)

Esse arquivo pertence à dinâmica com  
dado.



Desenvolvido por @atiabya  
[www.tiabya.com](http://www.tiabya.com)

## DINÂMICA DO DADO

@ATIABYA

O NÚMERO SORTEADO SERÁ O COMANDO PARA AS AÇÕES!



SE PUDESSE COMER SÓ UMA COISA PELO RESTO DA SUA VIDA, O QUE SERIA?



SE VOCÊ GANHASSE NA LOTERIA, O QUE COMPRARIA 1° ?



SE VOCÊ ENCONTRASSE O GÊNIO DA LÂMPADA MÁGICA, QUAIS SERIAM SEUS 3 DESEJOS?



QUAL É O LUGAR QUE VOCÊ GOSTARIA DE CONHECER?



QUAIS SÃO AS 2 COISAS QUE VOCÊ NÃO VIVE SEM?



QUAL PESSOA FAMOSA VOCÊ GOSTARIA DE SER POR 1 DIA?

## DINÂMICA DO DADO DE COR

@ATIABYA

A COR SORTEADA SERÁ O COMANDO PARA AS AÇÕES!



IMITE UM CAVALO



FAÇA 15 POLICHINELOS



CANTE UMA MÚSICA COM A PALAVRA:



10 SEGUNDOS PARA ENCONTRAR ALGO ROXO




FALE RÁPIDO:  
TRÊS TIGRES TRISTES



CHAME UM COLEGA PARA JUNTOS DANÇAREM:




CIRCULE O NÚMERO QUE CORRESPONDE À QUANTIDADE DE OBJETOS.



3

5


2



7

4


8



6

2


3



9

6

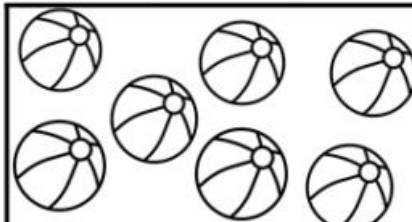
1



5

4

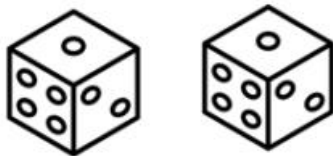
7



7

4


8



3

5

2



1

3

8



Atividades Prontas © Todos os direitos reservados

<https://atividadesprontas.com/>



espacoprofessor

NOME: \_\_\_\_\_

DATA: \_\_\_\_\_

## ATIVIDADE DE MATEMÁTICA

CONTE QUANTAS FIGURAS TEM EM CADA CONJUNTO E PENTE O QUADRADINHO COM NÚMERO CORRESPONDENTE.



9	7
6	5



6	3
5	4



2	5
4	3



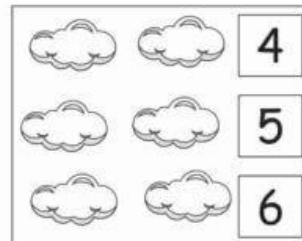
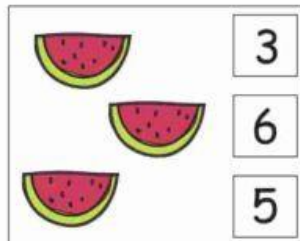
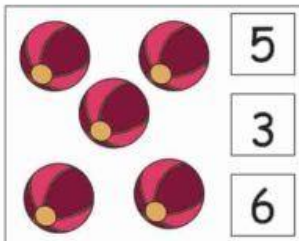
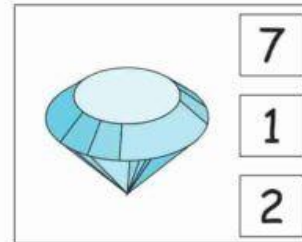
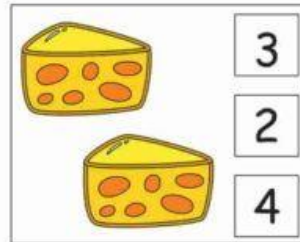
7	6
3	2

NOME: \_\_\_\_\_

DATA: \_\_\_\_\_

www.mestredosaber.com.br

CONTE OS DESENHOS E PINTE O NUMERAL CORRESPONDENTE.



CIRCULE O ANIMAL QUE ESTÁ NA POSIÇÃO DIFERENTE DOS OUTROS.



NUMERE AS ESTRELINHAS.






NOME: \_\_\_\_\_

DATA: \_\_\_\_\_

www.mestredosaber.com.br

PINTE A LETRA INICIAL E COMPLETE A PALAVRA.



G

J

H

ATO




P

F

V

ACA



F

D

S

OL




Q

C

M

ÃO




N

L

T

EÃO



B

S

M


ALA

NOME: \_\_\_\_\_

DATA: \_\_\_\_\_

[www.mestredosaber.com.br](http://www.mestredosaber.com.br)

ESCREVA NOS QUADRINHOS A LETRA INICIAL E FINAL DE CADA PALAVRA.

	LETRA INICIAL <input type="text"/>	PALAVRA <b>BOLA</b>	LETRA FINAL <input type="text"/>
-----------------------------------------------------------------------------------	---------------------------------------	------------------------	-------------------------------------

	LETRA INICIAL <input type="text"/>	PALAVRA <b>CARRO</b>	LETRA FINAL <input type="text"/>
-------------------------------------------------------------------------------------	---------------------------------------	-------------------------	-------------------------------------

	LETRA INICIAL <input type="text"/>	PALAVRA <b>IGREJA</b>	LETRA FINAL <input type="text"/>
-------------------------------------------------------------------------------------	---------------------------------------	--------------------------	-------------------------------------

	LETRA INICIAL <input type="text"/>	PALAVRA <b>URSO</b>	LETRA FINAL <input type="text"/>
-------------------------------------------------------------------------------------	---------------------------------------	------------------------	-------------------------------------

# ATIVIDADES INTERATIVAS

NOME: \_\_\_\_\_

DATA:    /    /



RECORTE E COLE DE  
ACORDO COM AS FIGURAS



ABELHA

CAVALO

ARANHA

SAPO


GALINHA

PORCO

NOME: \_\_\_\_\_

DATA: \_\_\_\_\_

www.mestredosaber.com.br



1

UM

PINTE 1 QUADRADINHO.




CIRCULE O NÚMERO 1.

1 6 5 4 7 9  
5 2 8 6 3 0  
3 7 4 9 8 2 1

NOME: \_\_\_\_\_


DATA: \_\_\_\_\_

www.mestredosaber.com.br


# AS VOGAIS

ESCREVA A LETRA INICIAL DO NOME DE CADA DESENHO.






EU SOU O QUADRADO  
BONITO DE MAIS,  
TENHO QUATRO LADOS  
QUE SÃO TODOS IGUAIS.



EU SOU O RETÂNGULO  
CRESCI MAIS DE UM LADO  
PARA FICAR DIFERENTE  
DO SENHOR QUADRADO.



EU SOU O TRIÂNGULO  
TENHO TRÊS BIQUINHOS  
PARA FAZER CHAPÉUS  
PARA OS PALHACINHOS.



EU SOU O CÍRCULO  
SOU IGUAL À LUA  
SOU O MAIS BONITO  
LÁ DA MINHA RUA.


BLOG: A ARTE DE ENSINAR E APRENDER

TURMA: \_\_\_\_\_ PROFESSOR(A): \_\_\_\_\_

EU SOU: \_\_\_\_\_

## FORMAS GEOMÉTRICAS

CAPRICHE NA PINTURA DO TRENZINHO, SEGUINDO A LEGENDA.



VOCÊ É MUITO INTELIGENTE.  
CAPRICHE NOS ESTUDOS!

BRINCANDO COM FORMAS GEOMÉTRICAS



LIVRE CRIAÇÃO

NOME: \_\_\_\_\_ DATA: \_\_\_\_\_



COPIE E LEIA  
O ALFABETO E MARQUE  
AS LETRAS DO SEU NOME:



A	B	C	D	E	F	G

H	I	J	K	L	M	N

O	P	Q	R	S	T	U


V	W	X	Y	Z

NOME: \_\_\_\_\_

DATA: \_\_\_\_\_

www.mestredosaber.com.br

OBSERVE A ORDEM ALFABÉTICA.



COMPLETE COM AS LETRAS QUE FALTAM.

