



PREFEITURA DA ESTÂNCIA TURÍSTICA DE
IBIÚNA
Por uma Ibiúna próspera. Investindo no presente, gerando o futuro.
SECRETARIA DE EDUCAÇÃO




Rua Raimundo Santiago, nº 27 - Centro
Telefone: (15) 3248-1292/e-mail: apoiopedagogicosmeibiuna@hotmail.com

E.M. “VEREADOR JOSÉ MUNIZ” ATIVIDADES REMOTAS

3º BIMESTRE

Apostila nº11

2021



FONTE: Crianças Que Usam Máscara Médica Protetora Para Prevenir O Vírus Covid 6EF (mungfali.com)

(Referente aos dias: 20,21,22,23,24,25, 27 e 28/09/2021)

IMPORTANTE!

A DEVOLUÇÃO DA APOSTILA SERÁ NOS DIAS 29 E 30/09/2021, NA UNIDADE ESCOLAR!

Aluno: _____ - 3ºA

Profª. Maria Fatima

CAPA

NA FLORESTA, OS ANIMAIS TAMBÉM ESTÃO ANSIOSOS COM O RETORNO DAS AULAS.

1- LEIA O TEXTO ABAIXO E RESPONDA AS QUESTÕES:

A PROFESSORA DA BICHARADA

HOJE DONA CORUJA ESTÁ MUITO FELIZ. AS FÉRIAS ACABARAM E ELA ESTÁ CHEIA DE PLANOS PARA SUAS AULAS.

DONA CORUJA É A PROFESSORA DA BICHARADA. ELA PREPAROU TUDO PARA RECEBER COM CARINHO OS SEUS ALUNOS.

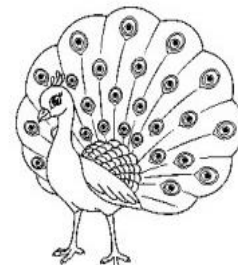


A BICHARADA AMA DONA CORUJA!



ISABEL CRISTINA S. SOARES

A- ESCREVA O TÍTULO DO TEXTO:

B- ESCREVA OS NOMES DOS ANIMAIS ABAIXO E PINTE O ANIMAL QUE É A PROFESSORA DA TURMA:



CIRCULE O NOME DE CADA FIGURA E COPIE ABAIXO:

	MACACO MEIA MOLA MALA
	SAPO SUCO SOFÁ SAPATO
	LUA LEITE LATA LOBO
	LUPA CUBO PATA LEÃO
	VACA BELA VELA CASA
	SALA SOFÁ SÁBADO POTE
	BOLO BULE BOCA BANANA
	DADO DEDO DIA PENA

PADRÕES

1 OBSERVE AS FIGURAS ABAIXO.




- DE ACORDO COM O PADRÃO DA SEQUÊNCIA ACIMA, QUAL É A PRÓXIMA FIGURA DESSA SEQUÊNCIA? E QUAL É A FIGURA DEPOIS DESSA? _____

2 CONTINUE PINTANDO AS SEQUÊNCIAS DE ACORDO COM O PADRÃO DE CADA UMA DELAS.

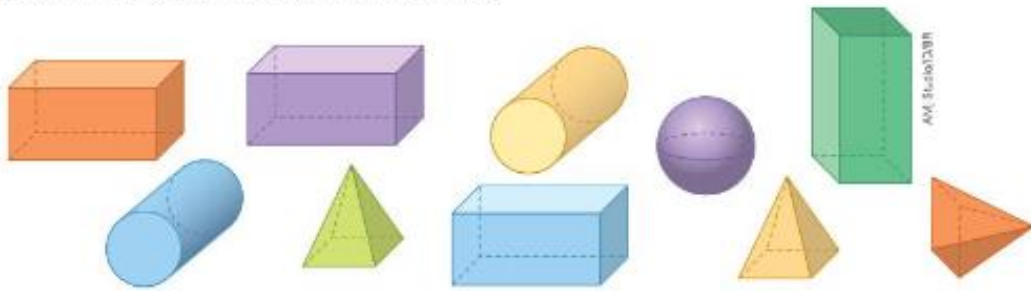


3 PEDRO COMEÇOU A PINTAR UMA MALHA QUADRICULADA. CONTINUE A PINTAR A MALHA SEGUINDO O PADRÃO.



GEOMETRIA

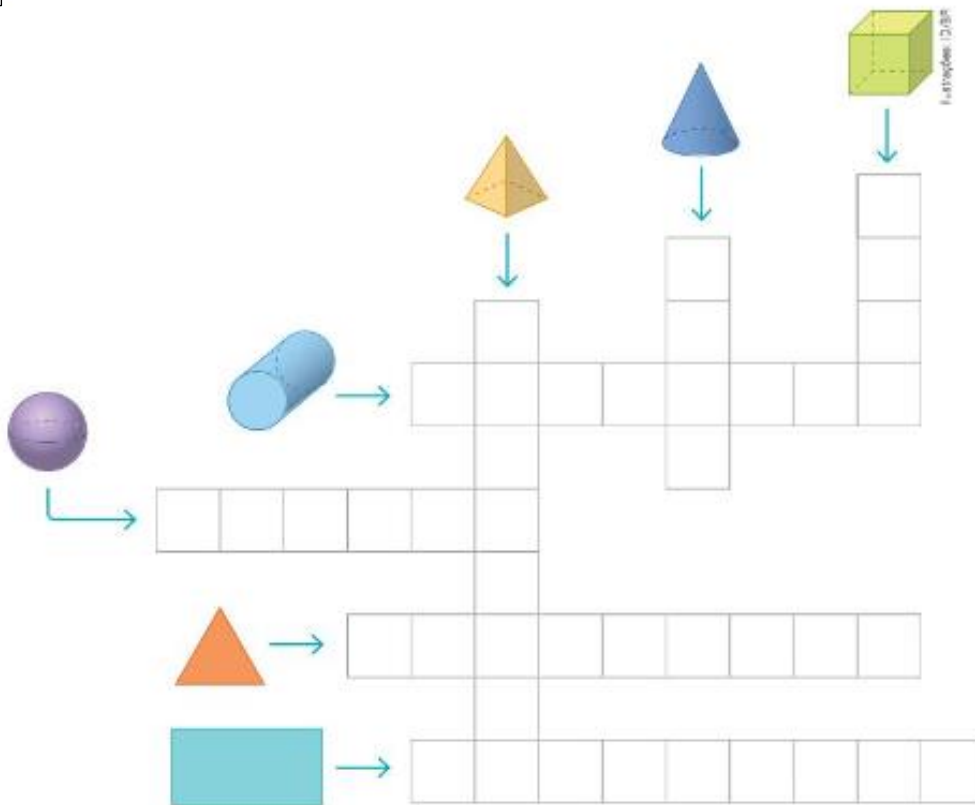
1 OBSERVE AS FIGURAS ABAIXO.



■ PREENCHA O QUADRO COM A QUANTIDADE DE CADA FIGURA ACIMA.

FIGURA	QUANTIDADE
PIRÂMIDE	
ESFERA	
CILINDRO	
PARALELEPÍPEDO	

2 COMPLETE A CRUZADINHA COM O NOME DE CADA FIGURA.



CUBO, CONE, PIRÂMIDE, CILINDRO, ESFERA, TRIÂNGULO E RETÂNGULO

PINTE AS SÍLABAS QUE FORMAM O NOME DE
CADA FIGURA:



SA

DA

BO

NE

GA

TE



CA

SE

ME

TE

LO

LA



MO

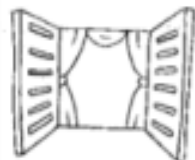
DI

E

TI

MI

DA



FA

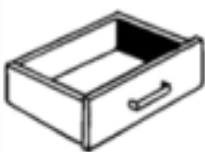
JA

NE

LA

GA

PA



TA

GA

MA

VE

SA

TA



TO

PU

MA

TE

CA

XA



BI

LI

NÓ

CU

LO

VO

LEIA E RESPONDA:

- 1** FERNANDO TRABALHA EM UMA LOJA DE ROUPAS E FEZ UMA TABELA COM AS VENDAS DO SÁBADO. OBSERVE.

VENDAS DO SÁBADO

TIPO DE ROUPA	QUANTIDADE VENDIDA
CAMISETAS	50
CALÇAS	20
VESTIDOS	40

DADOS OBTIDOS POR FERNANDO.

- QUANTAS PEÇAS DE ROUPA FORAM VENDIDAS NO SÁBADO?

- 2** LIGUE AS FICHAS AOS LÁPIS QUE REPRESENTAM AS QUANTIDADES CORRESPONDENTES.

185

1 CENTENA E 20 UNIDADES

174

1 CENTENA, 6 DEZENAS E 3 UNIDADES

120

1 CENTENA, 9 DEZENAS E 1 UNIDADE

163

1 CENTENA E 6 UNIDADES

191

1 CENTENA, 8 DEZENAS E 5 UNIDADES


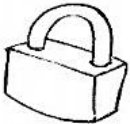
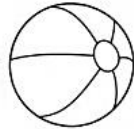
106

1 CENTENA, 7 DEZENAS E 4 UNIDADES


Ilustrações: Leticia Lucena/BRUNN

VAMOS RELEMBRAR A ESCRITA DAS PALAVRAS?

1- Com muita atenção e capricho, escreva os nomes das figuras abaixo:



CALCULE MENTALMENTE E COMPLETE :



$$25 + \text{----} = 31$$



$$77 + \text{----} = 81$$

$$75 + \text{----} = 82$$

$$87 + \text{----} = 92$$

$$13 + \text{----} = 21$$

$$78 + \text{----} = 85$$

$$69 + \text{----} = 75$$

$$13 + \text{----} = 22$$

$$56 + \text{----} = 63$$

$$37 + \text{----} = 43$$

$$84 + \text{----} = 93$$

$$29 + \text{----} = 35$$

$$62 + \text{----} = 71$$

$$53 + \text{----} = 62$$


$$68 + \text{----} = 73$$

$$35 + \text{----} = 41$$

REESCREVA AS FRASES, SUBSTITUINDO OS DESENHOS POR SEUS
RESPECTIVOS NOMES:

PAULA APAGOU A  DO  .

A  USA  .


O  É PELUDO.

A  TEM UMA  ROSA.

MAMÃE FEZ SALADA DE  E  .

O  É DO  .

PINTE AS ESTRELAS DE ACORDO COM AS RESPOSTAS CORRETAS:



PINTE DE:

- AZUL O NÚMERO QUE REPRESENTA 1 DEZENA.
- ROSA O ANTECESSOR DE 41 E O SUCESSOR DE 39.
- VERDE O RESULTADO DA SOMA DE $20 + 36$.
- VERMELHO O NÚMERO QUE REPRESENTA 1 DÚZIA.
- AMARELO 7 DEZENAS E NOVE UNIDADES
- ROXO MEIA DÚZIA.
- LARANJA TRÊS DEZENAS.

REFERÊNCIAS BIBLIOGRÁFICAS

APRENDER JUNTOS – Língua Portuguesa 2. São Paulo. Edições SM Ltda

Blog Educação e Transformação: 👍 Apostila Volta às Aulas: 1° ao 5°
ano(educacaoetransformacaooficial.blogspot.com)

<https://i0.wp.com/www.imageneseducativas.com/wp-content/uploads/2020/02/C%C3%81LCULO-MENTAL-3.png?resize=400%2C300&ssl=1>