




Prefeitura da Estância Turística de
IBIÚNA
TRANSFORMAÇÃO RESPONSÁVEL. CUIDANDO DE PESSOAS.



E.M “BENEDITO LUIZ BRAGA”

Atividades Remotas



Nome do aluno:

3º Ano

Período das atividades: 29/09 a 08/10/2021

Data de devolução: 07/10/2021

Professora Vânia Morais

E.M. "Benedito Luiz Braga"

Atividades de Língua Portuguesa

Prof.ª: Vânia Morais

Data: 29/09/2021

Nome do aluno:

3º Ano "A"

REALIZE A LEITURA!

O Direito das Crianças – Ruth Rocha

Toda criança no mundo
Deve ser bem protegida
Contra os rigores do tempo
Contra os rigores da vida.

Criança tem que ter nome
Criança tem que ter lar
Ter saúde e não ter fome
Ter segurança e estudar.



Não é questão de querer
Nem questão de concordar
Os direitos das crianças
Todos têm de respeitar.

Tem direito à atenção
Direito de não ter medos
Direito a livros e a pão
Direito de ter brinquedos.

Mas criança também tem
O direito de sorrir.
Correr na beira do mar,
Ter lápis de colorir...

Ver uma estrela cadente,
Filme que tenha robô,
Ganhar um lindo presente,
Ouvir histórias do avô.

Descer do escorregador,
Fazer bolha de sabão,
Sorvete, se faz calor,
Brincar de adivinhação. [...]



Atividades
PEDAGÓGICAS
SUZANA

E.M. "Benedito Luiz Braga"

Atividades de Língua Portuguesa

Prof.ª: Vânia Morais

3º Ano "A"

Data: 30/09/2021

Nome do aluno:

RELEMBRANDO

1. Leia as frases e complete as palavras usando ge, gi, je, ji.

a) Não gostava de comer berin__la, agora gosto.



b) Coloquei a torta na ____ladeira.

c) O dentista disse que minha gen____va está machucada.

d) Mamãe usou man____ricão para temperar a comida.

e) Os an____nhos estão no céu.



f) Você anotou em sua a____nda?

g) Fiquei cansada com a aula de ____nástica de hoje!

h) A la____ do segundo andar está dando goteira.

i) O ____pe não atolou na lama.



j) A ____elatina precisa ficar mais tempo no refrigerador.

k) No reló____o da cozinha marcava 12:00.

l) A in____ção nem doeu, foi rápida.



m) Você gosta de ____ló?

n) Ele estava muito a____tado para começar a jogar.

o) Qual o preço da massa____m relaxante?

p) Os emo____s são usados na comunicação da internet.

E.M. “Benedito Luiz Braga”

Atividades de Língua Portuguesa

Prof.ª: Vânia Moraes

3º Ano “A”

Data: 30/09/2021

Nome do aluno:

Crie 5 frases usando as sílabas: GE, GI, JE e JI

1-
2-
3-
4-
5-

Você pode desenhar neste espaço.

Relembrando

Mix ortográfico

1- Complete com X ou CH.

- | | | |
|------------------|-----------------|--------------------|
| a) _____ ifre | e) fle _____ a | i) fa _____ ineiro |
| b) li _____ eira | f) pei _____ e | j) _____ icara |
| c) _____ iqueiro | g) _____ uveiro | k) _____ arope |
| d) _____ umbo | h) _____ iote | l) _____ aveiro |

2- Complete com M ou N.

- | | | |
|--------------------|------------------|----------------|
| a) ba _____ deira | f) viagem _____ | k) ta _____ pa |
| b) la _____ terna | g) vo _____ tade | l) sa _____ ba |
| c) bo _____ bom | h) u _____ bigo | m) ca _____ po |
| d) fa _____ tasia | i) la _____ pião | n) ve _____ to |
| e) em _____ brulho | j) já _____ tar | o) ge _____ te |

3- Complete com G ou J.

- | | |
|--------------------|---------------------|
| a) ma _____ estade | f) _____ eito |
| b) _____ ente | g) sar _____ eta |
| c) can _____ ica | h) _____ eleia |
| d) ti _____ ela | i) berin _____ eila |
| e) _____ iló | j) _____ irassol |

4- Complete com LH ou Li.

- | | |
|------------------|-------------------|
| a) jú _____ o | f) famí _____ a |
| b) coa _____ ada | g) ju _____ o |
| c) a _____ o | h) domicí _____ o |
| d) te _____ a | i) mi _____ o |
| e) brasí _____ a | j) ma _____ a |



Data: 01/10/2021

Faça o cálculo mental e preencha a tabela.

NOME: _____



Cálculo mental

Número	mais 10	mais 20	mais 100	menos 200
387				
526				
680				
125				
465				
227				
709				

E.M. "Benedito Luiz Braga"

Atividades de Língua Portuguesa

Prof.ª: Vânia Morais

3º Ano "A"

Data: 04/10/2021

Nome do aluno:

Ditado de palavras

1-	7-
2-	8-
3-	9-
4-	10-
5-	11-
6-	12-

Você pode desenhar no espaço abaixo.

VAMOS RESOLVER AS MULTIPLICAÇÕES?

$$\begin{array}{r} 72 \\ \times 1 \\ \hline \end{array}$$

$$\begin{array}{r} 82 \\ \times 1 \\ \hline \end{array}$$

$$\begin{array}{r} 20 \\ \times 2 \\ \hline \end{array}$$

$$\begin{array}{r} 41 \\ \times 2 \\ \hline \end{array}$$

$$\begin{array}{r} 32 \\ \times 2 \\ \hline \end{array}$$

$$\begin{array}{r} 10 \\ \times 2 \\ \hline \end{array}$$

$$\begin{array}{r} 13 \\ \times 2 \\ \hline \end{array}$$


$$\begin{array}{r} 95 \\ \times 1 \\ \hline \end{array}$$

$$\begin{array}{r} 34 \\ \times 2 \\ \hline \end{array}$$

$1 \times 0 = 0$
 $1 \times 1 = 1$
 $1 \times 2 = 2$
 $1 \times 3 = 3$
 $1 \times 4 = 4$
 $1 \times 5 = 5$
 $1 \times 6 = 6$
 $1 \times 7 = 7$
 $1 \times 8 = 8$
 $1 \times 9 = 9$
 $1 \times 10 = 10$



$2 \times 0 = 0$
 $2 \times 1 = 2$
 $2 \times 2 = 4$
 $2 \times 3 = 6$
 $2 \times 4 = 8$
 $2 \times 5 = 10$
 $2 \times 6 = 12$
 $2 \times 7 = 14$
 $2 \times 8 = 16$
 $2 \times 9 = 18$
 $2 \times 10 = 20$



E.M. "Benedito Luiz Braga"

Atividades de Matemática

Prof.ª: Vânia Morais

3º Ano "A"

Data: 05/10/2021

Nome do aluno:

VAMOS RESOLVER AS MULTIPLICAÇÕES?

$$\begin{array}{r} 12 \\ \times 4 \\ \hline \end{array}$$

$$\begin{array}{r} 21 \\ \times 4 \\ \hline \end{array}$$

$$\begin{array}{r} 10 \\ \times 4 \\ \hline \end{array}$$

$$\begin{array}{r} 20 \\ \times 4 \\ \hline \end{array}$$


$$\begin{array}{r} 11 \\ \times 4 \\ \hline \end{array}$$

$$\begin{array}{r} 31 \\ \times 3 \\ \hline \end{array}$$

$$\begin{array}{r} 23 \\ \times 3 \\ \hline \end{array}$$

$$\begin{array}{r} 10 \\ \times 3 \\ \hline \end{array}$$


$$\begin{array}{r} 12 \\ \times 3 \\ \hline \end{array}$$



$3 \times 0 = 0$
$3 \times 1 = 3$
$3 \times 2 = 6$
$3 \times 3 = 9$
$3 \times 4 = 12$
$3 \times 5 = 15$
$3 \times 6 = 18$
$3 \times 7 = 21$
$3 \times 8 = 24$
$3 \times 9 = 27$
$3 \times 10 = 30$



$4 \times 0 = 0$
$4 \times 1 = 4$
$4 \times 2 = 8$
$4 \times 3 = 12$
$4 \times 4 = 16$
$4 \times 5 = 20$
$4 \times 6 = 24$
$4 \times 7 = 28$
$4 \times 8 = 32$
$4 \times 9 = 36$
$4 \times 10 = 40$



E.M. "Benedito Luiz Braga"

Atividades de Língua Portuguesa

Prof.ª: Vânia Moraes

3º Ano "A"


Data: 05/10/2021

Nome do aluno:

NH – CH – LH

LEIA AS ADIVINHAS E ESCREVA AS RESPOSTAS.

INSETO QUE PRODUZ MEL



CAI EM PÉ E CORRE DEITADA

É A FÊMEA DO GALO



É UMA DELÍCIA DE ALIMENTO QUE DO CACAU É FEITO



É O FILHOTE DA GALINHA



DELE SÃO FEITOS O FUBÁ E A PAMONHA



DIZEM QUE ELE É O MELHOR AMIGO DO HOMEM



@Atividades Suzano

Ortografia... ch lh nh

1-Circule nas palavras abaixo, as sílabas com: ch, lh e nh.



cachorro



aranha



chapéu



ovelha



galinha



joaninha



abelha



chave



ninho



ilha

2-Classifique as palavras acima de acordo com a sílaba em destaque:

ch

lh

nh

E.M. "Benedito Luiz Braga"

Atividades de Matemática

Prof.^ª: Vânia Morais

3º Ano "A"

Data: 06/10/2021

Nome do aluno:

Descubra os resultados e pinte da cor correta.

9x6

9x6

8x9

9x10

9x8

10x9

8x9

9x10

9x8

7x9

9x9

9x7

9x9

9x9

7x9

9x9

9x7

9x8

8x9

9x5

9x8

5x9

8x9

2x9

5x9

8x9

9x5

9x8

9x4

3x9

4x9

4x9

9x3

3x9

4x9

9x3

6x9

3x9

6x9

9x6

6x9

9x6

2x9

9x2

6x9

2x9

9x2

2x9

9x2

9x2

9x10

18 27 36 45 54 63 72 81 90

E.M. "Benedito Luiz Braga"

Atividades de Língua Portuguesa

Prof.ª: Vânia Morais

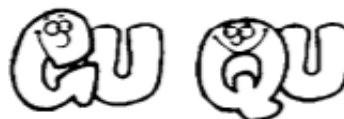
3º Ano "A"

Data: 07/10/2021

Nome do aluno:



QUAL
É A LETRA?



COMPLETE AS PALAVRAS DAS FRASES USANDO "GU" OU "QU".

EN ANTO AS CRIANÇAS BRINCAVAM DE EIMADA NA ADRA,
NÓS FICAMOS OLHANDO O BAR INHO QUE NAVEGAVA CALMAMENTE
PELA LAGOA.

A MÃE DE ILHERME COMPROU UM A ÁRIO PARA DECORAR
O ARTO DELE.

TODOS FICARAM PREOCUPADOS COM A ALIDADE DO IBE COM
 EIJO SERVIDO NO JANTAR.

O PE ENO HENRI E ESTÁ ANSIOSO PARA GANHAR UMA
 ITARRA DE BRIN EDO.

DONA IOMAR FICOU PREOCUPADA ANDO CAÍQUE SUBIU
PARA APANHAR MANGAS NA MAN EIRA.

TÉRIA ERIA COMER EIJO COALHO NO ESPETO, MAS
 ANDO FOI COMER ESTAVA MUITO ENTE.

TODOS OS ARANÁS ESTÃO ARDADOS PARA A FESTA DO
A INALDO NA PRÓXIMA INTA- FEIRA.

MÚLTIPLICAÇÃO COM SISTEMA MONETÁRIO

Faça a multiplicação das quantias do grupo de notas e dê o resultado.





$\times =$



$\times =$



$\times =$



$\times =$



$\times =$



$\times =$



$\times =$

E.M. “Benedito Luiz Braga”

Atividades de Matemática

Prof.ª: Vânia Moraes

3º Ano “A”

Data: 08/10/2021

Nome do aluno:

DESAFIO DIA DAS CRIANÇAS

Postar fotos dos desafios enviados pela professora no grupo da sala.

As orientações serão enviadas pela professora.