

ATIVIDADES DE REPOSIÇÃO 12  
PERÍODO DE DISTANCIAMENTO SOCIAL (QUARENTENA) COVID 19

# Dia das Crianças



ESCOLA MUNICIPAL: EM JOÃO JOSÉ DA SILVA  
2º FASE A

PROFESSORA: MAIARA ROSA

DIAS: 29 E 30 DE SETEMBRO

01,04,05,06,07 E 08 DE OUTUBRO

CONFORME ORIENTAÇÕES PEDAGÓGICAS Nº 01 - 29 DE JANEIRO DE 2021

CRONOGRAMA

DATA: 29/09  
QUANTIDADES DE OVOS  
DEDOS

DATA: 30/09  
ANTECESSOR E SUCESSOR  
NÚMEROS

DATA: 01/10  
DIA E NOITE  
DIAS DA SEMANA

DATA: 04/10  
MARIA E AS MAÇAS  
ONTEM, HOJE E AMANHÃ

DATA: 05/10  
PASSADO, PRESENTE E FUTURO  
RECONHECIMENTO

DATA: 06/10  
FRUTAS  
UNIDADE E DEZENAS



DATA: 07/10  
UNIDADE  
DEZENA

DATA: 08/10  
BRINCADEIRAS

NOME: \_\_\_\_\_ DATA: 29/09/21

**ATIVIDADE 01**

CONTE OS OVOS QUE CADA GALINHA BOTOU E PINTE O NÚMERO QUE REPRESENTA ESSA QUANTIDADE.



AGORA, EM CADA CASO, CIRCULE O NÚMERO MAIOR


NOME: \_\_\_\_\_ DATA: 29/09/21

### ATIVIDADE 02


LIGUE AS MÃOS AOS NUMEROS CORRESPONDENTES.



0



1




2

3




4



5

6



7



8



9



NOME: \_\_\_\_\_ DATA:30/09/21

**ATIVIDADE 03**

OBSERVE A ORDEM DOS NÚMEROS. DEPOIS, COMPLETE AS SEQUÊNCIAS COM OS NÚMEROS QUE ANTECEDEM E SUCEDEM OS NÚMEROS EM DESTAQUE NOS QUADROS.

	5	
	2	
	8	
	7	
	4	
	3	
	6	

NOME: \_\_\_\_\_ DATA:30/09/21

**ATIVIDADE 04**

FALE O NOME DE CADA NÚMERO.

1 5 6 7 9 3

AGORA, FALE OS NÚMEROS NA SEQUÊNCIA EM QUE APARECEM O MAIS RÁPIDO QUE CONSEGUIR.

6 7 2 7 3 6

4 8 2 1 8 7

3 6 9 8 7 4

5 2 3 4 5 7

### ATIVIDADE 05

#### DIA E NOITE

– VOCÊ SABIA QUE UM DIA TEM 24 HORAS?

ODIA TEM UMA PARTE CLARA, QUE É A MANHÃ E A TARDE, E UMA PARTE ESCURA, QUE É A NOITE E MADRUGADA.

VÁ ATÉ A JANELA E OBSERVE SE ESTÁ CLARO OU ESCURO.

O QUE VOCÊ VIU NO CÉU? QUAL PARTE DO DIA É AGORA?



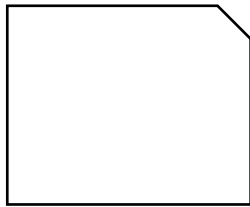
OBSERVE AS CENAS E FAÇA UM DESENHO NOS QUADRINHOS, DE ACORDO COM A LEGENDA, PARA RESPONDER SE VOCÊ FAZ ESTAS ATIVIDADES DE DIA OU DE NOITE.



DURANTE O DIA



DURANTE A NOITE



NOME: \_\_\_\_\_ DATA: 01/10/21

### ATIVIDADE 06

#### DIAS DA SEMANA

UMA SEMANA TEM 7 DIAS, E CADA DIA TEM UM NOME: **DOMINGO**, **SEGUNDA-FEIRA**, **TERÇA-FEIRA**, **QUARTA-FEIRA**, **QUINTA-FEIRA**, **SEXTA-FEIRA** E **SÁBADO**.

OBSERVE O VARAL QUE MOSTRA O NOME DOS **DIAS DA SEMANA** E O **CLIMA** DE CADA DIA.



NESSA SEMANA TIAGO FOI À PRAIA SOMENTE EM DIAS ENSOLARADO.

PINTE OS QUADRINHOS DO **GRÁFICO** DE ACORDO COM O CLIMA QUE APARECE NO VARAL.

<b>DOMINGO</b>			
<b>SEGUNDA-FEIRA</b>			
<b>TERÇA-FEIRA</b>			
<b>QUARTA-FEIRA</b>			
<b>QUINTA-FEIRA</b>			
<b>SEXTA-FEIRA</b>			
<b>SÁBADO</b>			
			

QUANTOS DIAS TIAGO FOI À PRAIA NESTA SEMANA?



NOME: \_\_\_\_\_ DATA: 04/10/21

### ATIVIDADE 07

– ESTA É A MARIA! ELA GOSTA MUITO DE COMER MAÇA, ELA LEVA MAÇA PARA COMER O LANCHE DA ESCOLA TODOS OS DIAS EM QUE TEM AULA.



DESENHE UMA MAÇÃ EM CADA DIA DA SEMANA QUE MARIA TEM AULA E LEVA MAÇÃ PARA O LANCHE.

DOMINGO	SEGUNDA	TERÇA	QUARTA	QUINTA	SEXTA	SÁBADO

QUANTAS MAÇÃS MARIA COME DURANTE A SEMANA? E NO FIM DE SEMANA?  
QUAL FRUTA VOCÊ MAIS GOSTA DE COMER E EM QUAL DIA DA SEMANA?

DESENHE A FRUTA QUE VOCÊ GOSTA DE COMER NO DIA DA SEMANA EM QUE COSTUMA COMÊ-LA.

DOMINGO	SEGUNDA	TERÇA	QUARTA	QUINTA	SEXTA	SÁBADO

NOME: \_\_\_\_\_ DATA: 04/10/21

### ATIVIDADE 08

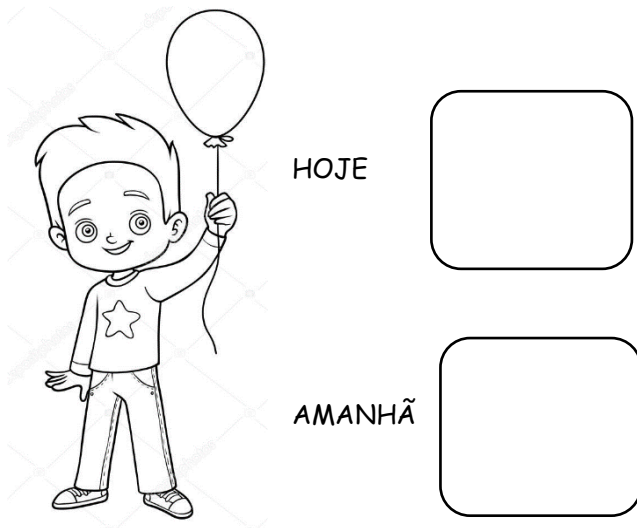
ONTEM, HOJE E AMANHÃ

ANTÔNIO TEM 4 ANOS **HOJE** E FARÁ ANIVERSÁRIO **AMANHÃ**.

QUANTOS ANOS ELE TERÁ **AMANHÃ**?

ESCREVA NOS QUADRINHOS A IDADE DE ANTÔNIO **HOJE** E **AMANHÃ**.

QUAL É A MAIOR IDADE: A DE **HOJE** OU A DE **AMANHÃ**?



AGORA, SEGUINDO A LEGENDA, MARQUE NO CALENDÁRIO ABAIXO OS DIAS DA SEMANA DE ACORDO COM O DIA DE **HOJE**.



ONTEM



HOJE



AMANHÃ

DOMINGO	SEGUNDA	TERÇA	QUARTA	QUINTA	SEXTA	SÁBADO

NOME: \_\_\_\_\_ DATA: 05/10/21

### ATIVIDADE 09

PASSADO, PRESENTE E FUTURO

VOCÊ JÁ NASCEU DESSE TAMANHO?

COMO VOCÊ É HOJE? E COMO VOCÊ ERA NO PASSADO?

COMO ACHA QUE VOCÊ SERÁ NO FUTURO?

O TEMPO PASSA E AS PESSOAS MUDAM, CRESCEM, SE DESENVOLVEM E APRENDEM COISAS NOVAS.

OBSERVE AS FOTOGRAFIAS DE CAROLINA NO PASSADO, QUANDO ELA ERA BEBÊ E QUANDO TINHA 2 ANOS DE IDADE. DEPOIS, OBSERVE A FOTOGRAFIA DELA NO PRESENTE, COM 5 ANOS DE IDADE.

AGORA, ESCOLHA UMA IDADE NO FUTURO PARA CAROLINA E DESENHE A COM ESSA IDADE.




BEBÊ



COM 2 ANOS



COM 5 ANOS



COM \_\_\_\_\_

ANOS

NOME: \_\_\_\_\_ DATA:05/10/21

## ATIVIDADE 10

RECOLHIMENTO E INTERPRETAÇÃO DE DADOS

QUAL É SEU ESPORTE PREFERIDO?

UMA TURMA DA ESCOLA FEZ UMA VOTAÇÃO PARA SABER O ESPORTE PREFERIDO DAS CRIANÇAS. OS VOTOS FORAM REGISTRADOS EM UMA TABELA.

OBSERVE A TABELA. ELA INDICA OS ESPORTES VOTADOS E CADA RISQUINHO CORRESPONDE AO VOTO DE UMA CRIANÇA.

ESPORTE	VOTOS	TOTAL
SURF		3
NATAÇÃO		5
JUDÔ		2
FUTEBOL		4
VÔLEI		1

QUAL ESPORTE FOI **MAIS** VOTADO?

QUAIS ESPORTES TIVERAM A **MESMA QUANTIDADE** DE VOTOS?

QUAL ESPORTE FOI **MENOS** ESCOLHIDO?

QUANTOS FORAM OS ESPORTES VOTADOS?

NOME: \_\_\_\_\_ DATA:06/10/21

### ATIVIDADE 11




JUNINHO ESTÁ LAVANDO AS FRUTAS PARA FAZER UMA SALADA DE FRUTAS.

QUE FRUTA ELE ESTA LAVANDO E QUE FRUTA ELE JÁ LAVOU?

O QUE ELE ESTÁ USANDO PARA DEIXAR AS FRUTAS LIMPINHAS?



NO GRÁFICO ABAIXO, MARQUE COM UM X UM QUADRINHO PARA CADA FRUTA QUE JUNINHO TEM. DEPOIS, PINTE DE AZUL O QUADRINHO DE CADA FRUTA LAVADA E DE VERMELHO O QUADRINHO DE CADA FRUTA QUE AINDA FALTA LAVAR.

			
			
			
	<b>1</b>	<b>2</b>	<b>3</b>

QUANTAS FRUTAS ELE JÁ LAVOU?

ALGUMA FRUTA NÃO PRECISA SER LAVADA? PORQUÊ?

QUANTAS FRUTAS ELE USARÁ PARA A SALADA DE FRUTAS?


NOME: \_\_\_\_\_ DATA:06/10/21

### ATIVIDADE 12

UNIDADES E DEZENAS

QUANTAS BONECAS HÁ?

PINTE 2 BONECAS.



VOCÊ PINTOU 2 ELEMENTOS.

VOCÊ PINTOU 2 UNIDADES DE BONECA.

CADA ELEMENTO RECEBE O NOME DE UNIDADE.


CIRCULE 3 UNIDADES DE CARRINHO.




NOME: \_\_\_\_\_ DATA: 07/10/21

### ATIVIDADE 13


PINTE UM QUADRINHO PARA CADA UNIDADE, DEPOIS ESCREVA O NÚMERO CORRESPONDENTE NA LINHA.




\_\_\_\_\_




\_\_\_\_\_





\_\_\_\_\_

NOME: \_\_\_\_\_ DATA: 07/10/21

**ATIVIDADE 14**

**PINTE 10 CARRINHOS**




**VOCÊ PINTOU 10 UNIDADES DE CARRINHO.**

**VOCÊ PINTOU 1 DEZENA DE CARRINHOS.**

**10 UNIDADES FORMAM 1 DEZENA.**

**AGORA CIRCULE APENAS UMA DEZENA DE COROAS**





NOME: \_\_\_\_\_ DATA:08/10/21

## ATIVIDADE 15

O DIA DAS CRIANÇAS ESTÁ CHEGANDO.

ASSISTA O VIDEO QUE A PROFESSOR IRÁ ENVIAR, ESCOLHA DUAS BRINCADEIRAS DO VIDEO PARA FAZER COM SEU FILHO, TIRE FOTOS E APROVEITE O DIA DAS CRIANÇAS JUNTOS.



SEGUE O LINK PARA O VIDEO: <https://www.youtube.com/watch?v=nbiMov3Zo1k>

REFERÊNCIA

LIVRO ADOLETÁ - VILZA CARLA

PATRÍCIA BOTELHO DA SILVA

EDITORA DO BRASIL

<https://www.youtube.com/watch?v=nbiMov3Zo1k>