



PREFEITURA DA ESTÂNCIA TURÍSTICA DE
IBIÚNA

Por uma Ibiúna próspera. Investindo no presente, gerando o futuro.

SECRETARIA DE EDUCAÇÃO

Rua Raimundo Santiago, nº 27 - Centro

Telefone: (15) 3248-1292/e-mail: apoiopedagogicosmeibiuna@hotmail.com



EM. "PROFESSORA INÊS NUNES MAKIYAMA".

NOME DO ALUNO (A): _____

SÉRIE: 2º ANO – C

PROFESSORA: ALINE

APOSTILA 12 REFERENTE AOS DIAS: 29 e 30 DE SETEMBRO 01,04, 05, 06, 07 e 08 de OUTUBRO



DATA PARA A DEVOLUÇÃO DA APOSTILA 12

SERÁ NO DIA 07 DE OUTUBRO.



A CHUVA QUE CHEGOU

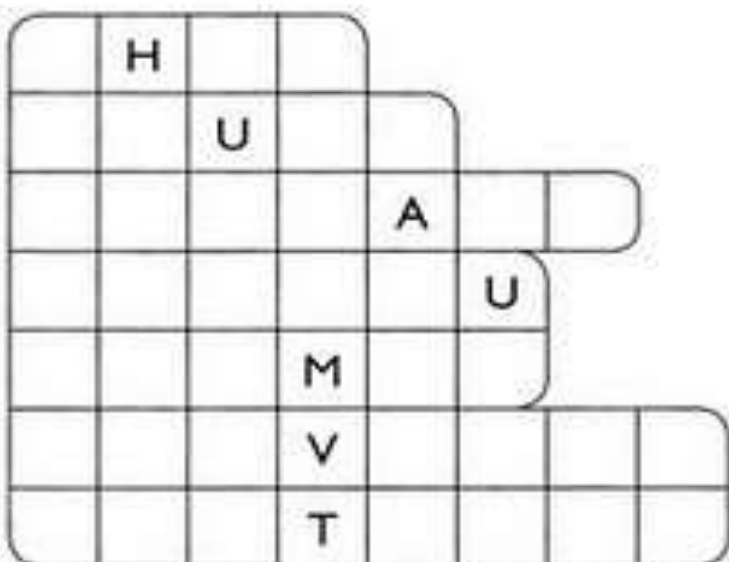
Já fazia seis dias...
E a chuva não chegava.
O jardim esperava por ela,
Mas ela só ameaçou.

O chão estava muito seco.
Nem um chuvisco caiu.
A margarida ficou chateada,
E a chuva logo chamou:
— Chuva! Chuva! Chega logo!
A margarida ficou feliz
Com a chuva que chegou.

Graça Batituci



- 1) Circule, no poema, as palavras com **CH** e encaixe-as no diagrama, de acordo com o número de letras.



EM. "PROFESSORA INÊS NUNES MAKIYAMA".

IBIÚNA, 29 DE SETEMBRO DE 2021.

Prof.ª. ALINE

NOME: _____

PROCURE, NO QUADRO ABAIXO, AS PALAVRAS EM DESTAQUE E PINTE – AS COM CORES DIFERENTES:

**CHOCALHO – CHEFE – CHAPA – CACHIMBO – CHÁ – BICHO –
CACHOEIRA – CHÃO – CHUTEIRA**

S	R	V	C	H	Á	Y	B	I	C	H	O	N
J	C	A	C	H	O	E	I	R	A	T	V	A
C	H	Ã	O	K	C	H	U	T	E	I	R	A
R	X	M	A	J	C	H	O	C	A	L	H	O
C	H	E	F	E	V	B	C	H	A	P	A	E
P	V	C	A	C	H	I	M	B	O	Y	K	Z



2) Agora, complete as frases com algumas das palavras acima.

- a) Tomei um banho de _____.
- b) O _____ do meu pai é seu amigo.
- c) O bebê brinca com o _____.
- d) Tomei _____ com bolacha, no lanche.
- e) Minha _____ é nova.



EM. "PROFESSORA INÊS NUNES MAKIYAMA".

IBIÚNA, 30 DE SETEMBRO DE 2021.

Prof.ª. ALINE

NOME: _____



CONVITE DE ANIVERSÁRIO

- 1) Imagine que você vá comemorar o seu aniversário com uma linda festa. Escreva, no convite abaixo, as informações necessárias.

CONVITE

No dia _____ de _____ vou
completar _____ anos.
Ficarei feliz com a sua presença
em minha festa.

Hora: _____

Endereço: _____



- 2) Escreva os nomes dos presentes que você gostaria de ganhar no dia do seu aniversário.

Da mamãe: _____

Do papai: _____

Da madrinha: _____

Dos amigos: _____

EM. "PROFESSORA INÊS NUNES MAKIYAMA".

IBIÚNA, 30 DE SETEMBRO DE 2021.

Prof.ª. ALINE

NOME: _____

MATEMÁTICA

SISTEMA MONETÁRIO

O nome do nosso dinheiro é chamado **Real**. Seu símbolo é **R\$**.
As quantias menores do real são chamadas centavos.
O real pode ser encontrado em cédulas ou moedas

1. Escreva o nome das cédulas que estão abaixo.



2. Observe o valor que Marcos e Jeremias possuem e pinte os produtos que eles podem comprar com esses valores.

Marcos 4 coins (5, 5, 5, 5)	 5 reais	 3 reais	 2 reais	 1 real
Jeremias 10 Real banknote	 5 reais	 3 reais	 2 reais	 1 real

3. Escreva o nome das moedas ilustradas abaixo:



4. Conte e registre o valor em dinheiro que cada criança possui:

BRUNO 10 Real banknote, 5 Real banknote, 2 Real banknote, 2 Real banknote	CLARA 5 Real banknote, 5 Real banknote, 5 Real banknote, 5 Real banknote	JÉSSICA 10 Real banknote, 10 Real banknote, 5 Real banknote
R\$ _____	R\$ _____	R\$ _____

AGORA RESPONDA:

- A) QUAL CRIANÇA TEM O MENOR NÚMERO DE CÉDULAS? _____
- B) QUAL CRIANÇA POSSUI O MENOR VALOR EM DINHEIRO? _____
- C) QUAL CRIANÇA POSSUI MAIOR VALOR EM DINHEIRO? _____

@VIDA DE PROFESSOR

CALENDÁRIO

ANO : _____ MÊS: _____

OBSERVE O CALENDÁRIO E RESPONDA O QUE SE PEDE.

OUTUBRO

DOMINGO	SEGUNDA	TERÇA	QUARTA	QUINTA	SEXTA	SÁBADO

1- QUANTOS DIAS TEM O MÊS DE OUTUBRO?

→

2 - EM QUE DIA DA SEMANA INICIOU O MÊS OUTUBRO?

3 - QUE DATAS COMEMORATIVAS HÁ NESSE MÊS?

4 - PINTA NO CALENDÁRIO ESSAS DATAS.

5 - QUANTOS DOMINGOS HAVERÁ EM OUTUBRO?

→

6 - HÁ ALGUM COLEGA DA SALA DE AULA QUE FAZ ANIVERSÁRIO EM OUTUBRO? QUEM? DESENHE UM BALÃO NA DATA DE ANIVERSÁRIO DE CADA COLEGA.





OS BRINQUEDOS DE TOBIAS

1) Tobias guarda seus brinquedos em um baú. Circule, no quadro abaixo, os nomes dos brinquedos que faltam para ele guardar. Já comecei...

pião sapato moto peteca

bola patins mola lua

boné sabonete banana

jogos tapete pipa carrinho



2) Dos brinquedos que você circulou, com qual deles você gostaria de brincar? Faça o desenho e complete a frase com o nome do brinquedo.

Eu gostaria de brincar com _____.




PIOLHO, NÃO!

1) Leia o anúncio e, depois, responda:

QUER ACABAR COM O PIOLHO?

Use **PIDIOLHO**



Mata piolhos e lêndeas
É barato e vale muito...
Passe com algodão molhado na
cabeça e lave após meia hora.

a) Qual é o nome do medicamento?

b) Para que ele é usado?

c) Como se deve usar o medicamento?

2) Adivinhe: O que é, o que é que anda com os pés na cabeça?

Resposta: piolho

SEQUÊNCIA DIDÁTICA 2 – A BRINQUEDOTECA DA ESCOLA

AULA 1 – URSINHOS E ROBÔS

O QUE VAMOS APRENDER?

NESTA AULA, VAMOS APRENDER A CONTAR OBJETOS DE DUAS COLEÇÕES PARA INDICAR A DIFERENÇA DE QUANTIDADE ENTRE ELAS.

1. NA BRINQUEDOTECA DA ESCOLA HÁ UMA COLEÇÃO DE URSINHOS DE PELÚCIA E OUTRA DE ROBÔS. VEJA A REPRESENTAÇÃO DESSAS COLEÇÕES:

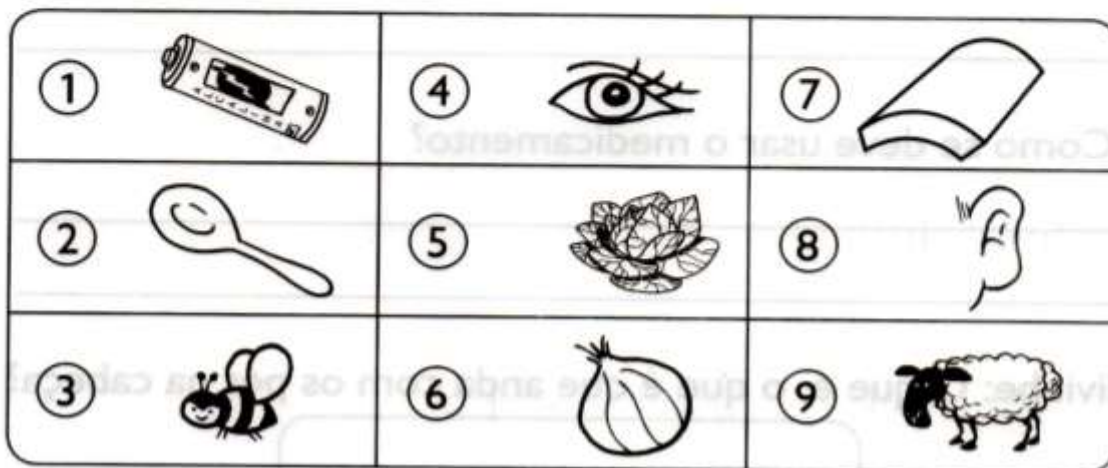
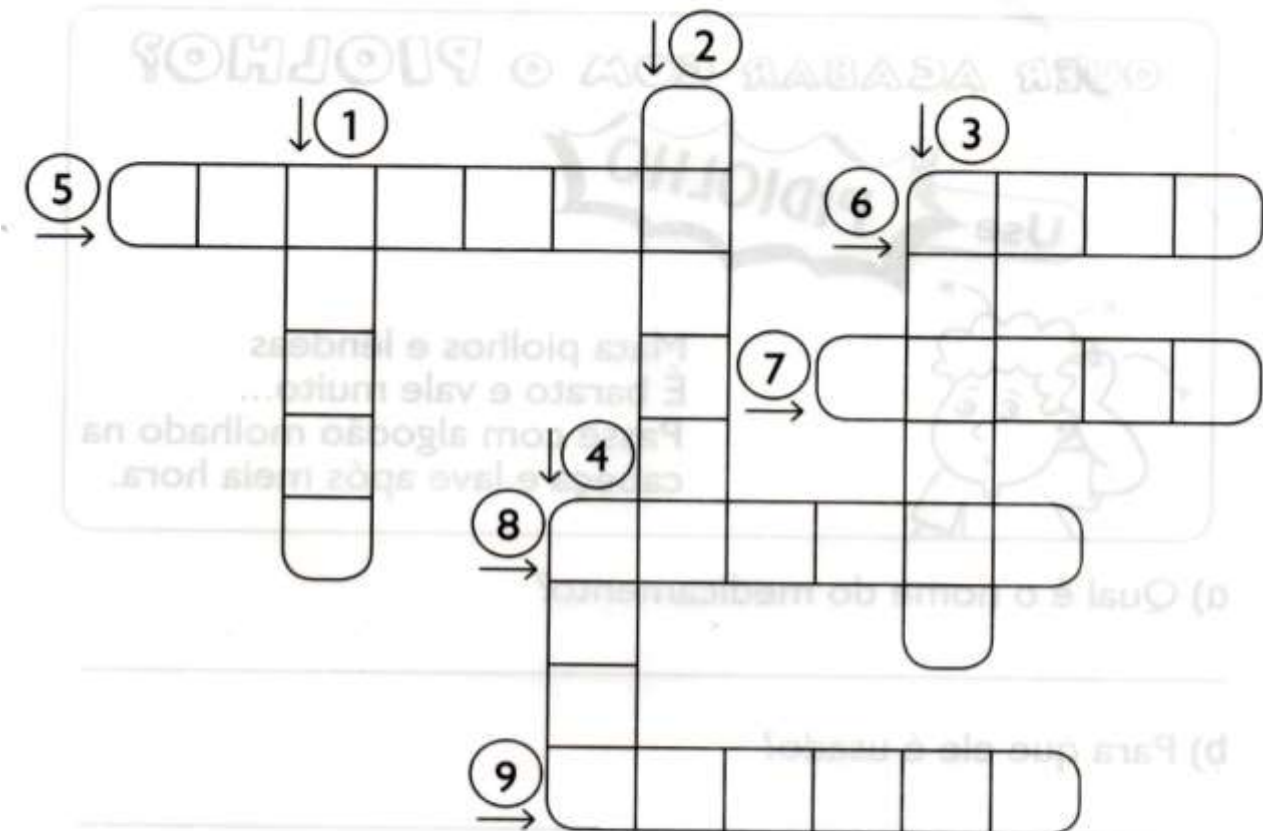
	
<input data-bbox="231 1814 574 1915" type="text"/>	<input data-bbox="917 1814 1260 1915" type="text"/>

Créditos: Pixabay

A. CONTE O TOTAL DE URSINHOS E ROBÔS E REGISTRE OS VALORES NOS ESPAÇOS EM BRANCO.



1) Complete a cruzadinha com os nomes dos desenhos.



OLHO – PILHA – TELHA – ABELHA – REPOLHO – ORELHA – ALHO – OVELHA – COLHER -

MEDIDAS DE COMPRIMENTO

O **metro** é usado para medir o comprimento dos tecidos, das fitas, das estradas, das pessoas e de muitas outras coisas.


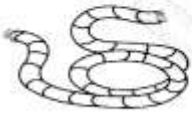
- O **metro articulado** é usado para medir paredes, portas, janelas, armários, vidros, etc.

- A **trena** é usada para medir terrenos, estradas, ruas, etc.

- O **metro de madeira** é usado para medir tecidos, rendas, fitas, elásticos, etc.

- A **fita métrica** é usada para tirar as medidas das pessoas, como largura da cintura, comprimento de saia ou calça, etc.


1) Pinte o que compramos aos metros.



3) Faça um **X** nos nomes das coisas que compramos por metro.

corda

carne

fita

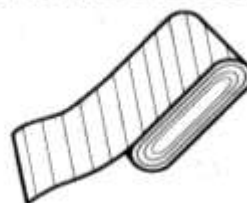
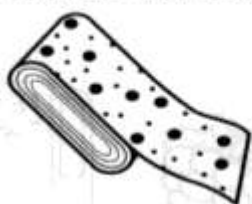


arame

elástico

gasolina

4) Mônica comprou **3** metros de um tecido xadrez e **6** metros de um tecido de bolinha. Quantos metros de tecido ela comprou?



Mônica comprou _____ metros de tecido.

EM. "PROFESSORA INÊS NUNES MAKIYAMA".

IBIÚNA, 06 DE OUTUBRO DE 2021.

Prof.ª. ALINE

NOME: _____

LEIA O TEXTO E CIRCULE AS PALAVRAS TERMINADAS EM **ÃO**:



MEDO DE AVIÃO

MEU IRMÃO VIAJOU DE AVIÃO PELA PRIMEIRA VEZ.

NO AVIÃO, ELE TOMOU SUCO DE MELÃO E COMEU TORTINHAS DE CAMARÃO.

ELE FICOU AFLITO PARA VOLTAR PARA O CHÃO.








CAÇA-PALAVRAS COM TIL (~)

1) Procure, no caça, os nomes das figuras e escreva-os nos devidos lugares.



F	O	G	Ã	O	B	X	Z	M
C	L	E	Ã	O	M	N	P	A
A	M	Ã	O	S	K	R	S	M
R	M	A	C	A	R	R	Ã	O
V	R	M	A	M	Ã	O	G	I
Ã	M	V	I	O	L	Ã	O	J
O	M	A	Ç	Ã	S	P	Ã	O
R	S	T	V	P	I	Ã	O	R
X	Z	S	A	B	Ã	O	S	V



EM. "PROFESSORA INÊS NUNES MAKIYAMA".

IBIÚNA, 06 DE OUTUBRO DE 2021.

Prof.ª. ALINE

NOME: _____

Pintando seguindo as cores!

56	32	40
49	79	
20	10	6
		18
		12
		30

Azul Número que representa 1 dezena.

Rosa Antecessor de 41 e sucessor de 39.

Verde O resultado da soma de 20 e 36.

Vermelho Representa 1 dúzia.

Amarelo Sete dezenas e nove unidades.

Roxo Meia dúzia.

Laranja Três dezenas.

LEMBRANDO: 1 DEZENA VALE 10 UNIDADES

1 DÚZIA VALE 12 UNIDADES

MEIA DÚZIA VALE 6 UNIDADES

EM. "PROFESSORA INÊS NUNES MAKIYAMA".

IBIÚNA, 07 DE OUTUBRO DE 2021.

Prof.ª. ALINE

NOME: _____

LEIA AS PALAVRAS E SEPRE AS EM SÍLABAS:

GALINHA			
GEMADA			
RÁPIDO			
REVISTA			
TOMATE			
REDE			
REMO			
TELHA			
VACA			
BOTA			

COMPLETE A PALAVRA COM A SÍLABA QUE FALTA:

	CA	VA			A	RA	
		TA				BI	
		SA				LO	
	TU	CA			ES	CA	
	SA		TO		PI		LÉ
	BO				PANE		
			TO		CO		
		CA				CA	
		NA			CA		
	ES	PA				LA	

MEDIDAS DE MASSA


PARA MEDIR O PESO DAS PESSOAS, ANIMAIS, ARROZ, FEIJÃO, CARNE, MARGARINA E VÁRIOS PRODUTOS, USAMOS A UNIDADE DE MASSA CHAMADA GRAMA.

SEU SÍMBOLO É g




É TUDO NO QUILO

1) Pinte os produtos que podem ser comprados a quilo.



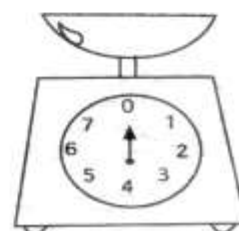
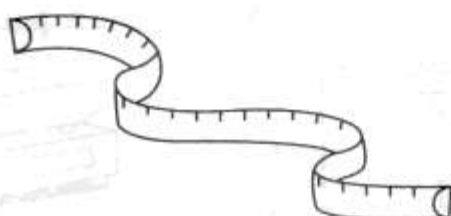
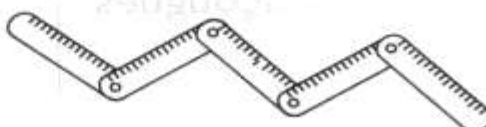
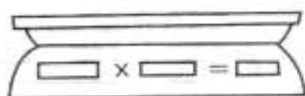
2) Marque um X nos produtos que podem ser comprados a quilo.



- frutas
- refrigerante
- cebola
- sabão
- peixe

- maçãs
- leite
- carne
- batata
- fitas

3) Pinte os instrumentos usados para medir o peso dos alimentos.



EM. "PROFESSORA INÊS NUNES MAKIYAMA".

IBIÚNA, 08 DE OUTUBRO DE 2021.

Prof.^a. ALINE

NOME: _____

SER CRIANÇA

SER CRIANÇA É MUITO BOM
BRINCAR TODOS OS DIAS
TER SONHOS E FANTASIAS
BRINCAR DE VIAJAR NO ESPAÇO
CORRER NO PARQUE DESCALÇO



RESPEITANDO SEMPRE O PRÓXIMO
QUERO BRINCAR E SORRIR
COM MEUS AMIGOS
QUERO SEMPRE ME DIVERTIR
SER CRIANÇA É SER FELIZ!



APÓS REALIZAR A LEITURA DO TEXTO "SER CRIANÇA" FAÇA UM DESENHO REPRESENTANDO O QUE É SER CRIANÇA PARA VOCÊ:



EM. "PROFESSORA INÊS NUNES MAKIYAMA".

IBIÚNA, 08 DE OUTUBRO DE 2021.

Prof.ª. ALINE

NOME: _____

ENCONTRE NO DIAGRAMA ALGUNS BRINQUEDOS PREFERIDOS PELAS CRIANÇAS:



CAÇA-PALAVRAS



B	O	N	E	C	A	B	V	D	I	B
F	Y	G	R	G	E	R	S	O	B	F
C	R	O	B	Ô	Ç	N	L	O	Ç	M
A	Ç	H	T	B	O	L	A	S	N	U
V	C	A	R	R	I	N	H	O	D	R
B	D	E	S	V	E	C	B	U	P	S
C	R	I	A	N	Ç	A	K	C	S	O



BONECA - CARRINHO - CRIANÇA
ROBÔ - URSO - BOLA

APÓS ENCONTRAR OS 7 ERROS FAÇA UM LINDO COLORIDO NA IMAGEM COMPLETA:

JOGO DOS 7 ERROS



É TÃO BOM TER UM MONTÃO DE AMIGOS, NÃO É MESMO? MAS, MAIS LEGAL AINDA É JUNTAR TODOS PARA PROCURAR AS SETE DIFERENÇAS. VAMOS LÁ!



SITES UTILIZADOS NA APOSTILA

<https://br.pinterest.com/pin/495325659021636355/>

<https://drive.google.com/drive/mobile/folders/1-3W0vT8tWokYRWloYMcbFUa5sagVS7Bg?usp=sharing>

<https://educacaoetransformacaooficial.blogspot.com/2021/03/matematica-sistema-monetario.html>

[LETRAMENTO DIVERTIDO – 6 E 7 ANOS](#)

[OFICINA DE TEXTOS](#)

[ALFABETIZAÇÃO DIVERTIDA - ALFABETIZAÇÃO](#)

[EMAI – EDUCAÇÃO MATEMÁTICA NOS ANOS INICIAIS DO ENSINO FUNDAMENTAL – SEGUNDO ANO VOLUME 1](#)