

**EM UBIRAJARA PEDROSO DOMINGUES**  
**CADERNO DE ATIVIDADES N. 12**

**3. ANO A - PERÍODO DA MANHA**



APOSTILA REFERENTE AOS DIAS:

29 e 30/09;

01, 04, 05, 06, 07 e 08/10

**DEVOLVER EM: 07/10/2021**

(Prazo máximo para a entrega de todas as apostilas, inclusive as que estiverem em atraso para computarem na nota do bimestre).

**ALUNO:**

---



## FÁBULA

É uma narrativa imaginária, geralmente curta, que transmite um conselho, um ensinamento. Os personagens das fábulas quase sempre são animais que apresentam características humanas.



### A CIGARRA E A FORMIGA



A cigarra passou todo o verão cantando, enquanto a formiga juntava grãos. Quando chegou o inverno, a cigarra veio à casa da formiga para pedir que lhe desse o que comer.

A formiga então perguntou a ela:

- E o que é que você fez durante todo o verão?
- Durante o verão eu cantei \_ disse a cigarra.

E a formiga respondeu:

- Muito bem, pois agora dance!



Ruth Rocha



1) Responda:

a) O que é fábula?

---

b) Qual é o título do texto?

---

c) Quem escreveu?


---





d) O travessão usado no texto foi para indicar:

- (A) A descrição da formiga. (B) A fala da formiga.  
(C) O trabalho da cigarra. (D) A descrição do ambiente.



2) Quem são as personagens que aparecem no texto?

- (A) A cigarra e o pato. (C) A cigarra e o hipopótamo.  
(B) A formiga e a cigarra. (D) A formiga e o leão.

3) "- Durante o verão eu cantei". Essa fala é:

- (A) Da formiga  
(B) Da raposa  
(C) Do sapo  
(D) Da cigarra



4) O texto lido é:

- (A) Um convite.  
(B) Uma fábula.  
(C) Uma poesia.  
(D) Um conto.

5) O que fazia a formiga quando a cigarra apareceu?

- (A) Secava grãos.  
(B) Trabalhava no formigueiro.  
(C) Carregava grãos.  
(D) Trabalhava na plantação.

6) Por que você acha que a formiga mandou a cigarra dançar?

---

---

7) Toda fábula tem uma moral, um ensinamento. Qual poderia ser a moral da fábula "A cigarra e a formiga"?

---

---


---

**TEXTO INFORMATIVO:** É UM TEXTO COM A FUNÇÃO DE INFORMAR AO LEITOR E TRAZER ALGUMAS CURIOSIDADES SOBRE O ASSUNTO ABORDADO. GERALMENTE AS INFORMAÇÕES SÃO RETIRADAS DE REVISTAS, JORNAIS, DICIONÁRIOS, ENCICLOPÉDIAS, SITES, ENTRE OUTROS.

LEIA O TEXTO INFORMATIVO SOBRE A PAMONHA E EM SEGUIDA, ENCONTRE NO CAÇA-PALAVRAS AS PALAVRAS EM DESTAQUE NO TEXTO.

### **PAMONHA**

É UMA COMIDA **TÍPICA** DO BRASIL, FEITA DE **MILHO**, ENCONTRADA PRINCIPALMENTE NOS ESTADOS DE SÃO **PAULO**, GOIÁS E MINAS GERAIS. A **PAMONHA** É COMO UM BOLO, EMBRULHADO E **COZIDO** NA PRÓPRIA CASCA DO MILHO OU EM FOLHAS DE **BANANEIRA**. SEU NOME VEM DA PALAVRA TUPI PA MUÑA, QUE SIGNIFICA **PEGAJOSO**, QUE É COMO FICA QUANDO ESTÁ **PRONTA** PARA SER SERVIDA. QUE TAL EXPERIMENTAR ESSA DELÍCIA E DESCOBRIR MAIS SOBRE OS **SABORES** DO NOSSO PAÍS?



V	T	Í	P	I	C	A	R	A	P
E	J	U	A	H	R	S	L	M	R
P	R	Q	M	U	I	B	O	I	O
L	K	D	O	F	G	H	J	L	N
S	F	H	N	K	L	O	Ç	H	T
S	R	F	H	G	J	K	T	S	A
T	L	S	A	B	O	R	E	S	D
F	G	H	K	M	N	B	C	V	X
M	I	L	H	O	Q	R	T	Y	D
A	P	E	G	A	J	O	S	O	Z
A	S	F	G	P	A	U	L	O	Z
P	R	F	E	D	H	J	Ç	O	S
C	O	Z	I	D	O	O	T	D	Q
A	S	D	F	G	H	J	K	K	A
B	A	N	A	N	E	I	R	A	C

E VOCÊ CONHECE ALGUMA COMIDA FEITA DE MILHO? FAÇA UM DESENHO E ESCREVA O NOME DELA.



1) O texto seguinte é um trava-línguas. Leia-o em voz alta, depressa, sem titubear.



Fique ligado!

“O tempo perguntou pro tempo,  
quanto tempo o tempo tem.  
O tempo respondeu pro tempo,  
que o tempo tem o tempo que o tempo tem”.



Usamos o **M** antes de **P** e **B**.  
Usamos **N** antes de outras consoantes.

2) Complete com M e depois copie as palavras.

- a) bo\_\_beiro \_\_\_\_\_
- b) sa\_\_ba \_\_\_\_\_
- c) li\_\_peza \_\_\_\_\_
- d) te\_\_po \_\_\_\_\_
- e) e\_\_pada \_\_\_\_\_
- f) bo\_\_ba \_\_\_\_\_
- g) po\_\_bo \_\_\_\_\_
- h) co\_\_prador \_\_\_\_\_



3) Procure no caça-palavras o nome das figuras:



C	L	P	A	N	D	E	I	R	O
L	J	M	L	O	L	R	A	E	H
Â	O	O	K	L	M	F	U	O	B
M	E	M	P	A	D	A	F	B	O
P	I	K	B	G	M	B	O	V	M
A	S	X	P	R	T	Q	T	L	B
D	E	L	E	F	A	N	T	E	O
A	V	I	W	S	P	Y	D	C	M

1) Escreva as palavras abaixo nos quadros corretos.

gato – professora - heroína – campeão – galo – boi – galinha – gata – menina – ator -  
herói – vaca – atriz – professor - campeã – menino



MASCULINO




FEMININO




2) Observe as palavras e numere o **masculino** com o seu **feminino**.

( 1 ) imperador

( 2 ) bode

( 3 ) padrasto

( 4 ) réu

( 5 ) cavaleiro

( 6 ) zangão



(   ) abelha

(   ) imperatriz

(   ) ré

(   ) madrasta

(   ) amazona

(   ) cabra



## Ortografia: inho/ inha/ zinho/ zinha



→ A palavra irmãozinho é o diminutivo de irmão. Para formar o diminutivo de certas palavras, usamos inho /inha /zinho /zinha.



- Veja alguns exemplos:

- irmão → irmãozinho (palavra sem s - uso do zinho)
- rosa → rosinha (palavra com s - s + inha)

### PRATICANDO

1) Forme o diminutivo das palavras abaixo usando as terminações (s)inho e zinho.



pão

\_\_\_\_\_



anel

\_\_\_\_\_



pé

\_\_\_\_\_



avião

\_\_\_\_\_



mão

\_\_\_\_\_



pastel

\_\_\_\_\_



flor

\_\_\_\_\_



balão

\_\_\_\_\_



1 - FORME PALAVRAS:

CHA	AR	PAS	LHA	CA	LI	NHO	GAR	NHA	VE
1	2	3	4	5	6	7	8	9	10
RI	O	GA	NI	ROZ	FA	RA	VA	SEI	SA
11	12	13	14	15	16	17	18	19	20

3 + 20 + 11 + 7 = \_\_\_\_\_

1 + 10 = \_\_\_\_\_

2 + 15 = \_\_\_\_\_

3 + 19 + 12 = \_\_\_\_\_

12 + 10 + 4 = \_\_\_\_\_

13 + 06 + 9 = \_\_\_\_\_

14 + 7 = \_\_\_\_\_

1 + 5 + 17 = \_\_\_\_\_

2 + 17 + 9 = \_\_\_\_\_

10 + 4 = \_\_\_\_\_

6 + 9 = \_\_\_\_\_

8 + 17 + 16 = \_\_\_\_\_

AO TERMINAR A ATIVIDADE LEIA AS PALAVRAS PARA UM ADULTO.



AS PALAVRAS QUE VOCÊ FORMOU, APARECEM DÍGRAFOS .... DESTAQUE OS DÍGRAFOS NAS PALAVRAS FORMADAS.



**DÍGRAFO** É O GRUPO DE DUAS LETRAS QUE REPRESENTAM UM ÚNICO VALOR SONORO. COM AS COMBINAÇÕES

CH - LH - NH      RR - SS - SC - SX



➔ **COMPLETE AS FRASES COM AS PALAVRAS ABAIXO:**

A) A  DO PALHAÇO É ENGRAÇADA.

B) O NOME DO PALHAÇO É .



C) PAÇOCA FAZ PALHAÇADA NA .

D) VOVÓ FEZ CAFÉ E COLOCOU .

E) MEU TÊNIS TEM .



F) O PAPAÍ GOSTA DE BEBER ÁGUA NA .

G) TODA -FEIRA PAÇOCA VAI À CIDADE.

H) O PALHAÇO USA LENÇO NO .

I) PAÇOCA AMA A .



J) O PALHAÇO PAÇOCA MORA NA .

PESCOÇO	CALÇA	CRIANÇA
TAÇA	CADARÇO	AÇÚCAR
TERÇA	PRAÇA	PAÇOCA
ROÇA		

## LEMBRANDO:

► Um dia tem 24 horas.

► 1 hora tem 60 minutos.



Laís mandou o convite abaixo para seus amigos. Vamos ler?

**FESTA DO PIJAMA DA LAÍS**


DEIXE SEU SONO EM CASA, TRAGA PIJAMA E TRAVESSEIRO E VENHA COMEMORAR MEU ANIVERSÁRIO JUNTO COMIGO!

VAMOS NOS DIVERTIR MUITO!!!

**DIA:** 25/07

**INÍCIO:** 19 HORAS, BUSCAR ÀS 11 HORAS.

**LOCAL:** RUA VIOLETA Nº 135



1) Leia o convite de aniversário da Laís e responda as perguntas abaixo:

a) Qual o tema da festa da Laís?

---

b) O que as crianças precisam levar para esse aniversário?

---

c) Qual o horário de início da festa da Laís?

---



1) Ajude Sofia a chegar ao seu cachorro passando apenas pelos números ímpares:



1	4	12	8	10	11	14	2	24
2	3	5	6	9	14	13	6	22
4	2	6	7	12	18	16	15	20
8	6	4	10	8	10	12	18	17



2) Ajude Marcelo a chegar ao sorveteiro passando apenas pelos números pares:



5	7	3	7	11	19	12	13	11
3	1	11	5	13	10	15	14	19
0	9	4	6	8	13	11	17	16
1	2	15	3	15	17	13	15	21



3) Ajude Pedro a chegar ao parquinho passando apenas pelos números ímpares:



55	54	58	56	58	64	66	68	74
50	57	52	58	60	66	62	70	71
54	50	59	60	62	62	67	69	72
52	56	54	61	63	65	68	66	70



# Qual o troco?

R\$ 15,00



pagou com



recebeu de troco

R\$

R\$ 1,50



pagou com



recebeu de troco

R\$

R\$ 37,00



pagou com



recebeu de troco

R\$

R\$ 7,00



pagou com



recebeu de troco

R\$



Marque a alternativa correta de cada questão:


1) Beatriz fez aniversário e ganhou 5 bonecas, 2 sapatos, 3 anéis e um conjunto de 25 pulseiras. Quantos presentes Beatriz ganhou no total?

- a) vinte e cinco
- b) trinta e cinco
- c) trinta
- d) cinco



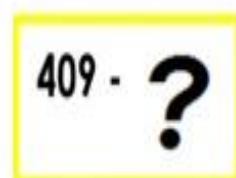
2) O número dessa casa é:

- a) trezentos e quatro
- b) trezentos
- c) trinta e quatro
- d) trinta



4) O sucessor (número que vem logo após) do número 409 é:

- a) 408
- b) 508
- c) 410
- d) 510



Observe as prateleiras de brinquedos da Bete:



- 1) Quantos objetos há nessa prateleira? \_\_\_\_\_
- 2) Olhando de frente para a prateleira, qual brinquedo está à direita dos livros? \_\_\_\_\_
- 3) Qual objeto está em cima do trenzinho? \_\_\_\_\_
- 4) Qual o primeiro brinquedo da prateleira? \_\_\_\_\_
- 5) O que está à esquerda da bola? \_\_\_\_\_
- 6) Qual o objeto mais distante do trenzinho? \_\_\_\_\_

7) Desenhe uma bola.


- a) A direita da bola faça um X.
- b) Embaixo da bola faça um quadrado.
- c) A esquerda da bola faça uma casa.





**Tarsila do Amaral** (1886-1973) foi uma pintora e desenhista brasileira. O quadro "Abaporu" pintado em 1928 é sua obra mais conhecida. ... Seu pai herdou apreciável fortuna e diversas fazendas, nas quais **Tarsila** passou a infância e adolescência. **Tarsila do Amaral** estudou em São Paulo em colégio de freiras e no Colégio Sion.

Observe a obra abaixo e depois responda as questões:



**Tarsila do Amaral – Paisagem com o touro 1925**

1) Qual é o título da obra?

2) Qual é o nome da autora?



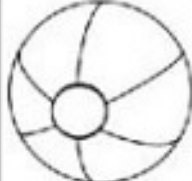

3) Essa obra mostra:

a)  espaço urbano    b)  espaço rural

# GRÁFICOS

Carlos adora brinquedos. Veja a quantidade que ele tem no quadro abaixo:



				
11				
10				
9				
8				
7				
6				
5				
4				
3				
2				
1				

De acordo com o quadro, responda:

Quantos brinquedos ao todo ele tem:

- Cavalinho:
- Bicicleta:
- Bola:
- Caminhão:



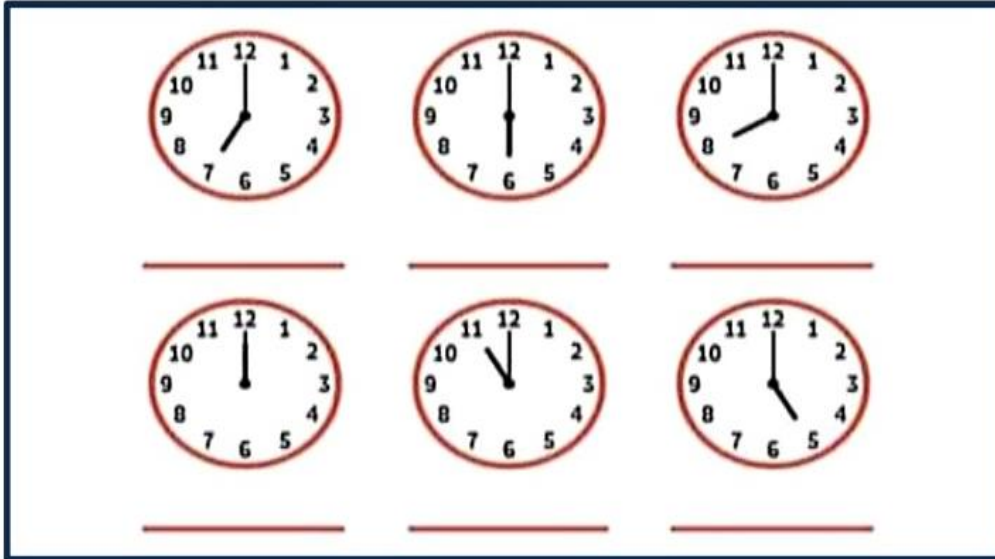
# Medidas de Tempo, Massa e Comprimento

Para medir as horas de um dia, usamos o relógio.

- O ponteiro maior indica as horas e o menor os minutos.



Observe os relógios e escreva a hora marcada por cada um deles



A Escola Encanto organizou uma Festa Folclórica. O evento acontecerá no dia 22 de agosto, tendo início às 15h e tempo de duração de 4h. A que horas a Festa Folclórica terminará?

Cálculo

R: \_\_\_\_\_  
\_\_\_\_\_



Para medir o comprimento de objetos, pessoas, tecidos, fitas, etc, usamos a unidade de medida chamada metro.



Qual produto abaixo compramos por metro?

