



Prefeitura da Estância Turística de
IBIÚNA
TRANSFORMAÇÃO RESPONSÁVEL. CUIDANDO DE PESSOAS.



E.M “ZENI SOARES RAMALHO”

Atividades para estudo em Casa

12º apostila

Período das atividades: 29/09 a 08/10/2021

Data da devolução da 12 º apostila: **07/10/2021**

Aluno (a):

Professora: Lucila Helena S.C. Germano

3º ano B

Roteiro para realização das atividades

Combinados das lições

- Lavar as mãos para fazer as lições;
- Escolher um lugar tranquilo e adequado para realizar as atividades;
- Ler com atenção;
- fazer 2 atividades por dia, evitando assim o acúmulo;
- Fazer as tarefas com capricho e dedicação;
- Não amassar, não sujar e rasgar as atividades;
- Assistir aos links enviados pela professora no grupo de whatsApp;
- Se tiver dúvidas perguntar para a professora.

• **ATENÇÃO!!!**

AO REALIZAR OS SIMULADOS, VOCÊ DEVERÁ RESPONDER AS QUESTÕES E EM SEGUIDA PREENCHER O GABARITO QUE SE ENCONTRA NO FINAL DA FOLHA. PRESTE BASTANTE ATENÇÃO, VOCÊ DEVERÁ PINTAR APENAS UMA LETRA POR QUESTÃO, APENAS A QUE VOCÊ ESCOLHEU COMO RESPOSTA. PINTE TODA A BOLINHA DA LETRA DA SUA RESPOSTA.

Lembre-se:

Você é capaz!!!

Eu acredito em você!!!

E.M “ZENI SOARES RAMALHO”

LÍNGUA PORTUGUESA

Leia o texto com atenção antes de começar as atividades.

O burrinho medroso

Tico era um burrinho muito medroso, mas dizia que não tinha medo de nada.

Um dia, seu amigo Teteco colocou um lençol branco na cabeça e ficou atrás do barranco esperando Tico passar.

Quando Tico passou:

_ Buuuuuuuuuu!

Tico levou um susto tão grande que saiu em disparada!



Interpretação do texto

1) Responda:

a) Qual é o título do texto?

b) Quem é o personagem principal do texto?

c) Quem deu um susto em Tico?

2) Marque a resposta certa:

a) Tico era um burrinho:

() teimoso () medroso () charmoso

b) O amigo de Tico era:

() Dino () Teteco () Taioba

HISTÓRIA

▶ **Memória e museus**


No Brasil, nem sempre as grandes cidades conservam bem o seu patrimônio histórico. Muitas construções são destruídas para dar lugar a edificações novas. Observe as fotos a seguir.



▶ Rua do Giz, em São Luís, estado do Maranhão, 1908.



▶ Rua do Giz, em São Luís, estado do Maranhão, 2017.



▶ Até o início do século XX, Florianópolis era conhecida como Nossa Senhora do Desterro. Pintura **Uma visão de Nossa Senhora do Desterro**, de Victor Meirelles (óleo sobre tela, 71,7 cm x 119,2 cm), 1847.



▶ Vista da cidade de Florianópolis, estado de Santa Catarina, 2017.

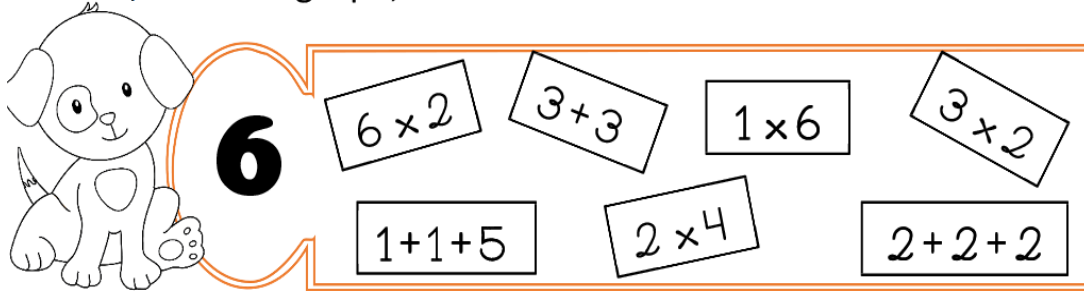
1 Em qual desses dois lugares a memória foi mais bem conservada, na rua do Giz, em São Luís, ou na região central de Florianópolis?

2 Explique como você percebeu isso.

E.M "ZENI SOARES RAMALHO"

MATEMÁTICA

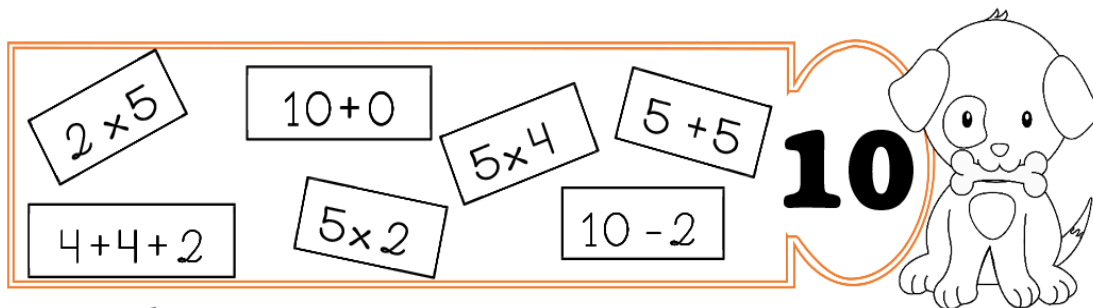
- Pinte, em cada grupo, as fichas de acordo com o fato.



6

6×2 $3 + 3$ 1×6 3×2

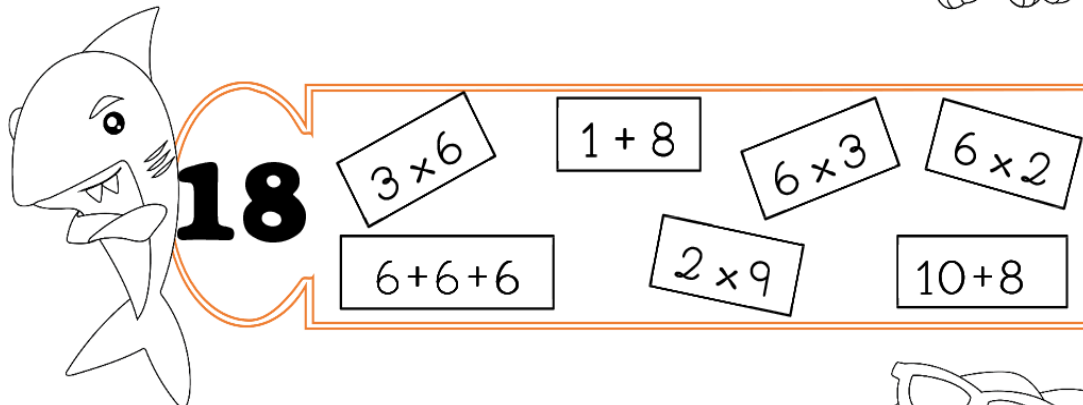
$1 + 1 + 5$ 2×4 $2 + 2 + 2$



10

2×5 $10 + 0$ 5×4 $5 + 5$

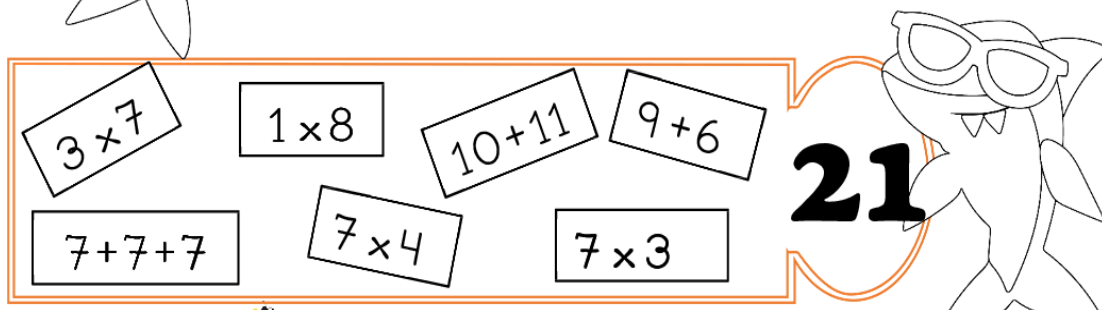
$4 + 4 + 2$ 5×2 $10 - 2$



18

3×6 $1 + 8$ 6×3 6×2

$6 + 6 + 6$ 2×9 $10 + 8$



21

3×7 1×8 $10 + 11$ $9 + 6$

$7 + 7 + 7$ 7×4 7×3

E.M "ZENI SOARES RAMALHO"

CIÊNCIAS

TIPOS DE SOLO

O solo pode ser classificado em arenoso, argiloso, calcário e humoso.

SOLO ARENOSO: É o solo que contém mais areia do que argila, calcário e humo.

SOLO ARGILOSO: é o solo que contém mais argila do que os outros elementos.

SOLO CALCÁRIO: a quantidade de calcário nesse tipo de solo é muito maior do que a quantidade de argila, areia e humo.

SOLO HUMOSO: é o solo que contém humo, argila, areia e calcário em quantidade equilibrada. É isso o que torna o solo humoso ideal para a retenção de água.

Tipos de solo

Nunere a 2ª coluna de acordo com a 1ª.

- | | |
|---------------------|--|
| (1) Solo húmífero | () Deixa a água passar rapidamente. É seco e pode apresentar cores variadas. |
| (2) Solo argiloso | () Tem a cor escura resultante da decomposição dos restos de animais e vegetais mortos. É uma terra excelente para a agricultura. |
| (3) Solo calcário | () É um solo bastante encontrado no Brasil. É rico em cálcio. |
| (4) Solo arenoso | () É uma terra fofa, macia e rica em argila. |



<https://i1.wp.com/onlinecursosgratuitos.sfo2.digitaloceanspaces.com/2019/12/atividades-geografia-solo-18.jpg?ssl=1>

<https://i.pinimg.com/736x/84/41/c6/8441c6b0e5f31f2c437a51b5f163e417.jpg>

E.M “ZENI SOARES RAMALHO”


LÍNGUA PORTUGUESA

 Sueli[®] e as flores

Sueli sentou-se à sombra da árvore para descansar.

O dia foi cansativo, pois setembro começa a primavera e nesta época Sueli precisa colher muitas flores para vender na feira.

Sueli adora o perfume das flores e ama o seu trabalho.



Isabel Cristina Silveira Soares

1) Escreva abaixo o título do texto.

★	
★	

2) Por que Sueli sentou-se à sombra de uma árvore?

★	
★	

3) O que Sueli vende na feira?

★	
★	

E. M "ZENI SOARES RAMALHO"

ARTES

FELIZ DIA DAS CRIANÇAS!!!!

VAMOS COLORIR?



<https://3.bp.blogspot.com/-J9RQGQ2kVnc/Ukr1up5znAI/AAAAAAAAky8/4eB5mCfjypl/s1600/desenhos-do-dia-das-crian%C3%A7as-imprimir-colorir-pintar-06.jpg>

VERBO

O verbo é a classe de palavras que exprime ação, estado, mudança de estado, fenômeno da natureza.



Camila pula corda na varanda.

1. Complete as frases de acordo com as ações dos personagens:



Paulo e João _____ de carrinho.



As irmãs _____ um livro de histórias.



Papai _____ o carro todo feliz.



Bia está _____ sopa de fubá.



Janete _____ com seu cachorro Bilu.

leem passeia brincam dirige comendo

E.M "ZENI SOARES RAMALHO"

MATEMÁTICA

Matemática

Resolva

$$\begin{array}{r} 427 \\ + 46 \\ \hline \end{array}$$

$$\begin{array}{r} 464 \\ + 47 \\ \hline \end{array}$$

$$\begin{array}{r} 639 \\ + 94 \\ \hline \end{array}$$

$$\begin{array}{r} 383 \\ + 33 \\ \hline \end{array}$$

$$\begin{array}{r} 353 \\ + 82 \\ \hline \end{array}$$

$$\begin{array}{r} 559 \\ + 58 \\ \hline \end{array}$$

$$\begin{array}{r} 479 \\ + 87 \\ \hline \end{array}$$

$$\begin{array}{r} 584 \\ + 55 \\ \hline \end{array}$$

$$\begin{array}{r} 243 \\ + 53 \\ \hline \end{array}$$

$$\begin{array}{r} 565 \\ + 492 \\ \hline \end{array}$$

$$\begin{array}{r} 534 \\ + 457 \\ \hline \end{array}$$



<http://3.bp.blogspot.com/>

http://3.bp.blogspot.com/-xFvq_wfAfFs/XEpWNS8FFFI/AAAAAAAAANvA/bs4YQSCwxD8Y955Vg9u0XEaX4O3oVohggCK4BGAYYCw/s1600/GERADOR%2BDE%2BCONINHAS%2BARMADAS%2B-%2BALTERADAS%2B03%2B16%2B6-15-2018.jpg

E.M “ ZENI SOARES RAMALHO”

MATEMÁTICA

A) Anita tem 7 anos. Laura tem o dobro. Quantos anos têm Laura?

Resposta: Laura tem ____ anos.

B) Augusto ganhou 9 cadernos. Maria ganhou o dobro desta quantia. Quantos cadernos ela ganhou?

Resposta:

C) Rafael tem 4 peixinhos. Daniela tem o dobro. Quantos peixinhos têm Daniel?

Resposta:

D) Daniela fez 5 bandeirinhas. Vanessa fez o dobro do número de bandeirinhas de Daniela. Quantas bandeirinhas as duas fizeram juntas?

Resposta: As duas meninas fizeram juntas ____ bandeirinhas.

E.M "ZENI SOARES RAMALHO"

LÍNGUA PORTUGUESA

Recorte os verbos das frases abaixo e cole nas frases correspondentes:

Mariana para a Bahia.

Gabriel um livro inteiro ontem!

O coral da escola uma linda música.

Luca adora chocolate.

Francisco muito doente.

O palhaço engraçado.



.....

viajará	leu	cantará
comer	está	é



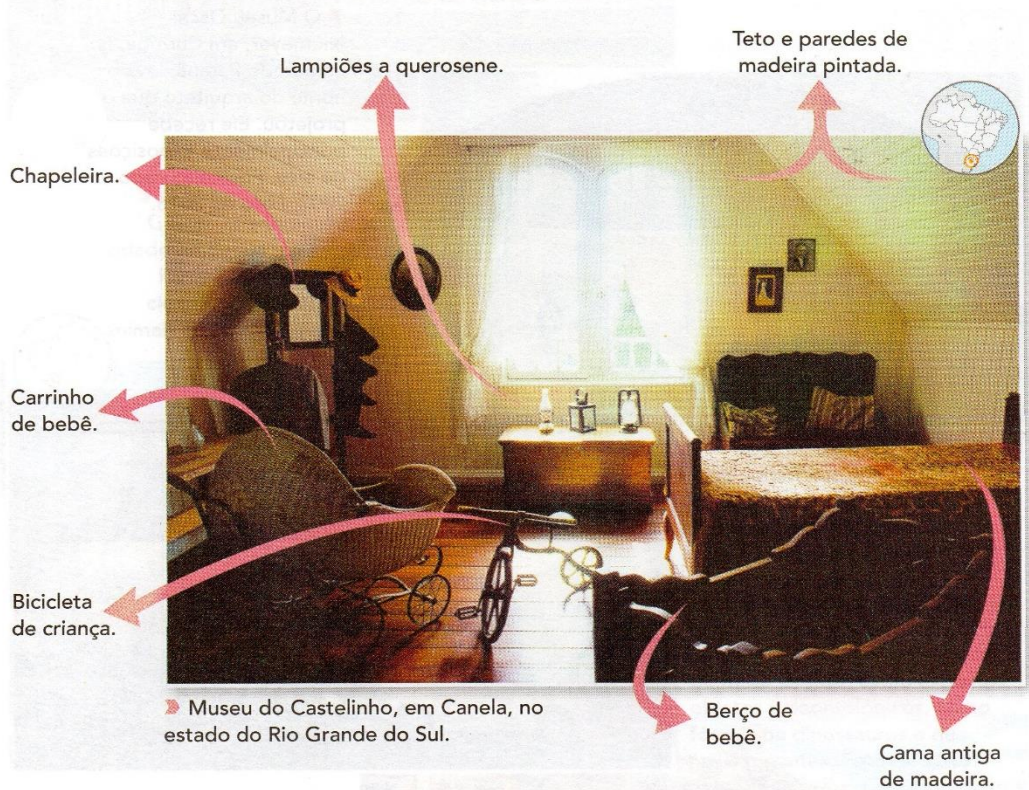
E.M "ZENI SOARES RAMALHO"

HISTÓRIA

OS MUSEUS

Museus são instituições que reúnem objetos, esculturas, móveis, pinturas e outros materiais que fazem parte da história de uma comunidade, de um povo, de um tempo ou de um lugar. Ao visitar museus históricos, é possível conhecer os modos de vida e os valores das pessoas do passado.

A fotografia abaixo mostra móveis e objetos de imigrantes alemães do início do século XX, no Sul do Brasil. Observe:



Complete o quadro abaixo com os objetos destacados na imagem.

Objetos que ainda usamos	Objetos que não usamos mais
_____	_____
_____	_____
_____	_____

E.M “ZENI SOARES RAMALHO”

LÍNGUA PORTUGUESA

SIMULADO DE LÍNGUA PORTUGUESA

Questão – 1 Leia o texto:

Era uma vez uma menina conhecida como chapeuzinho vermelho. Um dia, sua mãe pediu que ela levasse uma cesta de doces para a sua avó, que morava do outro lado do bosque.

Caminhando **pelo bosque** a menina encontrou o lobo.

— Aonde vai chapeuzinho? Perguntou o lobo.

— Na casa da vovó levar uma cesta de doces...

1) A frase: “—Na casa da vovó vou levar uma cesta de doces...” Foi falada por :

A. () Vovó

C. () chapeuzinho

B. () mamãe

D. () lobo

2) Releia o trecho: Caminhando **pelo bosque** a menina encontrou o lobo. A expressão caminhando **pelo bosque** dá ideia de :

A. () lugar

C. () intensidade

B. () modo

D. () tempo

Questão – 2 A professora do 3º ano vai organizar uma agenda telefônica com o nome dos alunos abaixo:



MARQUE O QUE INDICA A ORDEM EM QUE OS NOMES VÃO APARECER NA AGENDA:

(A) EDUARDO – BRUNA – ANA LUISA – MATHEUS – LAÍSA – PAULO.

(B) PAULO – MATHEUS – LAÍSA – EDUARDO – ANA LUISA – BRUNA.

(C) ANA LUISA – MATHEUS – LAÍSA – PAULO – BRUNA – EDUARDO.

(D) ANA LUISA – BRUNA – EDUARDO – LAÍSA – MATHEUS – PAULO.

E.M “ZENI SOARES RAMALHO”

LÍNGUA PORTUGUESA

CONTINUAÇÃO DO SIMULADO

Questão – 3 O pato foi procurar o fotógrafo. Chegando à loja, não encontrou ninguém. Resolveu, então, deixar um bilhete:

Senhor fotógrafo,

Eu vim procurá-lo e cheguei às 9 horas da manhã. Quero que **você** tire retratos de mim. Eu voltarei amanhã no mesmo horário.

Obrigado.

Pato

De acordo com o bilhete, responda:

- a) A palavra **eu** está substituindo qual nome? _____
- b) E a palavra **você**? _____

Questão – 4 Observe o cartaz abaixo.



- 1) O cartaz faz propaganda de vacinação contra:
- A. () Gripe. C. () Poliomielite e Tríplice viral.
- B. () Hepatite. D. () Dengue.
- 2) Segundo o cartaz, qual é o maior tesouro dos pais:
- A. () seu filho. C. () suas joias.
- B. () seu dinheiro. D. () sua fortuna.

Questão -5 Marque onde compramos livros.



GABARITO

01	(A)	(B)	(C)	(D)
02	(A)	(B)	(C)	(D)
03	(A)	(B)	(C)	(D)
04	(A)	(B)	(C)	(D)
05	(A)	(B)	(C)	(D)

E.M "ZENI SOARES RAMALHO"

MATEMÁTICA

SIMULADO DE MATEMÁTICA

Escola: _____
Nome: _____
Profª: _____
Data: _____ Valor: _____

H15 QUESTÃO 01

Juliana estuda à tarde.
O relógio abaixo mostra o horário da merenda de sua turma.



Fonte: <http://www.fotosearch.com.br/fotos-imagens>

O horário da merenda da turma de Juliana é

- (A) 13 horas. (B) 15 horas.
(C) 16 horas. (D) 17 horas.

H5 QUESTÃO 02

Na escola da Juliana tem 256 alunos.
No número 256, o algarismo 5 ocupa a ordem das

- (A) centenas. (B) dezenas.
(C) unidades. (D) unidades de milhar.

H5 QUESTÃO 03

Na escola da Juliana tem 256 alunos.
O maior número que você pode escrever usando os algarismos:



sem repeti-los, é

- (A) 526. (B) 562. (C) 625. (D) 652.

H08 QUESTÃO 04

A escola tem duas turmas do 3º ano. Vamos resolver esta adição, para calcular o total de alunos nas duas turmas.

$$\begin{array}{r} 30 \\ + 29 \\ \hline \end{array}$$


O resultado da adição é

- (A) 40. (B) 59. (C) 69. (D) 60.

H11 QUESTÃO 05

A turma de Juliana construiu um boneco utilizando formas geométricas.

As formas geométricas que aparecem no boneco são



- (A) círculo, quadrado, retângulo e triângulo.
(B) losango, quadrado, círculo e triângulo.
(C) quadrado, círculo, losango e retângulo.
(D) retângulo, losango, quadrado e círculo.

H16 QUESTÃO 06

No outro dia, a turma do 3º ano da escola resolveu fazer uma torta para comemorar os aniversariantes do mês.

Entre os produtos utilizados para fazer a torta, o ingrediente vendido em quilo é

Fonte: <http://www.paodeacucar.com.br>



(A)

(B)



(C)

(D)

H4 QUESTÃO 07

A reta numérica abaixo representa a idade dos avós de Juliana.



A idade deles é

- (A) 75 (B) 78. (C) 82. (D) 85

<https://1.bp.blogspot.com/>

[oN4OeU8kDa4/Xlrn3Gga_yI/AAAAAAAAAC8B8/JW1UA14DXk8HEOGrIFdb8j-](https://1.bp.blogspot.com/-oN4OeU8kDa4/Xlrn3Gga_yI/AAAAAAAAAC8B8/JW1UA14DXk8HEOGrIFdb8j-kbeO4w16hQCLcBGAsYHQ/s1600/PicsArt_02-29-07.30.26.jpg)

[kbeO4w16hQCLcBGAsYHQ/s1600/PicsArt_02-29-07.30.26.jpg](https://1.bp.blogspot.com/-oN4OeU8kDa4/Xlrn3Gga_yI/AAAAAAAAAC8B8/JW1UA14DXk8HEOGrIFdb8j-kbeO4w16hQCLcBGAsYHQ/s1600/PicsArt_02-29-07.30.26.jpg)

E.M "ZENI SOARES RAMALHO"

MATEMÁTICA

CONTINUAÇÃO DO SIMULADO

H14 **QUESTÃO 08**

Na hora de fazer o bolo, a mãe de Juliana viu que não tinha os ovos. Então, a menina abriu seu cofre e retirou as moedas abaixo.



Juliana pediu para sua mãe trocá-las por notas. Ela recebeu

- (A)
- (B)
- (C)
- (D)

H14 **QUESTÃO 09**

Para fazer um bolo, a mãe de Juliana gastou ao todo 17 Reais. Pagou com uma nota de 20 Reais. Ela recebeu de troco

- (A)
- (B)
- (C)
- (D)

H8 **QUESTÃO 10**

A direção da escola está comprando lápis para todos os alunos. Vamos ajudá-la a calcular a quantidade de lápis que ainda falta comprar.



Falta comprar

- (A) 24. (B) 114. (C) 124. (D) 134.

GABARITO

01	A	B	C	D
02	A	B	C	D
03	A	B	C	D
04	A	B	C	D
05	A	B	C	D
06	A	B	C	D
07	A	B	C	D
08	A	B	C	D
09	A	B	C	D
10	A	B	C	D