

E.M. "BENEDITA CORDEIRO MEDELOS"

NOME: _____

TURMA: 2º ANO A

PROFESSORA: ELIANE

MINHAS ATIVIDADES



PARLENDA SUCO GELADO



ATIVIDADES: 29/09/2021 a 08/10/2021

DATA DE RETIRADA: 30/09/2021

DATA DE DEVOLUÇÃO: 07/10/2021

IBIÚNA, 29 DE SETEMBRO DE 2021.

ESCOLA: _____

IBIÚNA, _____

NOME: _____

LÍNGUA PORTUGUESA



SUCO GELADO
CABELO ARREPIADO
QUAL É A LETRA
DO SEU NAMORADO?

A B C D E F

G H I J K L

M N O P Q

R S T U V

W X Y Z

LEIA A PARLENDAS:

PINTE DE VERDE OS ESPAÇOS ENTRE AS PALAVRAS

QUANTAS PALAVRAS TÊM A PARLENDAS? _____

PRIMEIRA PALAVRA DA PARLENDAS: _____

ÚLTIMA PALAVRA DA PARLENDAS: _____

NO ALFABETO, PINTE DE VERMELHO AS VOGAIS E DE AZUL AS CONSOANTES.

MATEMÁTICA

Matemática



1 - COMPLETE A SEQUÊNCIA NUMÉRICA ATÉ 30.

1					6				

2 - COMPLETE.

A) O NÚMERO QUE VEM ANTES DO 11 É _____.

B) O NÚMERO QUE ESTÁ ENTRE O 27 E O 29 É _____.

C) O ÚLTIMO NÚMERO DA 1ª LINHA É _____.

D) O 1º NÚMERO DA 3ª LINHA É _____.

E) O NÚMERO QUE VEM DEPOIS DO 19 É _____.

F) ESTA SEQUÊNCIA VAI ATÉ O NÚMERO _____.

G) QUANTAS DEZENAS TEM NA SEQUÊNCIA? _____.

IBIÚNA, 30 DE SETEMBRO DE 2021.

ESCOLA: _____

IBIÚNA, _____

NOME: _____

LÍNGUA PORTUGUESA

- COMPLETE A TABELA:

<i>PALAVRAS</i> 	<i>LETRAS</i> A-B-C	<i>SÍLABAS</i> 
SUCO		
GELADO		
CABELO		
ARREPIADO		
QUAL		
É		
A		
LETRA		
DO		
SEU		
NAMORADO		

<http://amigasdaedu.blogspot.com/2015/03/parlenda-suco-gelado-com-atividades.html>

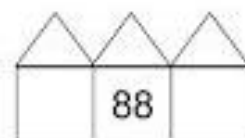
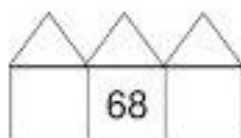
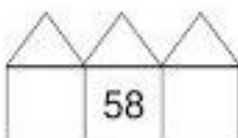
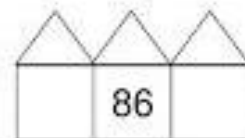
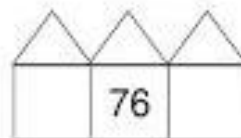
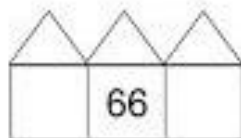
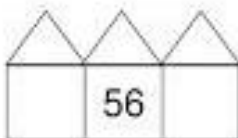
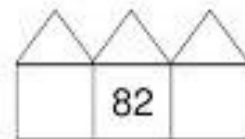
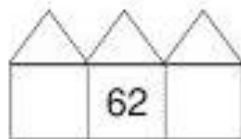
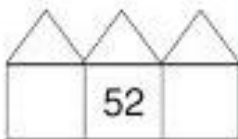
ESCREVA EM ORDEM ALFABÉTICA AS PALAVRAS DO QUADRO ACIMA:

MATEMÁTICA

1) Complete o quadro com os números faltosos:

50	51			54			57	58	59
60		62	63		65		67		
70	71		73	74		76		78	
80	81	82			85		87		89

2) Escreva o antecessor e o sucessor (vizinhos) de:



3) As crianças estão brincando de corrida. Veja a ordem de chegada das crianças e faça o que se pede:



- Circule a criança que chegou em 1º lugar.
- Risque a criança que chegou em 4º lugar.
- Faça um X na criança que chegou em 3º lugar.

<https://br.pinterest.com/pin/36451078224278516/>

IBIÚNA, 01 DE OUTUBRO DE 2021.

ESCOLA: _____

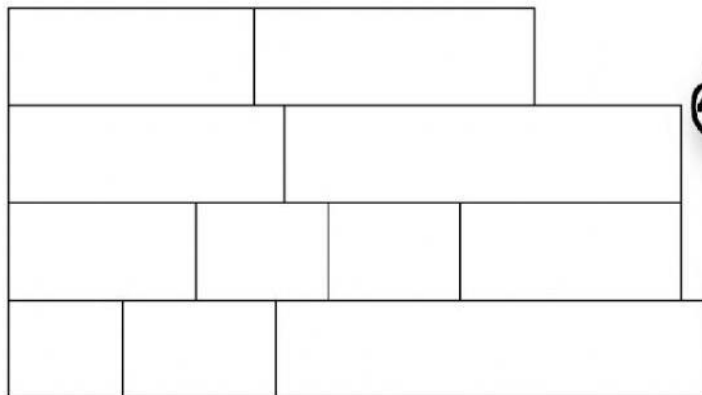
IBIÚNA, _____

NOME: _____

LÍNGUA PORTUGUESA

- **VAMOS ORGANIZAR AS PALAVRAS DA PARLENDASUCO GELADO?**
- **LOCALIZE A PALAVRA E ARRASTE COM O DEDINHO ATÉ O LUGAR CERTO.**

MONTE A PARLENDAS



ARREPIADO

QUAL

NAMORADO

A

DO

SEU

CABELO

É




LETRA




GELADO




SUCO

MATEMÁTICA

PROBLEMINHAS:

		
___ FORMIGAS PROCURAM COMIDA.	CHEGOU MAIS ___ FORMIGA.	AGORA ___ FORMIGAS PROCURAM COMIDA

		
___ CACHORRINHOS ESTÃO MAMANDO.	CHEGARAM MAIS ___ CACHORRINHOS.	AGORA SÃO ___ CACHORRINHOS MAMANDO.

		
___ PATINHO ESTÁ NADANDO.	CHEGARAM MAIS ___ PATINHOS.	AGORA, SÃO ___ PATINHOS NADANDO.


IBIÚNA, 04 DE OUTUBRO DE 2021.


ESCOLA: _____
IBIÚNA, _____
NOME: _____


LÍNGUA PORTUGUESA

NOME: _____ DATA: ____/____/____



ESCREVA O NOME DOS DESENHOS DA PARLENDIA "SUCO GELADO":







CIRCULE A PALAVRA QUE FAZ PARTE DA QUADRINHA "SUCO GELADO"

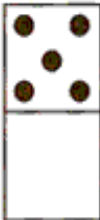
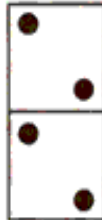






	SUCO SACO SAPO
	COLAR CABELO CABEÇA

ATIVIDADES SUZANO

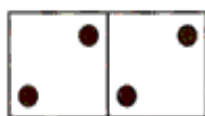
MATEMÁTICA

1) OBSERVE AS PEÇAS DO DOMINÓ E REGISTRE OS FATOS EM CADA QUADRO, CONFORME O MODELO.

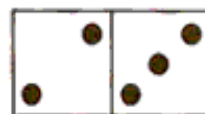
FORMA VERTICAL

	$+$	$\frac{5}{5}$		$+$	$\frac{\quad}{\quad}$		$+$	$\frac{\quad}{\quad}$		$+$	$\frac{\quad}{\quad}$
	$+$	$\frac{\quad}{\quad}$		$+$	$\frac{\quad}{\quad}$		$+$	$\frac{\quad}{\quad}$		$+$	$\frac{\quad}{\quad}$

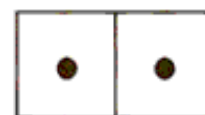
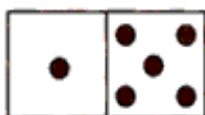
FORMA HORIZONTAL



$$2 + 2 = 4$$



$$\quad + \quad = \quad$$



$$\quad + \quad = \quad$$

$$\quad + \quad = \quad$$

$$\quad + \quad = \quad$$

IBIÚNA, 05 DE OUTUBRO DE 2021.

ESCOLA: _____
IBIÚNA, _____
NOME: _____

LÍNGUA PORTUGUESA

SUCO GELADO

LEIA E COMPLETE A PARLENDAS:

SUCO _____

_____ ARREPIADO

QUAL É A _____


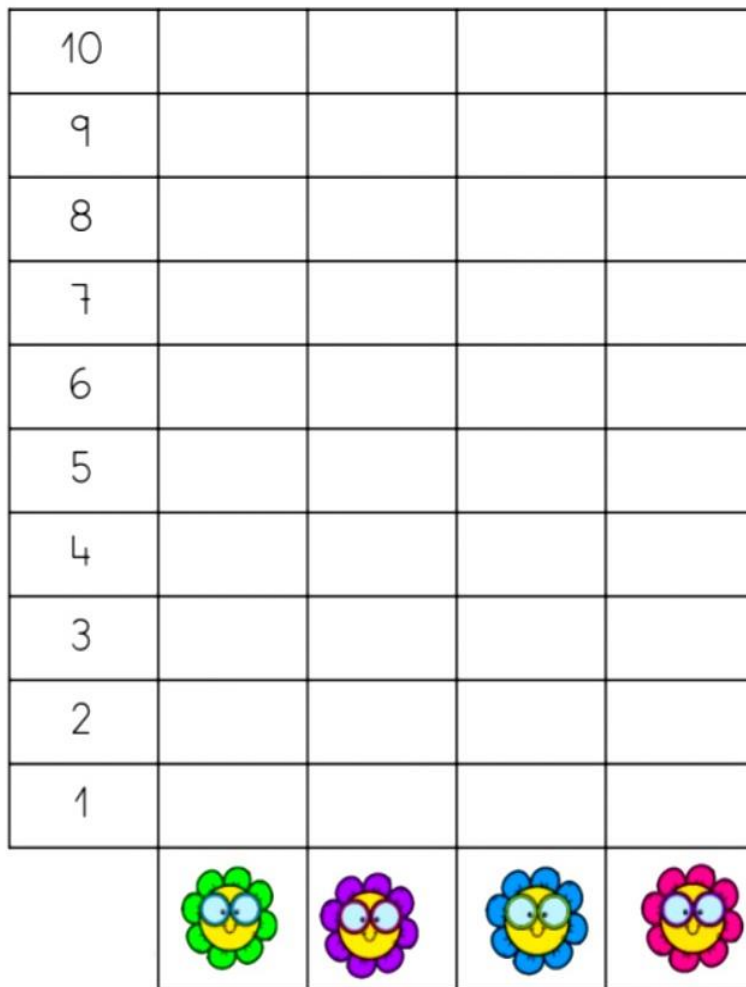
DO SEU _____



AGORA QUE VOCÊ JÁ CONHECE A PARLENDAS SUCO GELADO, NAS LINHAS ABAIXO REESCREVA A PARLENDAS:

Atividade

I- CONTE E PINTE A QUANTIDADE NO GRÁFICO:



IBIÚNA, 06 DE OUTUBRO DE 2021.

ESCOLA: _____

IBIÚNA, _____

NOME: _____

LÍNGUA PORTUGUESA/CIÊNCIAS

As estações do ano

O tempo varia de acordo com as estações do ano.
As estações do ano são quatro: primavera, verão, outono e inverno.




Primavera é a estação que antecede o verão.
A primavera é conhecida como “estação das flores”.



Verão é a estação do calor.
No verão os dias são quentes e chove bastante.
No verão devemos usar roupas leves.



Outono é a estação anterior ao inverno.
No outono os dias vão se tornando mais frios.



Inverno é a estação do frio.
No inverno devemos andar mais agasalhados.

INTERPRETAÇÃO DE TEXTO

QUAIS SÃO AS QUATRO ESTAÇÕES DO ANO:


QUAL É A ESTAÇÃO DO ANO EM QUE OS DIAS SÃO MAIS QUENTES?

QUAL É A ESTAÇÃO CONHECIDA COMO “ESTAÇÃO DAS FLORES”?

QUAL É A ESTAÇÃO DO ANO EM QUE OS DIAS SÃO MAIS FRIOS?

QUAL É A ESTAÇÃO ANTERIOR AO INVERNO?

◆ MÔNICA ESTÁ VESTINDO ROUPA PARA QUAL ESTAÇÃO DO ANO?



PRIMAVERA

VERÃO

OUTONO

INVERNO

◆ DESENHE ALGUMAS ROUPAS QUE MÔNICA PODERÁ USAR NO VERÃO.

rbosca
















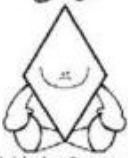







The image shows a cartoon character named Mônica running. She is wearing a winter hat with a pom-pom, a scarf, a long-sleeved sweater, and boots. She is holding a small cloud. To her right are four rectangular buttons labeled 'PRIMAVERA', 'VERÃO', 'OUTONO', and 'INVERNO'. Below the image is a drawing prompt and the name 'rbosca'.

MATEMÁTICA

FORMAS GEOMÉTRICAS!

@Atividades Suzano

Pinte de acordo com as quantidades de cada figura:

@Atividades Suzano

ESCOLA: _____

IBIÚNA, _____

NOME: _____

LÍNGUA PORTUGUESA

ADIVINHAÇÃO

SOESCOLA.COM



COMPLETE E PINTE

A) TENHO CABEÇA E DENTES, MAS NÃO SOU GENTE.

SOU O



B) CAI EM PÉ E CORRE DEITADA.

É A



C) TEM ASA E NÃO VOA.

É A



➔ 1) LIGUE AS PALAVRAS AOS DESENHOS:



XÍCARA

CHUVA

ALHO

DENTE

CABEÇA

PÉ



MATEMÁTICA













SISTEMA MONETÁRIO

O nome do nosso dinheiro é chamado **Real**. Seu símbolo é **R\$**.
As quantias menores do real são chamadas centavos.
O real pode ser encontrado em cédulas ou moedas

1. Escreva o nome das cédulas que estão abaixo.



2. Observe o valor que Marcos e Jeremias possuem e pinte os produtos que eles podem comprar com esses valores.

<p>Marcos</p>  	 <p>5 reais</p>	 <p>3 reais</p>	 <p>2 reais</p>	 <p>1 real</p>
<p>Jeremias</p>  	 <p>5 reais</p>	 <p>3 reais</p>	 <p>2 reais</p>	 <p>1 real</p>

<https://educacaoetransformacaooficial.blogspot.com/2021/03/matematica-sistema-monetario.html>

FAÇA OS NÚMEROS DE 0 A 49:

0 - _____

10 - _____

20 - _____

30 - _____

40 - _____

IBIÚNA, 08 DE OUTUBRO DE 2021.

DIA DAS CRIANÇAS

O DIA DAS CRIANÇAS ESTÁ CHEGANDO, E OLHA QUANTAS BRINCADEIRAS LEGAIS. A ATIVIDADE DE HOJE SERÁ ESCOLHER UMA BRINCADEIRA, PODE CHAMAR O PAPAÍ, A MAMÃE OU IRMÃOZINHO PARA PARTICIPAR.

AH, NÃO ESQUEÇA DE REGISTRAR ESSE MOMENTO COM FOTOS E VÍDEOS E ENVIAR NO WHATSAPP.



Google Imagens

<https://maede2.com.br/7-brincadeiras-antigas-para-ensinar-ao-seu-filho-e-se-divertirem-juntos/>