

E.M "ALICE VIEIRA DE CAMARGO"

NOME:

3º ANO A

12ª APOSTILA

MINHAS ATIVIDADES



REFERENTES AOS DIAS: 29/09 E 30/09,01,04,05,06,07 E 08 DE OUTUBRO.

DEVOLUÇÃO: 07/10

PROFESSORA: BIANCA MIRANDA

NOME: _____

ESCOLA: _____ TURMA: _____

DATA: IBIÚNA, 29 DE SETEMBRO DE 2021

DISCIPLINA: CIÊNCIAS

5. Por que o desmatamento provoca o desgaste do solo?



6. Marque **F** para falso e **V** para verdadeiro em relação às **queimadas**.



Incêndio destruindo vegetação nativa na Chapada dos Veadeiros, município de Alto Paraíso, Estado de Goiás.

- As queimadas ajudam a adubar o solo.
- As queimadas representam a pior forma de destruição do solo.
- As queimadas eliminam os vegetais que protegem o solo.
- As queimadas tornam o solo mais fértil.
- As queimadas destroem os nutrientes do solo.
- As queimadas matam os pequenos seres vivos que colaboram na decomposição de restos de animais e de vegetais.

NOME: _____

ESCOLA: _____ TURMA: _____

DATA: IBIÚNA, 29 DE SETEMBRO DE 2021

DISCIPLINA: MATEMÁTICA

MÚLTIPLICAÇÃO COM SISTEMA MONETÁRIO

Faça a multiplicação das quantias do grupo de notas e dê o resultado ?

1. Fabiana e Larissa compraram seus materiais escolares para a volta às aulas. Fabiana comprou 4 tubos de cola e Larissa comprou 3 caixas de giz de cera. Qual delas gastou mais?



Resposta: _____

2. Considerando os objetos ao lado, calcule e escreva o preço em cada item:



De 2 vestidos. _____

De 6 anéis. _____

De 3 colares. _____

De 5 perfumes _____

3. A dona do restaurante Bom Prato comprou 8 caixas de suco, como esta, e pagou com 1 nota de R\$ 50,00. Quanto ela recebeu de troco?



NOME: _____

ESCOLA: _____ TURMA: _____

DATA: IBIÚNA, 30 DE SETEMBRO DE 2021

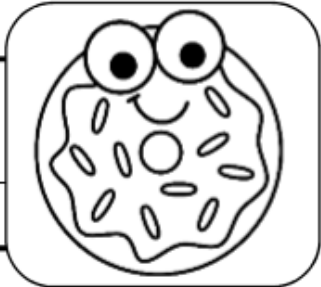
DISCIPLINA: LÍNGUA PORTUGUESA

SEPARE AS PALAVRAS COM BARRINHAS, ESCREVA A FRASE CORRETAMENTE E PINTE DE ACORDO.


OTÊNISDEANAÉAZUL.



GANHEIBISCOITODECHOCOLATE.



OSORVETEDELUIZÉDEABACAXI.



MEUPATINSÉVERMELHO.



NOME: _____

ESCOLA: _____ TURMA: _____

DATA: IBIÚNA, 30 DE SETEMBRO DE 2021

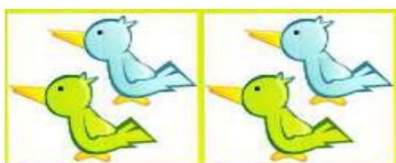
DISCIPLINA: MATEMÁTICA

MULTIPLICAÇÃO



1-Responda fazendo multiplicação.

a)Quantos passarinhos há ao todo?



$$\underline{\quad} \times \underline{\quad} = \underline{\quad}$$

b)Quantas borboletas há ao todo?




$$\underline{\quad} \times \underline{\quad} = \underline{\quad}$$

c)Quantos sorvete há ao todo?



$$\underline{\quad} \times \underline{\quad} = \underline{\quad}$$

d)Quantas abelhas há ao todo?



$$\underline{\quad} \times \underline{\quad} = \underline{\quad}$$

e)Quantos sóis há ao todo?



$$\underline{\quad} \times \underline{\quad} = \underline{\quad}$$

NOME: _____

ESCOLA: _____ TURMA: _____

DATA: IBIÚNA, 01 DE OUTUBRO DE 2021

DISCIPLINA: LÍNGUA PORTUGUESA

ADJETIVO É A PALAVRA QUE DÁ QUALIDADE AO SUBSTANTIVO. VEJA:

RUI, VOCÊ É UM
MENINO ESPERTO E
CARINHOSO.



ANA, VOCÊ É UMA
MENINA INTELIGENTE
E DIVERTIDA.



AS PALAVRAS **ESPERTO**, **CARINHOSO**, **INTELIGENTE** E **DIVERTIDA** SÃO ADJETIVOS. AGORA ESCOLHA DOIS ADJETIVOS PARA CADA FIGURA:







NOME: _____

ESCOLA: _____ TURMA: _____

DATA: IBIÚNA, 01 DE OUTUBRO DE 2021

DISCIPLINA: MATEMÁTICA

ADIVINHA QUEM SOU EU!



A) FICO ENTRE 35 E 37

B) FICO ENTRE 100 E 102

C) FICO ANTES DO 499

D) FICO DEPOIS DO 1.009

E) QUE NUMERAL FICA ANTES DE 126

F) É O RESULTADO DA SOMA DE $217+153$

NOME: _____

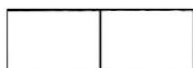
ESCOLA: _____ TURMA: _____

DATA: IBIÚNA, 04 DE OUTUBRO DE 2021

DISCIPLINA: MATEMÁTICA

MATEMÁTICA

1- Vamos completar a tabuada de multiplicação por 2?



$2 \times 0 = 0 + 0 = 0$



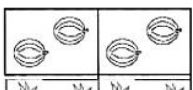
$2 \times \underline{\quad} = \underline{\quad} + \underline{\quad} = \underline{\quad}$



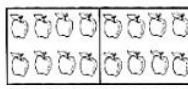
$2 \times 1 = 1 + 1 = 2$



$2 \times \underline{\quad} = \underline{\quad} + \underline{\quad} = \underline{\quad}$



$2 \times \underline{\quad} = \underline{\quad} + \underline{\quad} = \underline{\quad}$



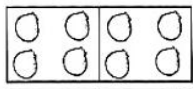
$2 \times \underline{\quad} = \underline{\quad} + \underline{\quad} = \underline{\quad}$



$2 \times \underline{\quad} = \underline{\quad} + \underline{\quad} = \underline{\quad}$



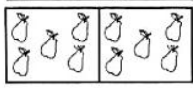
$2 \times \underline{\quad} = \underline{\quad} + \underline{\quad} = \underline{\quad}$



$2 \times \underline{\quad} = \underline{\quad} + \underline{\quad} = \underline{\quad}$



$2 \times \underline{\quad} = \underline{\quad} + \underline{\quad} = \underline{\quad}$




$2 \times \underline{\quad} = \underline{\quad} + \underline{\quad} = \underline{\quad}$


2- Veja como foram indicadas as operações e complete.



$3 + 3 = \underline{\quad}$
ou $2 \times 3 = \underline{\quad}$



$4 + 4 = \underline{\quad}$
ou $2 \times 4 = \underline{\quad}$



$5 + 5 = \underline{\quad}$
ou $2 \times 5 = \underline{\quad}$

3- Agora desenhe e complete para 2×6 :



$\underline{\quad} + \underline{\quad} = \underline{\quad}$
ou
 $\underline{\quad} \times \underline{\quad} = \underline{\quad}$

NOME: _____

ESCOLA: _____ TURMA: _____

DATA: IBIÚNA, 04 DE OUTUBRO DE 2021

DISCIPLINA: CIÊNCIAS

FAZENDO OBSERVAÇÕES


• Zezinho colocou uma sementinha em uma vasilha com algodão e esqueceu de molhar



• Aninha colocou uma sementinha em uma vasilha com algodão e colocou água todos os dias.



• Após 8 dias, veja o que aconteceu.



✎ O que vocês observaram nos dois experimentos?

✎ Qual o experimento que deu certo? Por quê?

Professora:

NOME: _____

ESCOLA: _____ TURMA: _____

DATA: IBIÚNA, 05 DE OUTUBRO DE 2021 _____

DISCIPLINA: HISTÓRIA _____

ATIVIDADE DE HISTÓRIA

1. FAZEMOS PARTE DE VÁRIOS GRUPOS SOCIAIS POR UMA NECESSIDADE DE CONVÍVIO SOCIAL. EM CADA GRUPO REALIZAMOS ATIVIDADES ESPECÍFICAS. IDENTIFIQUE E LIGUE CORRETAMENTE AS ATIVIDADES QUE PERTENCE AO GRUPO DA FAMÍLIA.



A FAMÍLIA PREPARANDO
O ALMOÇO.



A FAMÍLIA VIAJANDO.



REALIZAÇÃO DAS
ATIVIDADES ESCOLARES.



A FAMÍLIA FAZENDO A
LEITURA DA BÍBLIA.

NOME: _____

ESCOLA: _____ TURMA: _____

DATA: IBIÚNA, 05 DE OUTUBRO DE 2021

DISCIPLINA: LÍNGUA PORTUGUESA

LÍNGUA PORTUGUESA

Uso do **L** no final



1) Complete as palavras com L:

- a) jorna _____
- b) pessoa _____
- c) funi _____
- d) cafeza _____
- e) quinta _____
- f) pince _____
- g) barri _____

2) Escolha uma das palavras da atividade acima e forme frase.

3) Escreva agora quantas letras e quantas sílabas tem cada palavra:

	Letras	Sílabas
a) Funil	_____	_____
b) Anel	_____	_____
c) Pastel	_____	_____
d) Carrossel	_____	_____
e) Pincel	_____	_____
f) Barril	_____	_____
g) Coronel	_____	_____

4) Leia as frases abaixo e pinte de azul somente as palavras que terminam com L:

A) Gabriel tem um pincel.

B) Minha mãe tem um girassol.

C) Quantos anos tem Rafael?



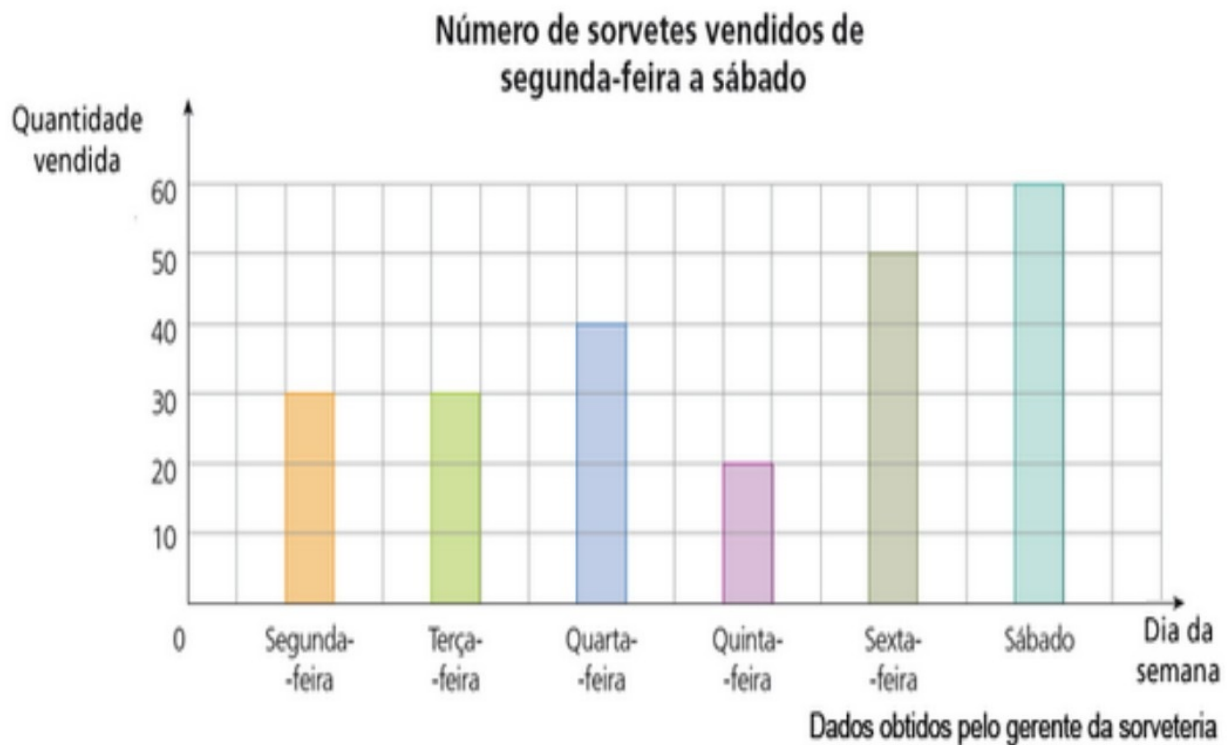
NOME: _____

ESCOLA: _____ TURMA: _____

DATA: IBIÚNA, 06 DE OUTUBRO DE 2021

DISCIPLINA: MATEMÁTICA

Observe abaixo o gráfico que mostra a quantidade de sorvetes vendidos em uma sorveteria.



Qual é a diferença entre o número de sorvetes consumidos no dia em que a sorveteria vendeu mais sorvetes e no dia em que a sorveteria vendeu menos sorvetes?

- A 10 sorvetes
- B 20 sorvetes
- C 30 sorvetes
- D 40 sorvetes

NOME: _____

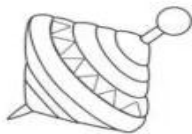
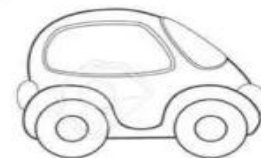
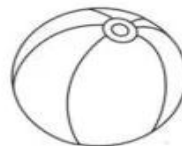
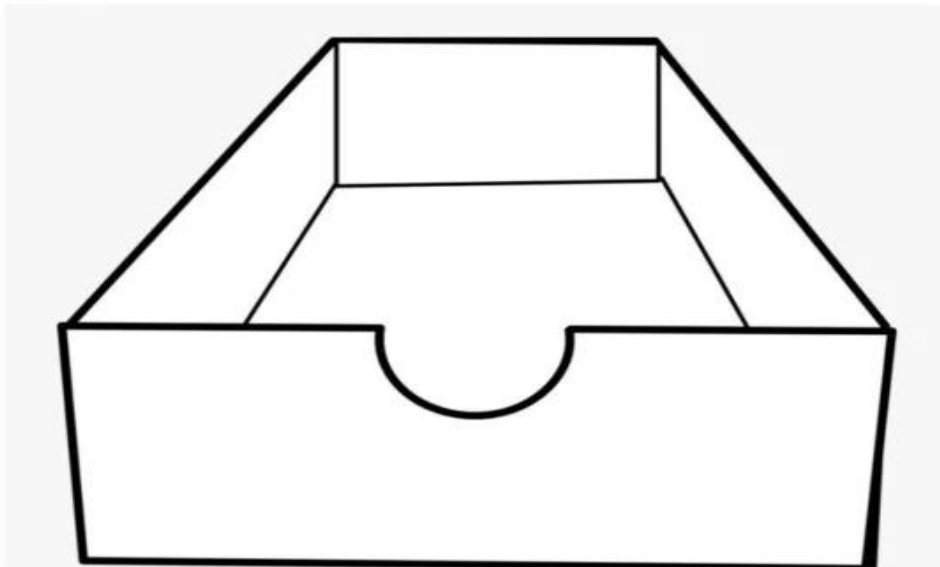
ESCOLA: _____ TURMA: _____

DATA: IBIÚNA, 06 DE OUTUBRO DE 2021 _____

DISCIPLINA: ARTES _____

Dia das Crianças

Pinte, recorte e cole os seus brinquedos favoritos dentro da caixa.



NOME: _____

ESCOLA: _____ TURMA: _____

DATA: IBIÚNA, 07 DE OUTUBRO DE 2021 _____

DISCIPLINA: GEOGRAFIA _____

Muitos aparelhos em nossa casa, funcionam com energia elétrica.

a) No Brasil, onde é produzida a maior parte dessa energia? Marque um (x) a resposta correta.

() estação de tratamento.

() usina hidrelétrica.

b) Escreva uma atitude que devemos ter para evitar o desperdício de energia elétrica.

Questão 07:

(3,0)

Observe a imagem abaixo:



a) Essa imagem mostra um rio limpo ou poluído? Justifique.

b) A água desse rio é própria para consumo? Justifique.

c) O que pode ser feito para evitar a poluição dos rios? Cite um exemplo do podemos fazer para que a poluição dos rios seja evitada.

f- O que é vegetação: _____

g- o que o desmatamento pode causar ao solo: _____

NOME: _____

ESCOLA: _____ TURMA: _____

DATA: IBIÚNA, 07 DE OUTUBRO DE 2021 _____

DISCIPLINA: ARTES _____

Atividades

1. Vamos colorir



REFERÊNCIAS

acesaber.com.br

<https://atividadespedagogicas.net>

<https://educacaoetransformacaooficial.blogspot.com>

lereaprender.com.br

www.smartkids.com.br