



E.M. "BAIRRO MANUEL CLEMENTE"

PROFESSORA: ANTONIA

1º ANO- A

ALUNO (A):

ATIVIDADES DO PERÍODO 29/09 A 07/10/2021.

12ª APOSTILA

(E.F.C.B) ESTRADA DE FERRO CENTRAL DO BRASIL – OBRA TARSILA DO AMARAL.



DEVOLUÇÃO DA APOSTILA NA UNIDADE ESCOLAR: 07/10/2021.

ROTEIRO E REFERÊNCIAS ANEXOS

Roteiro de atividades		
DIA	DESCRIÇÃO	PÁGINA
	CAPA	01
	ROTEIRO DE ATIVIDADES	02
29/09	FAMÍLIA SILÁBICA DA LETRA "P".	03
29/09	COMPLETAR A SEQÜÊNCIA NUMÉRICA DE 1 A 100.	04
30/09	1-COMPLETAR COM A LETRA "P" AS PALAVRAS ; 2-FORMAR PALAVRAS; 3-COM A AJUDA DE UM ADULTO VOCÊ VAI LER AS PALAVRAS; 4-LIGAR FIGURAS AO NOME.	05
30/09	MEDIDA DE COMPRIMENTO.	06
01/10	COMPLETAR AS PALAVRAS COM AS SÍLABAS E COPIE- AS.	07
01/10	COMPLETAR O CALENDÁRIO DE OUTUBRO.	08
04/10	TEXTO: A PIPA E O PIÃO E INTERPRETAÇÃO.	09
04/10	TUDO SOBRE MEDIDAS.	10
05/10	ORDENAR AS FRASES.	11
05/10	CIRCULAR AS FIGURAS QUE COMPRAMOS POR METRO.	12
05/10	ESCREVER OS NOMES DAS PARTES DO CORPO.	13
06/10	CIRCULAR A PALAVRA DE ACORDO COM O NOME DA FIGURA.	14
06/10	VAMOS SOMAR..	15
07/10	ATIVIDADES COM A LETRA "P".	16
07/10	VAMOS SUBTRAIR ?	17
	TRABALHANDO COM RECICLÁVEIS.	18



E.M. "BAIRRO MANUEL CLEMENTE".

IBIÚNA, 29 DE SETEMBRO DE 2021.

PROFESSORA : ANTONIA

1º ANO A

ALUNO(A): _____

LÍNGUA PORTUGUESA

FAMÍLIA SILÁBICA

FORME AS SÍLABAS CORRETAMENTE:

P → **A** →

P → **E** →

P → **I** →

P → **O** →

P → **U** →

PA PE PI PO PU

1- COMPLETE AS PALAVRAS COM O SOM INICIAL:



NELA



IXE



PA



RCO



MA



E.M. "BAIRRO MANUEL CLEMENTE".

IBIÚNA, 29 DE SETEMBRO DE 2021.


PROFESSORA : ANTONIA

1º ANO A

ALUNO(A): _____

MATEMÁTICA

SEQÜÊNCIA NUMÉRICA ,COMPLETE:



NOME: _____

ESCREVA OS NÚMEROS ATÉ 100



	2		4		6		8		10
	12		14		16		18		20
	22		24		26		28		30
	32		34		36		38		40
	42		44		46		48		50
	52		54		56		58		60
	62		64		66		68		70
	72		74		76		78		80
	82		84		86		88		90
	92		94		96		98		100



E.M. "BAIRRO MANUEL CLEMENTE".

IBIÚNA, 30 DE SETEMBRO DE 2021.

PROFESSORA : ANTONIA

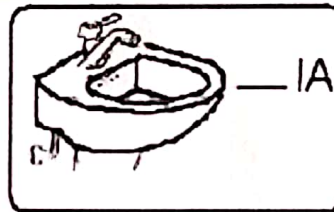
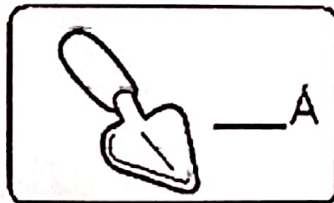
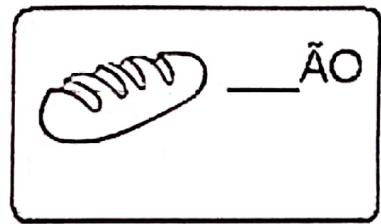
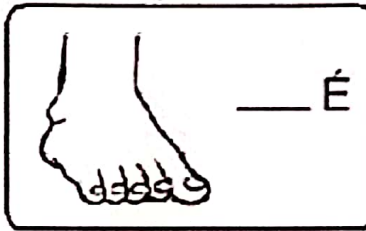
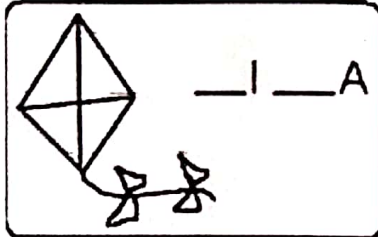
1º ANO A

ALUNO(A): _____

LÍNGUA PORTUGUESA



1- COMPLETE COM A LETRA P NAS PALAVRAS E LEIA:



2- FORME PALAVRAS:


PI $\begin{cases} A = \underline{\hspace{2cm}} \\ PA = \underline{\hspace{2cm}} \end{cases}$

PA $\begin{cases} I = \underline{\hspace{2cm}} \\ U = \underline{\hspace{2cm}} \end{cases}$

3- LEIA AS PALAVRAS COM A AJUDA DE UM ADULTO

pia	pá	papa	pão	pato
pé	pau	papai	piu	Pepe
pipa	pião	papo	upa	põe

4- LIGUE:



PIPA

PÁ

PÉ



E.M. "BAIRRO MANUEL CLEMENTE".

IBIÚNA, 30 DE SETEMBRO DE 2021.

PROFESSORA : ANTONIA

1º ANO A

ALUNO(A): _____




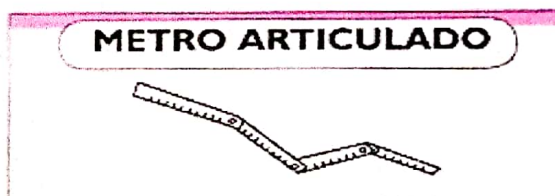
MATEMÁTICA



MEDIDA DE COMPRIMENTO

MEDIMOS O COMPRIMENTO DE TERRENOS, DE CORDÕES, DE FITAS, DE TECIDOS E A ALTURA DAS PESSOAS EM METROS. PARA ISSO, UTILIZAMOS ALGUNS INSTRUMENTOS PARA MEDIR.

- OBSERVE OS DESENHOS DOS PROFISSIONAIS E LIGUE-OS AOS INSTRUMENTOS USADOS POR ELES.





E.M. "BAIRRO MANUEL CLEMENTE".

IBIÚNA, 01 DE OUTUBRO DE 2021.

PROFESSORA : ANTONIA

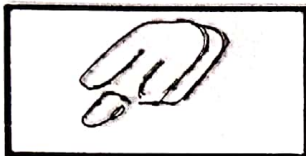
1º ANO A

ALUNO(A): _____


LÍNGUA PORTUGUESA

COMPLETE AS PALAVRAS COM AS SÍLABAS E
COPIE AS PALAVRAS:

PA PE PI PO PU PÃO



___ COLÉ



SA ___ TO




___ LHAÇO



___ NELA



SA _____



A ___ TO



___ ÃO



E.M. "BAIRRO MANUEL CLEMENTE".

IBIÚNA, 01 DE OUTUBRO DE 2021.


PROFESSORA : ANTONIA

1º ANO A

ALUNO(A): _____

MATEMÁTICA

CALENDÁRIO OUTUBRO - 2021



DOMINGO	SEGUNDA - FEIRA	TERÇA - FEIRA	QUARTA - FEIRA	QUINTA - FEIRA	SEXTA - FEIRA	SÁBADO
					1	2
3	4	5	6	7	8	9
10	11	12	13	14	15	16
17	18	19	20	21	22	23
24	25	26	27	28	29	30
31						

USAR CALENDÁRIO ACIMA PARA COMPLETAR O DE BAIXO.

DOMINGO	SEGUNDA - FEIRA	TERÇA - FEIRA	QUARTA - FEIRA	QUINTA - FEIRA	SEXTA - FEIRA	SÁBADO



E.M. "BAIRRO MANUEL CLEMENTE".

IBIÚNA, 04 DE OUTUBRO DE 2021.

PROFESSORA : ANTONIA

1º ANO A

ALUNO(A): _____

LÍNGUA PORTUGUESA

LEIA O TEXTO

A PIPA E O PIÃO

EDU TEM UMA PIPA
DANILO TEM UM PIÃO.
A PIPA VOA NO CÉU,
O PIÃO RODA NO CHÃO.
A PIPA DE EDU VOA,
SOBE E NÃO CAI.
O PIÃO DE DANILO
FICA NO CHÃO
E RODA TODO O SALÃO.



GRAÇA BOQUET

2. EDU TEM UMA:

BOLA

PIÃO

PIPA

3. DANILO TEM UM:

BOLA

PIÃO

PIPA

3. A PIPA VOA NO:

MATO

CHÃO

CÉU

4. O PIÃO RODA NO:

MATO

CHÃO

CÉU



E.M. "BAIRRO MANUEL CLEMENTE".

IBIÚNA, 04 DE OUTUBRO DE 2021.

PROFESSORA : ANTONIA

1º ANO A

ALUNO(A): _____

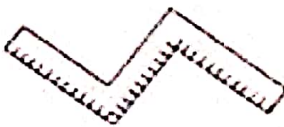
MATEMÁTICA

TUDO SOBRE MEDIDAS

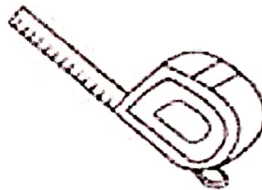
O metro é a unidade de medida de comprimento.

Com ele podemos medir o comprimento, a largura ou a espessura de objetos, a altura das pessoas, etc.

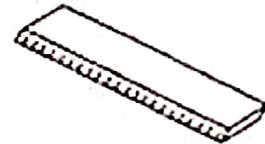
Veja alguns objetos usado para medir:



Metro articulado



Trena




Régua



Metro



Fita métrica

 Complete as frases usando os nomes dos instrumentos acima.

A) A costureira usa o para tirar as medidas da freguesa.

B) O aluno usa o na escola.

C) O vendedor usa o para medir o tecido.



E.M. "BAIRRO MANUEL CLEMENTE".


IBIÚNA, 05 DE OUTUBRO DE 2021.

PROFESSORA : ANTONIA

1º ANO A

ALUNO(A): _____

LÍNGUA PORTUGUESA



ORDENE AS FRASES

² PATO ⁴ FUNDO ³ MERGULHOU ⁵ NA ⁶ LAGOA, ¹ O

0 PATO MERGULHOU FUNDO NA LAGOA.

² BÉZERRA ⁴ NO ¹ O ³ CORRE ⁵ PASTO.

² PORCO-ESPINHO ⁶ ESTRANHO, ⁴ UM ³ É ¹ O ⁵ BICHO

³ CANTOU ⁴ BEM ² GALO ⁵ CEDINHO, ¹ O

[https://1.bp.blogspot.com/-Hdojkz9Wd-](https://1.bp.blogspot.com/-Hdojkz9Wd-U/Xifjthj95BI/AAAAAABBDU/TEDkjcUWcVgFNNNtrkE5t59BTwJ5YJ7CQClcBGAs/s1600/atividades-de-alfabetiza%25C3%25A7%25C3%25A3o-ordenar-frases-imprimir-8.JPG)

[U/Xifjthj95BI/AAAAAABBDU/TEDkjcUWcVgFNNNtrkE5t59BTwJ5YJ7CQClcBGAs/s1600/atividades-de-alfabetiza%25C3%25A7%25C3%25A3o-ordenar-frases-imprimir-8.JPG](https://1.bp.blogspot.com/-Hdojkz9Wd-U/Xifjthj95BI/AAAAAABBDU/TEDkjcUWcVgFNNNtrkE5t59BTwJ5YJ7CQClcBGAs/s1600/atividades-de-alfabetiza%25C3%25A7%25C3%25A3o-ordenar-frases-imprimir-8.JPG)



E.M. "BAIRRO MANUEL CLEMENTE".

IBIÚNA, 05 DE OUTUBRO DE 2021.

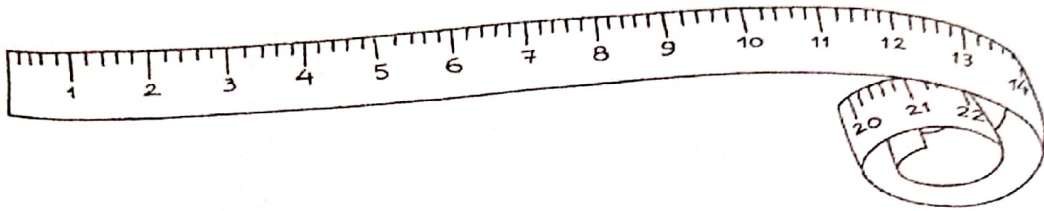
PROFESSORA : ANTONIA

1º ANO A


ALUNO(A): _____

MATEMÁTICA

Para medir o comprimento usamos o **metro**.



Circule as figuras que indicam o que compramos por **metro**.





E.M. "BAIRRO MANUEL CLEMENTE".

IBIÚNA, 05 DE OUTUBRO DE 2021.

PROFESSORA : ANTONIA

1º ANO A

ALUNO(A): _____

CIÊNCIAS

ESCREVENDO OS NOMES DAS PARTES DO CORPO

COMPLETE OS NOMES DAS PARTES DO CORPO COM AS LETRAS QUE FALTAM:



M _____



O _____ LH _____



_____ A _____ EL _____



B _____



_____ A _____ Z



_____ LH _____



B _____ R _____ IG _____





E.M. "BAIRRO MANUEL CLEMENTE".

IBIÚNA, 06 DE OUTUBRO DE 2021.

PROFESSORA : ANTONIA

1º ANO A

ALUNO(A): _____

LÍNGUA PORTUGUESA

ATIVIDADE

1. CIRCULE A PALAVRA DE ACORDO COM O NOME DE CADA FIGURA.

LETRA P

	PAVIO PIANO PIPOCA		PARTE PORTA PORCO
	PACOTE PETECA PANELA		TIÃO LIMÃO PIÃO
	PENA PELE PEGA		POTE PIPA PATO
	PETECA PENA PENTE		PENA PEIXE FEIXE
	PIPOCA PIPA PIANO		CÃO MÃO PÃO



E.M. "BAIRRO MANUEL CLEMENTE".

IBIÚNA, 06 DE OUTUBRO DE 2021.

PROFESSORA : ANTONIA

1º ANO A

ALUNO(A): _____

MATEMÁTICA

DADOS DA ADIÇÃO

1- VAMOS SOMAR.

$$\begin{array}{|c|} \hline \begin{array}{c} \square \\ \cdot \end{array} + \begin{array}{c} \square \\ \cdot \end{array} = \underline{10} \\ \hline \end{array}$$

$$\begin{array}{|c|} \hline \begin{array}{c} \square \\ \cdot \end{array} + \begin{array}{c} \square \\ \cdot \end{array} = \underline{\quad} \\ \hline \end{array}$$

$$\begin{array}{|c|} \hline \begin{array}{c} \square \\ \cdot \end{array} + \begin{array}{c} \square \\ \cdot \end{array} = \underline{\quad} \\ \hline \end{array}$$

$$\begin{array}{|c|} \hline \begin{array}{c} \square \\ \cdot \end{array} + \begin{array}{c} \square \\ \cdot \end{array} = \underline{\quad} \\ \hline \end{array}$$

$$\begin{array}{|c|} \hline \begin{array}{c} \square \\ \cdot \end{array} + \begin{array}{c} \square \\ \cdot \end{array} = \underline{\quad} \\ \hline \end{array}$$

$$\begin{array}{|c|} \hline \begin{array}{c} \square \\ \cdot \end{array} + \begin{array}{c} \square \\ \cdot \end{array} = \underline{\quad} \\ \hline \end{array}$$

$$\begin{array}{|c|} \hline \begin{array}{c} \square \\ \cdot \end{array} + \begin{array}{c} \square \\ \cdot \end{array} = \underline{\quad} \\ \hline \end{array}$$

$$\begin{array}{|c|} \hline \begin{array}{c} \square \\ \cdot \end{array} + \begin{array}{c} \square \\ \cdot \end{array} = \underline{\quad} \\ \hline \end{array}$$

$$\begin{array}{|c|} \hline \begin{array}{c} \square \\ \cdot \end{array} + \begin{array}{c} \square \\ \cdot \end{array} = \underline{\quad} \\ \hline \end{array}$$

$$\begin{array}{|c|} \hline \begin{array}{c} \square \\ \cdot \end{array} + \begin{array}{c} \square \\ \cdot \end{array} = \underline{\quad} \\ \hline \end{array}$$

$$\begin{array}{|c|} \hline \begin{array}{c} \square \\ \cdot \end{array} + \begin{array}{c} \square \\ \cdot \end{array} = \underline{\quad} \\ \hline \end{array}$$

$$\begin{array}{|c|} \hline \begin{array}{c} \square \\ \cdot \end{array} + \begin{array}{c} \square \\ \cdot \end{array} = \underline{\quad} \\ \hline \end{array}$$



E.M. "BAIRRO MANUEL CLEMENTE".

IBIÚNA, 07 DE OUTUBRO DE 2021.


PROFESSORA : ANTONIA

1º ANO A

ALUNO(A): _____



LÍNGUA PORTUGUESA

...**■** COMPLETE OS NOMES DAS FIGURAS COM A LETRA P:



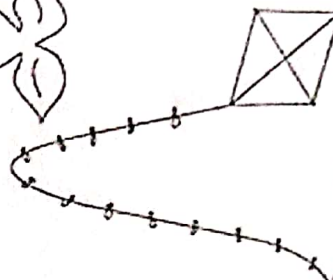
PETECA
— ETECA

PIÃO
— IÃO



PEIXE
— EIXE

PIPA
— IPA



PA

PE

PI


PO

PU

...**■** CIRCULE AS LETRAS P QUE ENCONTRAR ABAIXO:



...**■** JUNTE AS SÍLABAS E ESCREVA AS PALAVRAS:



LA → DO

PELADO

PI → NO

LU → DO



PO → TE

MA → DA

PI → PO → CA



E.M. "BAIRRO MANUEL CLEMENTE".

IBIÚNA, 07 DE OUTUBRO DE 2021.

PROFESSORA : ANTONIA

1º ANO A

ALUNO(A): _____

MATEMÁTICA



VAMOS SUBTRAIR?

RESOLVA OS PROBLEMINHAS.

1.

GUTO TINHA... COMEU... QUANTAS RESTARAM?

$5 - 2 = 3$

2.

ANA GANHOU... ESTOUROU... QUANTOS RESTARAM?

3.

JOÃO PEGOU... CAÍRAM... QUANTAS RESTARAM?

4.

LUÍZA COMPROU... DEU... QUANTOS RESTARAM?

<https://1.bp.blogspot.com/->

2NlaMrM7WQc/Xi8QODwbHpl/AAAAAAAAAm0I/FdYLFikLoHYEladmRVDUwFxlCyIOG_BRgCnCBGAsYHQ/s1600/SUBTRAIR.png



E.M. "BAIRRO MANUEL CLEMENTE".

PROFESSORA : ANTONIA

1º ANO A

ALUNO(A): _____

ARTES



UTILIZANDO MATERIAIS RECICLÁVEIS...

PARA CONFECCIONAR ESSE PAPA – BOLINHAS VOCÊ VAI PRECISAR DE UMA GARRAFA VAZIA DESCARTÁVEL, PEDIR PARA UM ADULTO CORTAR, DECORAR COM PAPEL COLORIDO, FAZER AS BOLINHAS DE PAPEL E JOGAR DENTRO DA BOCA DO PAPA – BOLINHAS PARA BRINCAR.



BARCO DAS BONECAS. COMO FAZER...

VOCÊ VAI UTILIZAR DUAS GARRAFAS VAZIAS, PEDIR PARA UM ADULTO CORTAR, COLAR COM DUREX PARA UNIR AS DUAS, DEPOIS DE PRONTO UM ADULTO COLOCARÁ ÁGUA NUM RECIPIENTE PARA BRINCAR.