



Ser criança é ser feliz,
É viver se arriscando por um triz,
Como se tivesse consciência
De Deus, de sua onipresença.

Ser criança é desafiar o mundo,
Querer saber tudo profundo,
Guardando numa mente que, decerto,
Deste universo não conhece um
milésimo.

(...)

Ser criança é chorar solto
Por todo e qualquer “desgosto”,
E permitir ser consolada
Com um doce, um afago e uma risada.

Ser criança é aprender
Desde a mais tenra idade
Que a Deus tudo pertence,
E deve ser feita a Sua vontade.

Eneida Dias de Miranda



HIGIENE

👉 Troque os símbolos pelas letras e descubra alguns hábitos de higiene.

D	A	E	I	O	U	T	L	P
☀️	👉	💧	➡️	😊	💧	👉	😞	👉

1- M😊☀️➡️ ➡️RG😊➡️ D➡️S S💧NT☀️D➡️S 💧 😊 P💧L💧.

2- ☀️😊RM➡️R 😊➡️T😊 HOR😊S POR😊 D➡️👉.

3- 😞👉V👉R 👉S M😊M😊S 👉N😊💧S ☀️👉S R💧F💧➡️Ç😊💧S.

4- 💧SC😊V👉R 😊S ☀️N😊💧S.

5- 👉R👉💧➡️C👉R 💧S👉😊R👉💧S.

5- 😞💧R B😊NS 😞➡️VR😊S.


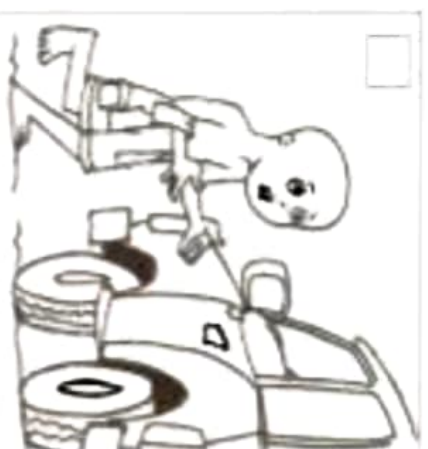


Precisamos ter hábitos de higiene com o nosso corpo, com a nossa mente e com o ambiente em que vivemos.

Encontre no diagrama os direitos das crianças apresentados ao lado

C	A	S	A	S	A	L	E	T	E	T	Y	I	A	S	V	A	S	I	
A	O	E	T	Y	T	Y	I	S	F	G	D	F	T	Y	T	I	T	I	
B	I	N	E	R	T	Y	U	B	A	Z	X	C	Z	X	C	Z	D	I	
I	I	Y	V	A	S	D	F	A	E	Z	X	C	Z	X	C	Z	Z	A	
H	K	U	I	I	A	S	D	A	S	R	Z	X	C	V	B	N	Z	O	
J	C	Y	K	I	V	E	R	T	Y	U	D	Z	X	C	V	Z	X	O	
I	I	U	L	O	C	E	S	D	F	T	H	A	Z	X	C	V	B	S	
L	K	U	L	L	V	A	N	A	F	H	F	H	D	Z	X	C	Z	V	
I	I	Y	I	T	C	X	A	C	E	R	T	F	G	E	Z	X	C	S	
E	K	U	K	I	U	C	X	H	I	T	Y	H	Z	X	C	Z	X	V	
I	S	I	L	L	J	R	Z	N	R	A	H	J	Z	X	C	Z	X	S	
L	I	P	I	K	I	P	A	H	T	T	F	J	Z	X	C	Z	Z	Z	
I	E	I	O	J	L	P	J	I	N	T	R	H	A	H	E	R	T	Y	X
L	E	K	I	R	I	J	J	H	T	R	H	J	M	C	V	B	N	C	
I	D	A	S	A	T	A	S	A	S	Z	X	Z	X	I	C	V	C	Z	
L	A	S	A	S	A	E	A	D	D	F	D	F	D	F	L	I	F	X	
L	A	Z	E	R	A	S	D	A	S	D	A	S	D	A	S	I	D	C	
A	S	D	F	A	S	D	A	S	D	A	S	D	A	S	D	A	A	V	
E	D	U	C	A	Ç	Ã	O	Z	X	C	V	Z	X	C	Z	X	C	R	

Quais direitos das crianças estão sendo desrespeitados nos quadrinhos abaixo?



Direito à escola;

Direito à festa;

Direito à alimentação;

Direito à lazer;


Direito à moradia;

Direito à trabalhar;

Direito de ter um nome;

Direito de ter um celular;

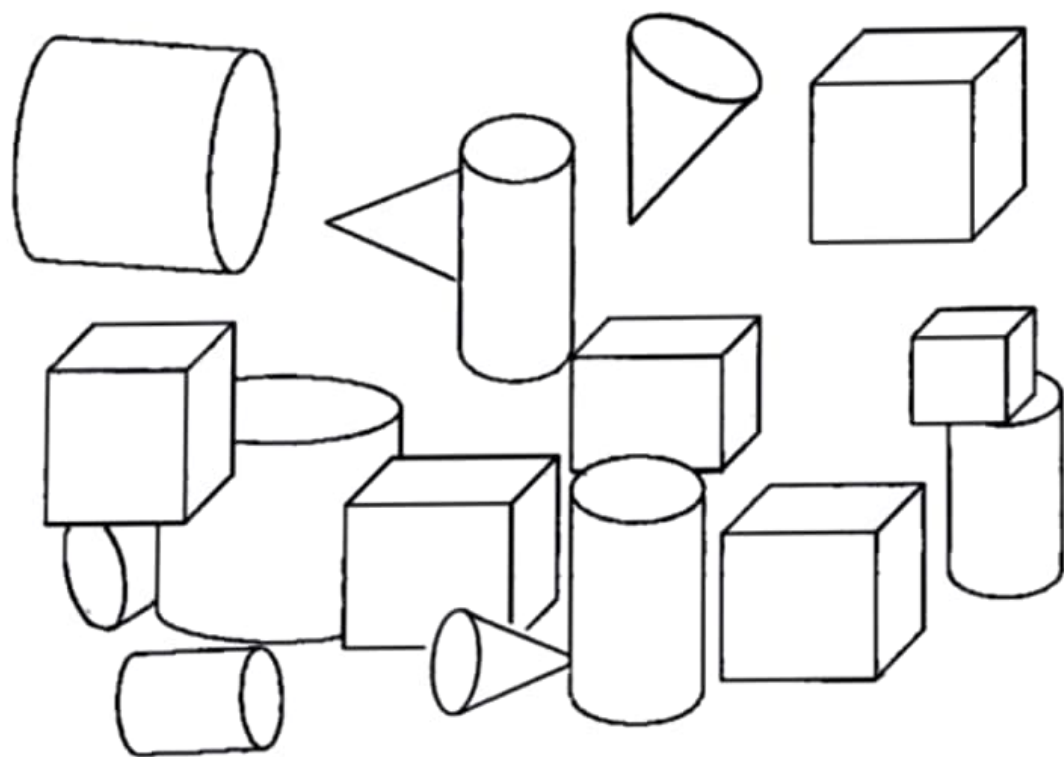
Direito à socorro no hospital;



ESCOLA:

Data:/...../..... Aluno(a):.....

5) Pinte os cones de azul, os cubos de vermelho e os cilindros de verde.



6) - Escreva o nome do sólido geométrico que cada figura lembra.



A bola lembra uma _____.



Um lápis lembra um _____.



Um funil lembra um _____.



Um dado lembra um _____.





Tudo

Imagens

Notícias

Vídeos

Maps

Com

Direito da Criança



Canção de Mara Maravilha

Vista geral

Letras

Ouvir

Criança tem direito a se alimentar
Criança tem direito a se educar
Saúde é preciso, precisa cuidar
E todas as crianças têm direito a um lar

Criança tem direito pra se respeitar
Não pode no papel esse direito ficar
E o mundo inteiro tem que entender
Que o direito da criança é pra valer

Futuro do mundo
Não pode sofrer nenhum tipo de agressão
Criança amada
Só tem carinho e amor no coração


Refrão:

Já é a hora de mudar
Com os direitos da criança
Não é pra se brincar

Refrão...

Fonte: [Musixmatch](#)

Compositores: Marcos Pagé / Marileide Felix / Paulo Góes



Nome:

data: / /

EXERCÍCIOS DE DIVISÃO - 4º ANO

1. EM UMA FAZENDA HÁ UM REBANHO COM 874 CABEÇAS DE GADO. SE EU DIVIDIR ESTE REBANHO EM 2 GRUPOS, QUANTO CABEÇAS DE GADO CADA GRUPO TERÁ?

2. EM UM GALINHEIRO, NASCERAM O TOTAL DE 378 PINTINHOS. SE EU COLOCAR ESTES PINTINHOS EM TRÊS GRUPOS, QUANTOS PINTINHOS HAVERÁ EM CADA GRUPO?

3. ELIANE É PRODUTORA DE ABACATES. ELA COLHEU O TOTAL DE 496 ABACATES E DISTRIBUIU EM 4 CAIXAS. QUANTOS ABACATES CADA CAIXA RECEBEU?

4. HENRIQUE TEM UM PACOTE COM 936 BALAS. ELE RESOLVEU GUARDAR SUAS BALAS EM 4 POTES. QUANTAS BALAS CADA POTE RECEBEU?

5. ALISON COMPROU UM SOFÁ NO VALOR DE 1050 REAIS. ELE DIVIDIU SUA COMPRA EM 5 PARCELAS IGUAIS. QUANTOS REAIS ELE PAGARÁ EM CADA PARCELA?

Escola: _____

Data: _____ Turma: _____

Aluno: _____

ATIVIDADES



1. Use S ou SS para completar as palavras e escreva-as no seu respectivo quadro.

Progre__o

Pen__amento

A__inante

Con__erva

A__obio

Aniver__ário

So__egar

En__opado

Nece__idade

Con__elho

Pa__arela

Recur__o

Cla__ificado

Can__ado

Sal__icha

Pa__eata

Con__ulta

A__oalho

Pul__eira

Pe__oa



S

SS

Nome:

data: / /

EXERCÍCIOS DE DIVISÃO - 4º ANO

1. EM UMA FAZENDA HÁ UM REBANHO COM 874 CABEÇAS DE GADO. SE EU DIVIDIR ESTE REBANHO EM 2 GRUPOS, QUANTO CABEÇAS DE GADO CADA GRUPO TERÁ?

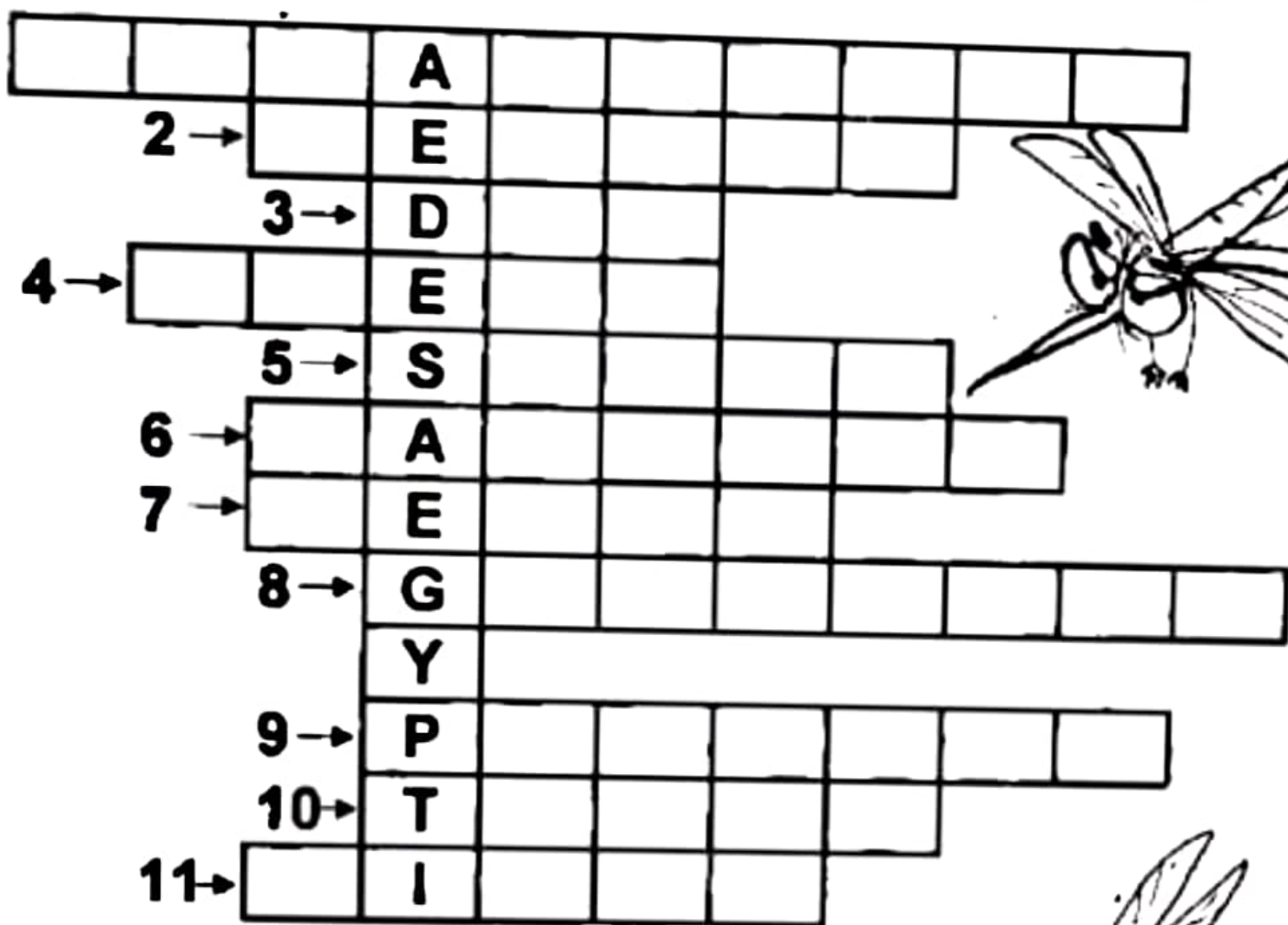
2. EM UM GALINHEIRO, NASCERAM O TOTAL DE 378 PINTINHOS. SE EU COLOCAR ESTES PINTINHOS EM TRÊS GRUPOS, QUANTOS PINTINHOS HAVERÁ EM CADA GRUPO?

3. ELIANE É PRODUTORA DE ABACATES. ELA COLHEU O TOTAL DE 496 ABACATES E DISTRIBUIU EM 4 CAIXAS. QUANTOS ABACATES CADA CAIXA RECEBEU?

4. HENRIQUE TEM UM PACOTE COM 936 BALAS. ELE RESOLVEU GUARDAR SUAS BALAS EM 4 POTES. QUANTAS BALAS CADA POTE RECEBEU?

5. ALISON COMPROU UM SOFÁ NO VALOR DE 1050 REAIS. ELE DIVIDIU SUA COMPRA EM 5 PARCELAS IGUAIS. QUANTOS REAIS ELE PAGARÁ EM CADA PARCELA?

Encontre na cruzadinha abaixo palavras relacionadas à Dengue e complete as frases abaixo:



1. Evite _____ (água parada)
2. Nome da doença _____ (dengue)
3. Um dos sintomas é a _____ de cabeça (dor)
4. Elimine _____ que estão fora de uso (pneus)
5. Procure o posto de _____ (saúde)
6. Outro sintoma é o aparecimento de _____ vermelhas da pele (manchas)
7. A _____ é outro sintoma (febre)
8. Vire as _____ velhas de cabeça para baixo (garrafas)
9. Lave os vasos das _____ duas vezes por semana (plantas)
10. _____ as caixas d'água, cisternas, tambores, etc (tampe)
11. Mantenha os _____ tampados e secos (lixos)

MINHAS ATIVIDADES

NOME: _____

REMESSA: 12º

DIAS 20/09 ao 08/10/2021

PROF.: JANETE SOARES MENDES

TURMA: 4º ANO A



2021

BOM TRABALHO!