

E.M. "PROFESSORA YOLANDA AGOSTINHO DE LIMA."

MINHAS ATIVIDADES



PROFESSORA: TATIANE DE BARROS.

TURMA: 2º ANO B

ALUNO(A): _____

12ª APOSTILA: 29/09 A 08/10

REFERENTE AO 3º BIMESTRE


NOME: _____ DATA: 29/09/2021

LÍNGUA PORTUGUESA

LEIA E RESPONDA AS QUESTÕES:

O BOM ALUNO

EU SOU PEQUENININHO
MAS TENHO UMA OBRIGAÇÃO
ESTUDAR E SER BOM ALUNO
PARA CRESCER COM EDUCAÇÃO



ACORDO CEDO E ME LEVANTO
ESCOVO OS DENTES E VOU LANCHAR
NÃO PERCO TEMPO COM PREGUIÇA
POIS NA ESCOLA PRECISO CHEGAR

MINHA FAMÍLIA FICA CONTENTE
QUANDO ME COMPORTO BEM
PRESTANDO ATENÇÃO NA AULA
E NA EXPLICAÇÃO TAMBÉM



GOSTO DA MINHA PROFESSORA
QUE SE DEDICA PRA VALER
ENSINANDO OS CONTEÚDOS
QUE ME AJUDARÃO A CRESCER

NA ESCOLA TEM DIVERSÃO
TEM AMIGOS E DESCOBERTAS
QUANDO APRENDEMOS DE VERDADE
TUDO VIRA UMA GRANDE FESTA.

Autora: Karla Valéria Alves Tavares de Sousa

MARQUE ONDE APARECE O TÍTULO DO TEXTO:

A MINHA ESCOLA

A GRANDE FESTA

O BOM ALUNO

A SALA DE AULA

MARQUE AS AÇÕES QUE A CRIANÇA FAZ AO ACORDAR:

- PRESTANDO ATENÇÃO NA AULA
- ESCOVO OS DENTES E VOU LANCHAR
- NA ESCOLA TEM DIVERSÃO
- TEM AMIGOS E DESCOBERTAS

MARQUE ONDE APARECE O NOME DA IMAGEM

- PROFESSORA
- FAMILIA
- ALUNO
- ESCOLA



Embora eu não seja rei,
Decreto, neste país,
Que toda, toda criança
Tem direito de ser feliz!

NOME: _____ DATA: 29/09/2021

MATEMÁTICA



RESPONDA AS PERGUNTAS SOBRE O CALENDÁRIO:

QUANTOS DIAS TÊM O MÊS DE OUTUBRO? _____

QUAL DIA COMEMORA-SE O DIA DAS CRIANÇAS? _____

EM QUE DIA DA SEMANA CAIRÁ O DIA 12? _____

QUANTOS SÁBADOS TÊM O MÊS DE OUTUBRO? _____

NOME: _____ DATA: 30/09/2021

LÍNGUA PORTUGUESA

ENCONTRE NO CAÇA PALAVRAS...

COISAS QUE CRIANÇA GOSTA.



F	A	B	P	I	S	C	I	N	A
U	C	H	M	W	V	S	Q	R	M
T	D	O	C	E	S	P	O	N	J
E	D	I	N	U	X	L	A	F	E
B	E	J	O	T	Y	K	T	T	D
O	F	L	P	S	X	I	S	V	C
L	B	R	I	N	Q	U	E	D	O
R	G	K	Q	D	H	G	F	B	A

PISCINA - FUTEBOL - DOCES - BRINQUEDO - TV - FESTA

ESCOLHA UMA PALAVRA DO CAÇA PALAVRAS E FORME UMA FRASE:

NOME: _____ DATA: 30/09/2021

MATEMÁTICA

DIAS DA SEMANA

UMA SEMANA TEM

7 DIAS

VAMOS CONHECER?



1º DOMINGO
2º SEGUNDA-FEIRA
3º TERÇA-FEIRA
4º QUARTA-FEIRA
5º QUINTA-FEIRA
6º SEXTA-FEIRA
7º SÁBADO

RESPONDA AS PERGUNTAS:

QUANTOS DIAS TEM UMA SEMANA? _____

QUAL É O PRIMEIRO DIA DA SEMANA? _____

QUAL É O ÚLTIMO DIA DA SEMANA? _____

QUE DIA DA SEMANA É HOJE? _____

NOME: _____ DATA: 01/10/2021

LÍNGUA PORTUGUESA

LEGENDA CERTA

LIGUE A IMAGEM À LEGENDA QUE FAZ SENTIDO:



O MENINO ESTÁ
BRINCANDO COM
OS CARRINHOS.



A COMIDA DO CACHORRO
ESTÁ NO POTE VERDE.



A BEBÊ ESTÁ COMENDO.



A MULHER ESTÁ
COZINHANDO.



AS CRIANÇAS ESTÃO
PULANDO CORDA.

NOME: _____ DATA: 01/10/2021

MATEMÁTICA

BRINCANDO NA PRACINHA!



VAMOS OBSERVAR BEM A IMAGEM E RESPONDER:

1. QUANTAS CRIANÇAS ESTÃO JOGANDO BOLITA?

2. QUANTAS CRIANÇAS ESTÃO BRINCANDO NA GANGORRA?

3. QUANTAS CRIANÇAS ESTÃO BRINCANDO NA PRACINHA?

4. EXISTEM MAIS MENINOS OU MENINAS BRINCANDO?

NOME: _____ DATA: 04/10/2021

LÍNGUA PORTUGUESA




ENCONTRE AS SEGUINTE
PALAVRAS NO CAÇA PALAVRAS
SILÁBICO.




































BOLHA CHUVA CEBOLA AMARELO
LATA FADA CAMA CEGO CEREJA
GIRAFÁ CARETA CIDADE TECIDO


CO	ME	CE	RE	JA	NU	CE	GO
LA	TA	DA	VI	TA	LO	FA	DA
FU	PA	CA	LE	CI	DA	DE	DE
CA	RE	TA	MU	JU	GI	RA	FA
TA	ME	NE	JE	A	MA	RE	LO
TE	CI	DO	FU	JO	CA	MA	JI
GI	GE	NO	NI	BO	LHA	TI	MU
CE	BO	LA	CA	PE	LHA	CHU	VA





NOME: _____ DATA: 04/10/2021





MATEMÁTICA

 OBSERVE A COLEÇÃO DE FIGURINHAS DE VANESSA E PINTÉ AS ILUSTRAÇÕES IGUAIS COM A MESMA COR.

 AGORA, OBSERVE AS FIGURAS ACIMA E COMPLETE COM O QUE SE PEDE.

QUANTAS:	
	
	
	
	


QUANTOS:	
	
	
	
	

NOME: _____ DATA: 05/10/2021

LÍNGUA PORTUGUESA

DIA DAS CRIANÇAS

Forme lindas frases com estes brinquedos:











NOME: _____ DATA:05/10/2021

MATEMÁTICA

PROCURE NO CAÇA-PALAVRAS OS MESES DO ANO:

J	A	N	E	I	R	O	L	M	Ç	M	A	I	O	R
U	Z	W	J	U	N	H	O	N	Z	V	G	R	T	T
L	X	C	X	S	E	T	E	M	B	R	O	W	A	W
H	R	A	G	O	S	T	O	K	Y	T	S	X	B	Z
O	O	U	T	U	B	R	O	L	S	R	T	Q	R	Y
J	T	Q	K	N	O	V	E	M	B	R	O	R	I	L
D	E	Z	E	M	B	R	O	Y	H	J	K	Ç	L	P
F	E	V	E	R	E	I	R	O	Ç	M	A	R	Ç	O

1- JANEIRO	7- JULHO
2- FEVEREIRO	8- AGOSTO
3- MARÇO	9- SETEMBRO
4- ABRIL	10- OUTUBRO
5- MAIO	11- NOVEMBRO
6- JUNHO	12- DEZEMBRO

NOME: _____ DATA:06/10/2021

LÍNGUA PORTUGUESA

ESCREVA O NOME DE CADA FIGURA:

















NOME: _____ DATA: 06/10/2021










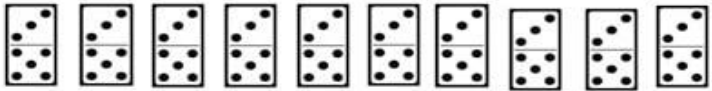
MATEMÁTICA

VAMOS COMEÇAR A APRENDER A TABUADA?

VOCÊ VAI VER QUE É BEM FÁCIL...



TABUADA ILUSTRADA

	$1 \times 0 =$
	$1 \times 1 =$
	$1 \times 2 =$
	$1 \times 3 =$
	$1 \times 4 =$
	$1 \times 5 =$
	$1 \times 6 =$
	$1 \times 7 =$
	$1 \times 8 =$
	$1 \times 9 =$
	$1 \times 10 =$

NOME: _____ DATA: 07/10/2021

LÍNGUA PORTUGUESA

LEITURA E INTERPRETAÇÃO DO TEXTO: **O CIRCO**

O CIRCO



**O CIRCO CENTRAL
CHEGOU HOJE CEDO NA CIDADE.
TEM BONECOS DE CERA.
TEM BALAS DE CEREJA.
UMA CIGANA QUE LÊ A MÃO E
UMA CIGARRA QUE TOCA VIOLÃO.
ESTE CIRCO É UMA DIVERSÃO!**

● COMO SE CHAMA O CIRCO? _____

☆ TEM BONECOS DE QUÊ? _____

△ TEM BALAS DE _____

✦ QUEM LÊ A MÃO? _____

□ QUEM TOCA VIOLÃO? _____

○ ESTE CIRCO É UMA _____

◁ QUANDO O CIRCO CHEGOU? _____




















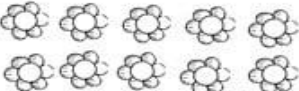
NOME: _____ DATA: 07/10/2021

MATEMÁTICA

AGORA QUE VOCÊ VIU QUE É FÁCIL, VAMOS FAZER
A DO NÚMERO 2?



TABUADA ILUSTRADA


		$2 \times 0 =$
		$2 \times 1 =$
		$2 \times 2 =$
		$2 \times 3 =$
		$2 \times 4 =$
		$2 \times 5 =$
		$2 \times 6 =$
		$2 \times 7 =$
		$2 \times 8 =$
		$2 \times 9 =$
		$2 \times 10 =$

NOME: _____ DATA: 08/10/2021

LÍNGUA PORTUGUESA

DIA DAS CRIANÇAS - 12 DE OUTUBRO

PALAVRAS
ESCONDIDAS



PESSOA

SOSSEGADO

ASSEIO

TOSSE

MASSA

CASSINO

ASSADO

NOME: _____ DATA: 08/10/2021

MATEMÁTICA

RESOLVA AS SUBTRAÇÕES:

DEZENA	UNIDADE	DEZENA	UNIDADE	DEZENA	UNIDADE	DEZENA	UNIDADE	DEZENA	UNIDADE
6	5	8	3	7	9	1	4	9	0
-2	1	-7	0	-6	4	-0	4	-5	0
DEZENA	UNIDADE	DEZENA	UNIDADE	DEZENA	UNIDADE	DEZENA	UNIDADE	DEZENA	UNIDADE
5	7	6	6	4	8	3	3	8	7
-4	3	-4	6	-2	5	-2	1	-6	4

AGORA RESOLVA AS ADIÇÕES:

D	U	D	U	D	U	D	U
7	0	6	4	2	9	5	6
+2	0	+1	4	+2	0	+3	1
D	U	D	U	D	U	D	U
4	2	7	2	3	8	6	0
+4	0	+1	0	+1	1	+1	4

UTILIZE LÁPIS DE COR, GIZ DE CERA OU TINTA GUACHÊ E PINTE BEM BONITO O DESENHO.



MURILLO

FELIZ DIA DAS CRIANÇAS