

E.M. ALEXANDRE VANNUCHI LEME

**APOSTILA 12**

PERÍODO DE 29/09 À 08/10

DATA DA ENTREGA: **07/10**



PROFESSORA: CATARINA SELMA DE OLIVEIRA CEZAR

1º TERMO A

Nome do aluno \_\_\_\_\_

Escola \_\_\_\_\_

Nome: \_\_\_\_\_

Data: \_\_\_\_/\_\_\_\_/\_\_\_\_

Alfabetizar com AMOR  
www.amorensina.com.br

A leoa

Estes são Lica e Leôncio.

Lica é uma linda leoa.

Lica está triste por que não tem juba como seu amigo Leôncio.

Leôncio é um valente leão.

Lica e Leôncio vivem juntos na selva.



Isabel Cristina S. Soares

- A leoa se chama: \_\_\_\_\_

- O leão se chama: \_\_\_\_\_

- Lica está triste por que não tem: \_\_\_\_\_

- Os leões vivem na: \_\_\_\_\_


- O que Leôncio é de Lica? \_\_\_\_\_

ESCOLA \_\_\_\_\_

NOME: \_\_\_\_\_

DATA: \_\_\_\_/\_\_\_\_/\_\_\_\_

  
Alfabetizar com AMOR  
www.amorensina.com.br



BILHETE

SAMUEL,  
VOU VIAJAR E NÃO POSSO IR À SUA CASA HOJE.  
VENHA EM MINHA CASA NO SÁBADO A TARDE PARA  
JOGARMOS VIDEO GAME.

UM ABRAÇO,  
RAFAEL

1 – ESCREVA OS NOMES.

QUEM ESCREVEU O BILHETE:

PARA QUEM ERA O BILHETE:

2 – PARA QUAL DIA DA SEMANA FOI O CONVITE?

DOMINGO

SEGUNDA-FEIRA

SÁBADO

3 – PARA QUAL PERÍODO DO DIA FOI O CONVITE?

MANHÃ

TARDE

NOITE



★ LIGUE:

CINQUENTA REAIS



CEM REAIS



DOIS REAIS




CINCO REAIS



VINTE REAIS



DEZ REAIS



SÉRGIO

PAULA

HUGO

Qual criança tem mais dinheiro? \_\_\_\_\_

Qual tem menos? \_\_\_\_\_

Quanto Paula tem? \_\_\_\_\_

Quanto Sérgio tem a mais que Paula? \_\_\_\_\_

Quanto têm os três meninos juntos? \_\_\_\_\_

O que você compraria se tivesse o dinheiro de Hugo?

\_\_\_\_\_

\_\_\_\_\_

OBSERVE OS PREÇOS DOS PRODUTOS DA LANCHONETE DA ESCOLA:

<p>SUCO</p> <p>R\$ 4</p>	<p>REFRIGERANTE</p> <p>R\$ 5</p>	<p>PICOLÉ</p> <p>R\$ 2</p>
<p>PIPOCA</p> <p>R\$ 1</p>	<p>SANDUÍCHE</p> <p>R\$ 4</p>	<p>BOLO</p> <p>R\$ 3</p>

1. QUAL O PRODUTO MAIS CARO? 2. QUAL O PRODUTO MAIS BARATO?

\_\_\_\_\_

\_\_\_\_\_

3. QUAIS OS PRODUTOS CUSTAM O MESMO VALOR?

\_\_\_\_\_

4. SE VOCÊ COMPRAR UM PICOLÉ E UMA FATIA DE BOLO, QUANTO GASTARÁ?

\_\_\_\_\_

A MÃE DA CHAPEUZINHO COMPROU UNS PRESENTINHOS. VEJA OS PREÇOS:



MARQUE A RESPOSTA CERTA:

1-QUAL FOI O PRESENTE MAIS CARO?

( ) ANEL ( ) TIARA ( ) BATOM ( ) COLAR

2- ESCREVA O NOME DO PRESENTE MAIS BARATO:

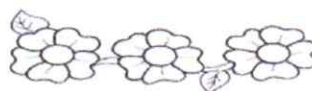
\_\_\_\_\_

3-QUANTO ELA GASTARIA, SE TIVESSE COMPRADO 2 TIARAS?

( ) 2 REAIS ( ) 4 REAIS ( ) 3 REAIS

4-QUANTOS REAIS MAMÃE GASTOU AO TODO?

( ) 20 REAIS ( ) 30 REAIS ( ) 35 REAIS



SABEMOS QUE O CALENDÁRIO MARCA OS DIAS DA SEMANA

PREENCHA O CALENDÁRIO COM DIAS DESTE MÊS

ANO:  MÊS:

DOMINGO	SEGUNDA- -FEIRA	TERÇA- -FEIRA	QUARTA- -FEIRA	QUINTA- -FEIRA	SEXTA- -FEIRA	SÁBADO

QUE DIA DO MÊS É HOJE?



QUANOS DIAS TEM ESSE MÊS?


PINTE DE VERDE O QUADRINHO DO DIA DE HOJE.

VAMOS OBSERVAR O CALENDÁRIO...

• QUANTOS DOMINGOS TEM ESTE MÊS?

• EM QUE DIA DA SEMANA É O PRIMEIRO DIA DO MÊS?

• EM QUAL DIA DA SEMANA É O ÚLTIMO DIA DO MÊS?



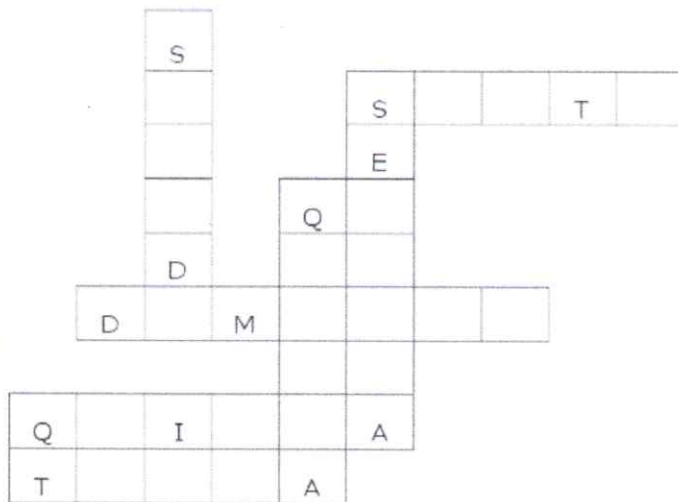
### CAÇA-PALAVRAS

PROCURE NO CAÇA-PALAVRAS OS DIAS DA SEMANA.

DOMINGO – SEGUNDA – TERÇA – QUARTA  
QUINTA – SEXTA – SÁBADO

A	D	F	E	S	E	X	T	A	C
W	E	R	Q	R	T	Y	Y	U	I
F	D	O	M	I	N	G	O	G	H
L	K	J	Z	X	C	V	B	N	M
S	A	B	A	D	O	S	W	E	R
P	O	I	U	Y	T	R	E	W	Q
H	G	F	D	S	T	E	R	Ç	A
B	H	U	Y	C	F	D	A	E	I
B	Q	U	A	R	T	A	U	A	O
F	G	H	Y	C	D	E	Q	S	D
M	B	Q	U	I	N	T	A	C	F
R	U	L	O	F	I	A	G	O	L
E	R	T	S	E	G	U	N	D	A
F	G	J	D	S	A	E	R	U	O

PREENCHA A CRUZADINHA DOS DIAS DA SEMANA COM O AUXÍLIO DO BANCO DE DADOS.




DOMINGO – SEGUNDA – TERÇA – QUARTA  
QUINTA – SEXTA – SÁBADO

Escola: .....

Data: ..... Turma: .....

Aluno: .....

# Para Subtrair



1. Resolva as subtrações abaixo:

$$\begin{array}{r} 50 \\ - 32 \\ \hline \end{array}$$

$$\begin{array}{r} 38 \\ - 35 \\ \hline \end{array}$$

$$\begin{array}{r} 11 \\ - 5 \\ \hline \end{array}$$

$$\begin{array}{r} 24 \\ - 10 \\ \hline \end{array}$$

$$\begin{array}{r} 50 \\ - 45 \\ \hline \end{array}$$

$$\begin{array}{r} 43 \\ - 13 \\ \hline \end{array}$$

$$\begin{array}{r} 41 \\ - 22 \\ \hline \end{array}$$

$$\begin{array}{r} 42 \\ - 30 \\ \hline \end{array}$$

$$\begin{array}{r} 37 \\ - 19 \\ \hline \end{array}$$

$$\begin{array}{r} 69 \\ - 29 \\ \hline \end{array}$$

$$\begin{array}{r} 36 \\ - 18 \\ \hline \end{array}$$

$$\begin{array}{r} 72 \\ - 53 \\ \hline \end{array}$$

$$\begin{array}{r} 47 \\ - 44 \\ \hline \end{array}$$

$$\begin{array}{r} 25 \\ - 7 \\ \hline \end{array}$$

$$\begin{array}{r} 70 \\ - 16 \\ \hline \end{array}$$

$$\begin{array}{r} 25 \\ - 6 \\ \hline \end{array}$$

$$\begin{array}{r} 51 \\ - 14 \\ \hline \end{array}$$

$$\begin{array}{r} 86 \\ - 50 \\ \hline \end{array}$$

$$\begin{array}{r} 23 \\ - 9 \\ \hline \end{array}$$

$$\begin{array}{r} 94 \\ - 94 \\ \hline \end{array}$$

$$\begin{array}{r} 67 \\ - 25 \\ \hline \end{array}$$

$$\begin{array}{r} 88 \\ - 19 \\ \hline \end{array}$$

$$\begin{array}{r} 91 \\ - 37 \\ \hline \end{array}$$

$$\begin{array}{r} 10 \\ - 2 \\ \hline \end{array}$$

$$\begin{array}{r} 39 \\ - 30 \\ \hline \end{array}$$






Questão 02:

(10 pontos)

*Com o passar do tempo, as pessoas vão mudando a paisagem do bairro.*

- Marque com um (X) os itens para que um bairro seja adequado para a vida das pessoas.



Hospital público

Barulho

Ruas asfaltadas

Trânsito pesado

Mercado

Banca de jornal

Escola pública

Água encanada

Esgoto a céu aberto

Correios

Posto policial

Lixo amontoado nas ruas

f) Qual é a data de emissão do documento?

e) Qual é a zona e a seção em que o eleitor deve votar?

d) Qual é o município do eleitor?

c) Qual é o número de inscrição do eleitor?

b) Qual é a sua data de nascimento?

a) Qual é o nome do eleitor?

1) Agora responda:



Observe esse título de eleitor.

TITULO ELEITORAL




NOME

PROF.

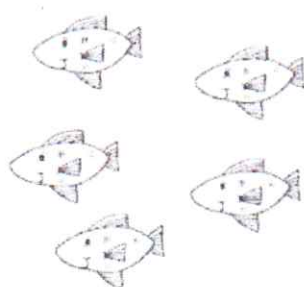
1. Divida igualmente todos os itens. Faça as contas.




Divida 20 bonecas entre 4 crianças.



Divida 35 laranjas entre 5 pessoas.



Divida 64 peixes entre 8 aquários.



Divida 50 lápis entre 2 estojos.

## REFERÊNCIAS EJA

<https://amorensina.com.br/bilhete-1-ano-2-ano/>

<https://br.pinterest.com/pin/715931671990330319/>

<https://dani-alfabetizacaodivertida.blogspot.com/2014/10/atividades-para-trabalhar-as-eleicoes.html>

<https://www.atividadesdegeografia.com/2020/04/avaliacao-de-geografia-2-ano-3-bimestre.html>

<https://lereaprender.com.br/atividades-de-adicao-e-subtracao-para-o-2o-ano/atividade-de-matematica-2-ano-para-subtrair/>

<https://pt.slideshare.net/ClaudiniaPagnocelli/atividade-do-calendario-do-ms-de-outubro-2021>

[https://www.liveworksheets.com/worksheets/pt/Matem%C3%A1tica/Sistema\\_monet%C3%A1rio/Sistema\\_monet%C3%A1rio\\_kh1992528lc](https://www.liveworksheets.com/worksheets/pt/Matem%C3%A1tica/Sistema_monet%C3%A1rio/Sistema_monet%C3%A1rio_kh1992528lc)

<http://atividadesfund1.blogspot.com/2019/02/qual-crianca-tem-mais-dinheiro.html>

<http://educandariosjudastadeu.com.br/wp-content/uploads/2020/11/MATEMATICA-SEMANA-34.pdf>