

E.M. 'ALEXANDRE VANNUCHI LEME "

12 ° APOSTILA

REFERENTES AOS DIAS : 29 / 9 à 07 / 10



TODA CRIANÇA TEM O DIREITO DE SER CRIANÇA!!

PROFESSORA : PATRÍCIA ELAINE

2 ° ANO B

DEVOLVER DIA : 07 / 10 / 2021

NOME DO ALUNO (A) :

OLÁ MEUS AMORES !

ESPERO QUE TODOS ESTEJAM BEM !

GRAÇAS Á DEUS ESTAMOS VOLTANDO DEVAGAR AS NOSSAS ROTINAS .

- **O NOSSO RETORNO SERÁ GRADATIVO, SEGUINDO TODAS AS NORMAS SANITÁRIAS EXIGIDAS .PARA AQUELES QUE FICARAM EM AULAS REMOTAS ESTAREI SEMPRE A DISPOSIÇÃO , VIA WHATSAPP , COMO DE COSTUME .**
- **ESTA APOSTILA É REFERENTE AOS DIAS 29 /9 ,30 /9 , 01/10, 04, 05, 06 e 07/10 .**
- **DEVERÁ SER ENTREGUE NO DIA 07/10.**
- **A APOSTILA IRÁ ATIVIDADES INTERDISCIPLINARES , ESPERO QUE RESOLVAM DEVAGAR .**
- **TODO DIA , TIRE UM TEMPINHO PARA FAZER SUAS ATIVIDADES . NÃO FAÇA CORRENDO .**
- **LEVAR AS APOSTILAS NAS AULAS PRESENCIAS, ESTA APOSTILA É PARA TURMA A , TURMA B E ALUNOS QUE FICARAM EM AULAS REMOTAS .**

AOS PAIS E RESPONSÁVEIS , QUERO AGRADECER MUITO PELA AJUDA .

DEUS ABENÇOE MUITO VOCÊS.

BEIJOS


PROFESSORA : PATRÍCIA ELAINE

E.M. " ALEXANDRE VANNUCHI LEME "
IBIÚNA, DE DE 2021.
HOJE É
NOME :
PROFESSORA : PATRÍCIA ELAINE

MATEMÁTICA

1. SITUAÇÃO PROBLEMA

CAIO FEZ ANIVERSÁRIO E CONVIDOU SEUS AMIGOS!
VIERAM 3 MENINAS E 2 MENINOS. QUANTOS
CONVIDADOS VIREAM AO TODO?



VIERAM _____ MENINOS E _____ MENINAS.
JUNTOS SÃO _____.

$$\square + \square = \square$$

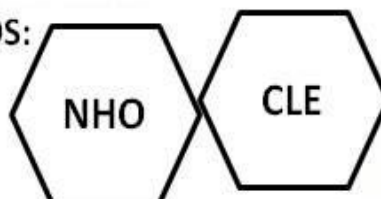
NA FESTA DO CAIO VIERAM _____ CONVIDADOS.

E.M. " ALEXANDRE VANNUCHI LEME "
 IBIÚNA, DE _____ DE 2021 .
 HOJE É _____
 NOME : _____
 PROFESSORA : PATRÍCIA ELAINE

1. COMPLETE OS NOMES DOS BRINQUEDOS:




BICI ____ TA



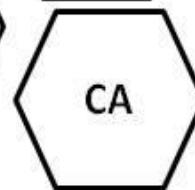
BONE ____



PA ____

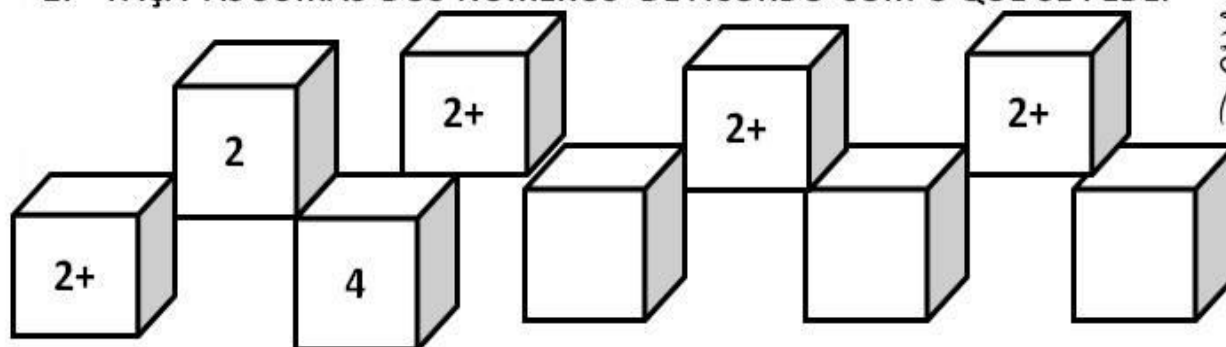


FO ____ TE



CARRI ____

2. FAÇA AS SOMAS DOS NUMEROS DE ACORDO COM O QUE SE PEDE:



DANI E DUCAR

3. COMPLETE OS DIAS DAS SEMANAS

HOJE É _____ FEIRA
 AMANHÃ SERÁ _____ FEIRA
 ONTEM FOI _____
 ANTEONTEM FOI _____



E.M. " ALEXANDRE VANNUCHI LEME "
 IBIÚNA, DE DE 2021 .
 HOJE É
 NOME :

PROFESSORA : PATRÍCIA ELAINE

Problema ilustrado



SETE PATINHOS FORAM PASSEAR. CINCO PULARAM NA LAGOA E COMEÇARAM A NADAR. QUANTOS PATINHOS NÃO QUISERAM ENTRAR NA ÁGUA?

$$\dots - \dots = \square$$
$$\square = \dots$$

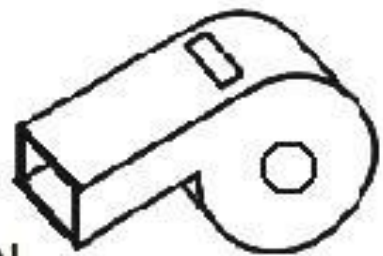
operação

—

Resposta:PATINHOS NÃO NADARAM.

E.M. " ALEXANDRE VANNUCHI LEME "
IBIÚNA, DE DE 2021 .
HOJE É
NOME :
PROFESSORA : PATRÍCIA ELAINE

APITO



O APITO É DO BEBÊ.

ELE É AMARELO COMO O SOL.

O APITO É BEM PEQUENO.

O BEBÊ PEGA O APITO E JOGA LONGE.

A MAMÃE GUARDA O APITO NA CAIXA.

O BEBÊ CHORA MUITO!

COMPLETE:

O _____ É DO _____

ELE É _____ COMO O _____

O _____ PEGA O APITO E JOGA LONGE.

A MAMÃE GUARDA O APITO NA _____

Escola _____

Professora: _____ Data: ___/___/___

Aluno(a): _____

MULTIPLICAÇÃO



Uma **adição de parcelas iguais** pode se representada por uma operação chamada **multiplicação**.

$$2 + 2 = 4 \longrightarrow \text{adição}$$

$$2 \times 2 = 4 \longrightarrow \text{multiplicação}$$

Horizontal

$$2 \times 2 = 4$$

Vertical

$$2 \longrightarrow \text{Multiplicando}$$

$$\begin{array}{r} \times \\ 2 \end{array} \longrightarrow \text{Multiplicador}$$

$$4 \longrightarrow \text{produto}$$



VAMOS PRATICAR!

a) $2 \times 2 =$ _____



b) $2 \times 3 =$ _____



c) $2 \times 1 =$ _____



d) $2 \times 4 =$ _____



VAMOS
ESTUDAR!!



E.M. " ALEXANDRE VANNUCHI LEME "
IBIÚNA, DE DE 2021.
HOJE É
NOME :
PROFESSORA : PATRÍCIA ELAINE

O BEBÊ

O BEBÊ É TÃO FOFO!

ELE CHUPA BICO.

ELE TOMA MAMADEIRA.

O BEBÊ COME SOPINHA.

ELE FALA:

- MAMA, PAPA!

A MAMÃE AMA O BEBÊ!



COMPLETE:

O BEBÊ COME _____ .

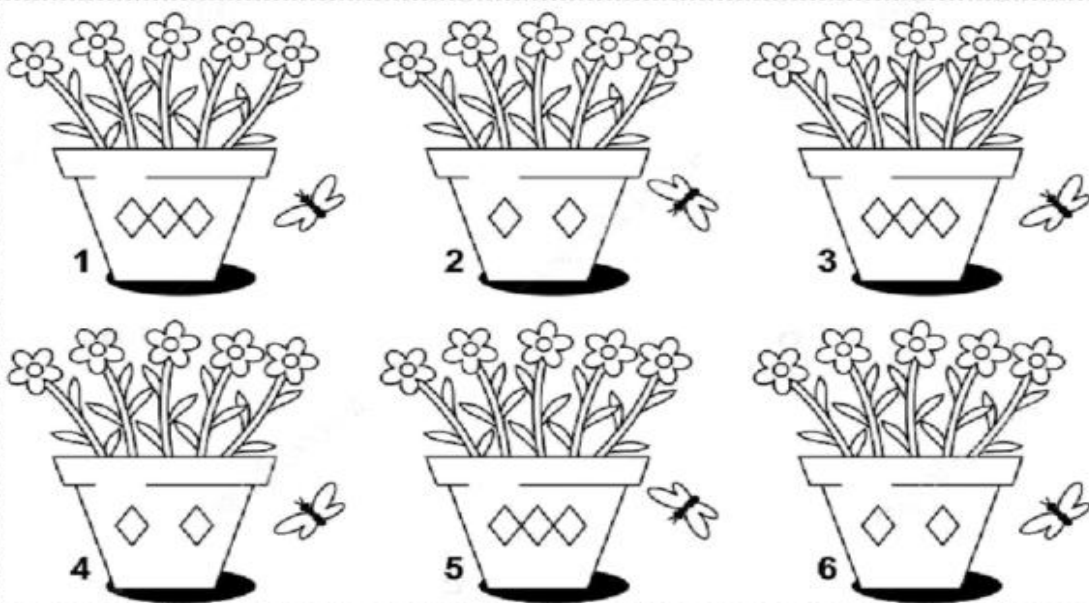
ELE CHUPA _____ .

A MAMÃE AMA O _____ !

VOCÊ PERCEBEU, QUE NO FINAL DA FRASE USOU UMA PONTUAÇÃO ?

MATEMÁTICA

1 - CIRCULE OS DOIS VASOS QUE SÃO EXATAMENTE IGUAIS.



2 - ADICIONANDO E ENTENDENDO.



$2 + 0 = \square$

$1 \text{ VEZ O } 2 = \square$



$2 + 2 = \square$

$2 \text{ VEZES O } 2 = \square$



$2 + 2 + 2 = \square$

$3 \text{ VEZES O } 2 = \square$

E.M. " ALEXANDRE VANNUCHI LEME "
 IBIÚNA, DE DE 2021.
 HOJE É
 NOME :
 PROFESSORA : PATRÍCIA ELAINE

CRUZADINHA

- Completar a cruzadinha com os nomes dos brinquedos.

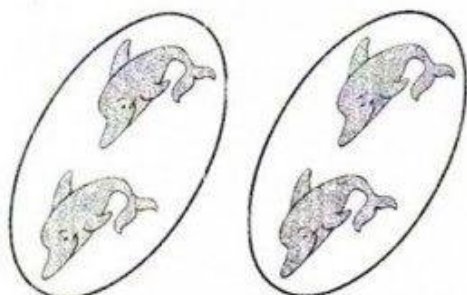
The crossword puzzle grid consists of 10 rows and 10 columns. The clues and their starting positions are:

- 1** (Down, 1st row, 4th column): Bicycle
- 2** (Across, 2nd row, 3rd column): Doll
- 3** (Across, 3rd row, 3rd column): Pin
- 4** (Across, 4th row, 3rd column): String
- 5** (Across, 5th row, 3rd column): Toy car
- 6** (Across, 6th row, 3rd column): Plant
- 7** (Down, 7th row, 9th column): Kite
- 8** (Down, 8th row, 9th column): Soccer ball


- Escrever no quadro abaixo os nomes dos brinquedos em ordem alfabética.

(bicicleta, bola, boneca, carrinho, corda, peteca, pião, pipa)

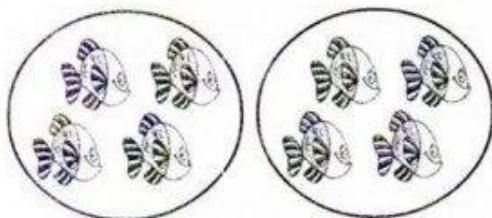
1. Observe as figuras e complete as operações:



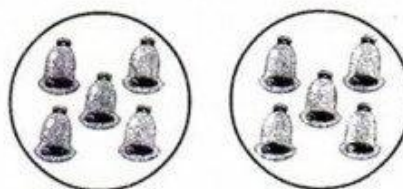
a) $2 + 2 = \dots\dots\dots$ ou $2 \times 2 = \dots\dots\dots$



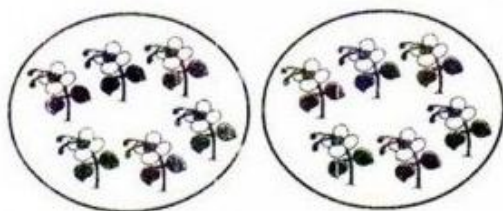
b) $3 + 3 = \dots\dots\dots$ ou $2 \times 3 = \dots\dots\dots$




c) $2 \times 4 = \dots\dots\dots$



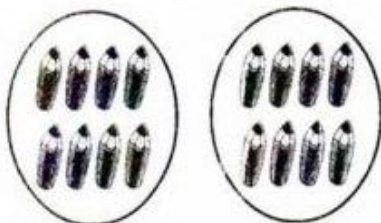
d) $2 \times 5 = \dots\dots\dots$



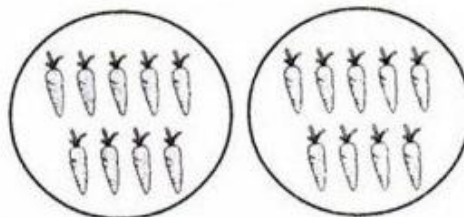
e) $2 \times 6 = \dots\dots\dots$



f) $2 \times 7 = \dots\dots\dots$



g) $2 \times 8 = \dots\dots\dots$




h) $2 \times 9 = \dots\dots\dots$

E.M. " ALEXANDRE VANNUCHI LEME "
IBIÚNA, DE DE 2021 .
HOJE É
NOME :

DIA DAS CRIANÇAS

Forme lindas frases com estes brinquedos:












ALUNO: _____


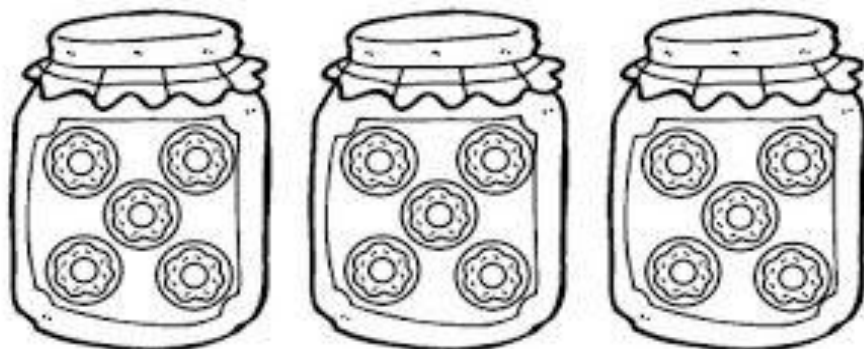
TURMA: _____ DATA: ____ / ____ / ____

PROBLEMAS DE MULTIPLICAÇÃO

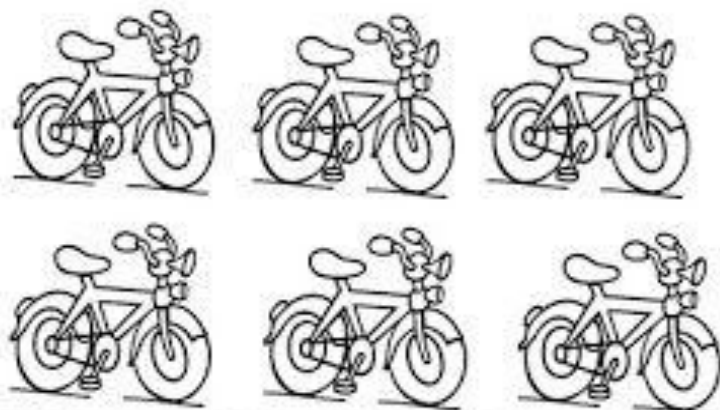
1- SE EU DER DOIS PIRULITOS A CADA CRIANÇA, QUANTOS PIRULITOS PRECISAREI PARA DAR A 2 CRIANÇAS IGUALMENTE?



2- SE EM CADA POTE CABEM 5 BISCOITOS, QUANTOS BISCOITOS CABERÃO EM 3 POTES?



3- SE UMA BICICLETA TEM DUAS RODAS. QUANTAS RODAS HÁ EM 6 BICICLETAS?



Escola: _____
Data: _____ Turma: _____ ESCOLAEDUCACAO.COM.BR
Aluno: _____

PROCURA-SE

Solange Valodares

Complete o poema de acordo com os desenhos ao lado de cada estrofe.

Uma pequena guitarra
Que estava com a _____



Uma bota amarela
Que caiu da _____



Um gato malhado
Que subiu no _____

Um lindo passarinho
Que abandonou seu _____



Uma borboleta colorida
Que voava no _____

Um belo pião
Que estava na minha _____



Um pequeno caracol
Debaixo do _____



ALUNO: _____


TURMA: _____ DATA: ____ / ____ / ____

PROBLEMAS DE MULTIPLICAÇÃO


1- EM CADA PACOTINHO TEM 7 BATATAS. QUANTAS BATATAS TEM AO TODO EM 2 PACOTINHOS?



2- EM CADA COFRINHO TEM 3 MOEDAS. QUANTAS MOEDAS TEM EM 3 COFRINHOS?



3- PARA CADA XÍCARA DE CAFÉ EU UTILIZO DUAS COLHERES DE AÇÚCAR. QUANTAS COLHERES AO TODO DEVO USAR PARA 3 XÍCARAS?




NOME: _____ DATA: _____

ESCOLA: _____ PROF.(A): _____

1) LEIA COM ATENÇÃO E RESPONDA AS QUESTÕES RELACIONADAS AO TEMA.

SER CRIANÇA


É PODER ANDAR NA ESCOLA,
SALTAR E CORRER NO JARDIM,
É PODER JOGAR BOLA,
E TER UM TEMPO SÓ PRA MIM.



É QUERER SABER DE TUDO,
E TUDO MUITO BEM VER,
PRECISAR DE USAR AS MÃOS,
PARA O MUNDO CONHECER.



SER CRIANÇA É TUDO ISSO,
OU É, OU DEVERIA SER,
É TER DIREITO À INFÂNCIA,
É TER DIREITO A CRESCER!



MARIA DO ROSÁRIO MACEDO


1) QUE TIPO DE TEXTO É ESSE?

- () CARTA
- () POEMA
- () RECEITA
- () CONTO

2) O TEXTO FALA SOBRE:

- () COMO É DEIXAR DE SER CRIANÇA.
- () COMO É BOM SER CRIANÇA.
- () DAS LEMBRANÇAS SOBRE A INFÂNCIA DE ALGUÉM.
- () SOBRE BRINCADEIRAS.

E.M. " ALEXANDRE VANNUCHI LEME "
IBIÚNA, DE DE 2021.
NOME:




Geometria

@AtividadesSuzana

Pinte as formas de acordo com a legenda:

- Triângulo de verde;
- Retângulo de azul;
- Círculo de amarelo;
- Quadrado de marrom.



REFERÊNCIAS :

W.W.W. MISTURA DA ALEGRIA. BLOGSPOST.COM.BR

W.W.W. ATIVIDADEEDUCAÇÃO INFANTIL.COM

W.W.W. ISRAELA KOTORNO

W.W.W . ESPACOEDUCAR.COM.BR

W.W.W .ESCOLA EDUCAÇÃO

W.W.W .AMORENSINA.COM.BR.

W.W.W .@ATIVIDADESCOMPARTILHADA

W.W.W .DANIEDUCAR