

Interpretando texto:

SALADA DE FRUTAS

INGREDIENTES:

BANANAS
MORANGOS
MAÇÃS
MAMÃOS
LEITE CONDENSADO

MODO DE FAZER:

1-LAVAR AS FRUTAS.
2-DESCASCÁ-LAS.
3-PICÁ-LAS EM PEDAÇOS PEQUENOS.
4-COBRIR AS FRUTAS JÁ PICADAS COM O LEITE CONDENSADO.

BOM APETITE !



blogdaprofessoraedivania.blogspot.com.br

a) Esse tipo de texto é:

- Poesia Fábula Carta Receita

b) Qual é o nome do texto?


c) A receita ensina a fazer uma:

- sopa salada de frutas salada de alface


d) Quais são os ingredientes da receita?

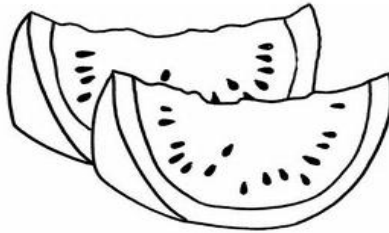
e) Escreva o nome de cada fruta abaixo:



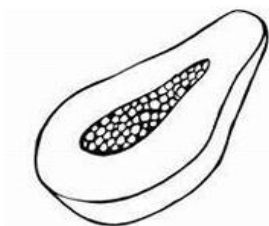







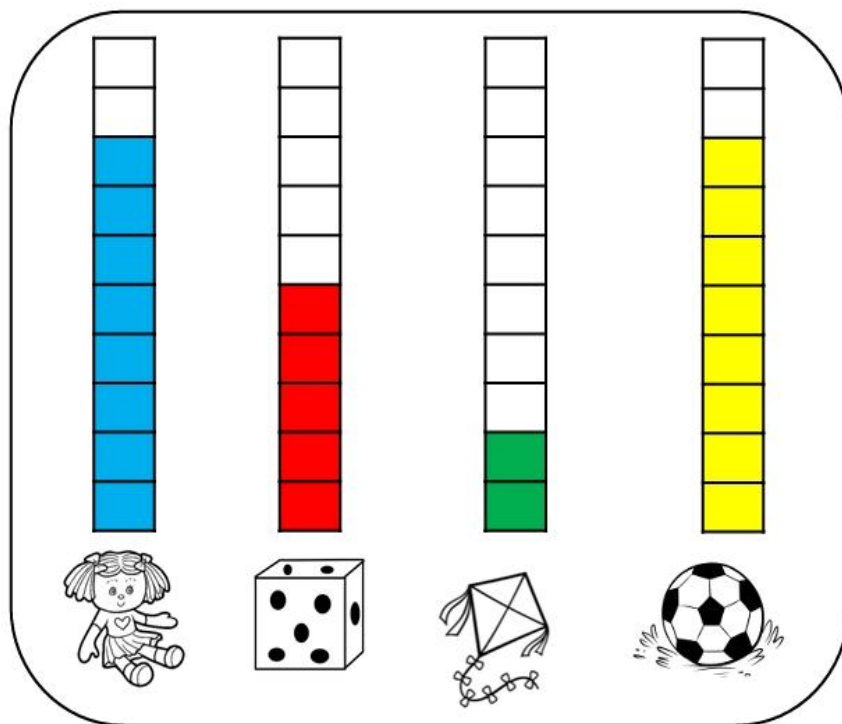








❖ 1 – Observe o gráfico:.



Professora Joana realizou com sua turma uma pesquisa com brinquedos favoritos. Observe o gráfico e responda as questões:

- Quais foram os brinquedos favoritos escolhidos pelas crianças?

- Quantas crianças escolheram a boneca?

- Quantas crianças escolheram o dado?

- Quantas crianças escolheram a pipa?

- Quantas crianças escolheram a bola?

- Ao todo quantas crianças participaram da pesquisa?

Uma equação visual onde cada termo é precedido por um ícone: boneca, dado, pipa e bola. Os símbolos matemáticos são: +, +, +, =.

$$8 + 5 + 2 + 8 =$$

Resolva os problemas.

CÁLCULOS

O ônibus da escola de Mariana tem capacidade para 30 alunos. Hoje apenas 22 alunos foram. Quantos alunos faltaram?



Na casa de Mateus têm 10 laranjeiras, 1 mangueira, 2 limoeiros, 12 aceroleiras e 2 bananeiras.

Quantas árvores tem na casa de Mateus, no total?



Junior tem uma coleção de carrinhos de brinquedos com 128 carrinhos. Ele quer dividi-los igualmente em quatro prateleiras.

Quantos carrinhos cada prateleira terá?




Se a previsão é de que o dia amanheça em 20°C e passe para 33°C ao longo do dia.

Quantos graus irá subir?

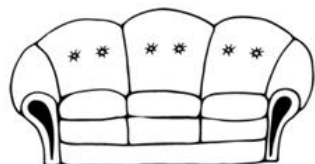


Escreva o nome de cada imagem abaixo, e em seguida encontre no caça-palavra:






V O U F




F	J	X	V	V	E	L	A	R	S
A	G	D	B	A	Z	A	D	E	O
D	V	F	Z	S	O	F	Á	J	R
A	A	U	X	S	X	P	Ç	K	V
V	C	C	F	O	L	H	A	L	E
A	A	C	C	U	V	A	U	J	T
C	F	L	O	R	D	G	N	J	E
A	Q	W	X	A	Z	O	W	C	U
F	O	G	Ã	O	Ç	L	P	N	V
















IBIÚNA, 01 OUTUBRO DE 2021

INTERPRETAÇÃO DE FRASES

O PATO VIVE NA LAGOA.

➤ A FRASE É SOBRE?

() UMA PATA.

() UM PATO.

➤ O PATO VIVE NA...

() FAZENDA.

() LAGOA.

➤ QUANTAS PALAVRAS POSSUI NESTA FRASE:

() CINCO.

() NOVE;

➤ QUANTAS LETRAS POSSUI NESTA FRASE:

➤ QUANTAS VOGAIS POSSUI ESTA FRASE:

➤ QUANTAS CONSOANTES POSSUI ESTA FRASE:

➤ SEPARE AS PALAVRAS EM SÍLABAS:

PATO -

LAGOA -

➤ CRIE UMA FRASE COM A IMAGEM ABAIXO:



1. Coloque o número que vem antes e depois.



	25	
--	----	--

	18	
--	----	--

	30	
--	----	--

	56	
--	----	--

	74	
--	----	--

	15	
--	----	--

	27	
--	----	--

	71	
--	----	--



	95	
--	----	--

	23	
--	----	--

	69	
--	----	--

	99	
--	----	--

	12	
--	----	--

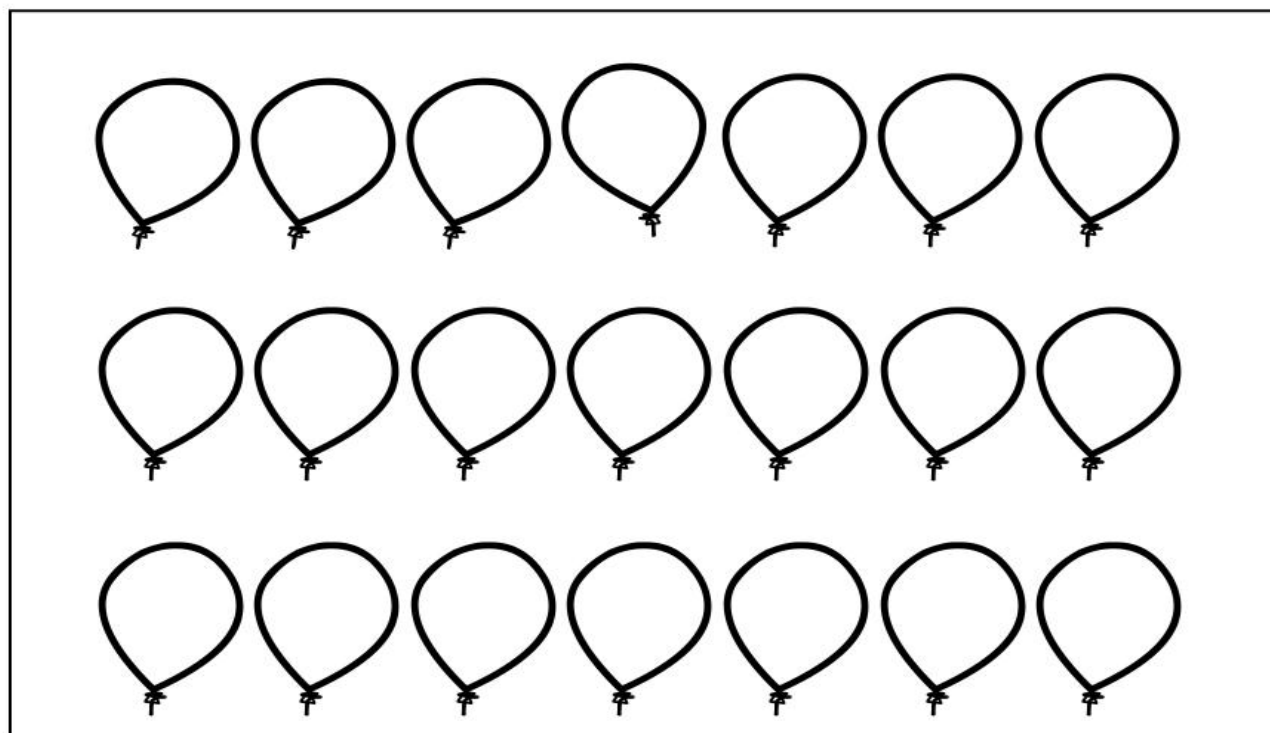

	20	
--	----	--

	40	
--	----	--

	69	
--	----	--

SEQUÊNCIA


PINTE OS BALÕES E DEPOIS COPIE OS NÚMEROS EM ORDEM, NÃO ESQUEÇA DE PINTAR O MESMO NÚMERO COM A MESMA COR!:



IBIÚNA, 05 OUTUBRO DE 2021

❖ Reescreva as frases usando o nome das imagens:


O



É GRANDE E CINZA

.

EU JÁ VI UMA



ELA É MUITO ALTA

.

O



VIVE NA FLORESTA

.

O



PERDEU O



.

A



TEM CASCA E É SABOROSA




.

IBIÚNA, 05 OUTUBRO DE 2021

➤ Estude as palavras abaixo:

ANJO	TAMBÉM	VILÃ
ANDOU	POMBA	MANHÃ
CANTAR	EMPREGO	MAÇÃ
BANDA	TAMPA	RÃ
PANDA	HOMEM	LÃ

➤ Escreva o nome das imagens abaixo:



➤ Escolha uma das imagens da atividade anterior e crie uma frase:

1 - Organize as letras e escreva os nomes das imagens.

GH ou X


 <p>E I P E X</p> <input data-bbox="268 678 756 775" type="text"/>	 <p>C Í A X A R</p> <input data-bbox="935 678 1423 775" type="text"/>
 <p>A V E C H</p> <input data-bbox="268 1055 756 1151" type="text"/>	 <p>A P É C H U</p> <input data-bbox="948 1055 1436 1151" type="text"/>
 <p>X E A D Z R</p> <input data-bbox="268 1413 756 1509" type="text"/>	 <p>B I X E A G</p> <input data-bbox="956 1424 1444 1520" type="text"/>
 <p>O C A R R H O C</p> <input data-bbox="347 1821 767 1917" type="text"/>	 <p>A L I H C O M</p> <input data-bbox="991 1821 1410 1917" type="text"/>

Dia das crianças - 12 de outubro

CALENDÁRIO DE OUTUBRO

PREENCHER O CALENDÁRIO DO MÊS DE OUTUBRO:

Domingo	Segunda-feira	Terça-feira	Quarta-feira	Quinta-feira	Sexta-feira	Sábado



Qual dia é o dia da semana e o dia das crianças? _____

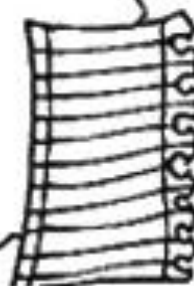
Qual dia da semana é o dia dos professores? _____

O mês de outubro tem _____ Dias.

IBIÚNA, 07 OUTUBRO DE 2021

DIA DAS CRIANÇAS

Faça um lindo desenho de tudo aquilo que
você gostaria de ganhar neste dia:



REFERÊNCIAS

Sites:

✓ www.mestredosaber.com.br

✓ @atividdaesanosiniciais

PDF:

✓ atividades domiciliares PDF apostila IV 3ºano- Ensino Fundamental- Prefeitura Municipal de São Vicente;

✓ atividades domiciliares PDF apostila V 3ºano- Ensino Fundamental-Prefeitura Municipal de São Vicente;

✓ PDF – apostila de atividades ABC21

✓ PDF- apostila de matemática- alfabetinho ABC -atividades para alfabetização