



PREFEITURA DA ESTÂNCIA TURÍSTICA DE
IBIÚNA
Por uma Ibiúna próspera. Investindo no presente, gerando o futuro.
SECRETARIA DE EDUCAÇÃO



E.M. “Luiz Gonzaga Soares”

12º APOSTILA

Atividades Remotas referentes aos dias:

29, 30 de setembro

01, 04, 05, 06, 07 e 08 de outubro

(08 Dias)

3º BIMESTRE

4º ANO A

Professora: Eliana A. Ribeiro do Nascimento



Nome Completo:

Língua Portuguesa

Leia o texto com atenção e preencha a ficha sobre o animal:

ONÇA PINTADA



A ONÇA VIVE EM FLORESTAS E CAVERNAS DA AMÉRICA DO SUL E AMÉRICA CENTRAL. NO BRASIL, PRINCIPALMENTE NO PANTANAL E NA AMAZÔNIA.

O SEU PRATO PREFERIDO É COMER CAPIVARAS, PORCOS-DO-MATO E OUTROS MAMÍFEROS, AVES, RÉPTEIS E ATÉ PEIXES.

SEU PESO É DE 130 A 160 QUILOS E O SEU TAMANHO É DE 70 E 80 CENTÍMETROS DE ALTURA E CERCA DE 2 METROS PODENDO CHEGAR ATÉ 3 METROS DE COMPRIMENTO.

SEU TEMPO DE VIDA É DE CERCA DE 20 ANOS.

UMA CARACTERÍSTICA IMPORTANTE É QUE AS ONÇAS-PINTADAS SÃO SOLITÁRIAS E SÓ BUSCAM A COMPANHIA DE UM PAR DURANTE A ÉPOCA DE ACASALAMENTO. A GESTAÇÃO DURA EM MÉDIA 100 DIAS E ATÉ QUATRO FILHOTES PODEM SER GERADOS.

AGORA VAMOS PREENCHER A FICHA DO ANIMAL QUE VOCÊ LEU:

FICHA TÉCNICA
NOME DO ANIMAL -
PESO -
FILHOTES -
ONDE VIVE -
ALIMENTAÇÃO -
HÁBITOS -

Blog da professora Rosângela

Matemática

1-Ligue as multiplicações com os resultados corretos:

- | | |
|-----------------|--------------------|
| $6 \times 5 =$ | setenta |
| $4 \times 7 =$ | vinte quatro |
| $5 \times 9 =$ | quarenta |
| $7 \times 10 =$ | trinta |
| $8 \times 3 =$ | doze |
| $9 \times 6 =$ | vinte oito |
| $10 \times 4 =$ | vinte |
| $2 \times 6 =$ | quarenta e cinco |
| $3 \times 3 =$ | cinquenta e quatro |
| $4 \times 5 =$ | Zero |
| $5 \times 2 =$ | nove |
| $6 \times 0 =$ | dez |

2-Calcule:

$$\begin{array}{r} 67 \\ \times 3 \\ \hline \end{array}$$

$$\begin{array}{r} 71 \\ \times 7 \\ \hline \end{array}$$

$$\begin{array}{r} 35 \\ \times 7 \\ \hline \end{array}$$

$$\begin{array}{r} 72 \\ \times 9 \\ \hline \end{array}$$

1-Um desafio para você: Escreva palavras que indiquem o que é ser criança para você:

**Ser
criança
é...**

2- Resolva o caça palavras, colorindo as palavras encontradas:

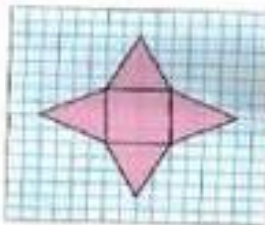
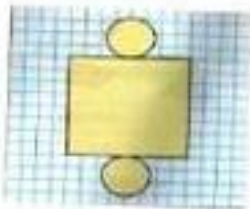
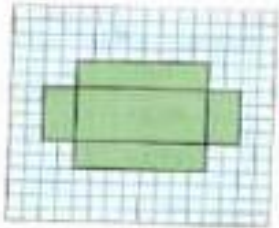
CAÇA-BRINCADEIRAS

C	A	C	H	I	N	E	L	I	N	H	O	X	Y
R	I	O	Q	U	E	I	M	A	D	A	P	E	J
U	K	R	M	C	F	A	Y	J	B	I	N	G	O
E	I	N	A	Y	H	Ç	I	B	O	H	T	N	G
K	M	B	R	N	X	A	D	R	E	Z	A	I	O
Ç	E	L	I	W	D	I	C	V	V	Y	N	M	D
B	G	S	O	D	P	A	E	W	R	C	G	B	A
I	A	G	T	V	G	S	Y	C	A	O	R	A	V
C	L	L	E	Á	O	Z	I	N	Y	R	A	Q	E
F	E	S	A	E	T	W	A	T	H	D	N	W	L
G	D	Y	J	N	I	U	P	O	J	A	Z	L	H
L	O	W	K	L	Ç	T	A	T	E	L	O	D	A
G	M	M	O	R	T	O	V	I	V	O	X	Ç	O
Z	A	P	M	A	H	N	I	L	E	R	A	M	A

CORDA - MODELAGEM - ESTÁTUA - ADOLETÁ
 BINGO - QUEIMADA - AMARELINHA - XADREZ -
 MORTO VIVO - CASINHA - TANGRAM - CIRANDA
 BALANÇO - GINCANA - JOGO DA VELHA -
 CHINELINHO -

SÓLIDOS GEOMÉTRICOS

Observa as planificações e faz a correspondência correcta.






Observe a cena abaixo e resolva. Depois responde à questão:

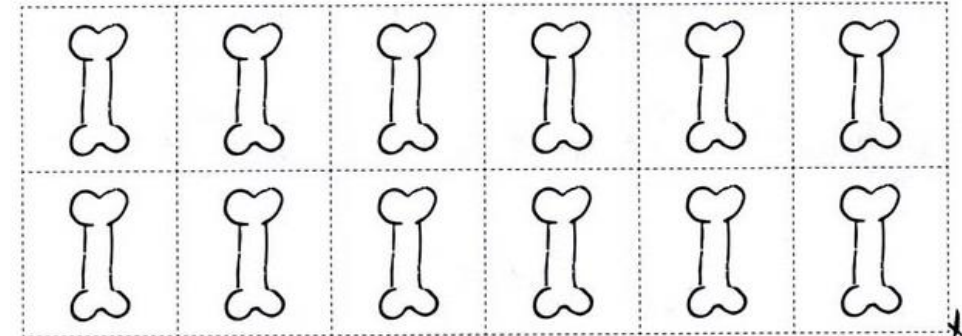
Quantos ossos cada cachorro ganhou?

IDEIA DE DIVISÃO

Animais de estimação

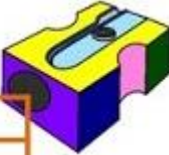
Sandra tem 3 cachorros em sua casa. Ela comprou um pacote com 12 biscoitos para cachorros e quer dividir igualmente entre eles. Recorte os biscoitos e ajude-a a distribuí-los para descobrir quantos biscoitos cada cachorro irá receber.



Matemática

Observe a tabela e responda as questões:



MERCADORIA	QUANTIDADE
Apontador	R\$ 5,00
Estojo	R\$ 30,00
Lapiseira	R\$ 10,00
Mochila	R\$ 50,00

1- Qual o valor dos produtos abaixo:

Trinta reais = _____

Cinquenta reais = _____

2- Alana comprou um estojo, três apontadores e uma lapiseira. Quanto ficou a compra dela?

Resposta: Ficou em _____

3- Geovani comprou uma mochila, duas lapiseiras e um apontador. Pagou a sua compra com R\$ 80,00. Sobrou ou faltou dinheiro?

Resposta: _____

Arte

Resolva o labirinto abaixo, descobrindo qual criança encontrará o caminho correto até o parque.



ATIVIDADE PARA COMEMORAR O DIA DAS CRIANÇAS!!!

Que tal participar de uma brincadeira bem legal com a família e compartilhar fotos ou vídeo lá no grupo, para que todos possam curtir com você?

Deixarei aqui algumas **opções** de brincadeiras:

Amarelinha



Corrida do saco



Roteiro de atividades do livro: Aprender Sempre (volume 1)		
DIA	DESCRIÇÃO	PÁGINAS
Outubro	Sequência Didática 4 – Pesquisar para saber mais. Aula 1 - Uso do dicionário e busca de informações	51
Outubro	Aula 2 – Texto para leitura: Por que é importante preservar a natureza? Interpretação do texto	52 e 53
Outubro	Aula 3 – Leitura de legenda Observação de imagem e legenda correspondente	53 e 54

Colocar a mão na massa: criar personagens ou brinquedos com rolonho de papel higiênico:



Pronto! Agora é só escolher e se divertir com toda família!!



Um feliz dia para todas as
crianças que embelezam nossas
vidas com a sua forma pura e
genuína de olhar o mundo!

Referências

<https://i.pinimg.com/564x/93/0d/b6/930db6c215396ad8fc8badf5c332e2fe.jpg>

<https://i.pinimg.com/originals/9f/24/07/9f2407a488cad1f469741778a320841b.png>

<https://static.mundodasmensagens.com/upload/textos/u/m/um-feliz-dia-para-todas-as-criancas-que-embelezam-nossas-vidas-co-NEpqr-cxl.jpg>

<http://1.bp.blogspot.com/->

gBbFFMGEPyQ/UST_4DBvc1I/AAAAAAAAd1s/pZ262Sn0poE/s1600/formas_geometricas-021.jpg

<https://4.bp.blogspot.com/->

<xYZxRSKdoDE/UfMDrCy5Rfl/AAAAAAAeEw/5OAAAm1Na9A/s1600/mostrinhos-de-rola-de-papel-higi%C3%AAnico.jpg>

<https://encrypted->

<tbn0.gstatic.com/images?q=tbn:ANd9GcSpasELTfYS7wJzIVfjNGux3w44K-zthjHm6xordSKF4QgomrPVWr4ix2VHdWoy2U05tpw&usqp=CAU>

<https://1.bp.blogspot.com/->

82KJsTbFqiw/X8kXZpzK1I/AAAAAAAARsS/ecmFSC2ahOo7kytA_KV2fRNA_MDOcpTMhgCLcBGAsYHQ/s324/1.jpg

Aprender Sempre – 4ºAno – Volume 1 – Ensino Fundamental