


E.M. "Waldomiro Antonio Soares"

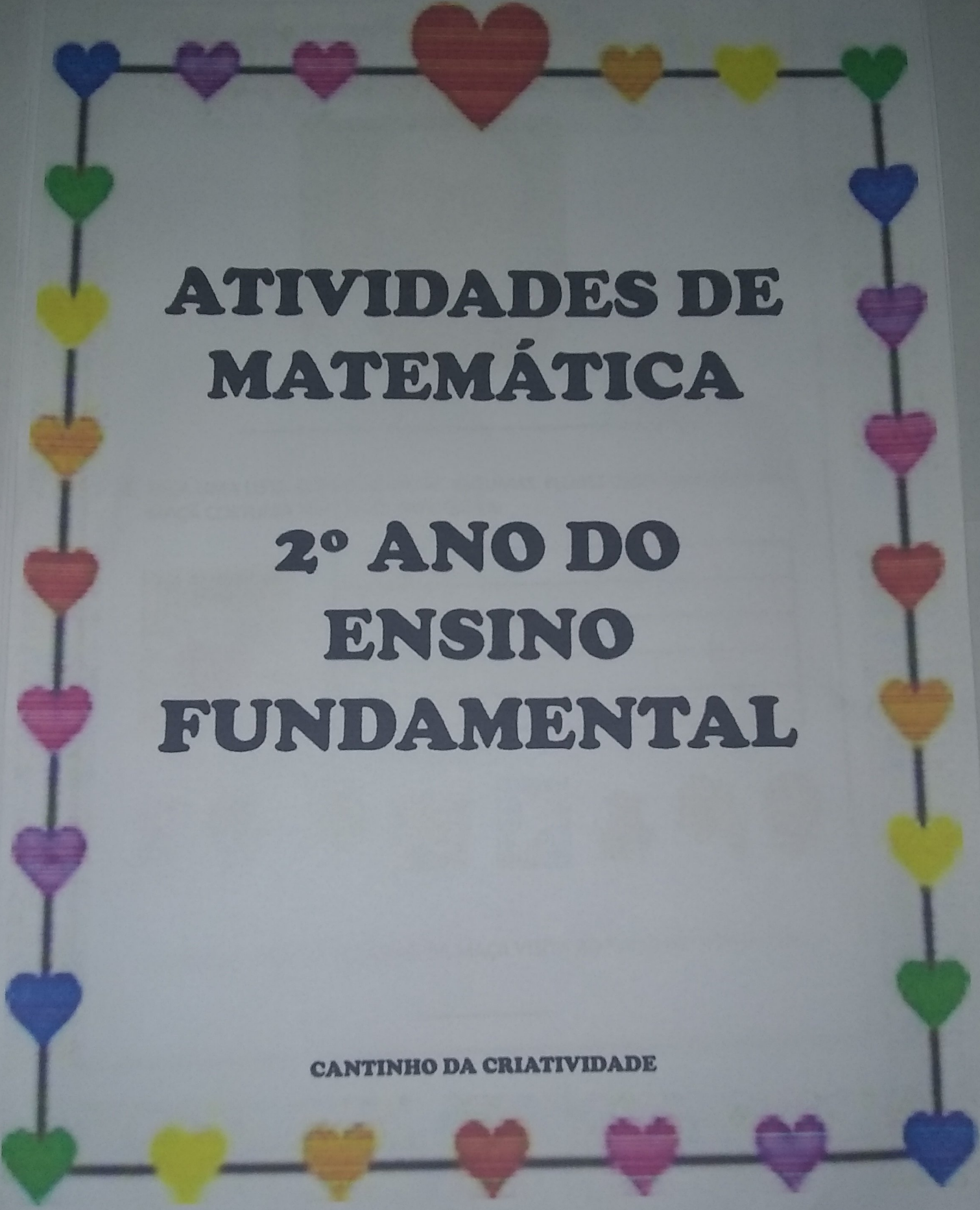
12<sup>o</sup> Apostila

Nome: \_\_\_\_\_

Ano: 2<sup>o</sup> ANO B

Professora: ROSELI BELMIRO



A decorative border of colorful hearts (blue, purple, pink, red, orange, yellow, green) arranged in a rectangular frame around the text.


**ATIVIDADES DE  
MATEMÁTICA**

**2º ANO DO  
ENSINO  
FUNDAMENTAL**

**CANTINHO DA CRIATIVIDADE**


2. ESCREVA O NOME DO ESCRITOR E ILUSTRADOR DO LIVRO:

# AS FLORES DA PRIMAVERA



3. FAÇA UMA LISTA COM O NOME DE ALGUMAS FLORES QUE O BICHINHO DA MAÇÃ COSTUMA VISITAR NA PRIMAVERA:




QUANTAS FLORES O BICHINHO DA MAÇÃ VISITA AO TODO NA PRIMAVERA?

\_\_\_\_\_

# SALA DE LEITURA

ALUNO: \_\_\_\_\_

VAMOS RELEMBRAR A HISTÓRIA: AS FLORES DA PRIMAVERA, DE ZIRALDO?  
"FAÇA O DESENHO"



AGORA QUE VOCÊ RELEMBROU A HISTÓRIA, VAMOS FAZER AS ATIVIDADES?

1. FAÇA UM X NAS LETRAS DO NOME DO LIVRO:

## AS FLORES DA PRIMAVERA

A B C D E F G H


I J K L M N O P

Q R S T U V W

X Y Z

ALUNO: \_\_\_\_\_


ESTE LIVRO FAZ PARTE DA COLEÇÃO.



ESCREVA O NOME DO PERSONAGEM PRINCIPAL DA HISTÓRIA.



ESCREVA O NOME DESTES LIVROS QUE FAZEM PARTE DA COLEÇÃO:



ALUNO: \_\_\_\_\_

OBSERVE A GRAVURA E ESCREVA DE ACORDO COM A HISTÓRIA:



---


---

---

---

ESCREVA O NOME DO ESCRITOR E ILUSTRADOR DO LIVRO:


**AS FLORES DA PRIMAVERA.**



---

ALUNO: \_\_\_\_\_

OBSERVE AS GRAVURAS E ESCREVA DE ACORDO COM A HISTÓRIA:



ALUNO: \_\_\_\_\_

OBSERVE AS FIGURAS, LEIA AS PALAVRAS E MARQUE O NOME CORRETAMENTE DAS ESTAÇÕES:



VERÃO




OUTONO



INVERNO



PRIMAVERA




VERÃO

OUTONO

INVERNO

PRIMAVERA



VERÃO



OUTONO



INVERNO



PRIMAVERA



VERÃO



OUTONO



INVERNO



PRIMAVERA



**OBSERVE OS NÚMEROS ABAIXO:**

**28 – 65 – 230 – 99 –**

**7 – 13 – 130 – 17 - 8**

**COPIE OS NUMERAIS NA ORDEM CRESCENTE.**

---

**COPIE OS NUMERAIS NA ORDEM DECRESCENTE.**

---

**QUAL O MAIOR NÚMERO DA SEQUÊNCIA?**

---

**ESCREVA POR EXTENSO O NOME DO MENOR NÚMERO DA SEQUÊNCIA.**

---

**CANTINHO DA CRIATIVIDADE**

**COMPLETE A SEQUÊNCIA DO QUADRO ABAIXO.**

3		9		15		21	
	30		36		42		48
51		57		63		69	

**ESCREVA O ANTECESSOR E O SUCESSOR DE CADA NUMERAL.**

\_\_\_\_\_ 65 \_\_\_\_\_

\_\_\_\_\_ 32 \_\_\_\_\_

\_\_\_\_\_ 12 \_\_\_\_\_

\_\_\_\_\_ 41 \_\_\_\_\_

\_\_\_\_\_ 99 \_\_\_\_\_

\_\_\_\_\_ 78 \_\_\_\_\_

\_\_\_\_\_ 60 \_\_\_\_\_

\_\_\_\_\_ 17 \_\_\_\_\_

\_\_\_\_\_ 96 \_\_\_\_\_

\_\_\_\_\_ 2 \_\_\_\_\_

\_\_\_\_\_ 21 \_\_\_\_\_

\_\_\_\_\_ 43 \_\_\_\_\_

**RESOLVA AS CONTINHAS.**

$$12 + 3 =$$

$$10 - 6 =$$

$$8 + 4 =$$

$$20 - 10 =$$

$$7 + 9 =$$

$$13 - 5 =$$

$$5 + 2 =$$

$$8 - 8 =$$

**CANTINHO DA CRIATIVIDADE**

**FAÇA A CORRESPONDÊNCIA.**

2 DEZENAS  
E 4  
UNIDADES

5

1  
DEZENA

100

MEIA  
DEZENA


24

1  
CENTENA


10

**RESOLVA OS PROBLEMAS.**

FUI A FEIRA E COMPREI VÁRIAS FRUTAS. 12 BANANAS, 15 LARANJAS E 1 MELANCIA. QUANTAS FRUTAS COMPREI?



MARIA ADORA BOMBONS. ELA COMPROU 3 DE COCO, 10 DE CHOCOLATE E 6 DE DOCE DE LEITE. QUANTOS BOMBONS ELA COMPROU?



Nome: \_\_\_\_\_ Data \_\_\_\_\_

VAMOS FAZER FOLHAS NA ÁRVORE?



ESPACO EDUCAR







[www.espacoeducar.net](http://www.espacoeducar.net)


# SEQUÊNCIA



www.smartkids.com.br

Vamos recortar e pintar as imagens e completar o quadro abaixo:

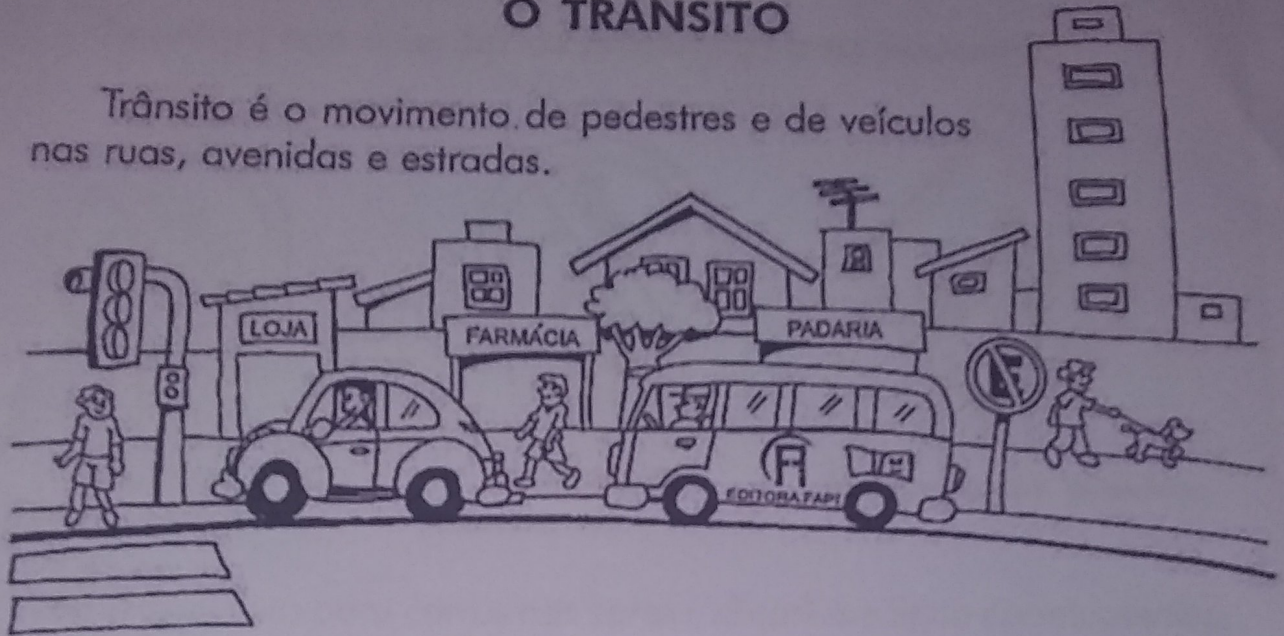
		
1- Uma semente é gerada.	2- Essa semente será plantada.	3- Após algum tempo essa semente é germinada.
		
4- Uma planta irá se desenvolver.	5- Após seu crescimento ela dará flores.	6- As flores depois darão frutos.



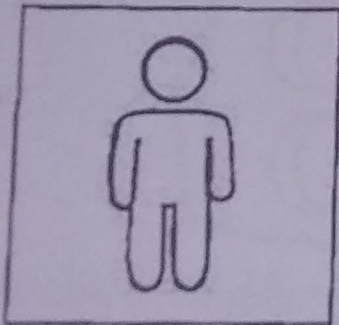
# SEMANA DO TRÂNSITO

## O TRÂNSITO



Trânsito é o movimento de pedestres e de veículos nas ruas, avenidas e estradas.



O semáforo de pedestres orienta o momento de atravessar ou aguardar no passeio.



**O sinal vermelho indica:**  
Atenção! Devo aguardar.




**O sinal verde indica:**  
Os carros pararam e eu posso atravessar a rua.



## PLACAS DE TRÂNSITO

Servem para orientar os motoristas e os pedestres.



Proibido  
trânsito de bicicleta




Proibido  
trânsito de pedestre



Área escolar próxima

✎ Pinte o semáforo para carros nas cores indicadas e ligue corretamente:



VERMELHO

ATENÇÃO

AMARELO

PODE PASSAR

VERDE

PARE!

✎ Pinte o semáforo que indica que podemos atravessar a rua.

