



EM TEREZA FALCI

UNIDADE 38

ROD. JÚLIO DAL FABRO, KM 08 - Bº CUPIM

Email: escolaterezafalci@gmail.com

12ª APOSTILA

2º ANO

ATIVIDADES REFERENTES AOS DIAS 29, 30 DE SETEMBRO, 01, 04, 05, 06, 07 E 08 DE OUTUBRO

NOME _____



E.M.TEREZA FALCI

NOME _____ DATA ____/____/____.

Escola e Família "UNIÃO QUE FAZ A DIFERENÇA"

Agradeço a participação nas atividades propostas! A nossa parceria é fundamental neste momento em que estamos sendo desafiados a nos reinventar a cada dia! Continuo contando com seu apoio!

- Reforço a importância na participação e a devolução das atividades. A frequência do estudante é validada através do envio das atividades!
- COLOCAR O NOME E A DATA EM TODAS AS ATIVIDADES, PRINCIPALMENTE NA CAPA (UTILIZAR SOMENTE LÁPIS)
- Orientando que é de extrema importância, estejam se organizando, realizar DUAS atividades por dia .
- Envie as atividades ao professor de acordo com as orientações. Caso seja solicitado o envio de fotos, precisam estar legíveis, podendo ser enviado assim que possível, mas não deixe de enviar.
- Não acumule atividades, caso não consiga realizar no dia, tente realizá-la o quanto antes.
- Oriente o estudante na realização das atividades – quando estiver com dúvidas, entre em contato com o professor para solicitar explicação / ajuda.
- Mantenha o professor informado e comunique-o quando acontecer algo, pois para nós é muito importante saber o que passa com o aluno, já que ainda não podemos estar na escola.
- **Se for necessário, e estiver dentro de suas possibilidades, pode ajudar a criança. Mas NUNCA faça por ela!**
- Sempre conte com o apoio do Professor!
- Não deixe de retirarem a apostila, pois os alunos que não estiverem participando – sem justificativa – e não retirarem ou derem devolutivas de atividades estarão sendo encaminhados ao Conselho Tutelar (por isso é importante manter contato com o professor da sala).
- Quando solicitados no grupo de whats app, não deixem de enviar as atividades propostas, são de extrema importância no processo de ensino aprendizagem.
- 3º Bimestre, teve início no dia 05/07/2021 . Não deixe de se manter em dia nas tarefas!
- Problemas de saúde: comunicar a professora, e se tiver laudo médico – atestado, entregar na secretaria da escola;
- O retorno presencial está previsto para o dia 25 de outubro de 2021(podendo ou não sofrer alterações). Aos alunos que não retornarão no presencial estaremos ofertando as apostilas remotas normalmente.
- e caso tenham dúvidas, favor nos avisar para esclarecimentos e não causar maiores prejuízos às nossas crianças!
- **FIQUEM ATENTOS AO GRUPO DO WHATTSAPP, ESTAREI ENVIANDO AS ORIENTAÇÕES SOBRE O RETORNO DOS ALUNOS À ESCOLA ATRAVÉS DO MESMO, LEMBRANDO QUE ESTOU NA ESCOLA NA SEGUNDA-FEIRA, TERÇA-FEIRA E QUINTA-FEIRA DAS 12HS ÀS 16H (PORTANTO DURANTE ESSE PERÍODO NÃO CONSEGUIREI ESTAR DANDO UM RETORNO DE IMEDIATO QUANTO ÀS DÚVIDAS QUE POSSAM ESTAR SURGINDO).**

ROTEIRO PARA A REALIZAÇÃO DAS ATIVIDADES:



- ❖ 29/09 – TEXTO SER CRIANÇA/ATIVIDADES 2,3,4 E 5 DE LÍNGUA PORTUGUESA/ATIVIDADES 1 E 2 DE MATEMÁTICA
- ❖ 30/09 - ATIVIDADE 08 DE LÍNGUA PORTUGUESA/ 4 E 5 DE MATEMÁTICA
- ❖ 01/10 - ATIVIDADE 12,13 E 14 DE LÍNGUA PORTUGUESA/SITUAÇÃO PROBLEMA DE MATEMÁTICA(1ª FOLHA)
- ❖ 04/10 - ATIVIDADE 15 DE LÍNGUA PORTUGUESA/ SITUAÇÃO PROBLEMA DE MATEMÁTICA (2ª FOLHA)
- ❖ 05/10 – ATIVIDADES 1 E 2 DE MATEMÁTICA , CAÇA BRINQUEDOS E
- ❖ 06/10 – ATIVIDADES DE ADIÇÃO E SUBTRAÇÃO/ JOGO DA MEMÓRIA
- ❖ 07/10 – COMPLETE COM OS NÚMEROS FALTOSOS (MATEMÁTICA) E VAMOS COLORIR
- ❖ 08/10 - ATIVIDADE ONLINE (VÍDEOS NO GRUPO DO WHATS APP EXPLICANDO COMO REALIZAREMOS AS BRINCADEIRAS)



1) LEIA COM ATENÇÃO E RESPONDA AS QUESTÕES RELACIONADAS AO TEMA.

SER CRIANÇA

É PODER ANDAR NA ESCOLA,
SALTAR E CORRER NO JARDIM,
E PODER JOGAR BOLA,
E TER UM TEMPO SÓ PRA MIM.



É QUERER SABER DE TUDO,
E TUDO MUITO BEM VER,
PRECISAR DE USAR AS MÃOS,
PARA O MUNDO CONHECER.



SER CRIANÇA É TUDO ISSO,
OU É, OU DEVERIA SER,
É TER DIREITO À INFÂNCIA,
É TER DIREITO A CRESCER!



MARIA DO ROSÁRIO MACEDO

1) QUE TIPO DE TEXTO É ESSE?

- () CARTA
- () POEMA
- () RECEITA
- () CONTO

2) O TEXTO FALA SOBRE:

- () COMO É DEIXAR DE SER CRIANÇA.
- () COMO É BOM SER CRIANÇA.
- () DAS LEMBRANÇAS SOBRE A INFÂNCIA DE ALGUÉM.
- () SOBRE BRINCADEIRAS.

3) A PALAVRA "CRIANÇA" TEM:





- () 2 SÍLABAS E 7 LETRAS.
- () 3 SÍLABAS E 7 LETRAS.
- () 4 SÍLABAS E 6 LETRAS.
- () 5 SÍLABAS E 6 LETRAS.

4) MARQUE UM "X" NA OPÇÃO EM QUE TEMOS APENAS PALAVRAS QUE SE INICIAM DA MESMA FORMA QUE A PALAVRA "CRIANÇA":



- () CRIATURA, CESTO, CASA.
- () CRIOU, CRAVO, CRIATIVO.
- () CRUEL, CABO, CUBO.
- () CADARÇO, CARRO, CRUZ.

5) ASSINALE O DESENHO QUE ILUSTRA A FRASE ABAIXO:

"OS MENINOS ESTÃO JOGANDO BOLA."



8) DESCREVA AS CENAS FORMANDO FRASES.



- 1.
- 2.
- 3.
- 4.

12) COMPLETE O TEXTO RIMANDO COM AS PALAVRAS ABAIXO:

SER - ESCOLA - VER - JARDIM - CRESCER

SER CRIANÇA

É PODER ANDAR NA _____,
SALTAR E CORRER NO _____,
É PODER JOGAR BOLA,
E TER UM TEMPO SO PRA MIM.

É QUERER SABER DE TUDO,
E TUDO MUITO BEM _____,
PRECISAR DE USAR AS MÃOS,
PARA O MUNDO CONHECER.

SER CRIANÇA É TUDO ISSO,
OU É, OU DEVIA _____,
É TER DIREITO À INFÂNCIA,
É TER DIREITO A _____!

E REESCREVA O SEU NOME ABAIXO

13) QUEM É O(A) AUTOR(A) DO TEXTO ACIMA?

14) QUAL É O TÍTULO DO TEXTO?

15) ILUSTRE O TEXTO NOS ESPAÇOS EM BRANCO.

E.M.TEREZA FALCI

NOME _____

DATA ____/____/____.



1 - OBSERVE OS NÚMEROS DO QUADRO.

8 - 6 - 5 - 9 - 0

4 - 3 - 2 - 1 - 7

A) - ORGANIZE OS NÚMEROS DO QUADRO EM ORDEM DECRESCENTE.

B) - ORGANIZE OS NÚMEROS DO QUADRO EM ORDEM CRESCENTE.

2 - OBSERVE OS NÚMEROS DO QUADRO.

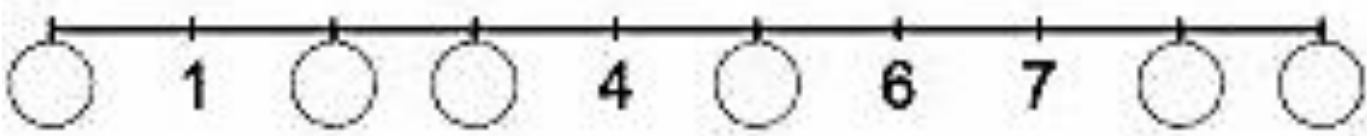
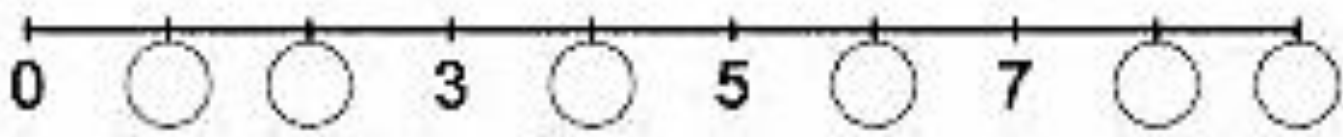
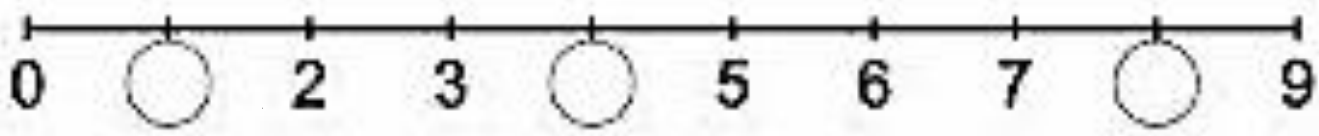
8 - 6 - 5 - 3 - 0

A) - QUAL NÚMERO É MAIOR? _____

B) - QUAL NÚMERO É MENOR? _____

C) - OS NÚMEROS ESTÃO ORGANIZADOS EM ORDEM CRESCENTE OU DECRESCENTE?

3 - COMPLETE AS RETAS NUMÉRICAS.



4 - OBSERVE A FILA DE CRIANÇAS NO REFEITÓRIO.



A) - A FILA ESTA ORGANIZADA:

DO MAIOR PARA O MENOR.


DO MENOR PARA O MAIOR.



NUMA CAIXA HÁ 7 CHOCOLATES AMARGOS E 8 CHOCOLATES BRANCOS. QUANTOS CHOCOLATES HÁ NESSA CAIXA?

aprenderabrinocar.com

RESPOSTA: HÁ ____ CHOCOLATES NESSA CAIXA.



PEDRO COMPROU 15 GIBIS PARA LER. ATÉ O MOMENTO LEU 4. QUANTOS GIBIS AINDA FALTAM ELE LER?

aprenderabrinocar.com


RESPOSTA: FALTAM ____ GIBIS PARA ELE LER.



NO JARDIM HAVIA 5 BORBOLETAS GRANDES E CHEGARAM MAIS 4 BORBOLETAS PEQUENAS. QUANTAS BORBOLETAS TINHAM AO TODO?

aprenderabrinocar.com

RESPOSTA: TINHAM ____ BORBOLETAS NO TOTAL.



O CARTEIRO TINHA 9 CARTAS PARA ENTREGAR. ENTREGOU APENAS 7. QUANTAS CARTAS FALTAM ELE ENTREGAR?

aprenderabrinocar.com

RESPOSTA: FALTAM ____ CARTAS PARA ENTREGAR.



aprenderebrincar.com

MARIA EDUARDA TINHA R\$ 348,00. GASTOU R\$ 232,00. COM QUANTOS REAIS ELA FICOU?

RESPOSTA: _____



aprenderebrincar.com

EDU QUER COMPRAR UM BRINQUEDO QUE CUSTA R\$ 28,00. NO SEU COFRINHO HÁ R\$23,00. QUANTOS REAIS FALTA PARA ELE COMPRAR O BRINQUEDO?

RESPOSTA: _____



aprenderebrincar.com

NUM TEATRO HÁ 155 LUGARES E 75 ESTÃO OCUPADOS. QUANTOS LUGARES ESTÃO VAGOS?

RESPOSTA: _____



aprenderebrincar.com

O CHAVEIRO TEM QUE FAZER 47 CÓPIAS DE CHAVES. ELE JÁ FEZ 34. QUANTAS CÓPIAS DE CHAVES AINDA PRECISA FAZER?

RESPOSTA: _____

1-ASSINALE O OBJETO USADO PARA OBTER CADA CONTORNO ABAIXO.

CONTORNO	OBJETOS		
			
			
			

2-RESOLVA AS CONTINHAS E MARQUE O RESULTADO CORRETO.

a) $12 + 15 = [16]$ $[27]$ $[37]$

b) $42 - 21 = [63]$ $[11]$ $[21]$

c) $85 - 52 = [43]$ $[137]$ $[33]$

d) $72 + 22 = [84]$ $[74]$ $[94]$

ADIÇÃO E SUBTRAÇÃO

+ 8	
2	
4	
9	
5	
6	
7	
8	

- 7	
13	
14	
19	
17	
16	
15	
12	

+ 7	
8	
2	
9	
5	
3	
6	
10	

- 9	
13	
15	
18	
19	
17	
16	
14	

+ 5	
9	
6	
10	
5	
4	
7	
8	

- 6	
12	
15	
10	
11	
14	
13	
16	

COMPLETE OS QUADRINHOS COM OS
NÚMEROS FALTOSOS.

$8 + \square = 15$	$\square + 9 = 14$
$\square + 5 = 12$	$8 + \square = 15$
$7 + \square = 16$	$\square + 6 = 11$
$\square + 2 = 11$	$9 + \square = 12$
$3 + \square = 10$	$\square + 5 = 14$
$\square + 9 = 18$	$6 + \square = 16$
$8 + \square = 16$	$\square + 2 = 10$
$\square + 5 = 13$	$6 + \square = 13$
$8 + \square = 12$	$\square + 7 = 11$


- Encontrar no caça-brinquedos nomes de 6 brincadeiras infantis.

CAÇA BRINQUEDOS




A	B	A	C	D	E	R	F	G	H	P	I	J	K	L
M	N	M	O	P	B	O	L	A	Q	E	R	S	T	U
V	X	A	Z	R	O	D	A	A	B	G	C	D	E	F
G	H	R	I	J	K	A	L	M	N	A	O	P	Q	R
S	T	E	U	V	X	-	Z	A	B	-	C	D	E	F
G	H	L	I	J	K	P	K	L	M	P	N	O	P	Q
R	S	I	T	U	V	I	X	Z	A	E	B	C	D	E
F	G	N	H	I	J	Ã	K	L	M	G	N	O	P	Q
R	S	H	T	U	V	O	X	Z	A	A	B	C	D	E
F	C	A	B	R	A	-	C	E	G	A	G	H	I	J

amarelinha, roda-piãõ, pega-pega, roda, bola, cabra-cega



Andar a cavalo



Andar a cavalo



Bolhas de sabão



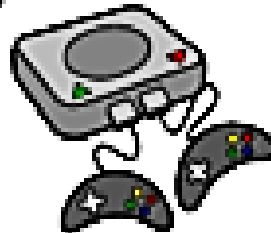
Bolhas de sabão



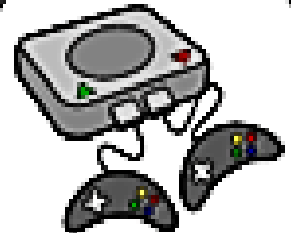
Comer bolo de chocolate



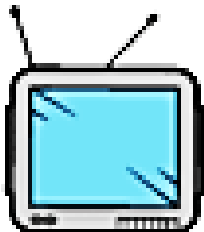
Comer bolo de chocolate




Jogar videogame



Jogar videogame



Assistir TV



Assistir TV



Comer pipoca



Comer pipoca



Ler revista



Ler revista



Tirar uma soneca



Tirar uma soneca



Ver um filme



Ver um filme




Plantar uma árvore



Plantar uma árvore

E.M.TEREZA FALCI
NOME _____

DATA ____/____/____.



MYRILLO

E.M.TEREZA FALCI

NOME _____ DATA ____/____/____.

FONTES BIBLIOGRÁFICAS:

<https://www.aprenderebrincar.com/2020/01/52-problemas-de-matematica-para-o-2-ano.html>

<https://www.pinterest.com/pin/755619643700371649/>

<https://amorensina.com.br/como-e-bom-ser-crianca-2-ano-3-ano/>

<http://vida-vivendocomarte.blogspot.com/2010/10/poemas-dia-das-criancas.html>

httphttps://www.google.com/search?q=poema++dia+das+crian%C3%A7as+e+interpreta%C3%A7ao+2o+ano&tbm=sch&ved=2ahUKEwiux-K2s53zAhUZN7kGHaOFC0gQ2-cCegQIABAA&oq=poema++dia+das+crian%C3%A7as+e+interpreta%C3%A7ao+2o+ano&gs_lcp=CgNpbWcQA1DwiAdYjp4HYKajB2gAcAB4AIABnQKIACQIkgEFMC42LjGYAQcGgAQGgAQtdn3Mtd2l6LWltZ8ABAQ&sclient=img&ei=tc1QYe6YBpnu5OUPo4uuwAQ&bih=625&biw=1366s://www.mundinhodacrianca.net/dia-das-criancas

<https://relacionadoacriancas.blogspot.com/2020/03/poesia-para-o-dia-da-crianca.html>

<https://www.google.com/url?sa=i&url=https%3A%2F%2Fescolaeducacao.com.br%2Fdesenhos-para-colorir-dia-das-criancas%2F&psig=AOvVaw0SSzVYN5PIJkX2moOIFfdP&ust=1632785867876000&source=images&cd=vfe&ved=2ahUKEWjCjbu-553zAhX2mJUCHWeGBZ8Qr4kDegUIARC9AQ>

[https://www.google.com/url?sa=i&url=https%3A%2F%2Fwww.smartkids.com.br%2Fjogos-educativos%2Fjogo-da-](https://www.google.com/url?sa=i&url=https%3A%2F%2Fwww.smartkids.com.br%2Fjogos-educativos%2Fjogo-da-memoria-)

<brinquedos%2Frelacionados&psig=AOvVaw18A4EVU8bquV7vGxmHxxiU&ust=1632785540068000&source=images&cd=vfe&ved=0CAwQjhxqFwoTJC2hNTmnmfMCFQAAAAAdAAAAABAD>

<https://www.google.com/url?sa=i&url=http%3A%2F%2Fatividadesabc.blogspot.com%2F2013%2F01%2Fcaca-brinquedos.html&psig=AOvVaw0GOaBDxeeQH46BoVRXUpGC&ust=1632785356591000&source=images&cd=vfe&ved=0CAwQjhxqFwoTCPjzkvPmnmfMCFQAAAAAdAAAAABAD>