

E.M. RECANTO FELIZ Prof.^a SANDRA REGINA RODRIGUES DA SILVA.

TURMA: 5º ANO B. PROFESSORA: IVANI UMEKI.

10 APOSTILAS DE ATIVIDADES 30/08/2021



30 DE AGOSTO

1. IMAGEM

OBSERVEM OS PERSONAGENS DA INDEPENDÊNCIA

PERSONAGENS

DA INDEPENDÊNCIA



DOM JOÃO
(PAI DE DOM PEDRO I)



JOSÉ BONIFÁCIO
(PATRIARCA DA INDEPENDÊNCIA)



IMPERATRIZ
LEOPOLDINA
(MULHER DE DOM PEDRO I)



DOM PEDRO I
(IMPERADOR DO BRASIL)



DRAGÃO DA
INDEPENDÊNCIA
(SOLDADO DE CAVALARIA)



CARLOTA JOAQUINA
(MÃE DE DOM PEDRO I)

30 DE AGOSTO

LEIA AS IMAGENS PARA RESPONDER AS QUESTÕES ABAIXO

2 IMAGEM





30 DE SETEMBRO

1- QUAL É O ASSUNTO TRATADO NA PRIMEIRA IMAGEM

2- A MÔNICA ESTÁ REPRESENTANDO A QUAL PESRONAGEM?

**3- QUAIS SÃO OS NOMES DOS PERSONAGENS QUE ESTÃO
REPRESENTANDO AS PESSOAS QUE FAZEM PARTE DA INDEPENDÊNCIA?**

4- OLHE NA 1 IMAGEM PARA RESPONDER AS QUESTÕES ABAIXO.

A - QUAL É O NOME DO FILHO DE CARLOTA JOAQUINA?

B - QUEM FOI O IMPERADOR DO BRASIL?

C – ESCREVA O NOME DA MULHER DE DOM PEDRO?

D – DOM JOÃO ERA PAI DE QUEM?

01 DE AGOSTO

MUDE SEUS HÁBITOS ALIMENTARES. OLHA COMO A IMPERATRIZ LEOPOLDINA TEM UMA ALIMENTAÇÃO SAUDÁVEL



Imperatriz Leopoldina

MUDE SEU HÁBITO :ALIMENTE ESTA IDEIA



A- QUAL É O OBJETIVO DESSE TEXTO?

B – O QUE CHAMA ATENÇÃO NESTE CARTAZ?

01 DE SETEMBRO

OBSERVE OS ALIMENTOS E RESPONDA AS PERGUNTAS ABAIXO



1- OBSERVE AS FOTOS E INDIQUE QUAL PRATO DE COMIDA VOCÊ CONSIDERA SAUDÁVEL?

2 – SUA ALIMENTAÇÃO É SAUDÁVEL?

02 DE SETEMBRO

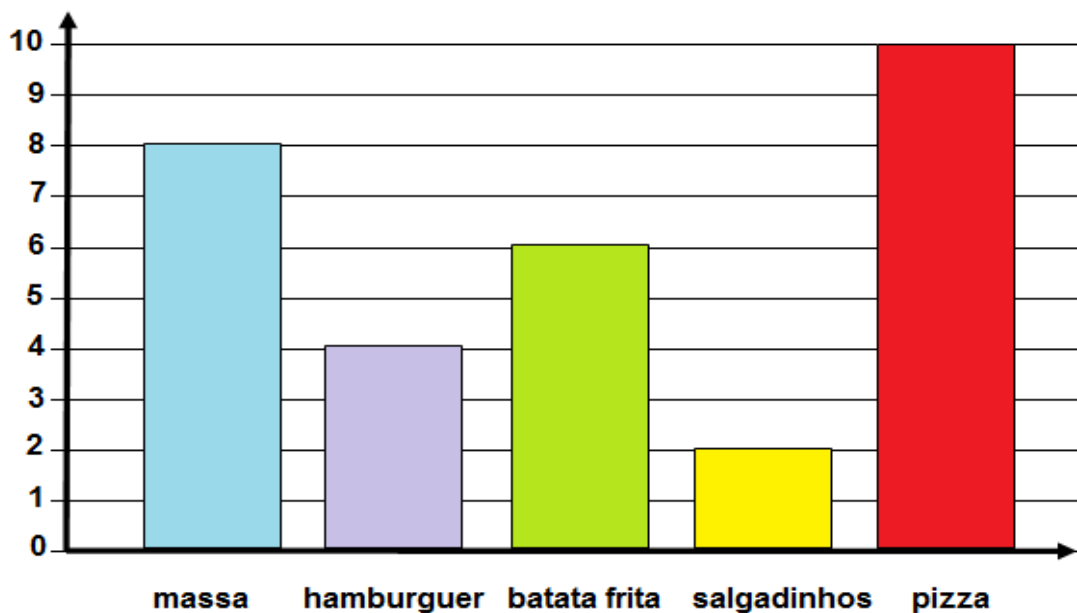
OBSERVE OS PRATOS PREFERIDOS DA FAMÍLIA REAL



CARLOTA JOAQUINA

MÃE DE DOM PEDRO I

QUAL É O ALIMENTO PREFERIDO DE CARLOTA JOAQUINA



02 DE SETEMBRO

LEIA O POEMA ABAIXO E RESPONDA AS QUESTÕES

Pátria Brasil

I
No dia 7 de setembro
Um fato histórico aconteceu
As margem do Ipiranga
Uma nação estremeceu



Autora: Karla Valéria Tavares

II
Era um grito de um País
Que clamava com amor
Foi então que Dom Pedro
A liberdade proclamou

III
Desse dia em diante
O sol na pátria brilhou
Abençoando um povo
Que por sua terra lutou

1- PINTE NO POEMA O DIA DA INDEPENDÊNCIA DO BRASIL?

2- ONDE ACONTECEU A INDEPENDÊNCIA DO BRASIL?

3 - QUEM PROCLAMOU A INDEPENDÊNCIA DO BRASIL?

03 DE SETEMBRO

SEQUÊNCIA DIDÁTICA MATEMÁTICA

DISTRIBUIÇÃO.

1 – DEPOIS DE A TURMA DO 5º ANO D CALCULAR A QUANTIDADE NECESSÁRIA DE INGREDIENTES A SER COMPRADA PARA OS 40 ESTUDANTES, FOI PRECISO CALCULAR O VALOR QUE SERIA GASTO COM A ALIMENTAÇÃO. CHEGOU – SE AO PREÇO DE CADA PRODUTO.

PRODUTOS	PREÇOS
SUCO DE LARANJA	RS 4,50
ARROZ O QUILO	RS 5,50
FEIJÃO – O QUILO	RS13,50
ABOBRINHA O- O QUILO	RS 4,00
MELANCIA – O QUILO	RS 5,20
PÃO BISNAGUINHA – PACOTE COM 300G	RS 4,30
GELEIA – POTE COM 400 G	RS 11,20
FRANGO O QUILO	RS13, 50
MAMÃO O QUILORS	RS 1,70

1- QUAL É O MAIOR VALOR PRESENTE NA TABELA? E O MENOR VALOR?

2 – QUAL VALOR É MAIOR RS 4,50 OU RS 4,30?

3- ESCREVA POR EXTENSO O NÚMERO QUE REPRESENTA O PREÇO DO QUILO DO FEIJÃO?

4 – QUE VALOR QUEREPRÉSENTA O QUILO DO ARROZ? ESCREVA – O POR EXTENSO.

08 DE SETEMBRO


HORA DE PENSAR

DESCUBRA O DIA, MÊS E ANO EM QUE O BRASIL SE TORNOU INDEPENDENTE DE PORTUGAL, TROCANDO OS SÍMBOLOS PELOS NÚMEROS DA TABELA ABAIXO!



1 =	3 =	5 =	7 =	9 =
2 =	4 =	6 =	8 =	0 =


VAMOS CONTAR QUANTAS FOLHAS E QUANTAS CANETAS EXISTEM NO EMARANHADO ABAIXO?



08 DE SETEMBRO

PREENCHA O CALENDÁRIO DO MÊS DE SETEMBRO. LEMBRE – SE
PRECISA OLHAR NA FOLHINHA QUE VOCE TEM NA SUA CASA.

SETEMBRO



DOMINGO	SEGUNDA- FEIRA	TERÇA- FEIRA	QUARTA- FEIRA	QUINTA- FEIRA	SEXTA- FEIRA	SÁBADO

5- DIA DA AMAZÔNIA	21- DIA DA ÁRVORE
7- DIA DA PÁTRIA	23- INÍCIO DA PRIMAVERA
8- DIA MUNDIAL DA ALFABETIZAÇÃO	25- DIA NACIONAL DO TRÂNSITO

09 DE SETEMBRO

HINO DA INDEPENDÊNCIA

JÁ PODEIS DA PÁTRIA FILHOS
VER CONTENTE A MÃE GENTIL
JÁ RAIOU A LIBERDADE
NO HORIZONTE DO BRASIL
JÁ RAIOU A LIBERDADE { BIS
NO HORIZONTE DO BRASIL

Refrão:

BRAVA GENTE BRASILEIRA
LONGE VÁ TEMOR SERVIL
OU FICAR A PÁTRIA LIVRE { BIS
OU MORRER PELO BRASIL



OS GRILHÕES QUE NOS FORJAVA
DE PERFÍDIA ASTUTO ARDIL...
HOUE MÃO MAIS PODEROSA:
ZOMBOU DELES O BRASIL.
HOUE MÃO MAIS PODEROSA { BIS
ZOMBOU DELES O BRASIL.

Refrão

NÃO TEMAIS ÍMPIAS FALANGES,
QUE APRESENTAM FACE HOSTIL:
VOSSOS PEITOS, VOSSOS BRAÇOS
SÃO MURALHAS DO BRASIL.
VOSSOS PEITOS, VOSSOS BRAÇOS { BIS
SÃO MURALHAS DO BRASIL.

Refrão

PARABÉNS, Ó BRASILEIROS!
JÁ, COM GARBO JUVENIL,
DO UNIVERSO ENTRE AS NAÇÕES
RESPLANDECE A DO BRASIL.
DO UNIVERSO ENTRE AS NAÇÕES { BIS
RESPLANDECE A DO BRASIL.



QUANTAS RIMAS TÊM NO POEMA: _____

QUANTOS VERSOS: _____

QUANTAS ESTROFES: _____

09 de setembro



Entenda os malefícios dos alimentos ultraprocessados

ALIMENTOS ULTRAPROCESSADOS, INCLUEM BISCOITO RECHEADOS E SALGADINHOS “DE PACOTES REFRIGERANTES E MACARRÃO INSTANTÂNEO”, MAS DOM JOÃO ADORAVA COMER ESSES ALIMENTOS. DESCUBRA QUANTO ELE CONSOME EM UMA SEMANA REFERENTE A CADA ALIMENTO.



Macarrão instantâneo



Balas e pirulitos



Salsicha



Refrigerantes



Nuggets e Steks industrializados



Bolachas recheadas

09 DE SETEMBRO

09 DE SETEMBRO

ALIMENTOS	CONSUMO	NA SEMANA
MACARRÃO	6 PACOTES POR DIA	
DOCES E PIRULITOS	4 PACOTES POR DIA	
REFRIGERANTE	7 POR DIA	
SALSICHA	10 POR DIA	
BOLACHA RECHEADA	15 POR DIA	
NUGGETS	45 POR DIA	

OLHE NA TABELA E DESCUBRA QUANTOS DE ALIMENTOS DOM PEDRO
CONSUME POR SEMANA

Espaço para fazer a as contas

10 de setembro

PERÍMETRO.

A FAMÍLIA REAL RESOLVEU CAMINHAR. DESCUBRA QUANTOS METROS ELES ANDARAM?



A FAMÍLIA CONTINUOU A CAMINHADA

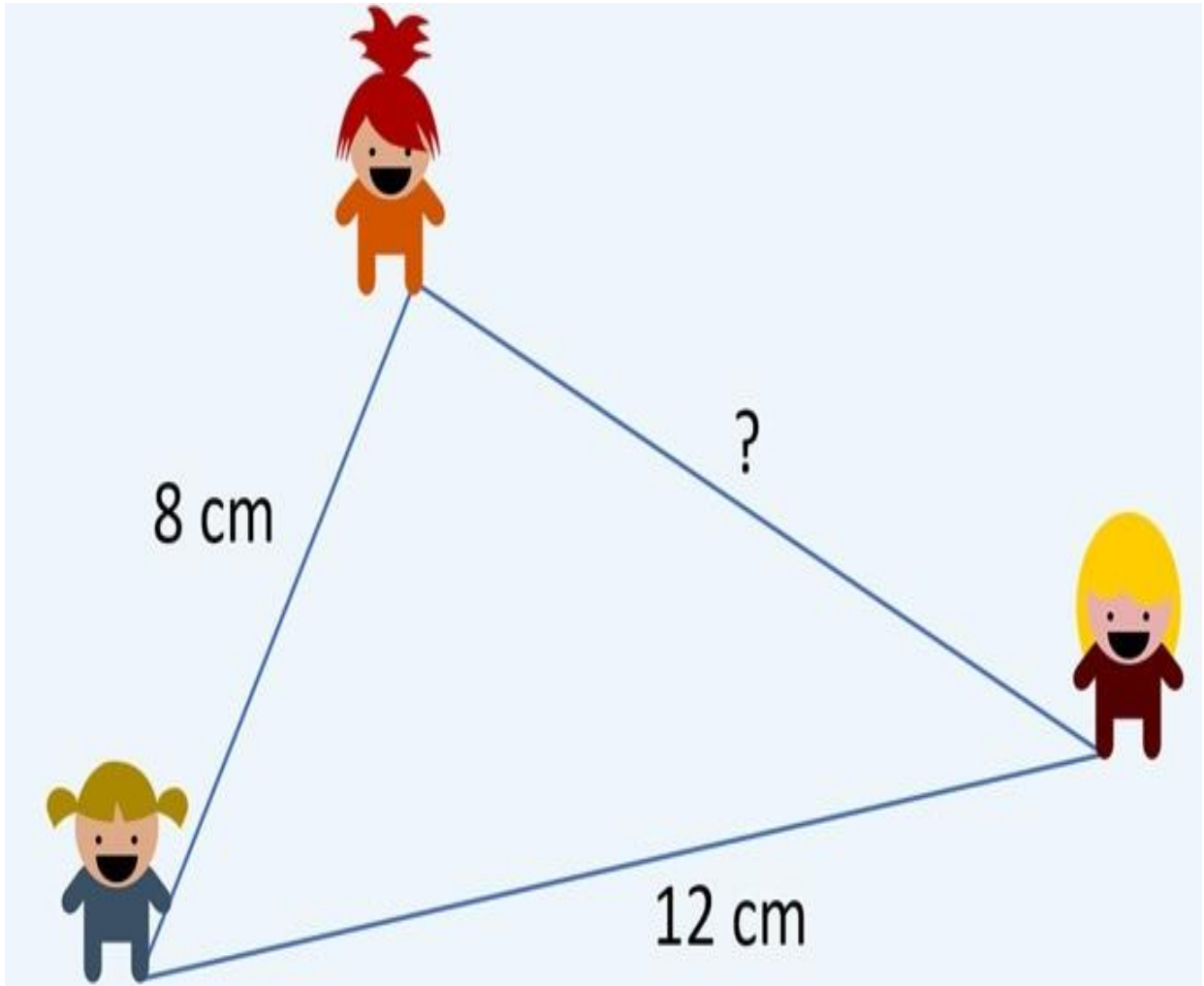


FAMÍLIA CAMINHOU QUANTOS METROS.

ESPOSTA: _____

10 DE SETEMBRO

CONTINUARAM A CAMINHADA



A) 10 CM

B) 11 CM

C) 12 CM

D) 13 CM

13 DE SETEMBRO

RESOLVA O PROBLEMA

DOM JOÃO PRIMEIRO RESOLVEU FAZER UM CERCADO EM SUA FAZENDA COM O INTUITO DE PLANTAR ALGUMAS VERDURAS. PARA IMPEDIR QUE OS ANIMAIS COMAM SEU PLANTIO, ELE DECIDIU CERCAR A REGIÃO COM ARAME.

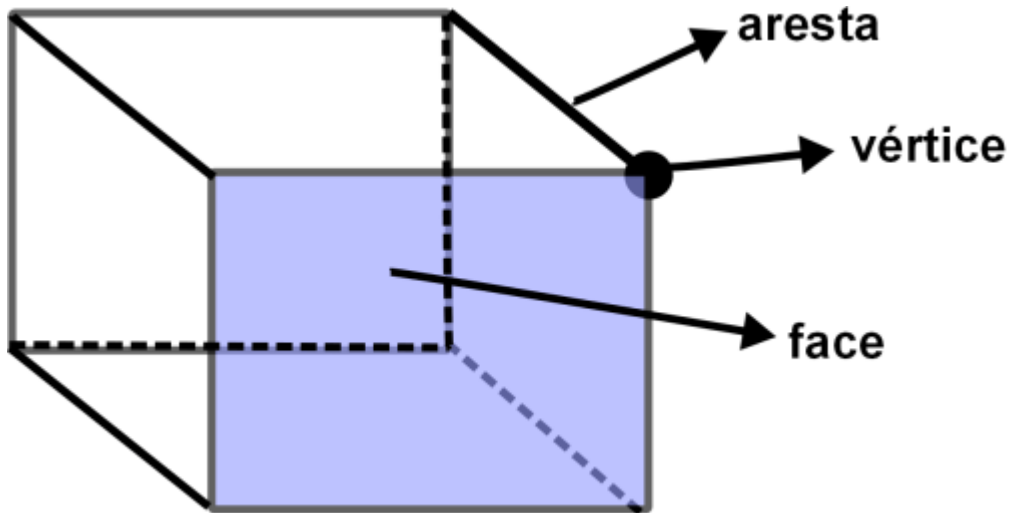
SABENDO QUE A PARTE DO TERRENO QUE SEU JOÃO UTILIZOU FORMA UM QUADRILÁTERO COM AS SEGUINTE PERÍMETROS 50 M, 18 M, 42 M E 16 M, QUANTOS METROS DE ARAME SEU JOÃO PRECISA COMPRAR PARA CERCAR O TERRENO?

- a) 121 m
- b) 138 m
- c) 126 m
- d) 134 m




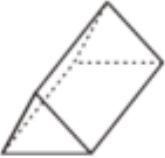


13 DE SETEMBRO

HORA DA GEOMETRIA



FAÇA O QUE SE PEDE

FAÇA O QUE SE PEDE:

SÓLIDOS GEOMÉTRICOS	NÚMERO DE VÉRTICES	NÚMERO DE ARESTAS	NÚMERO DE FACES
			
			
			
			

14 DE SETEMBRO

AGORA DESCUBRA QUANTAS DÚZIAS HÁ EM CADA CAIXA.

* UMA DÚZIA DE OVOS SÃO
_____ OVOS.



* DUAS DÚZIAS DE OVOS SÃO
_____ OVOS.



* MEIA DÚZIA DE OVOS SÃO
_____ OVOS.



* UMA DÚZIA E MEIA DE OVOS SÃO
_____ OVOS.



14 DE SETEMBRO

VALOR POSICIONAL

123	C	D	U	1 CENTENA 2 DEZENAS 3 UNIDADES	100 + 20 + 3
	1	2	3		

238	C	D	U	_____	

357	C	D	U	_____	

426	C	D	U	_____	

579	C	D	U	_____	

692	C	D	U	_____	

781	C	D	U	_____	

16 DE SETEMBRO

ESCREVA OS NUMEROS POR EXTENSO E COLOQUE
NAS ORDENS CORRETAS.

		C	D	U
128	→ Cento e vinte e oito	1	2	8
87	→			
137	→			
37	→			
8	→			
235	→			
179	→			
153	→			
104	→			
26	→			
92	→			
204	→			
159	→			
163	→			
258	→			
2	→			
93	→			
138	→			
157	→			
85	→			
0	→			
277	→			

16 de Setembro

SOCIOEMOCIONAL




	RAIVA
	MEDO
	TRANQUILIDADE
	APAIXONADO PELA A VIDA
	TRISTE
	CONTENTE

16 DE SETEMBRO

PINTE DE ACORDO COM O SENTIMENTO QUE VOCÊ ESTÁ SENTINDO.

COMPLETE O MONSTRO COM A EMOÇÃO QUE VOCÊ ESTÁ SENTINDO AGORA.



EXPLIQUE QUAL O SENTIMENTO QUE VOCÊ ESTÁ SENTINDO?



17 DE SETEMBRO



LEIA COM ATENÇÃO PARA COMPLETAR

ATIVIDADE CORONAVÍRUS



RESPONDA AS PERGUNTAS PARA COMPLETAR A CRUZADINHA:

1. NOME COMUM DA DOENÇA _____
2. NOME OFICIAL DA DOENÇA _____
3. ONDE A DOENÇA SURTIU? _____
4. ESTA DOENÇA É TRANSMISSÍVEL PELO ____
5. SINTOMA EM QUE SE ELEVA A TEMPERATURA DO CORPO _____
6. SINTOMA EM QUE A PESSOA EXPIRA O AR DOS PULMÕES _____
7. OUTRO SINTOMA É A DIFICULDADE PARA _____
8. A MELHOR MANEIRA DE SE COMBATER ESTA DOENÇA É LAVAR AS _____
9. EVITAR CONTATO COM PESSOAS _____
10. COBRIR NARIZ E BOCA COM ANTEBRAÇO AO _____



Lembre-se
de usar
sempre a
máscara.



17 DE SETEMBRO

PRODUÇÃO TEXTUAL: OBSERVE A SEQUÊNCIA PARA FAZER A HISTÓRIA



17 SETEMBRO

LEMBRE – SE DE USAR ESSAS PALAVRAS PARA FAZER O TEXTO

PRODUÇÃO TEXTUAL

INÍCIO	MEIO	FIM
ERA UMA VEZ...	ENTÃO...	FOI ENTÃO...
CERTO DIA...	DE REPENTE...	POR FIM...
UM DIA...	QUANDO...	FINALMENTE...
CERTA MANHÃ...	EM SEGUIDA...	PORTANTO...
NUMA TARDE...	NESSE MOMENTO...	POR ISSO...
CERTA NOITE...	A PARTIR DAI...	ASSIM...
UM BELO DIA...	DEPOIS DE...	NESSE CASO...
NUMA FESTA...	ANTES DE...	PORQUE...

The infographic features a central table with three columns: 'INÍCIO' (pink), 'MEIO' (green), and 'FIM' (blue). Each column lists common narrative transition words. The background shows a girl reading a yellow book on the left and a boy on the right, with a large tree behind them. At the bottom, five diverse children are shown reading books. The entire page is framed by a decorative border of small globe icons.

17 DE SETEMBRO



JÁ PODE COMEÇAR A REDAÇÃO.
