



PREFEITURA DA ESTÂNCIA TURÍSTICA DE
IBIÚNA
Por uma Ibiúna próspera. Investindo no presente, gerando o futuro.

SECRETARIA DE EDUCAÇÃO

Rua Raimundo Santiago, nº 27 - Centro

Telefone: (15) 3248-1292/e-mail: apoiopedagogicosmeibiuna@hotmail.com




E.M. "TEREZA FALCI"

ATIVIDADES SEMANAIS DE 29/09 A 08/10

BLOCO 12 - 3º BIMESTRE

5º ANO A- PROFESSORA: NATALIA

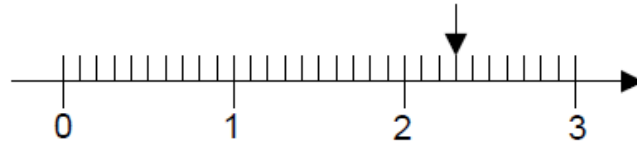
Feliz dia das crianças



NOME:

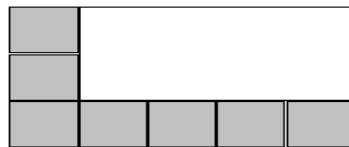
QUALQUER DÚVIDA EM RELAÇÃO AS ATIVIDADES CHAMAR NO WHATTSAPP 15 99741-8631

O número decimal correspondente ao ponto assinalado na reta numérica é



- (A) 0,3
- (B) 0,23
- (C) 2,3
- (D) 2,03

O piso de uma sala está sendo coberto por cerâmica quadrada. Já foram colocadas 7 cerâmicas, como mostra a figura:




Quantas cerâmicas faltam para cobrir o piso?

- (A) 6
- (B) 7
- (C) 8
- (D) 15

O carro de João consome 1 litro de gasolina a cada 10 quilômetros percorridos. Para ir da sua casa ao sítio, que fica distante 63 quilômetros, o carro consome

- (A) 5,3 l.
- (B) 6 l.
- (C) 6,3 l.
- (D) 7 l.

Quando Maria colocou um bolo para assar, o relógio marcava



O bolo ficou pronto em 30 minutos. Que horário o relógio estava marcando quando o bolo ficou pronto?

- (A) 11 horas 50 minutos
- (B) 12 horas
- (C) 12 horas 5 minutos
- (D) 12 horas 10 minutos

Uma escola recebeu a doação de 3 caixas de 1 000 livros, mais 8 caixas de 100 livros, mais 5 pacotes de 10 livros, mais 9 livros. Esta escola recebeu

- (A) 3 589 livros.
- (B) 3859 livros.
- (C) 30 859 livros.
- (D) 38 590 livros.

Qual é o MAIOR número que você pode escrever usando os algarismos 8, 9, 1, 5 e 7 sem repeti-los?

- (B) 98 715
- (C) 98 751
- (D) 97 851

MATEMÁTICA

Carlos fez esta multiplicação, mas apagou o resultado.

$$\begin{array}{r} 425 \\ \times 3 \\ \hline \end{array}$$

Faça você também a conta. Qual deve ser o resultado?

- (A) 1265
- (B) 1275
- (C) 1295
- (D) 1375

Faltam 31 dias para o aniversário de João. Quantas semanas completas faltam para o aniversário dele?

- (A) 3
- (B) 4
- (C) 5
- (D) 6

Numa fazenda, havia 524 bois. Na feira de gado, o fazendeiro vendeu 183 de seus bois e comprou mais 266 bois. Quantos bois há agora na fazenda?

- (A) 507
- (B) 607
- (C) 707
- (D) 720

MATEMÁTICA

Adriana vai fazer esta subtração: $679 - 38$

O resultado dessa operação será

- (A) 299
 - (B) 399
 - (C) 631
 - (D) 641
-

Fernando tem, no seu cofrinho, cinco moedas de R\$ 0,05, oito moedas de R\$ 0,10 e três moedas de R\$ 0,25. Que quantia Fernando tem no cofrinho?

- (A) R\$ 1,55
 - (B) R\$ 1,80
 - (C) R\$ 2,05
 - (D) R\$ 4,05
-

Em Belo Horizonte, ontem a temperatura máxima foi de 28,3 graus e, hoje, é de 26,7 graus.

De quantos graus é a diferença entre as duas temperaturas?

- (A) 1,4 grau
 - (B) 1,6 grau
 - (C) 2,4 graus
 - (D) 2,6 graus
-

MATEMÁTICA

A turma de Joana resolveu fazer uma pesquisa sobre o tipo de filme que as crianças mais gostavam. Cada criança podia votar em um só tipo de filme.

A tabela abaixo mostra o resultado da pesquisa com as meninas e com os meninos:

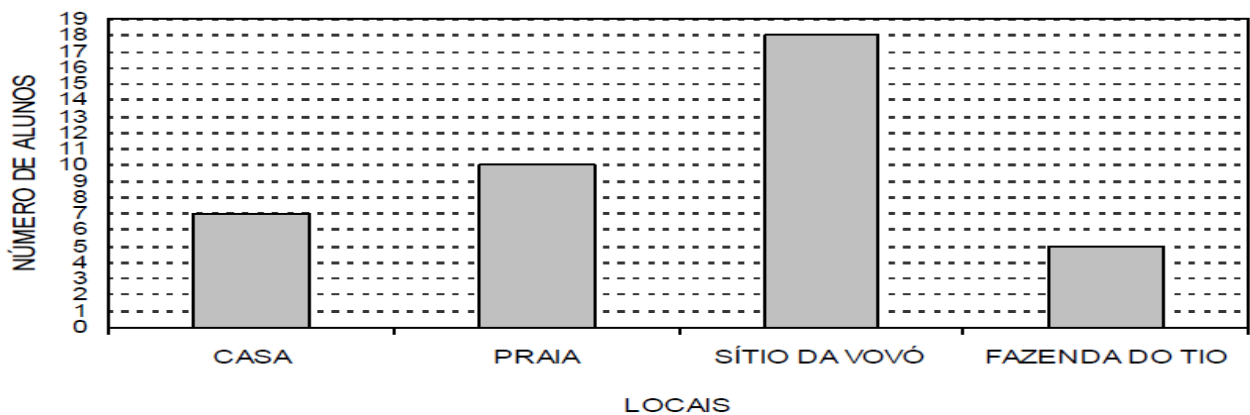
Tipo de filme	Número de votos	
	Meninas	Meninos
Aventura	8	10
Comédia	7	2
Desenho animado	5	5
Terror	2	4

Qual o tipo de filme preferido pelos MENINOS?

- (A) Aventura
- (B) Comédia
- (C) Desenho animado
- (D) Terror

No final do ano, os alunos de D. Célia fizeram uma pesquisa na sala, para saber onde cada um ia passar as férias. Cada aluno podia escolher um só lugar.

Este gráfico mostra o resultado da pesquisa:

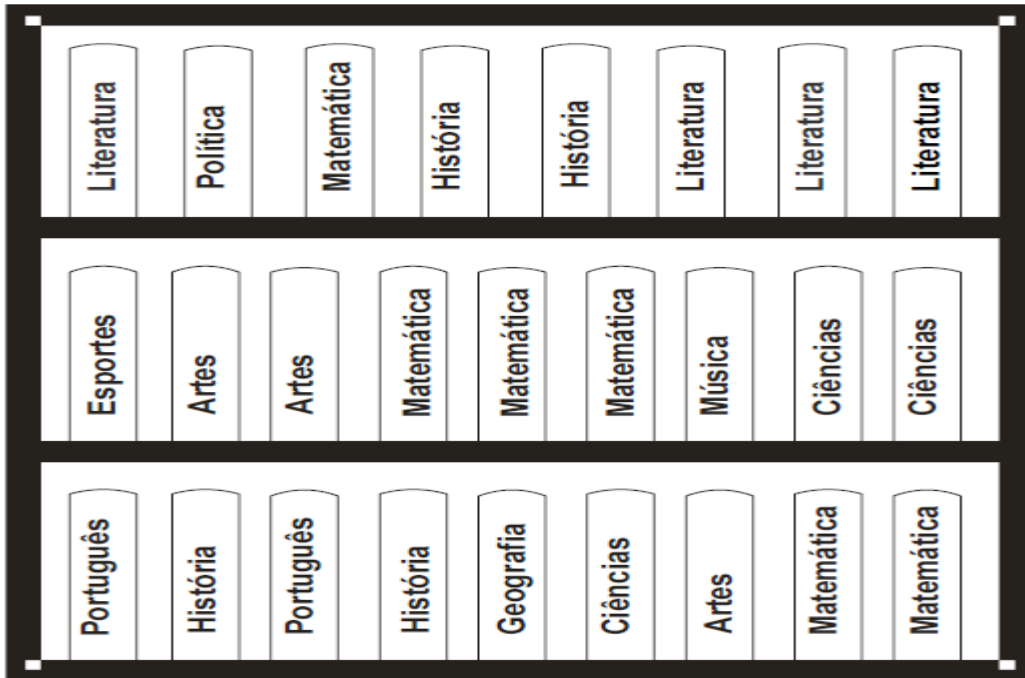


Qual dos locais foi o MENOS escolhido pelos alunos para passarem as férias?

- (A) Casa
- (B) Fazenda do tio
- (C) Praia
- (D) Sítio da vovó

MATEMÁTICA


Considere no desenho abaixo, as posições dos livros numa estante:



Você está de frente para essa estante. O livro de Música é o terceiro a partir da sua

- (A) esquerda na prateleira do meio.
- (B) direita na prateleira de cima.
- (C) esquerda na prateleira de cima.
- (D) direita na prateleira do meio.

Sheila usou linhas retas fechadas para fazer este desenho.



Quantas figuras de quatro lados foram desenhadas?

- (A) 2
- (B) 3
- (C) 4
- (D) 5

MATEMÁTICA

Ao usar uma régua de 20 cm para medir uma mesa, Henrique observou que ela cabia 27 vezes no comprimento da mesa. Ele multiplicou esses valores e encontrou 540 cm. Em metros, o comprimento da mesa é de

- (A) 0,54 m
- (B) 5,4 m
- (C) 54 m
- (D) 540 m

Sara fez um bolo e o repartiu com seus quatro filhos. João comeu 3 pedaços, Pedro comeu 4, Marta comeu 5 e Jorge não comeu nenhum pedaço. Sabendo-se que o bolo foi dividido em 24 pedaços iguais, que parte do bolo foi consumida?

- (A) $\frac{1}{2}$
- (B) $\frac{1}{3}$
- (C) $\frac{1}{4}$
- (D) $\frac{1}{24}$

Uma professora ganhou ingressos para levar 50% de seus alunos ao circo da cidade. Considerando que essa professora leciona para 36 alunos, quantos alunos ela poderá levar?

- (A) 9
- (B) 18
- (C) 24
- (D) 36

MATEMÁTICA

Maria, limpando a sua bolsa, encontrou as seguintes notas e moedas:



Quantos reais ela tinha na sua bolsa?

- (A) R\$ 9,00
- (B) R\$ 9,90
- (C) R\$ 10,10
- (D) R\$ 10,15

Numa gincana, as equipes deveriam recolher latinhas de alumínio. Uma equipe recolheu 5 sacos de 100 latinhas cada e outra equipe recolheu 3 sacos de 50 latinhas cada. Quanta latinhas foram recolhidas ao todo?

- (A) 100
- (B) 150
- (C) 500
- (D) 650

No número 10.060, o algarismo 6 ocupa a ordem da

- (A) Centena simples
- (B) Dezena simples
- (C) Unidade simples
- (D) Dezena de milhar

LÍNGUA PORTUGUESA

- **Leia o texto:**

Um cardápio variado

Os besouros estão em toda parte do planeta. Para eles, a natureza é uma fonte inesgotável de alimentos. Veja só:

O serra pau tem esse nome porque se alimenta de madeira. Uma espécie é chamada de rola-bosta, por sua preferência por excrementos, enquanto outra tem hábitos mais “refinados”, pois só come pétalas de flores.

O bicudo e a broca são terríveis para a lavoura do algodão; o bicudo come a flor antes dela abrir-se, enquanto a broca ataca a raiz, enfraquecendo a planta.

A joaninha, que também é um besouro, ajuda a combater as pragas das plantações. Ela chega a comer cerca de 20 pulgões por dia.

Há também besouros que adoram uma biblioteca, mas ali não vão para uma boa leitura, e sim para devorar os livros. Nesse caso, são as suas larvas que perfuram as capas dos livros, causando o maior estrago.

Fonte: Adaptado de Globo Ciência: Ano 2, nº 20.

1. O besouro que prejudica a agricultura é o:

A) Serra pau. B) Bicudo. C) Joaninha. D) Rola-bosta

- **Leia a fábula abaixo:**

O leão e o rato

Um Leão dormia sossegado, quando foi despertado por um Rato, que passou correndo sobre seu rosto. Com um bote ágil ele o pegou, e estava pronto para matá-lo, quando o Rato suplicou:

Ora, se o senhor me poupasse, tenho certeza que um dia poderia retribuir sua bondade.

Rindo por achar ridícula a ideia, assim mesmo, ele resolveu libertá-lo.

Aconteceu que, pouco tempo depois, o Leão caiu numa armadilha colocada por caçadores. Preso ao chão, amarrado por fortes cordas, sequer podia mexer-se.

O Rato, reconhecendo seu rugido, se aproximou e roeu as cordas até deixá-lo livre. Então disse:

- O senhor riu da ideia de que eu jamais seria capaz de ajudá-lo. Nunca esperava receber de mim qualquer favor em troca do seu! Mas agora sabe, que mesmo um pequeno Rato é capaz de retribuir um favor a um poderoso Leão.

Moral: Os pequenos amigos podem se revelar os melhores e mais leais aliados.

Fonte: <http://sitededicadas.uol.com.br/fabula3a.htm>

2. Quando o rato dirige-se ao leão trata-o como “Senhor”. Essa forma de tratamento indica:

- A) Inferioridade do leão.
- B) Superioridade do rato.
- C) Respeito do rato para com o leão.
- D) Humildade do leão



- **Leia o texto abaixo que pertence ao “Manual de Etiqueta: 33 dicas de como enfrentar o aquecimento global e outros desafios da atualidade”.**



“Ao fazer compras, leve sua própria sacola, de preferência as de pano resistente”, aconselha o presidente do Instituto Ethos, Ricardo Young. Com esse gesto simples, você deixará de participar da farra das sacolinhas plásticas, que entopem cada vez mais os lixões das grandes cidades.

3. O conselho dado por Ricardo Young pretende:

- A) Contribuir para a preservação do meio ambiente.
- B) Evitar desperdício das sacolas plásticas.
- C) Vender mais sacolas de pano.
- D) Evitar entupimento dos bueiros.

- **Leia a piada abaixo para responder a questão.**

Juquinha foi visitar o Museu Histórico. Aí, cansou de andar e sentou-se numa cadeira belíssima que estava no centro da sala. Veio o guarda:

- Meu filho, você não pode sentar aí. Esta cadeira é do Pedro I.

E o Juquinha: - Não tem problema. Quando ele chegar eu me levanto!

Fonte: Lucas Samuel, Jaboatão/Pernambuco. Revista Ciência Hoje das crianças, nº 78 - Março/1998. Ano 11, p.28 - Seção: cartas

4. O Pedro I da piada era:

- A) Amigo do Juquinha.
- B) Guarda do museu.
- C) Professor de história.
- D) Imperador do Brasil.

- **Observe o rótulo abaixo:**



O rótulo do chocolate em pó Nescau procura reforçar o valor nutricional do produto em questão utilizando a palavra energia.

5. Que recurso utilizado no rótulo está melhor relacionado à palavra energia?

- A) A imagem do raio.
- B) A informação nutricional.
- C) O logotipo da Nestlé.
- D) O quadro com uma dica Nescau.

A boneca Guilhermina

- Esta é a minha boneca, a Guilhermina. Ela é uma boneca muito bonita, que faz xixi e cocô. Ela é muito boazinha também. Faz tudo o que eu mando. Na hora de dormir, reclama um pouco. Mas depois que pega no sono, dorme a noite inteira! Às vezes ela acorda no meio da noite e diz que está com sede. Daí eu dou água para ela. Daí ela faz xixi e eu troco a fralda dela.
- 5 Então eu ponho a Guilhermina dentro do armário, de castigo. Mas quando ela chora, eu não aguento. Eu vou até lá e pego a minha boneca no colo. A Guilhermina é a boneca mais bonita da rua.

MUILAERT, A. *A boneca Guilhermina*. In: *As reportagens de Penélope*. São Paulo: Companhia das Letrinhas, 1997, p. 17. Coleção Castelo Rá-Tim-Bum – Vol. 8.

01 IT_025998

O trecho "A Guilhermina é a boneca mais bonita da rua" (l. 13-14) expressa

- (A) uma opinião da dona sobre a sua boneca.
 (B) um comentário das amigas da dona da boneca.
 (C) um desejo da dona de Guilhermina.
 (D) um fato acontecido com a boneca e a sua dona.

02 IT_025908

No trecho "Mas quando ela chora, eu não aguento" (l. 11-12), a expressão sublinhada significa, em relação à dona da boneca, sentimento de

- (A) paciência.
 (B) pena.
 (C) raiva.
 (D) solidão.

A ESCOLHA DE UMA



ERA UMA VEZ UM  QUE TINHA A INTENÇÃO DE SE CASAR E QUE CONHECIA TRÊS , AS

3 TÃO LINDAS QUE ELE NÃO CONSEGUIA ESCOLHER, NEM DECIDIR QUAL PREFERIA. ATRAPALHADO, FOI PEDIR

A OPINIÃO DA , QUE LHE DISSE:

- CONVIDE AS **3** PARA ALMOÇAR, OFEREÇA



E OBSERVE BEM COMO ELAS O COMEM.


FOI O QUE FEZ O . A **1** ENGOLIU O



COM A CASCA; A **2**, PELO CONTRÁRIO, TIROU

A , MAS COM TANTA IMPACIÊNCIA QUE CORTOU

DEMAIS E JOGOU FORA, JUNTO COM A CASCA, A PARTE

MAIS CREMOSA DO ; A **3** TAMBÉM TIROU

A , SÓ QUE COM TODA A CALMA, E EXATAMENTE

O QUE ERA NECESSÁRIO TIRAR, NEM DE **+**, NEM DE

-. E QUANDO O  FOI CONTAR TUDO À , ELA LHE DISSE:

- CASE-SE COM A **3**!

E FOI O QUE O  FEZ, E FOI MUITO FELIZ.

RIMM. A escolha de uma esposa. In: MATOS, Magna Diniz; ASSUMPCÃO, Solange Bonomo. **Na trilha do texto: alfabetização: novo**. São Paulo: Quinteto Editorial, 2001, p.28-29.

A terceira moça foi a escolhida pelo rapaz porque ela

- (A) demonstrou que era cuidadosa e paciente.
- (B) era mais rápida que as outras.
- (C) provou que os últimos serão os primeiros.
- (D) sabia como se comportar à mesa.

04 IT_025948

No texto, a primeira moça era

- (A) bondosa.
- (B) esperta.
- (C) gulosa.
- (D) impaciente.

TB_006547

BICICLETA TWENTY MAGNA



GARANTIA DE 6 MESES
À VISTA R\$ 188,70
TOTAL A PRAZO: R\$ 188,70
3 X R\$ 62,90 SEM JUROS

18 MARCHAS
ARO 26

CÓCCO, Maria Fernandes; HAILER, Marco Antônio. *Alp Alfabetização: análise, linguagem e pensamento*. São Paulo: FTD, 1995, p. 149.

05 IT_024673

A bicicleta pode ser paga em

- (A) três vezes.
- (B) seis vezes.
- (C) dezoito vezes.
- (D) vinte e seis vezes.

Feias, sujas e imbatíveis
(fragmento)

As baratas estão na Terra há mais de 200 milhões de anos, sobrevivem tanto no deserto como nos polos e podem ficar até 30 dias sem comer. Vai encarar?

5 Férias, sol e praia são alguns dos bons motivos para comemorar a chegada do verão e achar que essa é a melhor estação do ano. E realmente seria, se não fosse por um único detalhe: as baratas. Assim como nós, elas também ficam bem animadas com o calor. Aproveitam a aceleração de seus processos bioquímicos para se reproduzirem mais rápido e, claro, para passearem livremente por todos os cômodos de nossas casas.

15 Nessa época do ano, as chances de dar de cara com a visitante indesejada, ao acordar durante a noite para beber água ou ir ao banheiro, são três vezes maiores.

Revista *Galileu*. Rio de Janeiro: Globo, Nº 151, Fev. 2004, p.26.

06 IT_035940

No trecho "Vai encarar?" (l.4), o ponto de interrogação tem o efeito de

- (A) apresentar.
- (B) avisar.
- (C) desafiar.
- (D) questionar.

07 IT_035926

A expressão "Vai encarar?" (l.4), é marca de linguagem

- (A) científica.
- (B) formal.
- (C) informal.
- (D) regional.

Qualquer vida é muita dentro da floresta

Se a gente olha de cima, parece tudo parado.
 Mas por dentro é diferente.
 A floresta está sempre em movimento.
 Há uma vida dentro dela que se transforma
 5 sem parar.
 Vem o vento.
 Vem a chuva.
 Caem as folhas.
 E nascem novas folhas.
 10 Das flores saem os frutos.
 E os frutos são alimento.
 Os pássaros deixam cair as sementes.
 Das sementes nascem novas árvores.
 As luzes dos vaga-lumes são estrelas na
 15 terra.
 E com o sol vem o dia.
 Esquenta a mata.
 Ilumina as folhas.
 Tudo tem cor e movimento.

ÍNDIOS TICUNA. Qualquer vida é muita dentro da floresta.
 In: O livro das árvores. 2. ed. Organização Geral dos
 Professores Ticuna Bilíngües, 1998. p. 48.

08 IT_024942

A ideia central do texto é

- (A) a chuva na floresta.
- (B) a importância do Sol.
- (C) a vida na floresta.
- (D) o movimento das águas.

09 IT_026405

O que diz o trecho

“Esquenta a mata.
 Ilumina as folhas.
 Tudo tem cor e movimento.” (v. 17-19)

acontece porque

- (A) aparecem estrelas.
- (B) brotam flores.
- (C) chega o Sol.
- (D) vem o vento.

No trecho “Há uma vida dentro dela que se transforma sem parar.” (v. 4-5), a palavra sublinhada refere-se à

- (A) floresta.
- (B) chuva.
- (C) terra.
- (D) cor.

TB_007409



11 IT_032904

O objetivo do texto é

- (A) alertar.
- (B) anunciar.
- (C) criticar.
- (D) divertir.

A VASSOURA

A vassoura de uma bruxa é uma das mais importantes peças de seu equipamento. Pode ser utilizada em casa, mas também constitui um meio de transporte muito barato.

COMO PREPARAR SUA VASSOURA MÁGICA



COMO VOAR EM SUA VASSOURA



BIRD, M. *Manual prático de bruxaria*. 2. ed. São Paulo: Editora Ática, 1997. p. 25.

01

IT_026026

No texto, uma PASSAGEM ENGRAÇADA é

- (A) "Amarre um feixe de ramos secos."
- (B) "A versão moderna da vassoura tem suas limitações."
- (C) "Bata numa superfície dura."
- (D) "Enfie o cabo da vassoura no feixe."

02

IT_025878

No trecho "Caso a vassoura não preste, ela poderá ter outras utilidades.", a palavra sublinhada refere-se à

- (A) altura do voo.
- (B) bengala da bruxa.
- (C) bruxa machucada.
- (D) vassoura mágica.

03

IT_026030

O texto é divertido, PRINCIPALMENTE, porque

- (A) apresenta uma bruxa trapalhona e medrosa.
- (B) dá instruções sobre como fabricar uma vassoura.
- (C) ensina como a bruxa deve limpar a sua casa.
- (D) trata de como fazer uma vassoura e usá-la no fogão.

EVA FURNARI

EVA FURNARI – Uma das principais figuras da literatura para crianças. Eva Furnari nasceu em Roma (Itália) em 1948 e chegou ao Brasil em 1950, radicando-se em São Paulo. Desde muito jovem, sua atração eram os livros de estampas – e não causa estranhamento algum imaginá-la envolvida com cores, lápis e pincéis, desenhando mundos e personagens para habitá-los...

5 Suas habilidades criativas encaminharam-na, primeiramente, ao universo das Artes Plásticas expondo, em 1971, desenhos e pinturas na Associação dos Amigos do Museu de Arte Moderna, em uma mostra individual. Paralelamente, cursou a Faculdade de Arquitetura e Urbanismo da USP, formando-se no ano de 1976. No entanto, erguer prédios tomou-se pouco atraente quando encontrou a experiência das narrativas visuais.

10 Iniciou sua carreira como autora e ilustradora, publicando histórias sem texto verbal, isto é, contadas apenas por imagens. Seu primeiro livro foi lançado pela Ática, em 1980, *Cabra-cega*, inaugurando a coleção *Peixe Vivo*, premiada pela Fundação Nacional do Livro Infantil e Juvenil – FNLIJ.

15 Ao longo de sua carreira, Eva Furnari recebeu muitos prêmios, entre eles contam o Jabuti de "Melhor Ilustração" – *Trucks* (Ática, 1991), *A bruxa Zelda e os 80 docinhos* (1986) e *Anjinho* (1998) – setes láureas concedidas pela FNLIJ e o Prêmio APCA pelo conjunto de sua obra.

http://lcaracal.imaginaria.cam/autog_rafas/evafumari/index.html

04

IT_035175

No trecho "Ao longo de sua carreira, Eva Furnari recebeu prêmios, entre eles contam o Jabuti" (λ. 14) , a palavra destacada refere-se a

- (A) lápis.
- (B) livros.
- (C) pincéis.
- (D) prêmios.

05

IT_042369

O trecho que contém uma ideia de tempo é

- (A) "Eva Furnari nasceu em Roma." (λ.1-2)
- (B) "radicando-se em São Paulo." (λ.2)
- (C) "formando-se no ano de 1976." (λ. 8)
- (D) "seu primeiro livro foi lançado pela Ática." (λ.11)

O menino que mentia

Um pastor costumava levar seu rebanho para fora da aldeia. Um dia resolveu pregar uma peça nos vizinhos.

5 – Um lobo! Um lobo! Socorro! Ele vai comer minhas ovelhas! Os vizinhos largaram o trabalho e saíram correndo para o campo para socorrer o menino. Mas encontraram-no às gargalhadas. Não havia lobo nenhum.

10 Ainda outra vez ele fez a mesma brincadeira e todos vieram ajudar, e ele caçoou de todos.

15 Mas um dia o lobo apareceu de fato e começou a atacar as ovelhas. Morrendo de medo, o menino saiu correndo.

– Um lobo! Um lobo! Socorro!

Os vizinhos ouviram, mas acharam que era caçoada. Ninguém socorreu e o pastor perdeu todo o rebanho.

20 *Ninguém acredita quando o mentiroso fala a verdade.*

BENNETT, William J. *O livro das virtudes para crianças*. Rio de Janeiro: Nova Fronteira, 1997.

08

IT_035944

O texto tem a finalidade de

- (A) dar uma informação.
- (B) fazer uma propaganda.
- (C) registrar um acontecimento.
- (D) transmitir um ensinamento.

09

IT_035957

No final da história, pode-se entender que

- (A) as ovelhas fugiram do pastor.
- (B) os vizinhos assustaram o rebanho.
- (C) o lobo comeu todo o rebanho.
- (D) o jovem pastor pediu socorro.

Sobrenome

Como vocês sabem Frankenstein foi feito com pedaços de pessoas diferentes: a perna era de uma, o braço de outra a cabeça de uma terceira e assim por diante.

5 Além de o resultado ter sido um desastre houve um grave problema na hora em que Frankenstein foi tirar carteira de identidade.

10 Como dar identidade a quem era uma mistura de várias pessoas?

15 A coisa só se resolveu quando alguém lembrou que num condomínio cada apartamento é de um dono diferente.

20 Foi assim que Frankenstein Condomínio ganhou nome e sobrenome como toda gente.

PAES, José Paulo. *Lé com Cré*. São Paulo: Ática, 1996.

10

IT_032840

O assunto do texto é como

- (A) as pessoas resolvem seus problemas.
- (B) as pessoas tiram carteira de identidade.
- (C) o condomínio de um prédio é formado.
- (D) o Frankenstein ganhou um sobrenome.

Fonte das atividades de Língua Portuguesa:

http://portal.mec.gov.br/index.php?option=com_docman&view=download&alias=7997-provamodelo-5ano&category_slug=maio-2011-pdf&Itemid=30192

Nome: _____

GEOGRAFIA

AS CIDADES SE TRANSFORMAM

Você já estudou que os seres humanos transformam a natureza diariamente por meio do trabalho, deixando suas marcas nas paisagens. Essas marcas podem ser percebidas ao longo do tempo, por exemplo, nas mais variadas construções, que vão sendo erguidas e destruídas de acordo com as necessidades dos grupos humanos.

Leia o texto:

[...] certa noite, o rapaz regressou pensativo do quintal silencioso. Percebeu que de nada adiantava ficar podando folhas.

[...]

Alguns meses, e ele encontrou a solução: UM MACHADO.

[...]

E o rapaz, quase homem já, descobriu que poderia ganhar a vida com seu instrumento. Onde quer que precisassem derrubar árvores, ele era chamado.[...]

E o rapaz, homem mais que feito, casado, muito rico, se assustou. O país era uma terra [...] seca. Deserto puro. [...]

Finalmente, o governo, para remediar, mandou buscar em Israel técnicos especializados [...]. Os homens vieram, [...] começaram o longo e lento plantio. [...]

BRANDÃO, Ignácio de Loyola, **O homem que espalhou o deserto.**

1) Pela leitura do texto, você acha que a paisagem foi transformada? Por quê?

2) Faça o desenho do antes e do depois da paisagem descrita no texto:

Antes	depois

Nome: _____

CIÊNCIAS

E



A primeira vacina surgiu na Inglaterra, em 1796, e foi criada por um médico chamado Edward Jenner. Ele fez vários experimentos com uma variedade mais branda da varíola e desenvolveu uma técnica que chamou de **vacina**.

A vacina não é um remedinho como outro qualquer que tomamos quando adoecemos para ficarmos livres daquele mal. Ela é tomada antes, justamente para que a pessoa não venha a desenvolver determinadas doenças, como por exemplo a poliomielite, conhecida como paralisia infantil, a gripe, o sarampo, a varíola, o tétano e a coqueluche, dentre muitas outras.

Quando tomamos uma vacina, na verdade estamos preparando o organismo para reagir quando for infectado e combater o agente invasor (microrganismo).

Nos primeiros anos de vida, as crianças são vacinadas contra muitas doenças e anualmente, no Brasil, antes de iniciar o inverno, começam as campanhas de vacinação contra a gripe.

Atualmente estamos vivendo a pandemia do novo coronavírus, a COVID-19, uma doença infecciosa e contagiosa que se espalha rapidamente e que já causou e continua causando a morte de muitas pessoas. Todas as medidas sanitárias necessárias estão sendo tomadas desde seu surgimento, como, por exemplo, distanciamento social, uso de máscaras e lavagem das mãos constantemente. Mas só a vacinação poderá deter a pandemia.

A CRIAÇÃO DA VACINA



2021

ATIVIDADE

1) Complete as lacunas abaixo com as palavras do quadro.

vacina - coronavírus – organismo – microrganismo - COVID-19

- a) A _____ é uma doença infectocontagiosa que se espalha rapidamente.
- b) A _____ prepara o _____ para combater o agente invasor.
- c) O vírus é um _____ que ataca nosso sistema imunológico.
- d) Atualmente vivenciamos a pandemia do novo _____.

2) Responda.



a) Onde e quando surgiu a vacina?

R _____

b) Quem a criou?

R _____

c) Quando começa a Campanha de vacinação contra a gripe aqui no Brasil?

R _____

d) Quais são as medidas sanitárias necessárias para evitar a COVID-19?

R _____

e) Do que a população precisa para deter a pandemia do novo coronavírus?

R _____



3) E você, o que está fazendo para se prevenir da Covid-19?

Nome: _____ data ____ / ____ / ____

Artes

Observe as imagens das obras de Ivan Cruz escolha uma e desenhe no quadro branco que aparece No centro.

Escolha uma dessas brincadeiras, vivencie e grave um vídeo brincando e envie para a professora.



Conhecendo o artista: Ivan Cruz - Professor Fabrício Secchin - EEEFM José Rodrigues Coutinho.

Praticar a arte: Conhecendo as obras do artista Ivan Cruz, escolha uma delas para produzir uma releitura.

