

MINHAS ATIVIDADES

**A diferença nos enriquece. . . .
O respeito nos une!**



20/09, 21/09, 22/09, 23/09, 24/09 ,27/09, 28/09

11ª APOSTILA

3ºB

NOME: _____
PROFESSOR(A): _____

NOME: _____

PRODUÇÃO ESCRITA

AS EMOÇÕES

RESPONDA ÀS PERGUNTAS:



QUANDO VOCÊ FICA FELIZ?



QUANDO VOCÊ FICA BRAVO?



QUANDO VOCÊ FICA SURPRESO?



QUANDO VOCÊ FICA TRISTE?



QUANDO VOCÊ SENTE MEDO?

OBSERVE AS CRIANÇAS NAS IMAGENS ABAIXO E CONVERSE SOBRE COMO ELAS ESTÃO SE SENTINDO. EM SEGUIDA, ARRASTE OS SENTIMENTOS DE ACORDO COM AS EXPRESSÕES DAS CRIANÇAS.





ASSUSTADO



BRAVO



FELIZ



TRISTE



ASSUSTADO



BRAVO



FELIZ



TRISTE



NOME: _____



OBSERVE AS MAÇÃS QUE ESTÃO ABAIXO E ESCOLHA OS SENTIMENTOS BONS,
RECORTE A MAÇÃ E COLE NA ÁRVORE:

www.blogdaebi.blogspot.com

BONDADE

FALSIDADE

OBEDIÊNCIA

MENTIRA

PAZ


BRIGAS

SINCERIDADE

PACIÊNCIA

DESOBEDIÊNCIA

COMPARANDO QUANTIDADES



NA ÁRVORE "A" TEM _____ MAÇÃS.

NA ÁRVORE "B" TEM _____ MAÇÃS.

NA ÁRVORE "C" TEM _____ MAÇÃS.

A ÁRVORE COM **MAIS** MAÇÃS É:

() A () B () C

A ÁRVORE QUE TEM **MENOS** MAÇÃS NO CHÃO É:

() A () B () C

- RISQUE TODAS AS MAÇÃS DA ÁRVORE **A**.

- RISQUE A MESMA QUANTIDADE NA ÁRVORE **B**.

* QUANTAS MAÇÃS A ÁRVORE **B** TEM A MAIS QUE A ÁRVORE **A**? 


QUANTAS MAÇÃS NO CHÃO?

A → _____

B → _____

C → _____



ADICIONE TODAS AS MAÇÃS QUE ESTÃO NO CHÃO E REGISTRE O RESULTADO. 

A ÁRVORE **C** TEM:


() UMA DEZENA DE MAÇÃS.

() UMA DÚZIA DE MAÇÃS.

NOME: _____

ENUMERE AS ÁRVORES, ESCREVA OS NOMES DAS ÁRVORES FRUTÍFERAS E ABAIXO
ESCREVAM QUAL FRUTO PRODUZ:

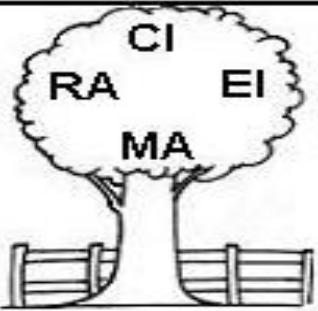


















- 1- _____
- 2- _____
- 3- _____
- 4- _____
- 5- _____
- 6- _____
- 7- _____
- 8- _____
- 9- _____

MOSTRE QUE É UM CAMPEÃO NOS FATOS:

$2 \times 5 =$

$3 \times 4 =$

$2 \times 6 =$

$3 \times 3 =$

$3 \times 5 =$

$2 \times 9 =$

$3 \times 7 =$

$4 \times 4 =$

$5 \times 3 =$

$5 \times 2 =$

$4 \times 6 =$

$9 \times 2 =$

$8 \times 2 =$

$7 \times 5 =$

IBIÚNA, 23 DE SETEMBRO DE 2.021

NOME: _____



VIVA A PRIMAVERA!!!!!!!!!!!!!!

1-COMPLETE AS LACUNAS DO TEXTO COM AS PALAVRAS EM DESTAQUE.



ABELHINHAS - ESTAÇÃO- PRIMAVERA
QUERIDA - CORES - CANTAR
NATUREZA - PAPEL





PRIMAVERA

PRIMA... PRIMA... _____
É A _____ QUE TRAZ AS FLORES
E O VERDE RENASCE TÃO LINDO
É UMA FESTA CHEIA DE _____

OS PASSARINHOS VIVEM A _____
E AS _____ VÃO FAZENDO O MEL
AS FORMIGUINHAS VÃO SE ALIMENTAR
CADA UM FAZ O SEU PAPEL

DAS QUATROS ESTAÇÕES DO ANO
A PRIMAVERA É A MAIS _____
PINTA TODA A _____
E DEIXA A _____ MAIS COLORIDA

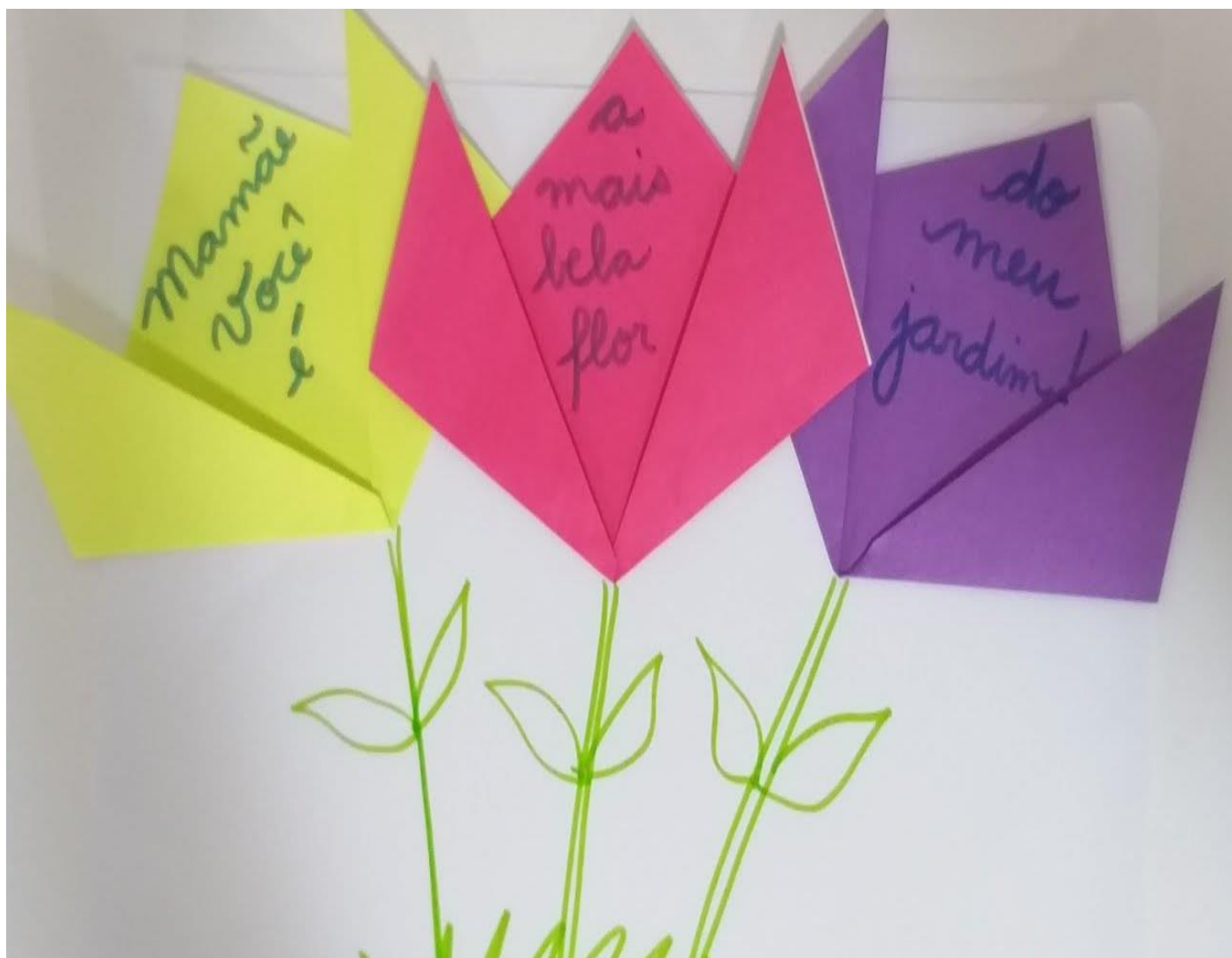
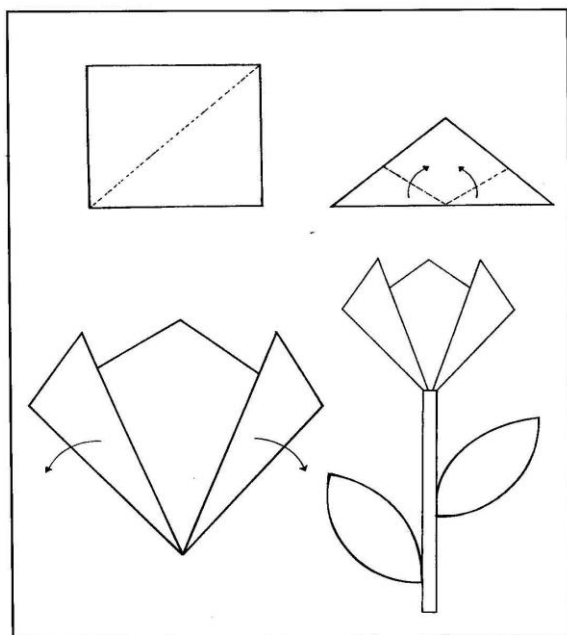
O SENHOR PAULO PLANTOU EM SEU JARDIM UMA NOVA ESPÉCIE DE FLORES, AS FLORES NUMERADAS. ELE AS PLANTOU EM ORDEM DECRESCENTE E EM SEQUÊNCIA. VOCÊ CONSEGUE DESCOBRIR A SEQUÊNCIA?






IBIÚNA, 24 DE SETEMBRO DE 2.021

NOME: _____

DOBRADURA DA TULIPA: SEQUE OS PASSOS ABAIXO COM OS PAPÉIS EM ANEXO E FAÇA COMO O MODELO ABAIXO:





MONTE SEU JARDIM AQUI, COM SUAS TULIPAS COLORIDAS: (PODE SER MONTADO NA POSIÇÃO HORIZONTAL):

PRIMAVERA

A PRIMAVERA ME
FAZ SENTIR...

DESENHE O QUE VOCÊ
GOSTA DE FAZER NA
PRIMAVERA.

NA PRIMAVERA EU VEJO...

QUAL SUA ATIVIDADE
PREFERIDA NA PRIMAVERA



IBIÚNA, 27 DE SETEMBRO DE 2.021

NOME: _____

ANALISE A CAPA DO LIVRO:



ESCREVA O TÍTULO DO LIVRO:

AUTORA:

ILUSTRADOR:

NOME: _____

ESCREVA O NOME DOS PERSONAGENS QUE FAZEM PARTE DO LIVRO “ A PRIMAVERA DA LAGARTA”

FORMIGA JOANINHA CAMALEÃO CARACOL BORBOLETA
LAGARTIXA LAGARTA LOUVA – A – DEUS LIBÉLULA



--	--	--	--	--	--	--	--



--	--	--	--	--	--	--	--



--	--	--	--	--	--	--	--



--	--	--	--	--	--	--	--



--	--	--	--	--	--	--	--



--	--	--	--	--	--	--	--



--	--	--	--	--	--	--	--



--	--	--	--	--	--	--	--

COM BASE NA PALAVRA PRIMAVERA RESPONDA:

PRIMAVERA


NÚMERO DE LETRAS:

LETRA INICIAL:

LETRA FINAL:

VOGAIS QUE APARECEM:

CONSOANTES QUE APARECEM:




OS BICHINHOS DEIXARAM RECADINHOS PARA VOCÊ. LEIA E CONTE OS RECADINHOS:


VOCÊ É...




QUANTAS VEZES APARECERAM A PALAVRA **BRILHANTE**?



QUANTAS VEZES APARECERAM A PALAVRA **ESPECIAL**?



QUANTAS VEZES APARECERAM A PALAVRA **LEGAL**?



CONTE AS LAGARTAS E AS BORBOLETAS, FAÇA GRUPO DE TRÊS, COLOQUE O NUMERAL E ESCREVA POR EXTENSO:



QUANTAS SÃO AS BORBOLETAS? _____

QUANTAS SÃO AS LAGARTAS? _____

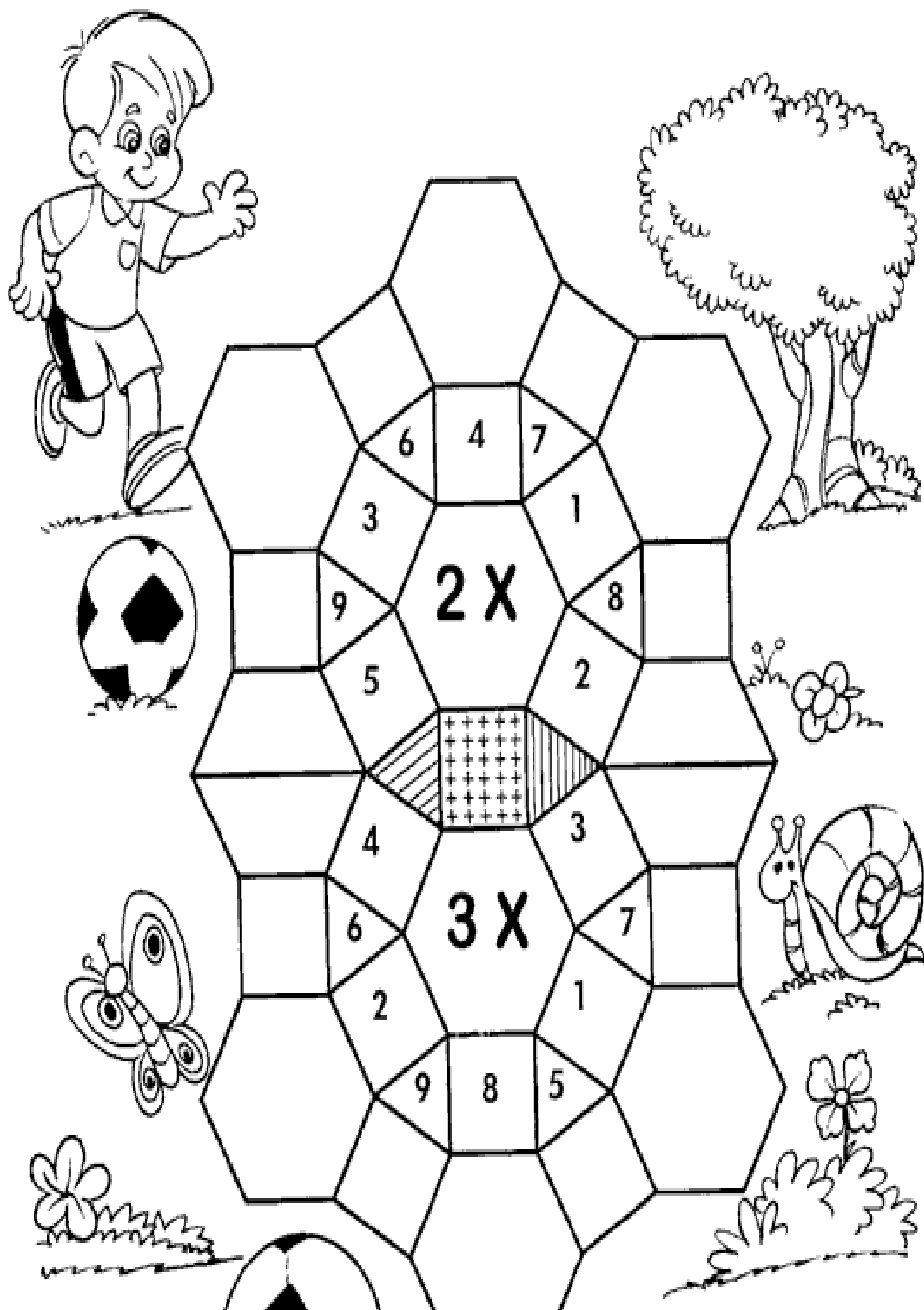
QUANTOS GRUPOS DE TRÊS BORBOLETAS VOCÊ FORMOU? _____

QUANTOS GRUPOS DE TRÊS LAGARTAS VOCÊ FORMOU? _____


SOMANDO AS BORBOLETAS E AS LAGARTAS QUANTOS FICAM? _____

MOSAICO DA MULTIPLICAÇÃO

Complete o mosaico, resolvendo os fatos:



ESTUDEM A TABUADA

 $1 \times 1 = 1$

 $2 \times 1 = 2$

$3 \times 1 = 3$

$4 \times 1 = 4$

$5 \times 1 = 5$

$1 \times 2 = 2$

$2 \times 2 = 4$

$3 \times 2 = 6$

$4 \times 2 = 8$

$5 \times 2 = 10$

$1 \times 3 = 3$

$2 \times 3 = 6$

$3 \times 3 = 9$

$4 \times 3 = 12$

$5 \times 3 = 15$

$1 \times 4 = 4$

$2 \times 4 = 8$

$3 \times 4 = 12$

$4 \times 4 = 16$

$5 \times 4 = 20$

$1 \times 5 = 5$

$2 \times 5 = 10$

$3 \times 5 = 15$

$4 \times 5 = 20$

$5 \times 5 = 25$

$1 \times 6 = 6$

$2 \times 6 = 12$

$3 \times 6 = 18$

$4 \times 6 = 24$

$5 \times 6 = 30$

$1 \times 7 = 7$

$2 \times 7 = 14$

$3 \times 7 = 21$

$4 \times 7 = 28$

$5 \times 7 = 35$

$1 \times 8 = 8$

$2 \times 8 = 16$

$3 \times 8 = 24$

$4 \times 8 = 32$

$5 \times 8 = 40$

$1 \times 9 = 9$

$2 \times 9 = 18$

$3 \times 9 = 27$

$4 \times 9 = 36$

$5 \times 9 = 45$


$1 \times 10 = 10$

$2 \times 10 = 20$

$3 \times 10 = 30$

$4 \times 10 = 40$

$5 \times 10 = 50$

 $6 \times 1 = 6$

$7 \times 1 = 7$

$8 \times 1 = 8$

$9 \times 1 = 9$

$10 \times 1 = 10$

$6 \times 2 = 12$

$7 \times 2 = 14$

$8 \times 2 = 16$

$9 \times 2 = 18$

$10 \times 2 = 20$

$6 \times 3 = 18$

$7 \times 3 = 21$

$8 \times 3 = 24$

$9 \times 3 = 27$

$10 \times 3 = 30$

$6 \times 4 = 24$

$7 \times 4 = 28$

$8 \times 4 = 32$

$9 \times 4 = 36$

$10 \times 4 = 40$

$6 \times 5 = 30$

$7 \times 5 = 35$

$8 \times 5 = 40$

$9 \times 5 = 45$

$10 \times 5 = 50$

$6 \times 6 = 36$

$7 \times 6 = 42$

$8 \times 6 = 48$

$9 \times 6 = 54$

$10 \times 6 = 60$

$6 \times 7 = 42$

$7 \times 7 = 49$

$8 \times 7 = 56$

$9 \times 7 = 63$

$10 \times 7 = 70$

$6 \times 8 = 48$

$7 \times 8 = 56$

$8 \times 8 = 64$

$9 \times 8 = 72$

$10 \times 8 = 80$

$6 \times 9 = 54$

$7 \times 9 = 63$

$8 \times 9 = 72$

$9 \times 9 = 81$



$10 \times 9 = 90$

$6 \times 10 = 60$

$7 \times 10 = 70$

$8 \times 10 = 80$

$9 \times 10 = 90$

$10 \times 10 = 100$ 



DESAFIO

Responda as perguntas
e vença o desafio!



1. QUANTAS DEZENAS TEM NO NÚMERO 231? _____
2. O NÚMERO 632 TEM 3 CENTENAS? _____
3. QUANTAS CENTENAS TEM O NÚMERO 324? _____
4. QUAL VALOR DO 9 NO NÚMERO 592? _____
5. QUANTAS UNIDADES TEM O NÚMERO 627? _____
6. QUANTAS DEZENAS TEM O NÚMERO 498? _____
7. O NÚMERO 987 TEM 8 DEZENAS? _____
8. QUANTAS CENTENAS TEM O NÚMERO 129? _____
9. QUAL VALOR DO 7 NO NÚMERO 721? _____
10. QUANTAS UNIDADES TEM O NÚMERO 345? _____



TODOS CONTRA O CORONAVÍRUS



COMBINADOS DA TURMA

COMBINADOS



PODE

NÃO PODE

PODE	NÃO PODE

REFERÊNCIAS

PINTEREST

EMAI 3º ANO

ÁPIS

TRANSFORMAÇÃO E EDUCAÇÃO

EDUCARARTE

ESCOLANOVA

APRENDER SEMPRE