



PREFEITURA DA ESTÂNCIA TURÍSTICA DE  
**IBIÚNA**  
*Por uma Ibiúna próspera. Investindo no presente, gerando o futuro.*  
SECRETARIA DE EDUCAÇÃO



**E.M. MAFALDA DALPRA MATIUSSO**

ALUNO (A):

PROF<sup>a</sup>: ROSANA DO PRADO

ANO: 2º TURMA: B

**APOSTILA DE ATIVIDADES Nº 12**

**Período: 29/09/2021 a 08/10/2021**

**Devolutiva dia 07/10/2021**






ESCOLA: \_\_\_\_\_

NOME: \_\_\_\_\_

PROFESSORA: \_\_\_\_\_ DATA: \_\_\_\_/\_\_\_\_/\_\_\_\_

**LEIA O TEXTO. DEPOIS RESPONDA AS QUESTÕES.****A ABELHA LILI**

LILI É UMA LINDA ABELHINHA.  
LILI VOA, VOA PELO JARDIM.  
ELA COLHE O NÉCTAR DAS  
FLORES.



LILI LEVA O NÉCTAR PARA A COLMEIA.  
SUAS IRMÃS TRANSFORMAM O NÉCTAR  
EM UM DELICIOSO MEL.

LILI É UMA ABELHA MUITO TRABALHADEIRA.

**KÁTIA TEIXEIRA****COMPREENSÃO DO TEXTO**

1. QUAL É O TÍTULO DO TEXTO?

2. LILI É:

 UMA LAGARTA UMA ABELHA UMA BORBOLETA UMA CIGARRA

3. ONDE LILI VOA?

## ATIVIDADE 11.2

1. JOÃO REALIZOU ALGUNS CÁLCULOS FAZENDO AS CONTAS MENTALMENTE. DEPOIS, COLORIU ALGUNS DELES USANDO A MESMA COR.

COMPLETE O QUADRO PARA JOÃO:

$1 + 1 =$
$2 + 1 =$
$3 + 1 =$
$4 + 1 =$
$5 + 1 =$
$6 + 1 =$
$7 + 1 =$
$8 + 1 =$
$9 + 1 =$

$1 + 1 =$
$2 + 2 =$
$3 + 3 =$
$4 + 4 =$
$5 + 5 =$
$6 + 6 =$
$7 + 7 =$
$8 + 8 =$
$9 + 9 =$

EXPLIQUE:

- A. O QUE HÁ DE COMUM NOS CÁLCULOS DO PRIMEIRO QUADRO?

---

- B. O QUE HÁ DE COMUM NOS CÁLCULOS DO SEGUNDO QUADRO?

---

- C. O QUE HÁ DE COMUM NOS CÁLCULOS QUE JOÃO COLORIU DA MESMA COR?

---



ESCOLA: \_\_\_\_\_

NOME: \_\_\_\_\_

PROFESSORA: \_\_\_\_\_ DATA: \_\_\_\_/\_\_\_\_/\_\_\_\_


**FAÇA A LEITURA DAS PALAVRAS, GRAVE UM VÍDEO E ENVIE NO GRUPO DA SALA.**

**LEIA AS PALAVRAS ABAIXO E COPIE-AS DE ACORDO COM A FAMÍLIA DAS LETRAS A QUE PERTENCE.**


FACA	UFA	FALA	VILA
VALE	VIDA	FERA	FOTO
VERA	FILA	VACA	VALA
FITA	FALE	VOTO	UVA

F		V	
---	--	---	--

**NUMERE OS DESENHOS DE ACORDO COM AS FICHAS DAS PALAVRAS.**



1 - VELA
2 - GAVETA
3 - FACA
4 - VASO
5 - VOVÔ
6 - FITA
7 - VACA
8 - VIOLÃO
9 - FOTO
10 - PAVÃO



### ATIVIDADE 11.3

MUITAS PESSOAS GOSTAM DE COLECIONAR CHAVEIROS.

<p>1. JOSÉ TEM, EM SUA COLEÇÃO, 27 CHAVEIROS DO BRASIL E 5 DA ARGENTINA. QUANTOS CHAVEIROS ELE TEM AO JUNTAR OS CHAVEIROS DOS DOIS PAÍSES?</p>	
<p>2. ROBERTO TEM 18 CHAVEIROS, SENDO 14 BRASILEIROS E OS DEMAIS, ESPANHÓIS. QUANTOS CHAVEIROS ESPANHÓIS ROBERTO TEM?</p>	
<p>3. CLÓVIS E VINÍCIUS TÊM, JUNTOS, 60 CHAVEIROS. SABENDO QUE CLÓVIS TEM 18 CHAVEIROS, QUANTOS SÃO OS DE VINÍCIUS?</p>	



ESCOLA: \_\_\_\_\_

NOME: \_\_\_\_\_

PROFESSORA: \_\_\_\_\_ DATA: \_\_\_\_/\_\_\_\_/\_\_\_\_

### ORDENE AS SÍLABAS E FORME PALAVRAS.

TE | LEI

BO | TA | NI

NE | CA | TA

TE | NOI

TE | A | CA | BA

TE | MA | TO

SOU | TE | RA

JO | LO | TI

TÃO | BO

PA | SA | TO

RO | TOU

BA | TU | RÃO

LEIA AS PALAVRAS E DEPOIS ESCREVA-AS NO QUADRO,  
OBSERVANDO AS LETRAS **T - D**.

ABACATE

TAPETE

DOCE

TUCANO

TESOURA

BOTINA

LADO

DIABO

DITADO

SÁBADO

TUDO

PETECA

BODE

SAPATO

GAVETA

GADO

TIJOLO

TIGELA

FADA

DIA

T

D
















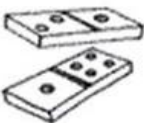



ESCOLA: \_\_\_\_\_

NOME: \_\_\_\_\_

PROFESSORA: \_\_\_\_\_ DATA: \_\_\_\_/\_\_\_\_/\_\_\_\_

## AUTO-DITADO

1 	2 	3 	4 	5 
6 	7 	8 	9 	10 
11 	12 	13 	14 	15 

1. \_\_\_\_\_ 2. \_\_\_\_\_ 3. \_\_\_\_\_

4. \_\_\_\_\_ 5. \_\_\_\_\_ 6. \_\_\_\_\_

7. \_\_\_\_\_ 8. \_\_\_\_\_ 9. \_\_\_\_\_

10. \_\_\_\_\_ 11. \_\_\_\_\_ 12. \_\_\_\_\_

13. \_\_\_\_\_ 14. \_\_\_\_\_ 15. \_\_\_\_\_

RISCA A SÍLABA QUE NÃO FAZ PARTE E ORDENA AS OUTRAS:



E DA MO LA

NE CA BO CA

NI NA ME DO

-----

-----

-----



## ATIVIDADE 11.4

1. PEDRO TINHA 9 SELOS EM SUA COLEÇÃO. ELE DEU 1 PARA SEU IRMÃO. PARA INDICAR COM QUANTOS SELOS PEDRO FICOU, ELE ESCREVEU:



<https://pixabay.com/pt/illustrations/postais-selos-selos-postais-1768691/>. Acesso em: 23 out. 2019.

$$9 - 1 = 8$$

- A. COMO VOCÊ LÊ O QUE PEDRO ESCREVEU?
- 

- B. AJUDE PEDRO A COMPLETAR OS RESULTADOS ABAIXO:

QUADRO 1
1 - 1 =
2 - 1 =
3 - 1 =
4 - 1 =
5 - 1 =
6 - 1 =
7 - 1 =
8 - 1 =
9 - 1 =

QUADRO 2
1 - 1 =
2 - 2 =
3 - 3 =
4 - 4 =
5 - 5 =
6 - 6 =
7 - 7 =
8 - 8 =
9 - 9 =

- C. OBSERVANDO OS RESULTADOS OBTIDOS, ENCONTRE O RESULTADO DE  $20 - 1$ .
- 

- D. QUAL O RESULTADO DE  $20 - 20$ ?
-




ESCOLA: \_\_\_\_\_

NOME: \_\_\_\_\_

PROFESSORA: \_\_\_\_\_ DATA: \_\_\_/\_\_\_/\_\_\_

# **CRUZADINHA**

COMPLETE A CRUZADINHA COM OS NOMES DAS FIGURAS.



Crossword puzzle grid with pre-filled letters:

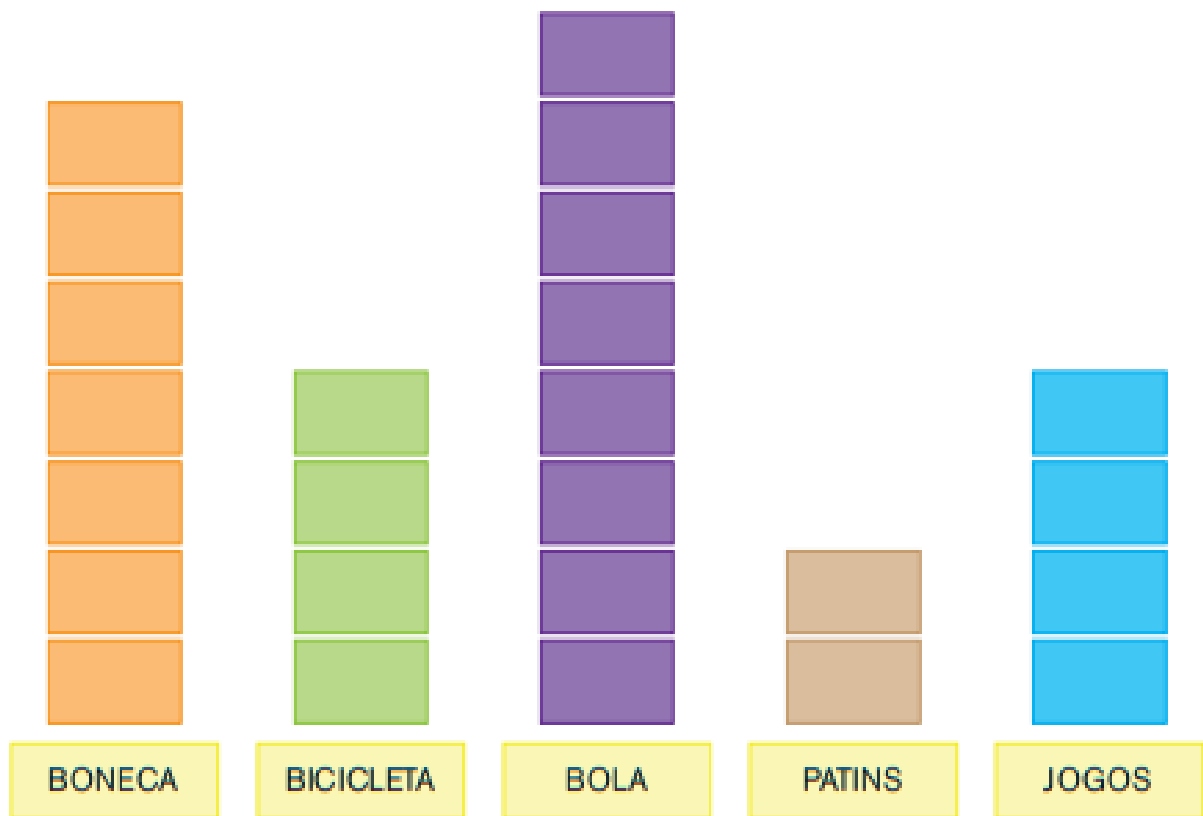
Row 1: [ ] [ ] [ ] [ ] [ ] [ ] [ ] [ ] [ ] [ ] [ ]  
Row 2: [ ] [ ] [ ] [ ] [ ] [ ] [ ] [ ] [ ] [ ] [ ]  
Row 3: [ ] [ ] [ ] [ ] [ ] [ ] [ ] [ ] [ ] [ ] [ ]  
Row 4: [ ] [ ] [ ] [ ] [ ] [ ] [ ] [ ] [ ] [ ] [ ]  
Row 5: [ ] [ ] [ ] [ ] [ ] [ ] [ ] [ ] [ ] [ ] [ ]  
Row 6: [ ] [ ] [ ] [ ] [ ] [ ] [ ] [ ] [ ] [ ] [ ]  
Row 7: [ ] [ ] [ ] [ ] [ ] [ ] [ ] [ ] [ ] [ ] [ ]  
Row 8: [ ] [ ] [ ] [ ] [ ] [ ] [ ] [ ] [ ] [ ] [ ]  
Row 9: [ ] [ ] [ ] [ ] [ ] [ ] [ ] [ ] [ ] [ ] [ ]  
Row 10: [ ] [ ] [ ] [ ] [ ] [ ] [ ] [ ] [ ] [ ] [ ]  
Row 11: [ ] [ ] [ ] [ ] [ ] [ ] [ ] [ ] [ ] [ ] [ ]  
Row 12: [ ] [ ] [ ] [ ] [ ] [ ] [ ] [ ] [ ] [ ] [ ]

Pre-filled letters: V (Row 2, Col 6), H (Row 3, Col 6), R (Row 5, Col 2), C (Row 6, Col 3), A (Row 6, Col 10), A (Row 10, Col 5).

- MACACO
- GALINHA
- URSO
- GIRAFÁ
- CAVALO
- OVELHA
- CACHORRO
- BOI
- ONÇA
- TIGRE
- VACA
- COELHO

## ATIVIDADE 12.2

1. EM OUTRA TURMA, TAMBÉM FOI FEITA UMA VOTAÇÃO PARA SABER QUAIS SÃO OS BRINQUEDOS PREFERIDOS. OS RESULTADOS DESSA VOTAÇÃO ESTÃO APRESENTADOS A SEGUIR:



2. CADA CARTÃO REPRESENTA O VOTO DE UMA CRIANÇA. RESPONDA:

- A. QUANTAS CRIANÇAS VOTARAM EM BONECA? \_\_\_\_\_
- B. E EM BICICLETA? \_\_\_\_\_
- C. QUAL BRINQUEDO RECEBEU APENAS 2 VOTOS? \_\_\_\_\_
- D. QUANTAS CRIANÇAS PARTICIPARAM DA VOTAÇÃO? \_\_\_\_\_



ESCOLA: \_\_\_\_\_

NOME: \_\_\_\_\_

PROFESSORA: \_\_\_\_\_ DATA: \_\_\_\_/\_\_\_\_/\_\_\_\_

01. LEIA E COPIE:



APITO



SACO



SUCO



SETE



PIPOCA



PIPA



PACA



PALETÓ



PATO



PETECA



PIÃO



PAPAI



PÉ




SAPATO



SOPA



SABÃO



SOFÁ



POTE




PEPA



PAJÉ

ENCAIXE OS NOMES DOS PRÉDIOS DA CIDADE NOS QUADRINHOS DAS CALÇADAS.



ARMAZÉM AÇOUGUE BANCO CINEMA ESCOLA HOSPITAL  
 IGREJA LIVRARIA MERCADO PRAÇA RESTAURANTE TEATRO

DÊ UM NOME A ESSE BAIRRO: \_\_\_\_\_

O QUE ENCONTRA NO SEU BAIRRO: \_\_\_\_\_

\_\_\_\_\_

\_\_\_\_\_



ESCOLA: \_\_\_\_\_

NOME: \_\_\_\_\_

PROFESSORA: \_\_\_\_\_ DATA: \_\_\_\_/\_\_\_\_/\_\_\_\_

### 1. VAMOS COLORIR A OBRA DE ARTE DE ROMERO BRITTO?



### 2. ESCREVA DE SEU JEITO OS NOMES DOS ANIMAIS QUE APARECEM NA TELA GOOD FRIENDS DE ROMERO BRITTO



ESCOLA: \_\_\_\_\_

NOME: \_\_\_\_\_

PROFESSORA: \_\_\_\_\_ DATA: \_\_\_\_/\_\_\_\_/\_\_\_\_

**ESTAMOS NA ESTAÇÃO MAIS FLORIDA DO ANO, A  
PRIMAVERA.**

**PROCURE UM JARDIM, OU UMA FLOR E TIRE UMA FOTO.**

**DEPOIS MANDE NO GRUPO DA SALA.**



## **REFERÊNCIAS BIBLIOGRÁFICAS**

Livro EMAI: Currículo em ação – Educação Matemática nos anos iniciais do ensino fundamental

<https://br.pinterest.com/rozangelacarla/portugues-2-ano-exercicios/>

[http://letrasempedaco.blogspot.com/2014/04/blog-post\\_4601.html](http://letrasempedaco.blogspot.com/2014/04/blog-post_4601.html)

<https://br.pinterest.com/pin/656892295619033179/>

<https://www.espacoprofessor.com/atividade-de-portugues-2o-ano/>

<https://www.liveworksheets.com/fg2041119nx>

<https://www.pinterest.cl/pin/45950858678156081/>

[https://4.bp.blogspot.com/-xWk9Ew\\_phI8/Ugvk9t-aNeI/AAAAAAAAimk/02pYUskMqvK/s640/ATIVIDADE-RELEITURA-DE-OBRA-GOOD-FISH-DE-ROMERO-BRITO-EDUCA%C3%87%C3%83O-INFANTIL.jpg](https://4.bp.blogspot.com/-xWk9Ew_phI8/Ugvk9t-aNeI/AAAAAAAAimk/02pYUskMqvK/s640/ATIVIDADE-RELEITURA-DE-OBRA-GOOD-FISH-DE-ROMERO-BRITO-EDUCA%C3%87%C3%83O-INFANTIL.jpg)

[https://1.bp.blogspot.com/-fOoSus3C8zE/YE0h\\_CfQ22I/AAAAAAAAAFB4/r0ce-MBL2\\_oNRZVVQCpNQ6ymw0ZeQFD9gCLcBGAsYHQ/s2001/cal%25C3%25A9ndario-de-outubro-de-2021--para-imprimir-505.jpg](https://1.bp.blogspot.com/-fOoSus3C8zE/YE0h_CfQ22I/AAAAAAAAAFB4/r0ce-MBL2_oNRZVVQCpNQ6ymw0ZeQFD9gCLcBGAsYHQ/s2001/cal%25C3%25A9ndario-de-outubro-de-2021--para-imprimir-505.jpg)

<http://3.bp.blogspot.com/-frZLNTIO4Xs/VVIJUZxijI/AAAAAAAAAFng/jFvkuFacgU4/s1600/BAIRRO.png>