




Prefeitura da Estância Turística de
IBIÚNA



E.M “JOSÉ GABRIEL MACHADO”

3º ano B


PROFESSORA: MARGARETH M. GUARDÃO



APOSTILA DE ATIVIDADES REMOTAS Nº 12

PERÍODO DE: 29, 30/09, 01, 04, 05, 06, 07, 08/10

NOME: _____



A obra que ilustra esta atividade é de um grande artista brasileiro. O "Peixe", do artista pernambucano Romero Britto, que atualmente faz muito sucesso com o estilo da Pop Arte.



Romero Britto

1- Faça um X no quadrinho onde estão as letras

D, T, B


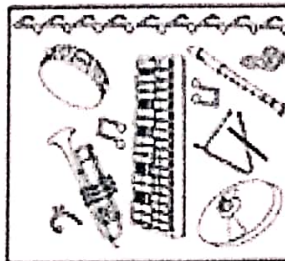

M V G

P B V

D T B

T P S

2- Risque o quadrinho que apresenta somente letras:



O PAPA É O NOSSO
TESOURO. DIGA A
ELE O QUANTO VOCÊ
O AMA. ELE FICARÁ
MUITO FELIZ.

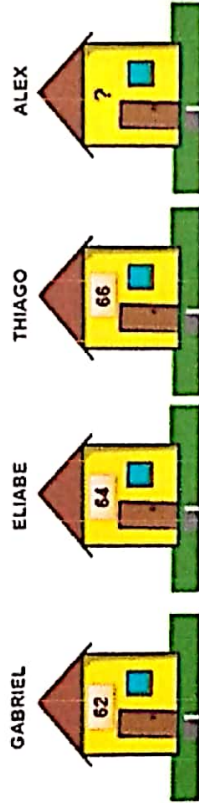
ESCOLA: _____

DATA: ____/____/____

NOME: _____

QUESTÃO 03

Gabriel, Eliabe, Thiago e Alex são vizinhos e amigos inseparáveis. Um vento forte derrubou a plaquinha com o número da casa de Alex.



Segundo uma sequência, qual é o número da casa de Alex?

- A) () 67
- B) () 68
- C) () 69
- D) () 70

QUESTÃO 04

Rômulo e sua turma estavam brincando de pique escondido. Rômulo estava contando e esperando seus amigos se esconderem. De repente ele esqueceu qual é o número que vem depois do 109 e seus amigos também não sabiam! Será que você é capaz de responder?

Ajude Rômulo e seus amigos marcando a resposta certa!

- A) () 100
- B) () 97
- C) () 110
- D) () 98



3- Risque o quadrinho onde estão escritas as palavras:

TELEVISÃO - CAMA

- televisão - telhado - carro - cama*
- telefone - tijolo - campo - canhão
- telefone - ESCOLA - janela - cana
- televisão - toca - casa - cama

4- Risque o quadrinho que apresenta o grupo de palavras com o mesmo número de sílabas:

CAVALO - BONECA - CAJU

BOI - BALEIA - CAMELO

JATOBÁ - BATATA - BOCADA

BANANA - COPO - LUA


3 - OBSERVE A TABELA DE CORES PREFERIDAS PELAS CRIANÇAS DA NOSSA TURMA:

CORES PREFERIDAS DA TURMA	
VERMELHO	20
AZUL	22
AMARELO	28
MARROM	15

A COR PREFERIDA PELA NOSSA TURMA É:

(A) AMARELO
(B) VERMELHO
(C) MARROM
(D) AZUL

4 - MAMÃE COMPROU AS LARANJAS ABAIXO:



ELA JÁ CHUPOU


QUANTAS LARANJAS SOBRRARAM?

(A) 8
(B) 6
(C) 10
(D) 12

5 - BRUNA CONVIDOU SEUS FAMILIARES PARA FAZER UM LANCHE NA TARDE DE DOMINGO. HAVIAM 4 PESSOAS EM SUA CASA E RECEBERAM 12 FAMILIARES. QUANTAS PESSOAS, AO TODO, LANCHARAM NA CASA DE BRUNA?

(A) 15
(B) 16
(C) 17
(D) 18

5- Qual é a sílaba mediana do nome desta figura?



- PI
- TI
- LI
- BI

Educação e Transfamiliaridade

Escola: _____

Aluno: _____

Ano: _____ Turma: _____

Professora: _____ Data: ____/____/____

84

OBSERVE O GAROTO JOGANDO BOLA. MARQUE O QUADRADINHO QUE INDICA QUAL NUMERAL ESTÁ ESCRITO EM SUA CAMISA.

A) QUARENTA E OITO

B) OITENTA E QUATRO


C) CINQUENTA E OITO

D) OITENTA E DOIS


VEJA NA TABELA ABAIXO ALGUNS ALIMENTOS QUE SÃO VENDIDOS NO MERCADINHO DO SR. ANTÔNIO. MARQUE UM X NO QUADRADINHO QUE INDICA QUAL ALIMENTO MAIS BARATO NA TABELA.


PRODUTO	PREÇO
<input type="checkbox"/> A) MAÇÃ	CHOCOLATE R\$ 0,50
<input type="checkbox"/> B) BANANA	MAÇÃ R\$ 1,00
<input type="checkbox"/> C) MISTO-QUENTE	BANANA R\$ 0,70
<input type="checkbox"/> D) CHOCOLATE	BISCOITO R\$ 3,00
	PÃO COM QUEIJO R\$ 1,50
	MISTO-QUENTE R\$ 1,20

6-Observe as figuras. Risque o em que os nomes das figuras tenham a mesma sílaba no meio delas:









ESCOLA: _____

DATA: _____ / _____ / _____

NOME: _____

QUESTÃO 05

Na biblioteca da escola, existe uma estante com 3 dezenas de livros de poesia. Acontecerá um festival de poesias na escola e a diretora resolveu comprar mais 10 livros.



Quantos livros de poesia terá na biblioteca?

- A) () 15 livros
- B) () 41 livros
- C) () 40 livros
- D) () 39 livros

QUESTÃO 06

Com relação ao valor posicional, quanto vale o algarismo **2** no numeral **263**?



- A) () 2
- B) () 20
- C) () 200
- D) () 2000

QUESTÃO 07

Ruan saiu de casa com **18** bolinhas de gude e quando voltou percebeu que tinha somente **7** bolinhas.







Quantas bolinhas de gude ele perdeu?

- A) () 18 bolinhas de gude
- B) () 13 bolinhas de gude
- C) () 12 bolinhas de gude
- D) () 11 bolinhas de gude

7- Leia a frase abaixo:

O MENINO CHUTA A BOLA



ESCOLA: _____

DATA: ____/____/____

NOME: _____

QUESTÃO 08

Em uma semana, a Sala de Leitura da escola recebeu 4 caixas com 5 livros.



Quantos livros foram recebidos?

- A) () 15 livros
- B) () 20 livros
- C) () 32 livros
- D) () 22 livros

QUESTÃO 09

Tenho 18 flores. Quero colocar 6 flores em cada vaso.



- A) () 3 grupos
- B) () 6 grupos
- C) () 8 grupos
- D) () 10 grupos

QUESTÃO 10


Paulo adora pintar em tela!



A tela de Paulo tem o formato de qual figura geométrica?

- A) () Círculo
- B) () Quadrado
- C) () Retângulo
- D) () Triângulo

8-Risque o quadrinho em que a frase está escrita corretamente:



- A Cinderela calçou o sapato de cristal.
- A Cinderela calçou o sapato de cristal.
- A Cinderela calçou o sapato de cristal.
- A Cinderela calçou o sapato de cristal.

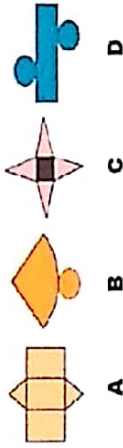
ESCOLA: _____

DATA: ____/____/____

NOME: _____

QUESTÃO 11

Veja esse tambor de brinquedo. Ele tem forma de um cilindro.



Descubra qual é o molde deste cilindro.

- A) () A
 B) () B
 C) () C
 D) () D

QUESTÃO 12

O dia de João é muito corrido. Todos os dias ele acorda bem cedo para ir ao trabalho e a noite vai para academia.

Qual caminho ele deverá seguir para ir ao trabalho?



- A) () Seguir em frente.
 B) () Virar à esquerda.
 C) () Virar à direita.
 D) () Ir para trás.

9- Leia o texto:

CANGURU

O macho atinge a altura de 1,5 m, e a fêmea é de menor estatura. Ele tem as orelhas grandes e móveis, as patas posteriores longas e robustas e as extremidades anteriores curtas. A cauda é grande e musculosa e o animal costuma usá-la como apoio quando caminha ou está sentado ou, ainda, como instrumento de equilíbrio quando salta.

http://www.webciencia.com/14_canguru.htm#ixzz1VKAKfw n5

O canguru quando salta pode se equilibrar:

com as patas dianteiras.

com a sua cauda grande e musculosa.

com as suas orelhas.

com a ajuda de um galho.

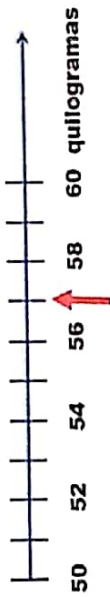
ESCOLA: _____

DATA: _____ / _____ / _____

NOME: _____

QUESTÃO 13

A seta na reta numérica abaixo, mostra onde está o ponteiro da balança.



Quantos quilogramas a balança está marcando?

- A) () 51
- B) () 53
- C) () 57
- D) () 70



QUESTÃO 14

Ana ganhou 3 peixinhos para se juntar com o que ela já tinha no seu aquário novo e já deu até nome para eles.



Nome: Laranjinha
Tamanho: 11 cm



Nome: Bicudo
Tamanho: 12 cm



Nome: Azulão
Tamanho: 10 cm



Nome: Colorido
Tamanho: 8 cm

Qual deles tem o maior comprimento?

- A) () Azulão
- B) () Bicudo
- C) () Colorido
- D) () Laranjinha

PASSARINHO FOFOQUEIRO

Um passarinho me contou
que a ostra é muito fechada,
que a cobra é muito enrolada,
que a arara é uma cabeça oca,
e que o leão marinho e a foca...
xô, passarinho!
chega de fofoca!

José Paulo Paes

O passarinho fazia fofocas. Ele disse que:


- a arara era colorida.
- a ostra era muito fechada.
- a cobra era venenosa
- o leão marinho era feio.

ESCOLA: _____

DATA: _____ / _____ / _____

NOME: _____

QUESTÃO 03
Veja os animais que voou tem no sítio.




Agora faça um X no quadradinho que indica o animal que a voou mais tem no sítio.

- a)) b)) c)) d))

QUESTÃO 04
Veja a brincadeira de Ana

Faça um X no quadradinho do número em que Ana está na brincadeira.



- (A) 1
- (B) 5
- (C) 6
- (D) 7