

E.M. PROFESSORA MÁRCIA BELMIRO DO LAGO

NOME: \_\_\_\_\_

PROF<sup>ª</sup>: LUCIANE APARECIDA DE ALMEIDA

4º ANO B

## APOSTILA NÚMERO 12

Atividades referentes aos dias 29 e 30 de setembro e 01, 04, 05, 06, 07 e 08 de outubro

**Atividades para entregar dia 06 de outubro**



## ROTEIRO DE ATIVIDADES - Período – 29/09 a 08/10/2021

### Material Adaptado

29/09 – Língua Portuguesa: Poema “Primavera” – Atividades sobre o poema.
30/09 – Língua Portuguesa: Organize as letras e forme palavras. Matemática: Sistema de numeração decimal / Escrita de números.
01/10 – Língua Portuguesa: Atividades sobre o poema “Primavera” - Pinte uma bolinha para cada sílaba / Palavras iniciadas com a letra P. Matemática: Resolução de situações-problema.
04/10 – Língua Portuguesa: Texto lacunado – “Primavera”. Matemática: Tabelas – Atividades sobre as tabelas.
05/10 – Língua Portuguesa: Atividade com caça-palavras. Matemática: Gráfico – Atividades sobre o gráfico.
06/10 – Língua Portuguesa: Cruzadinha / Leitura de nomes através de imagens. Matemática: Atividades sobre os sólidos geométricos.
07/10 – Língua Portuguesa: Declaração Universal dos Direitos das Crianças. Matemática: Atividades de multiplicação.
08/10 – Língua Portuguesa: Poema “Deveres das Crianças” – Atividades. Arte: Para Colorir “Dia das Crianças”.




# PRIMAVERA



SEMENTINHAS DE ROSAS,  
MARGARIDAS TAMBÉM,  
ESPALHEI NO MEU JARDIM  
E CUIDEI MUITO BEM.

UM DIA TÃO LINDO,  
DE SONHOS E DE FLORES,  
DE MARGARIDAS E DE ROSAS  
O JARDIM SE ENFEITOU.

NESSA FESTA TÃO LINDA  
VAMOS TODOS DANÇAR  
PASSARINHOS, BORBOLETAS  
DE MÃOS DADAS A FESTEJAR!



## ESTUDO DO TEXTO

### 1- O TÍTULO DO TEXTO É:

( ) PASSARINHO      ( ) PRIMAVERA      ( ) JARDIM

### 2- O TEXTO FALA SOBRE:

( ) AS FLORESTAS E AS MATAS.

( ) A FESTA DOS ANIMAIS.

( ) A CHEGADA DA PRIMAVERA.

### 3- LEIA A PRIMEIRA ESTROFE DO TEXTO:

*SEMENTINHAS DE ROSAS,  
MARGARIDAS TAMBÉM,  
ESPALHEI NO MEU JARDIM  
E CUIDEI MUITO BEM.*

A) PINTE DE AMARELO OS ESPAÇOS ENTRE AS PALAVRAS:

B) QUANTAS PALAVRAS HÁ NESSA ESTROFE?

C) CIRCULE A PRIMEIRA PALAVRA DE VERMELHO.

D) FAÇA UM X DE AZUL NA ÚLTIMA PALAVRA.

OBSERVE A PALAVRA ABAIXO, E COMPLETE COM O  
QUE SE PEDE:

**MARGARIDA**

A) ESCREVA A LETRA INICIAL DA PALAVRA:

B) PINTE DE AZUL AS VOGAIS:


C) PINTE DE VERMELHO AS CONSOANTES:

D) QUANTAS SÍLABAS HÁ NA PALAVRA?

E) ESCREVA UMA PALAVRA QUE INICIE COM A LETRA **M**:


F) FORME UMA FRASE COM A PALAVRA **MARGARIDA** :

ORGANIZE AS LETRAS E FORME PALAVRAS:



TABOLEBOR

---




DAGARIMAR

---



RISSANHOPA

---



ASRO

---



DIMJAR

---

**1** Circule.


a) O número mais próximo de 2 centenas.




b) O número mais próximo de 80 dezenas.



c) O número mais próximo de 200 unidades.



d) O número que está entre 30 dezenas e 4 centenas.



**2** Responda.

a) Quantas dezenas tem uma centena? \_\_\_\_\_

b) Quantas unidades tem uma dezena? \_\_\_\_\_

c) Quantas unidades tem o número 300? Quantas centenas?

\_\_\_\_\_

**3** Escreva por extenso.

a) 309 \_\_\_\_\_

b) 230 \_\_\_\_\_

c) 901 \_\_\_\_\_

d) 837 \_\_\_\_\_

e) 30 \_\_\_\_\_

f) 9 \_\_\_\_\_

PINTE UMA BOLINHA PARA CADA SÍLABA DAS PALAVRAS:

DE: ○ ○ ○ ○

BORBOLETAS: ○ ○ ○ ○

ESPALHEI: ○ ○ ○ ○

LINDO: ○ ○ ○ ○

FESTEJAR: ○ ○ ○ ○

SEMENTINHAS: ○ ○ ○ ○

ROSA: ○ ○ ○ ○

MARGARIDAS: ○ ○ ○ ○

MARQUE AS PALAVRAS QUE COMEÇAM COM A MESMA LETRA INICIAL DA PALAVRA **BORBOLETA**

( ) PATO ( ) BONECA ( ) OLHO ( ) REI

( ) BALA ( ) ROUPA ( ) BIGODE ( ) LUA



ESCREVA 5 PALAVRAS INICIADAS COM A LETRA **P**:

---

---


---

---

---

COMPLETE COM AS LETRAS QUE FALTAM:

<b>P</b>	<b>R</b>	<b>I</b>	<b>M</b>	<b>A</b>	<b>V</b>	<b>E</b>	<b>R</b>	<b>A</b>
		<b>I</b>			<b>V</b>			
<b>P</b>			<b>M</b>				<b>R</b>	
	<b>R</b>			<b>A</b>				<b>A</b>
<b>P</b>			<b>M</b>		<b>V</b>		<b>R</b>	



Quando acaba de brincar, Jorge guarda todos os seus carrinhos em caixinhas. Cabem 2 carrinhos em cada caixa. Quantas caixas ele vai precisar para guardar os carrinhos que aparecem na figura abaixo?



- A) 1 caixa      B) 4 caixas      C) 6 caixas      D) 12 caixas

Tatiane gosta muito de ler! Ela comprou dois livros na Feira do Livro de sua escola. Cada livro custou R\$ 5,00 e ela usou apenas uma nota para pagar os dois livros e não recebeu troco.

Que nota ela usou?


- A) Ela usou uma nota de R\$ 2,00  
B) Ela usou uma nota de R\$ 5,00  
C) Ela usou uma nota de R\$ 10,00  
D) Ela usou uma nota de R\$ 20,00



Você sabia que moedas têm diferentes tamanhos, pesos e valores? Anita juntou moedas durante 1 mês e agora abriu seu cofre.

Qual moeda Anita conseguiu juntar em maior quantidade?

- A) 5 centavos  
B) 10 centavos  
C) 25 centavos  
D) 1 Real



# TEXTO LACUNADO

## PRIMAVERA

SEMENTINHAS DE \_\_\_\_\_

\_\_\_\_\_TAMBÉM,

ESPALHEI NO MEU \_\_\_\_\_

E CUIDEI MUITO \_\_\_\_\_.

UM DIA TÃO \_\_\_\_\_,

DE SONHOS E DE \_\_\_\_\_,

DE \_\_\_\_\_ E DE \_\_\_\_\_

O JARDIM SE ENFEITOU.

NESSA FESTA TÃO \_\_\_\_\_

VAMOS TODOS \_\_\_\_\_

PASSARINHOS, \_\_\_\_\_

DE MÃOS DADAS A \_\_\_\_\_.



Observe a tabela abaixo com a idade de algumas crianças e responda:  
Quantos anos Marta tem **a mais** que Ana?

					
Ana	Júlia	Camila	Isa	Marta	Tais
5 anos	6 anos	6 anos	7 anos	8 anos	5 anos

- A) 3 anos
- B) 5 anos
- C) 6 anos
- D) 13 anos




Em uma loja de brinquedos os funcionários anotam em uma tabela a quantidade das mercadorias vendidas diariamente. Observe abaixo:

Brinquedo	Quantidade vendida
carrinhos	8
jogos	3
bonecas	5
bicicletas	1

Marque a opção com os brinquedos em **ordem crescente**, ou seja, do menos vendido para o mais vendido.

- A) Bicicletas, jogos, bonecas e carrinhos.
- B) Bicicletas, bonecas, jogos e carrinhos.
- C) Bicicletas, jogos, carrinhos e bonecas.
- D) jogos, bonecas, bicicletas e carrinhos.

## CAÇA - PALAVRAS:



**PASSARINHO**

**JARDIM**

**BORBOLETA**

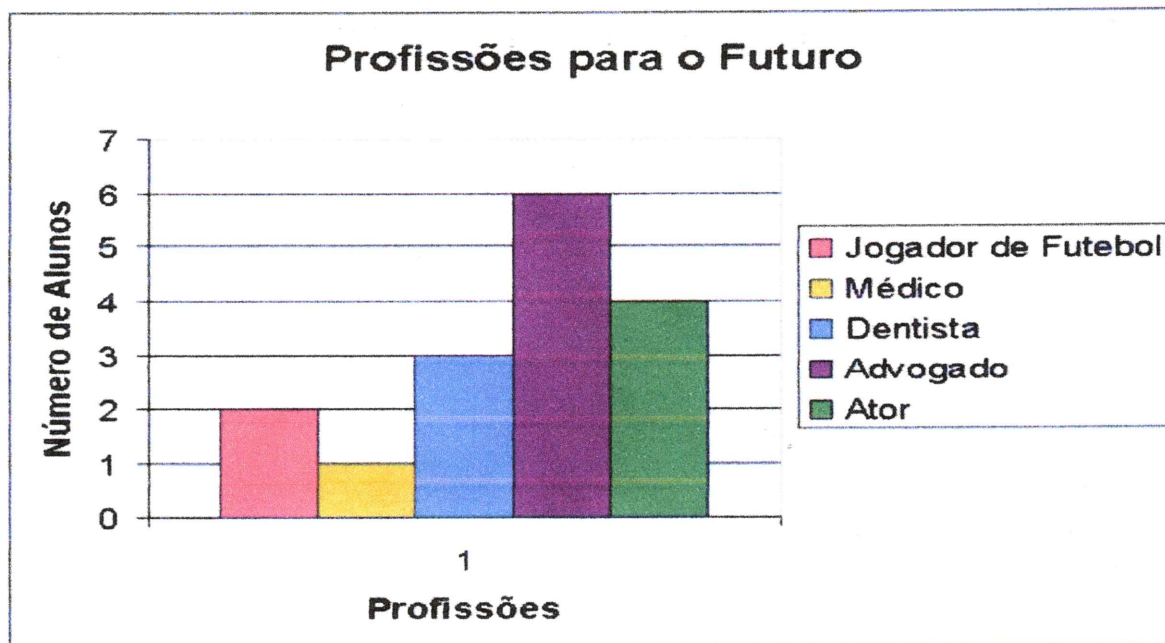
**ROSA**

**MARGARIDA**

**SOL**

P	A	S	S	A	R	I	N	H	O
C	N	J	R	O	S	A	G	H	K
D	G	J	L	Ç	S	O	L	J	O
B	O	L	O	J	A	R	D	I	M
C	M	A	R	G	A	R	I	D	A
R	U	E	M	A	I	A	S	G	T
B	O	R	B	O	L	E	T	A	N
G	M	L	Ç	P	O	L	O	B	I

A professora Eloisa fez uma pesquisa com a sua turma sobre as profissões, e após coletar as respostas dos alunos elaborou o gráfico.



Qual a **diferença** entre a profissão mais votada e a menos votada?

- A) 9 votos
- B) 7 votos
- C) 6 votos
- D) 5 votos

Dona Rute registrou em uma tabela quanto ela gastou naquela semana com frutas. Observe na tabela abaixo:


Quanto Dona Rute gastou ao todo com suas compras?

- A) R\$10,00
- B) R\$ 9,00
- C) R\$ 6,00
- D) R\$ 4,00



Alimentos	Preços
Laranjas	R\$ 2,00
Bananas	R\$ 1,00
Uvas	R\$ 3,00
Mamão	R\$ 4,00


# CRUZADINHA:




**JARDIM – ROSA – PASSARINHO**

**MARGARIDA – BORBOLETA**

PINTE AS LETRAS QUE FORMAM O NOME DOS DESENHOS ABAIXO:




B	T	L	R
D	O	A	J
I	X	H	E



S	T	M	C
D	W	A	J
I	R	H	G



S	T	N	P
R	W	A	J
I	O	H	Z



S	T	M	O
D	R	A	J
I	F	H	Z




R	T	M	C
D	W	A	J
I	F	H	Z



Os dados abaixo lembram qual sólido geométrico?

- A) Cilindro
- B) Cone
- C) Cubo
- D) Esfera





A construção egípcia da imagem abaixo, tem a forma de qual sólido geométrico?

- A) Cone
- B) Cubo
- C) Pirâmide
- D) Triângulo



Quais sólidos geométricos essas figuras lembram, respectivamente?



- A) Cilindro, paralelepípedo e esfera
- B) Esfera, cilindro e paralelepípedo
- C) Paralelepípedo, cilindro e esfera
- D) Paralelepípedo, esfera e cilindro

## LÍNGUA PORTUGUESA

EM COMEMORAÇÃO AO DIA DAS CRIANÇAS QUE ESTÁ CHEGANDO, LEIA COM A AJUDA DE UM ADULTO A DECLARAÇÃO UNIVERSAL DOS DIREITOS DA CRIANÇA:




### DECLARAÇÃO UNIVERSAL DOS DIREITOS DA CRIANÇA

- DIREITO À IGUALDADE, SEM DISTINÇÃO DE RAÇA, RELIGIÃO OU NACIONALIDADE
- DIREITO À ESPECIAL PROTEÇÃO PARA O SEU DESENVOLVIMENTO FÍSICO, MENTAL E SOCIAL
- DIREITO A UM NOME E UMA NACIONALIDADE
- DIREITO À ALIMENTAÇÃO, MORADIA E ASSISTÊNCIA MÉDICA ADEQUADAS PARA A CRIANÇA E A MÃE
- DIREITO À EDUCAÇÃO E A CUIDADOS ESPECIAIS PARA CRIANÇA FÍSICA OU MENTALMENTE DEFICIENTE
- DIREITO AO AMOR E À COMPREENSÃO POR PARTE DOS PAIS E DA SOCIEDADE
- DIREITO À EDUCAÇÃO GRATUITA E AO LAZER INFANTIL
- DIREITO A SER SOCORRIDO EM PRIMEIRO LUGAR EM CASO DE CATÁSTROFE
- DIREITO A SER PROTEGIDO CONTRA O ABANDONO E A EXPLORAÇÃO NO TRABALHO
- DIREITO A CRESCER DENTRO DE UM ESPÍRITO DE SOLIDARIEDADE, COMPREENSÃO, AMIZADE E JUSTIÇA ENTRE OS POVOS

1) AGORA QUE VOCÊ JÁ CONHECE OS DIREITOS DAS CRIANÇAS, ESCOLHA UM DELES E REPRESENTA-O ATRAVÉS DE DESENHOS:



PINTE COM CAPRICO OS DIREITOS DAS CRIANÇAS REPRESENTADOS ABAIXO!



### 1 Resolva.

Cada pessoa da fila vai comprar 6 pães. Para que todas as pessoas sejam atendidas será preciso:

$$\square \times \square = \square$$



### 2 Observe.

Multiplique os números que estão nas figuras de mesma forma.



$$\square \times \square = \square$$

### 3 Resolva.



Em cada pedaço de pizza vão 2 azeitonas e 1 fatia de tomate.  
Em 1 pizza, irão.

Azeitonas:  $\square \times \square = \square$

Fatias de tomate:  $\square \times \square = \square$

# DEVERES DA CRIANÇA

CRIANÇA TAMBÉM TEM DEVERES  
PRESTE AGORA ATENÇÃO  
TEM QUE RESPEITAR O PRÓXIMO  
AOS PROFESSORES, PAIS E IRMÃOS



TEM QUE TER RESPONSABILIDADE  
FAZER TODA A SUA LIÇÃO  
SER BONDOSO, AMÁVEL E PACIENTE  
CUIDAR BEM DA HIGIENE  
E TAMBÉM DO MEIO AMBIENTE



TEM QUE OBEDECER AS LEIS  
E AS REGRAS RESPEITAR  
DEVE AJUDAR AS PESSOAS  
SEMPRE QUE PRECISAR



OS DEVERES DEVEM SER GARANTIDOS  
POR TODOS OS CIDADÃOS  
CRIANÇA PRECISA SER CRIANÇA  
NÃO PODE HAVER EXPLORAÇÃO.



(DAY VIANA)



COMO VOCÊ VIU NO POEMA, AS CRIANÇAS TÊM DIREITOS, MAS TAMBÉM TEM DEVERES. ESCREVA ABAIXO ALGUNS DEVERES DAS CRIANÇAS DE ACORDO COM O POEMA:

---

---

---

---

---

---

---

---

E VOCÊ CUMPRE OS SEUS DEVERES?

---

---

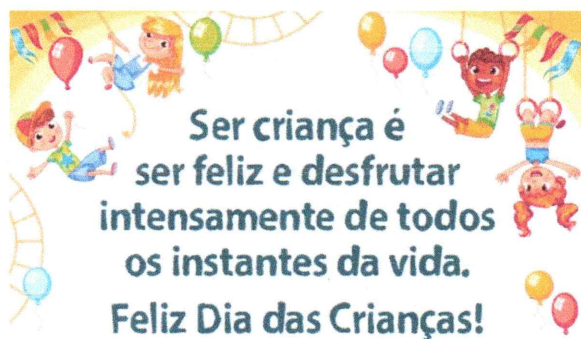

ARTE

O que mais eu gosto é o seu sorriso,  
o que eu mais quero é o seu amor,  
hoje quero te dar...  
meu amor e compreensão.

**Feliz Dia da Criança!**

Sua Professora

PARA COLORIR



## REFERÊNCIAS BIBLIOGRÁFICAS

Blog Educação e Transformação

Blog Conhecimento e Transformação

<https://www.educacaoetransformacao.com.br/dia-das-criancas/>

<https://www.topimagens.com.br/outros/10153-feliz-dia-das-criancas.html>

<https://www.educacaoetransformacao.com.br/mensagens-dia-das-criancas/>

<https://www.pinturasdoauwe.com.br/2019/08/desenho-sobre-o-dia-das-criancas-para.html>

<https://br.pinterest.com/pin/177610779040382515/>

<https://br.pinterest.com/pin/655203445783956139/>

<https://amplino.org/feliz-dia-das-criancas-imagens-com-frases-mensagens-lindas-e-fofas/>