


E.M. RECANTO FELIZ – PROF<sup>a</sup> SANDRA REGINA RODRIGUES DA SILVA.

## 12° APOSTILA

NOME: \_\_\_\_\_



**DE 29 DE SETEMBRO A 08 DE OUTUBRO**

**TURMA: 5° ANO A PROFESSORA: MIKAELE SCHNEIDER**

# O MONSTRO DAS CORES

ESCRITO POR ANNA LLENAS


ESTE É O MONSTRO DAS CORES.

HOJE ELE ACORDOU SE SENTINDO ESTRANHO, CONFUSO, ATURDIDO...

NÃO SABE MUITO BEM O QUE LHE PASSA.

ENROLADO DE NOVO?

VOCÊ NÃO APRENDE NUNCA...



QUANTA BAGUNÇA VOCÊ FEZ COM SUAS EMOÇÕES!

ASSIM, TODAS EMBOLADAS, NÃO FUNCIONAM.

VOCÊ TEM QUE SEPARÁ-LAS E COLOCÁ-LAS CADA UMA EM SEU POTE. SE QUISER EU TE AJUDO A ORGANIZAR.

A ALEGRIA É CONTAGIANTE. BRILHA COMO O SOL, PISCA COMO AS ESTRELAS.

QUANDO ESTÁ ALEGRE, VOCÊ RI, PULA, DANÇA, BRINCA...

E TEM VONTADE DE COMPARTILHAR SUA ALEGRIA COM TODO MUNDO.

A TRISTEZA ESTÁ SEMPRE SENTINDO FALTA DE ALGO. É SUAVE COMO O MAR, DOCE COMO OS DIAS DE CHUVA.

QUANDO ESTÁ TRISTE, VOCÊ SE ESCONDE E QUER FICAR SÓ...

E NÃO TEM VONTADE DE FAZER NADA.

A RAIVA ARDE COMO VERMELHO VIVO E É FERROZ COMO O FOGO, QUE QUEIMA FORTE E É DIFÍCIL DE APAGAR.

QUANDO ESTÁ COM RAIVA, VOCÊ SENTE QUE COMETERAM UMA INJUSTIÇA E QUER DESCARREGAR A FÚRIA NOS OUTROS.

O MEDO É COVARDE SE ESCONDE E FOGE COMO UM LADRÃO NA ESCURIDÃO.

QUANDO TEM MEDO, VOCÊ SE SENTE PEQUENO E INSIGNIFICANTE...

E PENSA QUE NÃO CONSEGUIRÁ FAZER O QUE TE PEDEM.

A CALMA É...

TRANQUILA COMO AS ÁRVORES, LEVE COMO UMA FOLHA AO VENTO. QUANDO VOCÊ ESTÁ CALMO, RESPIRA POUCO A POUCO E PROFUNDAMENTE, VOCÊ SE SENTE EM PAZ.

ESTAS SÃO SUAS EMOÇÕES, CADA UMA TEM UMA COR DIFERENTE...

... E ORGANIZADAS FUNCIONAM MELHOR.

DEPOIS DE LER A HISTÓRIA, RESPONDA AS PERGUNTAS ABAIXO:



1- QUAL É O TÍTULO DO LIVRO?

---

2- QUAL O ASSUNTO PRINCIPAL DO LIVRO?

---

---

---

3- POR QUE O MOSTRO DAS CORES ACORDOU SE SENTINDO ESTRANHO?

---

---

4- QUAL FOI A SOLUÇÃO QUE A MENINA DEU AO MONSTRO, PARA ELE ORGANIZAR AS SUAS EMOÇÕES?

---

---

## DESAFIO!

OBSERVE OS MONSTRINHOS E FAÇA CONTINHAS DE ACORDO COM O VALOR QUE ELES REPRESENTAM:



175

250

119

398

178

$$\text{Yellow Monster} + \text{Red Monster} = \square$$

$$\text{Blue Monster} - \text{Yellow Monster} = \square$$

$$\text{Blue Monster} + \text{Black Monster} = \square$$

$$\text{Green Monster} - \text{Red Monster} = \square$$


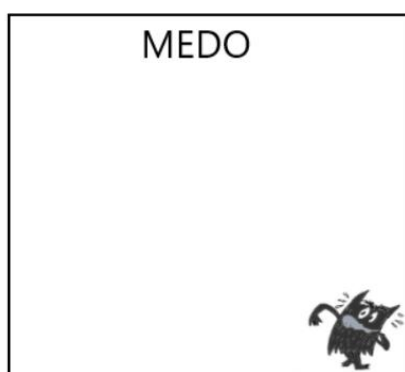

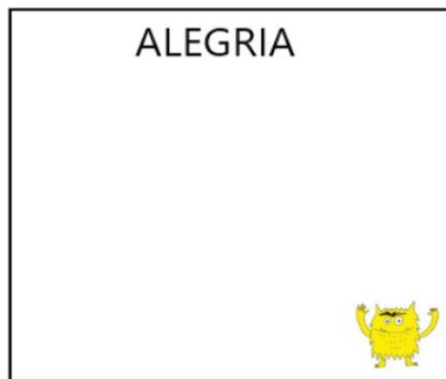
$$\text{Green Monster} + \text{Yellow Monster} = \square$$

$$\text{Black Monster} - \text{Blue Monster} = \square$$




ESCREVA ALGUMA COISA QUE FAÇA VOCÊ SENTIR CADA EMOÇÃO ABAIXO:



DESENHE O QUE VOCÊ FAZ QUANDO ESTÁ SENTINDO:



OBSERVE AS IMAGENS ABAIXO.



VAMOS COMEÇAR?

VOCÊ VIU QUE PARA CADA EXPRESSÃO FACIAL HÁ UM NÚMERO? VAMOS ESCREVER NO QUADRO ABAIO O QUE SIGNIFICA CADA UMA DELAS E SUA COR CORRESPONDENTE? JÁ COMECEI COM O NÚMERO UM, CONTINUE COM OS PRÓXIMOS:

NÚMERO	EMOÇÃO	COR
1	ALEGRIA	AMARELO
2		
3		
4		
5		
6		

## SER CRIANÇA

ISABEL CRISTINA SILVEIRA SOARES

É MUITO BOM SER CRIANÇA  
É TER DIREITO A PROTEÇÃO,  
SER DO MUNDO A ESPERANÇA  
É TER CUIDADO, AMOR E ATENÇÃO!

É DEIXAR LIVRE O IMAGINAR  
E COM TUDO PODER BRINCAR!

UMA CAIXA DE PAPELÃO  
PODE SER UM CARRINHO,  
UMA CASINHA DE BONECA  
OU ATÉ UM CAMINHÃO!

BRINCO COM O VENTO, A CHUVA  
O TEMPO E A NATUREZA,  
EM MEU MUNDO DE SONHO  
REINA A VERDADEIRA PUREZA!



1- VOCÊ GOSTA DE SER CRIANÇA? JUSTIFIQUE SUA RESPOSTA.

---

---

---

2- QUAIS AS SUA BRINCADEIRAS PREFERIDAS?

---

---

## PARQUE DE DIVERSÕES

### O NÚMERO DE VISITANTES NO PARQUE DE DIVERSÕES

1- MIGUEL E SAMUEL MORAM EM UMA CIDADE QUE TEM UM PARQUE DE DIVERSÕES MUITO LEGAL. ELES COMEÇARAM A PESQUISAR SOBRE O NÚMERO DE PESSOAS QUE VISITARAM O PARQUE E OBSERVARAM QUE O LUGAR TEM CAPACIDADE PARA 1.600 PESSOAS E QUE, EM UM SÁBADO, PASSARAM POR LÁ 655 ADULTOS E 729 CRIANÇAS.

a) QUANTAS PESSOAS QUE ESTIVERAM NO PARQUE NAQUELE SÁBADO: MAIS QUE 1.300, MENOS QUE 1.300 OU EXATAMENTE 1.300? COMO VOCÊ FEZ PARA DESCOBRIR?

b) QUANTAS PESSOAS VISITARAM O PARQUE NO SÁBADO?

c) EM RELAÇÃO AO NÚMERO DE VISITANTES DO SÁBADO, QUANTAS PESSOAS FALATARAM PARA COMPLETAR A CAPACIDADE TOTAL DO PARQUE?



## VAMOS AO PARQUE DE DIVERSÕES?

1- MIGUEL E SAMUEL CONVIDARAM OS AMIGOS HELENA E RENAN PARA IREM AO PARQUE DE DIVERSÕES. QUANDO CHEGARAM, ELES FORAM COMPRAR OS INGRESSOS E ENCONTRARAM OS SEGUINTE VALORES:

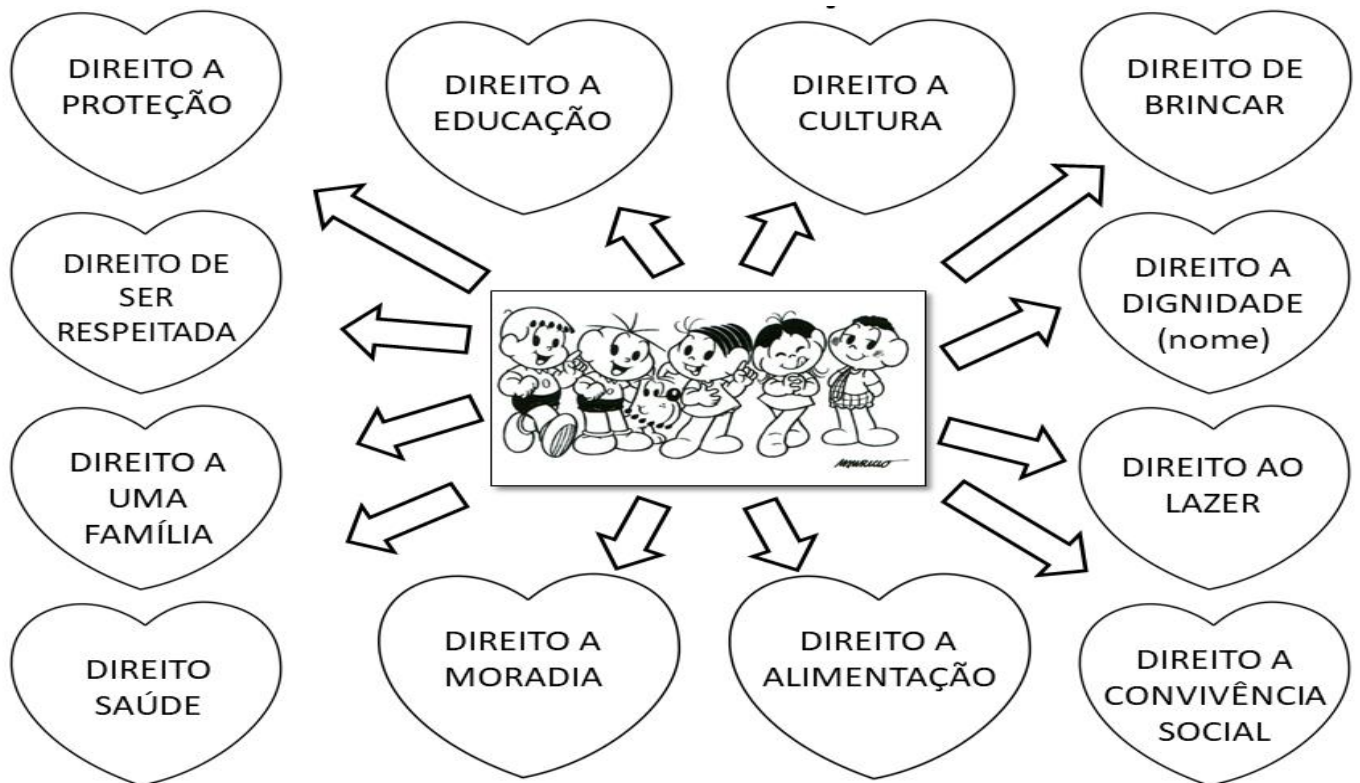
TABELA DE PREÇOS	
INGRESSOS COMUNS	R\$ 8,00
INGRESSOS PARA A RODA-GIGANTE	R\$ 10,00

a) CADA UM COMPROU 4 INGRESSOS COMUNS E 2 INGRESSOS PARA A RODA-GIGANTE. QUANTOS CADA UM GASTOU?

b) OS 4 AMIGOS JUNTOS GASTARAM MAIS DO QUE R\$ 200,00, MENOS DO QUE R\$ 200,00,OU EXATAMENTE R\$ 200,00 COM A COMPRA DE INGRESSOS? COMO VOCÊ FEZ PARA DESCOBRIR?

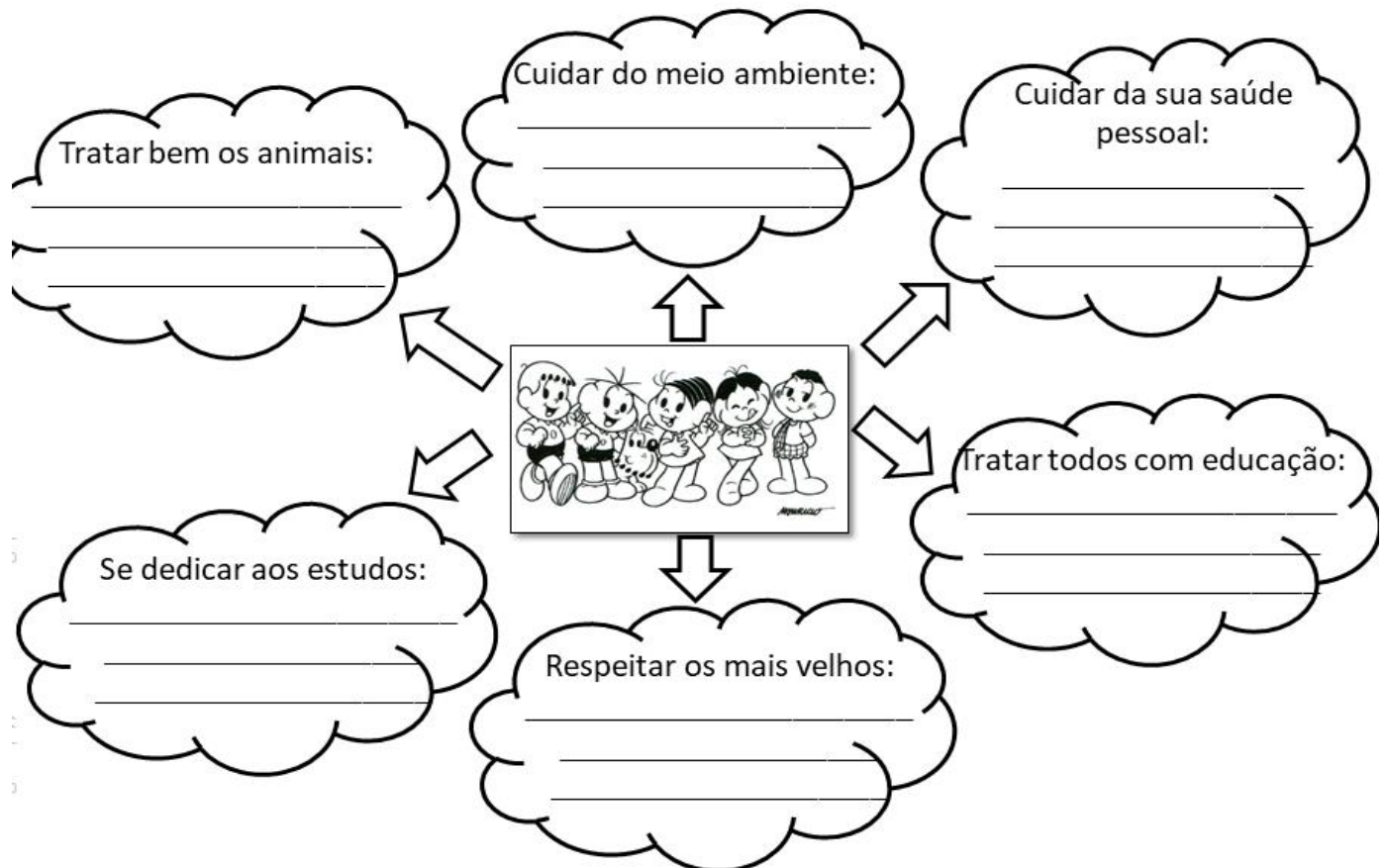
c) FAÇA OS CÁLCULOS, ANOTANDO SUAS ESTRATÉGIAS.

## DIREITO DAS CRIANÇAS



## DEVERES DAS CRIANÇAS

ESCREVA COMO VOCÊ PODE FAZER PARA CUMPRIR OS DEVERES ABAIXO:



## PARQUE DE DIVERSÕES

APÓS COMPRAREM OS INGRESSOS, SAMUEL E SEUS AMIGOS FORAM A UMA LANCHONETE.

1- MIGUEL COMPROU UM LANCHE E UM SUCO E PAGOU COM MOEDAS. QUAIS MOEDAS ELE UTILIZOU?



2- HELENA COMPROU UM SORVETE QUE CUSTAVA R\$ 1,00 E PAGOU SOMENTE COM MOEDAS DE R\$ 0,10. QUANTAS MOEDAS ELE UTILIZOU PARA PAGAR O SORVETE?









## VAMOS AO PARQUE DE DIVERSÕES?

MIGUEL, SAMUEL, HELENA E RENAN ESTAVAM CONVERSANDO SOBRE O PARQUE DE DIVERSÕES E HELENA DISSE QUE GOSTA MUITO DA BARRACA DE PESCA.

HELENA MONTOU UMA ATIVIDADE PARA SAMUEL RESOLVER. VAMOS AJUDÁ-LO?

- 1- O RAPAZ QUE CUIDA DA PESCARIA DISSE A HELENA QUE A BARRACA TEM UMA GRANDE QUANTIDADE DE BRINQUEDOS. OBSERVE O QUADRO ABAIXO.

BRINQUEDOS	QUANTIDADE
 <div style="border: 1px solid black; padding: 2px; display: inline-block;">CACHORRINHO</div>	154
 <div style="border: 1px solid black; padding: 2px; display: inline-block;">CARRINHO</div>	919
 <div style="border: 1px solid black; padding: 2px; display: inline-block;">URSO MARROM</div>	129
 <div style="border: 1px solid black; padding: 2px; display: inline-block;">URSO ROSA</div>	214
 <div style="border: 1px solid black; padding: 2px; display: inline-block;">BOLA</div>	350
 <div style="border: 1px solid black; padding: 2px; display: inline-block;">JOYSTICK</div>	35

- a) ORDENE OS NÚMEROS RELATIVOS ÀS QUANTIDADES DE BRINQUEDOS, EM ORDEM CRESCENTE.

--	--	--	--	--	--

- b) QUAL É O NÚMERO TOTAL DE BRINQUEDOS.

# 1- PROCURE E CIRCULE AS PALAVRAS DESTACADAS:

TODA CRIANÇA TEM O DIREITO DE **BRICAR**

TODA CRIANÇA TEM O DIREITO DE TER UMA **ALIMENTAÇÃO** SAUDÁVEL

TODA CRIANÇA TEM O DIREITO DE TER UMA **FAMÍLIA**

TODA CRIANÇA TEM O DIREITO DE TER **RESPEITO**

TODA CRIANÇA TEM O DIREITO DE ACESSO À **EDUCAÇÃO**

TODA CRIANÇA TEM O DIREITO A **VIDA**

TODA CRIANÇA TEM O DIREITO A **SAÚDE**

TODA CRIANÇA TEM O DIREITO A **SEGURANÇA**

TODA CRIANÇA TEM O DIREITO A **LIBERDADE**

S	B	R	I	N	C	A	R	O	Y	C
L	D	P	D	Q	S	L	Y	M	U	P
H	I	N	F	A	M	I	L	I	A	S
R	E	B	U	K	A	M	G	N	O	O
E	F	D	E	Q	T	E	W	X	G	R
S	E	G	U	R	A	N	C	A	D	X
P	F	D	Q	C	D	T	V	X	F	H
E	B	N	Q	N	A	A	I	C	C	B
I	V	W	Y	C	V	C	D	X	O	F
T	C	K	I	N	X	A	A	E	Y	V
O	F	D	Q	A	L	O	H	O	U	R

# PERCORRA A TRILHA RESOLVENDO OS FATOS DAS QUATRO OPERAÇÕES.



3	X		=	24
---	---	--	---	----

	+			
	7			
	=			
	X	3	=	

22	+			
23	+		=	38

	=			
	:			

	X	7	=	
--	---	---	---	--

12	-		=	5
				-
				27

	:					
				=		
		9	X		=	36

	=					
2		15	X		=	45

	=					
		3	X		=	81

	:					
		16	-		=	9

	=			
--	---	--	--	--



Data: 08 de Outubro de 2021

**DESENHE COMO VOCÊ GOSTARIA QUE FOSSE O SEU DIA DAS CRIANÇAS:**





# JOGO TRILHA DAS EMOÇÕES

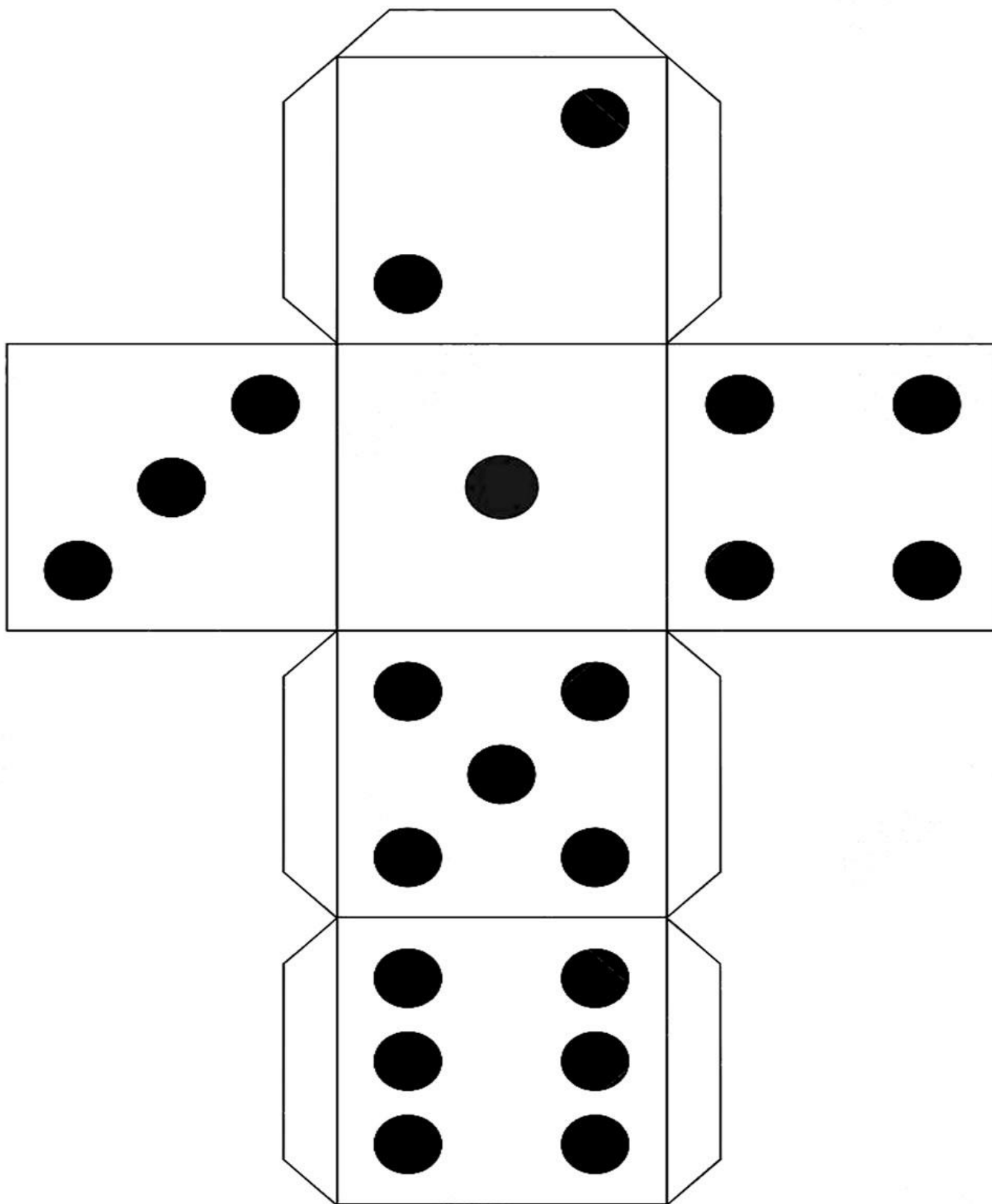
- NÚMERO DE JOGADORES: 2 OU MAIS
- MATERIAL DADO, MARCADORES E TABULEIRO.

## COMO JOGAR:

O JOGADOR QUE TIRAR O MAIOR NÚMERO NO DADO COMEÇA. CADA JOGADOR LANÇA O DADO E ANDA O NÚMERO DE CASAS CORRESPONDENTES, LEIA A PERGUNTA DO QUADRINHO. GANHA O JOGO QUEM CHEGAR PRIMEIRO AO FINAL DA TRILHA. BOM JOGO E SE DIVIRTAM! (ESTOU AGUARDANDO FOTOS DA BRINCADEIRA).



# ANEXO



## **REFERÊNCIAS**

**APRENDER SEMPRE**

**ÁPIS**

**PINTEREST**