



Prefeitura da Estância Turística de  
**IBIÚNA**  
TRANSFORMAÇÃO RESPONSÁVEL. CUIDANDO DE PESSOAS.



E.M “ZENI SOARES RAMALHO  
Atividades para estudo em casa

Aluno (a):

Professora: ROSANA GODOY


2º ano A

13ª APOSTILA

PERÍODO DAS ATIVIDADES DIAS: 18/10 À 05/11

DATA DA DEVOLUÇÃO: 08/11/202





ROTEIRO  
PARA REALIZAÇÃO DE ATIVIDADES  
2ª ANO A

LÍNGUA PORTUGUESA- IMAGEM DO SILABÁRIO COM AS SÍLABAS SIMPLES E COMPLEXAS PARA: APRESENTAÇÃO E LEITURA.

LINGUA PORTUGUESA- PINTURA E LEITURA DO TEXTO, ATIVIDADE CONTINUAÇÃO DO TEXTO.

LINGUA PORTUGUESA-PASSAR AS PALAVRAS PARA O DIMINUTIVO EXEMPLO; **PORCO, PORQUINHO**, PASSAR AS FRASES PARA O PLURAL EXEMPLO; **O PORQUINHO ESTA FELIZ, OS PORQUINHOS ESTÃO FELIZES**; DE NOME AOS DESENHOS.

LINGUA PORTUGUESA- CAÇA PALAVRAS, LISTA DE PALAVRAS NA ORDEM AS SILABAS CH, NH, LH.

LINGUA PORTUGUESA- POEMA E INTERPRETAÇÃO, ORDENAR AS SÍLABAS DE ACORDO COM A FIGURA.

LINGUA PORTUGUESA- ESCREVER PALAVRAS E SEPARAR AS SÍLABAS, IDENTIFICAR A PALAVRA CORRESPONDENTE A IMAGEM.

MATEMÁTICA- COMPLETE OS NÚMEROS DE 01 Á 199, E COMPREENDER ORDENS CRESCENTE E DECRESCENTE E DESNVOLVER ATRAVEZ DE ATIVIDADE.

MATEMÁTICA- DESENVOLVER ATIVIDADE EM ORDEM DECRESCENTE, E IDENTIFICAR A DIFERENÇA DE CRESCENT E DECRESCENTE.

MATEMÁTICA- DESCOBRIR O SEGREDO DAS ORDENS NUMÉRICA, EXERCICIO EM ORDEM CRESCENTE, PROBLEMINHA IDENTIFICANDO AS ORDENS CRESCENTE E DECRESCENTE.

GEOGRAFIA- ADIVINHAÇÕES DOS MEIOS DE COMUNICAÇÃO, ATIVIDADE SOBRE MEIOS DE COMUNICAÇÃO.

HISTÓRIA- CONHECIMENTO DOS DOCUMENTOS PESSOAIS, E SUA IMPORTANCIA COMO CIDADÃO.

HISTORIA- PROFISSÕES; ESCOLHA OQUE QUER SER QUANDO CRESCER.

CIENCIAS- O MOVIMENTO APARENTE DO SOL, A PELE O SOL E AS FORMAS DE PROTEÇÃO.



# SILABÁRIO SIMPLES

	A 	E 	I 	O 	U 	ÃO
B 	BA	BE	BI	BO	BU	BÃO
C 	CA	CE	CI	CO	CU	CÃO
D 	DA	DE	DI	DO	DU	DÃO
F 	FA	FE	FI	FO	FU	FÃO
G 	GA	GE	GI	GO	GU	GÃO
H 	HA	HE	HI	HO	HU	HÃO
J 	JA	JE	JI	JO	JU	JÃO
K 	KA	KE	KI	KO	KU	-
L 	LA	LE	LI	LO	LU	LÃO
M 	MA	ME	MI	MO	MU	MÃO
N 	NA	NE	NI	NO	NU	NÃO
P 	PA	PE	PI	PO	PU	PÃO
Q 	QUA	QUE	QUI	QUO	-	QUÃO
R 	RA	RE	RI	RO	RU	RÃO
S 	SA	SE	SI	SO	SU	SÃO
T 	TA	TE	TI	TO	TU	TÃO
V 	VA	VE	VI	VO	VU	VÃO
W 	WA	WE	WI	WO	WU	-
X 	XA	XE	XI	XO	XU	XÃO
Y 	YA	YE	-	YO	YU	-
Z 	ZA	ZE	ZI	ZO	ZU	ZÃO

# SÍLABAS COMPLEXAS

	AQUÁRIO	QUA	QUE	QUI	QUO	-
	BRAÇO	BRA	BRE	BRI	BRO	BRU
	CRAVO	CRA	CRE	CRI	CRO	CRU
	DRAGÃO	DRA	DRE	DRI	DRO	DRU
	FRALDA	FRA	FRE	FRI	FRO	FRU
	GRAVATA	GRA	GRE	GRI	GRO	GRU
	PRATO	PRA	PRE	PRI	PRO	PRU
	TRATOR	TRA	TRE	TRI	TRO	TRU
	LIVRO	VRA	VRE	VRI	VRO	VRU
	BLUSA	BLA	BLE	BLI	BLO	BLU
	CLARA	CLA	CLE	CLI	CLO	CLU
	FLAUTA	FLA	FLE	FLI	FLO	FLU
	GLOBO	GLA	GLE	GLI	GLO	GLU
	PLACA	PLA	PLE	PLI	PLO	PLU
	ATLETA	TLA	TLE	TLI	TLO	TLU
	VLADMIR	VLA	VLE	VLI	VLO	VLU
	CHAPÉU	CHA	CHE	CHI	CHO	CHU
	ÁRVORE	AR	ER	IR	OR	UR
	GALINHA	NHA	NHE	NHI	NHO	NHU
	COELHO	LHA	LHE	LHI	LHO	LHU
	ESCADA	AS	ES	IS	OS	US
	ANJO	AN	EN	IN	ON	UN
	ALFACE	AL	EL	IL	OL	UL
	FOGUETE	GUA	GUE	GUI	GUO	-



**O PORQUINHO**

**GULOSO**

## GULOSO

Adiléa M. I. Generoso

GULOSO É UM PORQUINHO.  
ELE FICA NO QUINTAL.  
ELE É GORDINHO E TEM A CAUDA  
ENROLADINHA.  
GULOSO FICA COM O FOCINHO  
NO CHÃO PROCURANDO OS  
ALIMENTOS.

GULOSO COME SEM PARAR E  
É POR ISTO QUE TEM ESTE NOME.  
ELE COME BANANA VERDE COZIDA,  
CENOURA, NABO, ABACATE, MILHO, CHUCHU,  
FARELO E RAÇÃO.  
GULOSO ROLA NA LAMA TODOS OS DIAS.  
ELE VIVE TÃO SUJO!  
GULOSO É UM PORQUINHO FELIZ!

1- COMPLETE:

GULOSO É UM.....

- ELE FICA NO .....

- ELE É ..... E TEM A CAUDA

.....

## ATIVIDADES

4- DÊ O DIMINUTIVO DE:

PORCO

GORDO

FARELO

BANANA

5- PASSE AS FRASES PARA O PLURA:

- O PORQUINHO ESTÁ FELIZ.

.....

- ELE FICA NO QUINTAL.



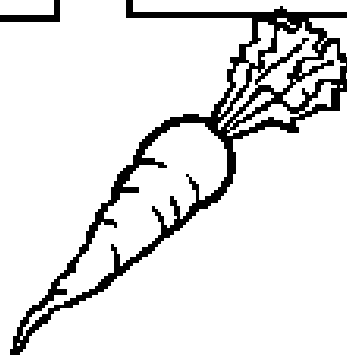

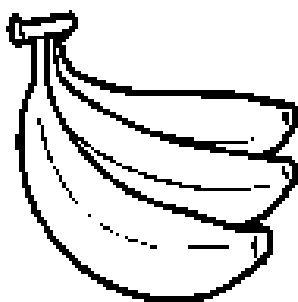
.....

- A CAUDA É ENROLADINHA.

.....

# ATIVIDADES

6- DÊ NOME AOS DESENHOS:





## ATIVIDADES

### 7- CAÇA-PALAVRAS:

P	O	R	Q	U	I	N	H	O
B	R	Y	U	W	P	C	P	Z
K	Y	M	I	L	H	O	G	R
C	E	U	N	H	K	U	N	A
H	S	G	T	F	Ç	X	A	Ç
U	Q	C	A	U	D	A	B	Ã
C	R	T	L	O	Z	Ç	O	O
H	A	V	F	E	L	I	Z	Y
U	B	N	R	U	Q	Y	G	J
B	A	N	A	N	A	X	Y	E

BANANA - QUINTAL - MILHO

PORQUINHO - CAUDA - RAÇÃO

CHUCHU - NABO - FELIZ

# VAMOS COMPLETAR O QUADRO?



LEITURA E  
ESCRITA

1 LEIA AS PALAVRAS DO QUADRO ABAIXO.

COELHO	ALHO	CHUVA
CACHORRO	GALINHA	COALHADA
PASSARINHO	REPOLHO	LINHA
MOCHILA	NINHO	DINHEIRO
BOLICHE	MILHO	CHAPÉU



2 COMPLETE O QUADRO ESCRIVENDO AS PALAVRAS ACIMA NAS COLUNAS CORRESPONDENTES.

CH	NH	LH



Educador(a), trabalhe oralmente a divisão de sílabas das palavras do quadro batendo palmas para cada sílaba. Confeccione fichas com as sílabas para que os alunos possam montar, desmontar e perceber que o CH, NH, LH fazem parte de uma mesma sílaba.

NOME:

DATA: / /

## A CHÁCARA DO CHICO BOLACHA.



Na chácara do Chico Bolacha  
o que se procura nunca se acha!

Quando chove muito, o Chico  
brinca de barco, porque a chácara  
vira um charco.

Quando não chove nada, Chico  
trabalha com a enxada e logo se machuca e  
fica de mão inchada.

(OU ISTO OU AQUILO. CECÍLIA HEIRELES).

### COMPREENSÃO TEXTUAL:

1. O QUE ACONTECE QUANDO CHOVE NA CHÁCARA DO CHICO BOLACHA?

---

---

2. QUANDO O CHICO TRABALHA COM A ENXADA?

---

---

3. POR QUE O CHICO FICA COM A MÃO INCHADA?

---

---

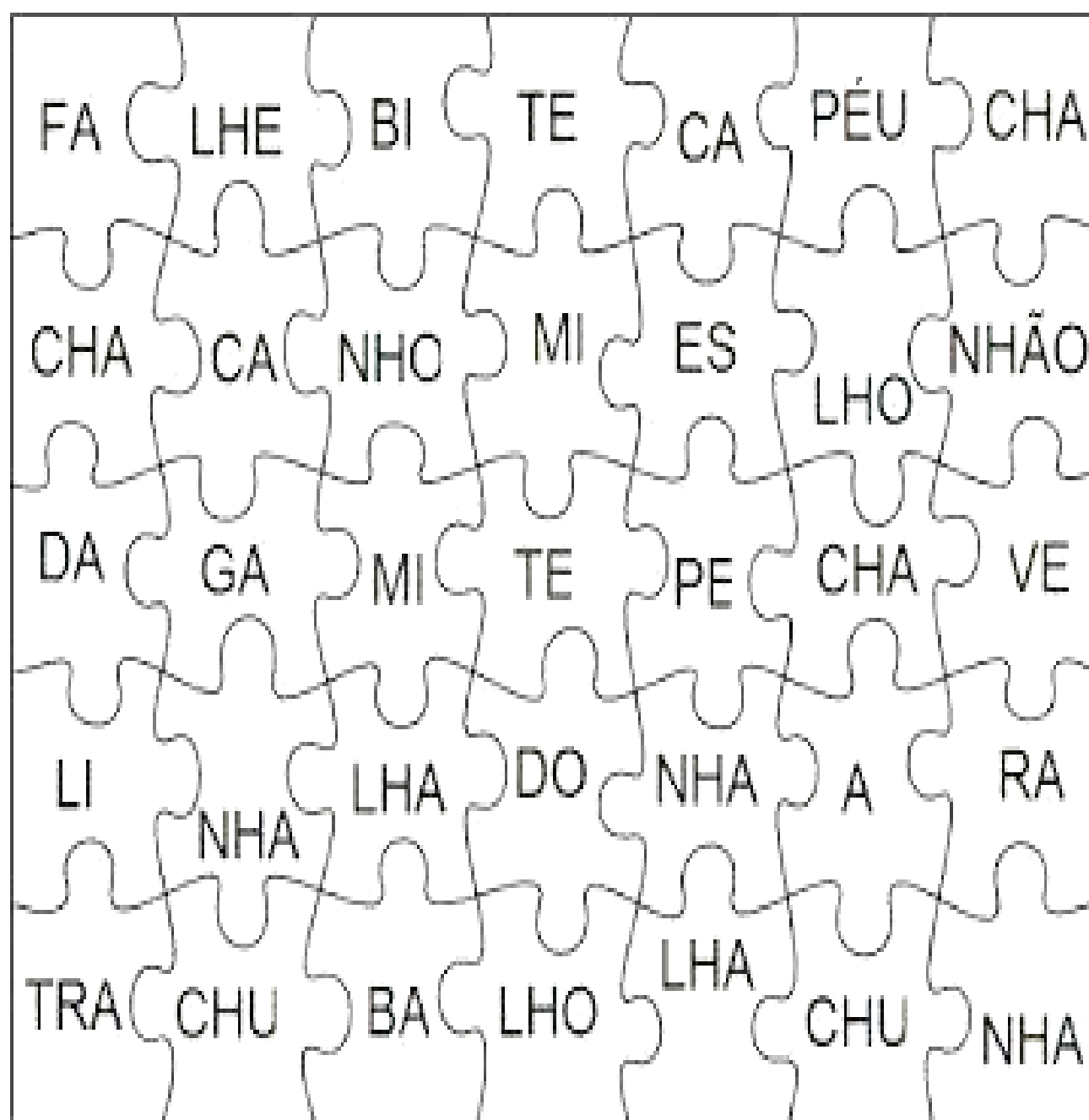
4. O QUE VOCÊ ENTEDE AO OUVIR A PALAVRA CHÁCARA?

---

---

LEIA AS PALAVRAS E ENCONTRE NO QUEBRA CABEÇA AS SUAS SÍLABAS.  
PINTE CADA PALAVRA COM CORES DIFERENTES.

CAMINHÃO	FACHADA	BILHETE
MINHOCA	CHAPÉU	ESPELHO
GALINHA	CHAVE	TELHADO
ARANHA	CHUCHU	TRABALHO







Leia o texto e responda



## O palhaço

Paçoca é um palhaço muito risinho.

Ele mexe os olhinhos e as orelhas.

Sua roupa é bem colorida.

O palhaço Paçoca tem um chocalho no pé.

Ele é muito gozado!

Autor desconhecido



1) COMO É O PALHAÇO PAÇOCA?

Empty dashed box for answer 1.

2) O QUE ELE FAZ?

Empty dashed box for answer 2.

3) EM SUA OPINIÃO, PARA QUE SERVE O CHOCALHO QUE ELE TEM NO PÉ?


Empty dashed box for answer 3.

NOME: \_\_\_\_\_ DATA: \_\_\_\_\_

**NH – CH – LH**


LEIA AS ADIVINHAS E ESCREVA AS RESPOSTAS.

INSETO QUE PRODUZ MEL



CAI EM PÉ E CORRE DEITADA

É A FÊMEA DO GALO



É UMA DELÍCIA DE ALIMENTO QUE DO CACAU É FEITO

É O FILHOTE DA GALINHA



DELE SÃO FEITOS O FUBÁ E A PAMONHA



DIZEM QUE ELE É O MELHOR AMIGO DO HOMEM



Complete os numerais:

01									
10			13						19
20				24				28	
30		32			35				
40							47		49
50	51					56			
60		62		64				68	
70			73		75		77		
80	81			84		86			89
90		92		94			97		99
100	101		103			106	107		
110		112		114		116			119
120	121		123		125			128	
130		132		134		136		138	
140	141				145				149
150		152				156			
160	161			164			167		
170		172			175			178	
180	181		183			186			189
190		192			195			198	

## LEMBRETE:

**ORDEM CRESCENTE** – DO MENOR PARA O MAIOR.

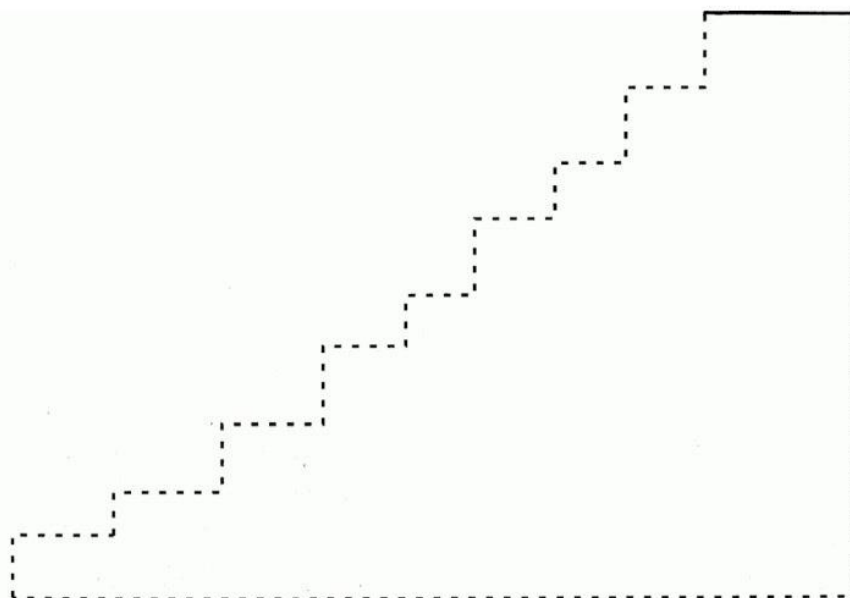


**ORDEM DECRESCENTE** – DO MAIOR PARA O MENOR.

AMANDA FEZ UM DESAFIO PARA SEU IRMÃO FÁBIO. ELA SEPAROU ALGUNS NÚMEROS E PEDIU PARA QUE FÁBIO COLOCASSE ESSES NÚMEROS EM **ORDEM CRESCENTE** NA ESCADA DE CASA, COMEÇANDO NO PRIMEIRO DEGRAU.

3 – 26 – 18 – 46 – 32 – 20 – 63 – 51 – 90

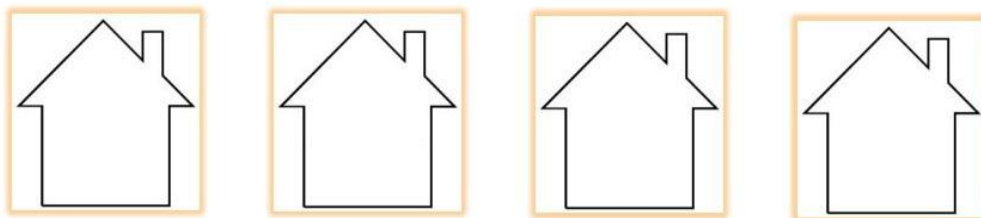
ESCREVA COMO FICARÃO OS NÚMEROS NA ESCADA EM ORDEM CRESCENTE.



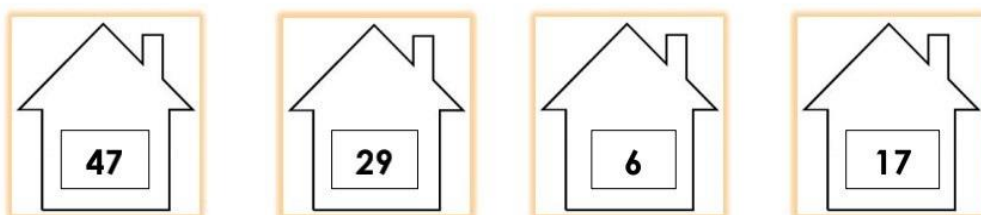


A PROFESSORA KELLY PEDIU PARA QUE SEUS ALUNOS COLOCASSEM OS NÚMEROS ABAIXO EM **ORDEM DECRESCENTE** DENTRO DAS CASINHAS.

6      47      17      29



AMANDA RESOLVEU O EXERCÍCIO DA SEGUINTE FORMA:



**VAMOS ANALISAR O QUE A AMANDA FEZ?**

**A)** AMANDA COLOCOU OS NÚMEROS EM ORDEM DECRESCENTE CORRETAMENTE?

▶ SIM

▶ NÃO

**B)** QUAIS NÚMEROS AMANDA COLOCOU NO LUGAR ERRADO? \_\_\_\_\_.

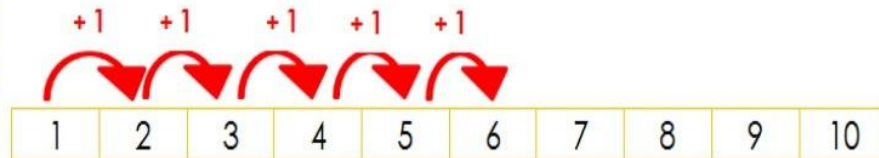
**C)** ESCREVA COMO FICARÁ A ORDEM DECRESCENTE CORRETA

\_\_\_\_\_.

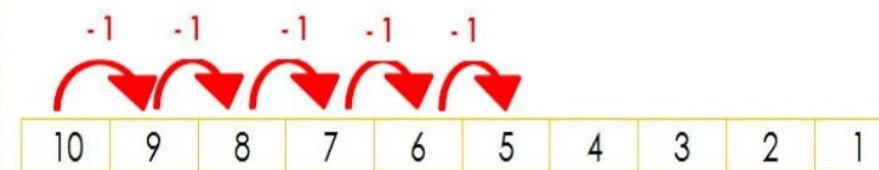
## LEMBRETE:

**ORDEM CRESCENTE** – DO MENOR PARA O MAIOR.

**ORDEM DECRESCENTE** – DO MAIOR PARA O MENOR.



OS NÚMEROS FORAM  
COLOCADOS SOMANDO 1



OS NÚMEROS FORAM  
COLOCADOS SUBTRAINDO 1

## VAMOS PRATICAR?

OBSERVE OS NÚMEROS:

33

52

8

12

COLOQUE OS NÚMEROS EM **ORDEM DECRESCENTE**.

USANDO OS MESMOS NÚMEROS, COLOQUE -OS EM **ORDEM CRESCENTE**.

### DESCUBRA O SEGREDO.

ANOTE O SEGREDO DE CADA SEQUÊNCIA NUMÉRICA, COMO NO EXEMPLO:



RESPOSTA: **SEGREDO + 2**

2	4	6	8	10	12	14	16	18	20
---	---	---	---	----	----	----	----	----	----



RESPOSTA: \_\_\_\_\_

**A**

3	6	9	12	15	18	21	24	27	30
---	---	---	----	----	----	----	----	----	----



RESPOSTA: \_\_\_\_\_

**B**

50	45	40	35	30	25	20	15	10	5
----	----	----	----	----	----	----	----	----	---

COLOQUE EM **ORDEM CRESCENTE** DE 10 EM 10.

**A**

10				50					100
----	--	--	--	----	--	--	--	--	-----

**B**

15				55					105
----	--	--	--	----	--	--	--	--	-----

### MATEMÁTICA

#### VAMOS BRINCAR?

ENZO, SEU IRMÃO CARLOS E A MÃE, RESOLVERAM FAZER UMA BRINCADEIRA EM CASA.

A MÃE FOI A JUÍZA. ENZO E CARLOS COMPETIRAM ENTRE SI. CONFECCIONARAM CARTINHAS NA FOLHA DE SULFITE COM NÚMEROS DE 1 A 100.

CADA CRIANÇA GANHOU 10 CARTAS E AO SINAL DA JUÍZA TERIAM QUE COLOCAR AS CARTINHAS NA MESA COM OS NÚMEROS EM **ORDEM DECRESCENTE**. QUEM TERMINASSE PRIMEIRO, E SEM ERRO, GANHARIA A PARTIDA.

VAMOS VER AS CARTAS QUE CADA UM GANHOU:



**ENZO**

**CARTAS DO ENZO**

67	81	3	24	90	44	58	63	7	14
----	----	---	----	----	----	----	----	---	----

**ORDEM DECRESCENTE DO ENZO**

**90 – 81 – 67 – 63 – 44 – 58 – 24 – 14 – 7 - 3**



**CARLOS**

**CARTAS DO CARLOS**

8	15	98	72	21	33	2	11	80	43
---	----	----	----	----	----	---	----	----	----

**ORDEM DECRESCENTE DO CARLOS**

**98 – 80 – 72 – 43 – 33 – 21 – 15 – 11 – 8 - 2**

VAMOS ANALISAR ESSA JOGADA?

- 1)** QUAL O MAIOR NÚMERO QUE ENZO TEM? \_\_\_\_\_.
- 2)** E O MENOR? \_\_\_\_\_.
- 3)** QUAL O MAIOR NÚMERO QUE CARLOS TEM? \_\_\_\_\_.
- 4)** E O MENOR? \_\_\_\_\_.
- 5)** QUEM FEZ A ORDEM DECRESCENTE CORRETA?  
    ▶ ENZO                                      ▶ CARLOS
- 6)** QUAL NÚMERO ENZO COLOCOU NO LUGAR ERRADO? \_\_\_\_\_.
- 7)** ONDE ESSE NÚMERO DEVERIA ESTAR? (ENTRE QUAIS NÚMEROS) \_\_\_\_\_.



## GEOGRAFIA

### ADIVINHAÇÕES DOS MEIOS DE COMUNICAÇÃO

ESCREVA O NOME DO MEIO DE COMUNICAÇÃO COMPLETANDO OS VERSOS. ATENÇÃO: ALGUNS COMPLETAM A RIMA.



RÁDIO

TELEVISÃO

TELEFONE

- GOSTO MUITO DE CONVERSAR  
TENHO ATÉ UM BELO **NOME**  
SE LONGE VOCÊ ESTÁ  
PODE USAR O

- MOSTRO TUDO PARA VOCÊ  
NUMA CAIXA, SUA **VISÃO**  
O MUNDO NA SUA CASA  
EU SOU A

- SOU FALANTE ATÉ DEMAIS  
UMA CAIXINHA TAGARELA  
TENHO MÚSICA E NOTÍCIA  
AGRADO TODA A GALERA!  
EU SOU

## GEOGRAFIA

### DE OLHO NA ATIVIDADE!!!

- 1- VAMOS FORMAR PALAVRAS COM AS SÍLABAS DO QUADRO E DESCOBRIR OS NOMES DE ALGUNS MEIOS DE COMUNICAÇÃO.

1 TE	2 CAR	3 NAL	4 FO	5 FA
6 JOR	7 LE	8 TA	9 LA	10 NE

1,7,4 e 10 =

6 e 3 =

5 e 9 =

2 e 8 =



- 2- QUE OUTROS MEIOS DE COMUNICAÇÃO VOCÊ CONHECE?

\_\_\_\_\_

- 3- SE VOCÊ PUDESSE INVENTAR UM NOVO MEIO DE COMUNICAÇÃO, COMO ELE SERIA? FAÇA UM DESENHO.

## HISTÓRIA

O NOSSO NASCIMENTO É UM DIA MUITO ESPECIAL! FICA REGISTRADO NUM DOCUMENTO MUITO IMPORTANTE CHAMADO CERTIDÃO DE NASCIMENTO. DEPOIS A MAMÃE RECEBE TAMBÉM A CARTEIRA DE VACINAÇÃO QUE CONTROLA TODAS AS VACINAS QUE UMA CRIANÇA PRECISA TOMAR AO LONGO DA VIDA.

### CERTIDÃO DE NASCIMENTO



A certidão de nascimento é um documento oficial brasileiro, emitido pelo Registro Civil das Pessoas Naturais. Ela contém informações essenciais sobre o recém-nascido, como nome completo, data e hora de nascimento, local de nascimento, nome dos pais e o nome da mãe. O documento é assinado pelo Oficial de Registro Civil e possui validade jurídica.

### CARTEIRA DE VACINAÇÃO



A carteira de vacinação é um documento que registra todas as vacinas que uma criança recebe ao longo da vida. Ela é organizada em uma tabela com colunas para diferentes tipos de vacinas e linhas para cada dose. O nome da criança e a data de nascimento são registrados no topo. As vacinas obrigatórias no primeiro ano de vida incluem BCG, Soro Profilático, Polio, Hepatite B, Sarampo, Rubéola, Caxumba, Tétano, DTP, Hib, Rotavírus, Meningite, Febre Amarela, Dengue, Zika, Chikungunya, Sarampo II, Sarampo III, Sarampo IV, Sarampo V, Sarampo VI, Sarampo VII, Sarampo VIII, Sarampo IX, Sarampo X, Sarampo XI, Sarampo XII, Sarampo XIII, Sarampo XIV, Sarampo XV, Sarampo XVI, Sarampo XVII, Sarampo XVIII, Sarampo XIX, Sarampo XX, Sarampo XXI, Sarampo XXII, Sarampo XXIII, Sarampo XXIV, Sarampo XXV, Sarampo XXVI, Sarampo XXVII, Sarampo XXVIII, Sarampo XXIX, Sarampo XXX, Sarampo XXXI, Sarampo XXXII, Sarampo XXXIII, Sarampo XXXIV, Sarampo XXXV, Sarampo XXXVI, Sarampo XXXVII, Sarampo XXXVIII, Sarampo XXXIX, Sarampo XL, Sarampo XLI, Sarampo XLII, Sarampo XLIII, Sarampo XLIV, Sarampo XLV, Sarampo XLVI, Sarampo XLVII, Sarampo XLVIII, Sarampo XLIX, Sarampo L, Sarampo LI, Sarampo LII, Sarampo LIII, Sarampo LIV, Sarampo LV, Sarampo LVI, Sarampo LVII, Sarampo LVIII, Sarampo LIX, Sarampo LX, Sarampo LXI, Sarampo LXII, Sarampo LXIII, Sarampo LXIV, Sarampo LXV, Sarampo LXVI, Sarampo LXVII, Sarampo LXVIII, Sarampo LXIX, Sarampo LXX, Sarampo LXXI, Sarampo LXXII, Sarampo LXXIII, Sarampo LXXIV, Sarampo LXXV, Sarampo LXXVI, Sarampo LXXVII, Sarampo LXXVIII, Sarampo LXXIX, Sarampo LXXX, Sarampo LXXXI, Sarampo LXXXII, Sarampo LXXXIII, Sarampo LXXXIV, Sarampo LXXXV, Sarampo LXXXVI, Sarampo LXXXVII, Sarampo LXXXVIII, Sarampo LXXXIX, Sarampo LXXXX, Sarampo LXXXXI, Sarampo LXXXXII, Sarampo LXXXXIII, Sarampo LXXXXIV, Sarampo LXXXXV, Sarampo LXXXXVI, Sarampo LXXXXVII, Sarampo LXXXXVIII, Sarampo LXXXXIX, Sarampo LXXXXX.


PEÇA PARA QUE SEUS PAIS OU RESPONSÁVEIS MOSTREM A SUA CARTEIRA DE VACINAÇÃO E SUA CERTIDÃO DE NASCIMENTO.

MARQUE O NOME E A DATA DE UMA VACINA QUE VOCÊ JÁ TENHA TOMADO.

## HISTÓRIA

A CARTEIRA DE IDENTIDADE, CONHECIDA COMO **RG** (REGISTRO GERAL), É O PRIMEIRO DOCUMENTO PESSOAL QUE SUBSTITUI A CERTIDÃO DE NASCIMENTO.

ESSE DOCUMENTO É MUITO IMPORTANTE PORQUE SERVE PARA IDENTIFICAR AS PESSOAS. NELE TAMBÉM CONSTA A ASSINATURA E IMPRESSÕES DIGITAIS.



1) PEÇA PARA UM ADULTO MOSTRAR PARA VOCÊ UMA CARTEIRA DE IDENTIDADE. PROCURE SE INFORMAR SE VOCÊ JÁ TEM A CARTEIRA DE IDENTIDADE.

2) AGORA PREENCHA ESSES DADOS QUE CONSTAM TAMBÉM NO DOCUMENTO DE IDENTIDADE.

NOME:

FILIAÇÃO (NOME DE SEUS PAIS).

NATURALIDADE (LOCAL EM QUE NASCEU, MUNICÍPIO E ESTADO).

DATA DE NASCIMENTO



## HISTÓRIA

### PROFISSÕES

EXISTEM VÁRIAS PROFISSÕES, COMO: MÉDICO, PROFESSOR, ADVOGADO, ENGENHEIRO, PINTOR, DENTISTA, BALCONISTA, PADEIRO, RECEPCIONISTA, BANCÁRIO ENTRE OUTRAS.



RESPONDA:

ESCREVA O NOME DE UMA PROFISSÃO QUE VOCÊ GOSTA.

QUAIS PROFISSÕES SEUS FAMILIARES DESEMPENHAM? DESENHE-AS NO ESPAÇO ABAIXO.

## HISTÓRIA

### EXISTEM MUITAS PROFISSÕES INTERESSANTES



E VOCÊ, JÁ SABE O QUE QUER SER QUANDO CRESCER?

FAÇA UM DESENHO BEM LEGAL DA SUA FUTURA PROFISSÃO E SE DEDIQUE BASTANTE AOS ESTUDOS PARA CONSEGUIR CHEGAR LÁ.

A large, empty rectangular box with an orange border, intended for a child to draw their future profession.


## CIÊNCIAS

### O MOVIMENTO APARENTE DO SOL

O sol aparece todas manhãs do lado leste e parece caminhar no céu subindo e depois de um certo tempo descendo até desaparecer totalmente do lado oeste.

Quando olhamos para o céu temos a sensação de que o sol e as nuvens se movimentam, mas na verdade quem se movimenta é o planeta Terra.

O planeta Terra gira em torno de si mesma (**Rotação**). Esse movimento tem duração de 24h ou um dia. A Terra também realiza um movimento ao redor do Sol (**Translação**) que dura um ano.



Responda:

O Sol se movimenta no céu?

---

Quais são os movimentos do planeta Terra?

---

## CIÊNCIAS

1) Kika disse para sua amiga que quer viver muitas translações. E você quantas translações você já tem? Escolha uma das alternativas:

A- 6

B- 7

C- 8

D- 9

E- MAIS DE 9

2) Faça uma ilustração (desenho) de um lindo Sol no céu.

## CIÊNCIAS

### A PELE, O SOL E AS FORMAS DE PROTEÇÃO SOLAR

ASSIM COMO OS RAIOS SOLARES AFETAM ALGUNS MATERIAIS, ELES TAMBÉM SÃO SENTIDOS NO NOSSO CORPO.

O SOL NÃO TRANSMITE VITAMINAS, MAS QUANDO FICAMOS EXPOSTOS AOS RAIOS SOLARES O NOSSO CORPO PRODUZ VITAMINA D, QUE É NECESSÁRIO PARA O NOSSO CORPO. PORÉM PRECISAMOS TOMAR ALGUNS CUIDADOS NA HORA DE TOMAR SOL, POIS O SOL EM EXCESSO PODE SER PREJUDICIAL PARA SAÚDE.

OS RAIOS SOLARES PODEM CAUSAR QUEIMADURA EM NOSSA PELE, COURO CABELUDO E OLHOS.

PARA PROTEGER O NOSSO CORPO DOS RAIOS SOLARES DEVEMOS PASSAR PROTETOR SOLAR NA PELE DO CORPO INTEIRO, USAR CHAPÉU E ÓCULOS ESCUROS.

LEMBRE-SE, O SOL É NOSSO AMIGO! SÓ DEVEMOS TOMAR ALGUNS CUIDADOS NA HORA DE NOS EXPOR AO SOL!

DE ACORDO ESSE PEQUENO TEXTO, RESPONDA AS PERGUNTAS. SE PRECISAR, PEÇA AJUDA DE UM ADULTO.

NÓS CONSEGUIMOS SENTIR OS RAIOS SOLARES NO NOSSO CORPO?

QUAL A VITAMINA QUE O NOSSO CORPO PRODUZ QUANDO FICAMOS EXPOSTOS AO SOL?

RELACIONE QUAL ITEM É NECESSÁRIO PARA PROTEGER AS PARTES DO CORPO CITADAS:

 <b>(A) PROTETOR SOLAR</b>	<input type="text"/> OLHOS
 <b>(B) ÓCULOS DE SOL</b>	<input type="text"/> COURO CABELUDO
 <b>(C) CHAPÉU</b>	<input type="text"/> PELE

## REFERENCIAS

<https://www.facebook.com/groups>.

<https://docs.google.com/uc?export=download&id>

<https://youtu.be/LI1zuV83pHk>