



Prefeitura da Estância Turística de
IBIÚNA
TRANSFORMAÇÃO RESPONSÁVEL. CUIDANDO DE PESSOAS.



E.M “ZENI SOARES RAMALHO”

Atividades para estudo em Casa

13º apostila

Período das atividades: 18/10 a 05/11/2021

Data da devolução da 13º apostila: **08/11/2021**

Aluno (a):

Professora: Lucila Helena S.C. Germano

3º ano B

Roteiro para realização das atividades

Siga o roteiro para a realização das atividades:

Combinados das lições

- Lavar as mãos para fazer as lições;
- Escolher um lugar tranquilo e adequado para realizar as atividades;
- Ler com atenção;
- Fazer duas atividades por dia ,evitando assim o acúmulo;
- Fazer as tarefas com capricho e dedicação;
- Não amassar, não sujar e rasgar as atividades;
- Assistir aos links enviados pela professora no grupo de whatsApp;
- Se tiver dúvidas perguntar para a professora.

Lembre-se:

Você é capaz!!!


Eu acredito em você!!!

E.M “ZENI SOARES RAMALHO”

LÍNGUA PORTUGUESA

NÃO TENHO MEDO DE NADA!


Não tenho medo de nada!
Eu sou valente de fato!
Nem de susto, nem de escuro,
nem de injeção, nem de rato!



PEDRO BANDEIRA



Nem de sapo ou lagartixa,
nem fantasma e assombração!
Eu sou menino sem medo,
corajoso e valentão!



Não tenho medo de aranha,
nem de monstro, nem dragão!
Não tenho medo de bruxa,
nem do tal bicho-papão!



Mas eu só tenho coragem
quando estou na minha casa,
bem seguro, aconchegado
no colinho da mamãe...

ATIVIDADES:

1. Quem é o autor deste texto?

2. Quais animais são citados no texto?

3. Porque você acha que o personagem não tem medo de nada?


<https://2.bp.blogspot.com/-BSXeMXeEd-M/XGBVUrzG4zI/AAAAAAAAAEyl/Mo4E7OVDePgsiqDWkeJZnu0PSoXB8lawACLcBGAs/s1600/atividade-de-interpreta%25C3%25A7%25C3%25A3o-de-texto-escolar.png>

E.M "ZENI SOARES RAMALHO"

MATEMÁTICA

DIVISÃO

DISTRIBUA IGUALMENTE E RESPONDA:



SÃO _____ MAÇÃS DIVIDIDAS EM _____ CESTAS

CADA CESTA FICOU COM _____ MAÇÃS

_____ : _____ = _____



SÃO _____ BALAS DIVIDIDAS COM _____ CRIANÇAS.

CADA CRIANÇA FICOU COM _____ BALAS

_____ : _____ = _____

E.M "ZENI SOARES RAMALHO"

MATEMÁTICA

DIVISÃO


DESENHE E COMPLETE:

A) Reparta em partes iguais 12 peixes em 4 aquários.




Em cada aquário haverá ____ peixes.

B) Reparta em partes iguais 25 balões entre 5 crianças.



Cada criança receberá ____ balões.

C) Reparta em partes iguais 20 cerejas em 4 tortas.



Em cada torta haverá ____ cerejas.

E.M "ZENI SOARES RAMALHO"

GEOGRAFIA

◆ FAÇA UM X NOS OBJETOS QUE POLUEM O RIO ONDE CHICO GOSTARIA DE TOMAR BANHO:



Agora, escreva os objetos que poluem o rio:

<http://4.bp.blogspot.com/-hots5vFdRvE/UmO-rFu6gml/AAAAAAAAAGDY/e3nEC6jktWI/s1600/Atividades+meio+ambiente+3+ano+4.jpg>

E.M "ZENI SOARES RAMALHO"

LÍNGUA PORTUGUESA



CHORÃO, O CACHORRO MEDROSO

1) Complete a história com as palavras do quadro:

chácara	Chico
chiqueiro	sanduíche
Chorão	chora
malcheiroso	



_____ é o nome do cachorro de _____.

Ele _____ muito porque tem medo de tudo.

Tem medo do rato Chicote e da vaca malhada da _____.

Se Chico não dá um pedaço do _____ a Chorão, ele chora.

Um dia Chorão caiu na lama do _____.

Chuvisco e Bolacha, seus amigos, riram muito de Chorão porque ele ficou _____!

Coitado do _____! Ele é mesmo muito chorão!

Graça Batituci

2) Qual é o nome do cachorro de Chico?



<https://lereaprender.com.br/wp-content/uploads/2016/11/interpretacao-3ano-chorao-o-cachorro-medroso.jpg>

HISTÓRIA

A agricultura

O trabalho de preparar a terra, plantar e colher chama-se agricultura.

Os principais produtos agrícolas do Brasil são:

arroz - mandioca - soja
batata - café - feijão
laranja - tomate - milho
cana-de-açúcar.

As pessoas que trabalham na terra chamam-se?

❖ Descubra e escreva:

 res to cul gri a <input style="width: 100%; height: 20px;" type="text"/>	 res do vra la <input style="width: 100%; height: 20px;" type="text"/>	 ses ne po cam <input style="width: 100%; height: 20px;" type="text"/>
---	--	---


A agricultura pode ser:

- **De subsistência:**(minifúndios), serve para o consumo da família. Pratica-se a policultura.
- **Agricultura comercial**, comumente plantam um só tipo de produto (monocultura) em latifúndios. Os produtos são vendidos para as indústrias ou exportados.

E.M "ZENI SOARES RAMALHO"


MATEMÁTICA

1) BINHO, GABY E JULINHO GANHARAM 12 BALÕES PARA DISTRIBUIR IGUALMENTE ENTRE SI. COM QUANTOS BALÕES CADA UM DELES FICARÁ?



CADA CRIANÇA FICARÁ COM ____ BALÕES

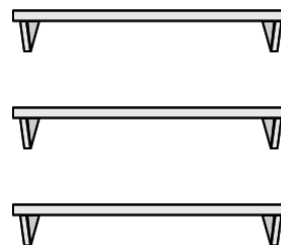
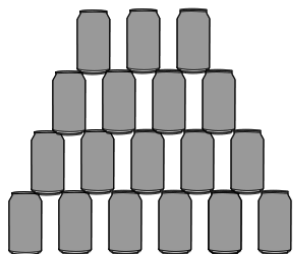
2) DESENHE TODAS AS FLORES DO CANTEIRO NOS VASOS CONFORME A ORIENTAÇÃO:



CADA VASO DEVERÁ FICAR COM A MESMA QUANTIDADE DE FLORES



3) BINHO TEM UMA COLEÇÃO DE LATINHAS, QUE ESTÃO EXPOSTAS EM 3 PRATELEIRAS. AJUDE-O DISTRIBUIR AS LATINHAS IGUALMENTE ENTRE AS 3 PRATELEIRAS. DESENHE A SOLUÇÃO.



E.M "ZENI SOARES RAMALHO"

CIÊNCIAS

ORGÃOS DOS SENTIDOS



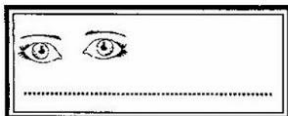
Cuidados com os órgãos dos sentidos

- * **Olhos:** Usar óculos quando o médico receitar; evitar esfregar os olhos com as mãos; não usar óculos de outras pessoas; não ler em local mal iluminado.
- * **Língua:** Escová-la sempre que for escovar os dentes. Cuide bem dos dentes usando escova, pasta e fio dental. Os dentes são importantes para a alimentação, para a fala e aparência das pessoas.
- * **Pele:** Mantenha o corpo, os pés e as mãos sempre limpos.
- * **Ouvidos:** Limpá-los somente com cotonete. Não usar grampos nem palito.
- * **Nariz:** Usar lenço de papel para limpá-lo. Evite colocar o dedo no nariz.



Atenção: Cuidado!
Não introduza grãos,
botões, ou
objetos no ouvido
ou no nariz.

► Escreva o nome de cada órgão dos sentidos:



<http://1.bp.blogspot.com/->

[dxL7yV54JLc/Ut0Uh72DPeI/AAAAAAAAAC18/a6jpZsQvnLk/s1600/%25C3%25B3rg%25C3%25A3os+do+sentido+%25283%2529.jpg](http://1.bp.blogspot.com/-dxL7yV54JLc/Ut0Uh72DPeI/AAAAAAAAAC18/a6jpZsQvnLk/s1600/%25C3%25B3rg%25C3%25A3os+do+sentido+%25283%2529.jpg)

E.M "ZENI SOARES RAMALHO"

LÍNGUA PORTUGUESA

PRONOMES PESSOAIS




A menina

ela




O menino

ele



As gatinhas

elas



Os coelhos

eles

Ela, ele, elas e eles são **pronomes**.
Os pronomes substituem os nomes.



São pronomes: Eu, tu, ele, nós, vós, eles

Reescreva as frases substituindo as palavras destacadas pelos pronomes pessoais **elas**, **ela**, **eles**, **nós**.

- Ana cantou uma bela música.
.....
- Os meninos foram assistir o filme.
.....
- Eu e meu amigo fomos jogar bola.
.....
- Miriam e Paula adoram brincar.
.....



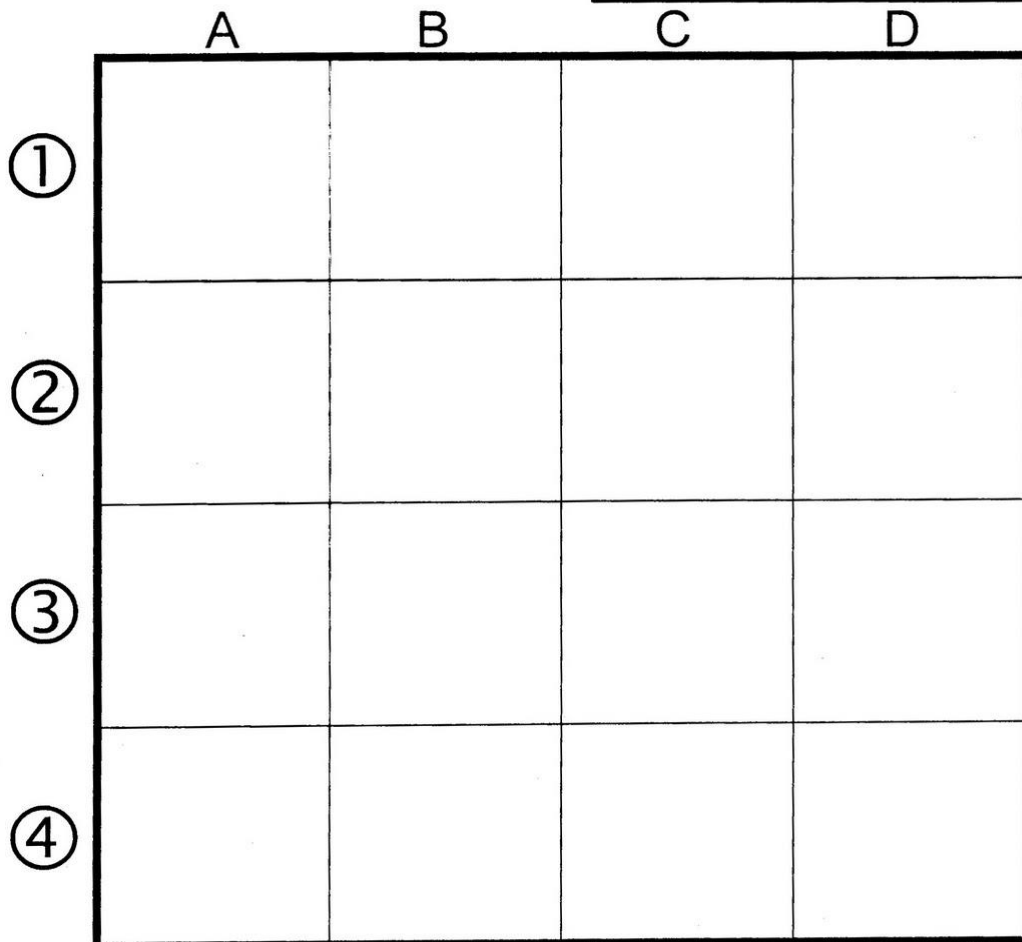
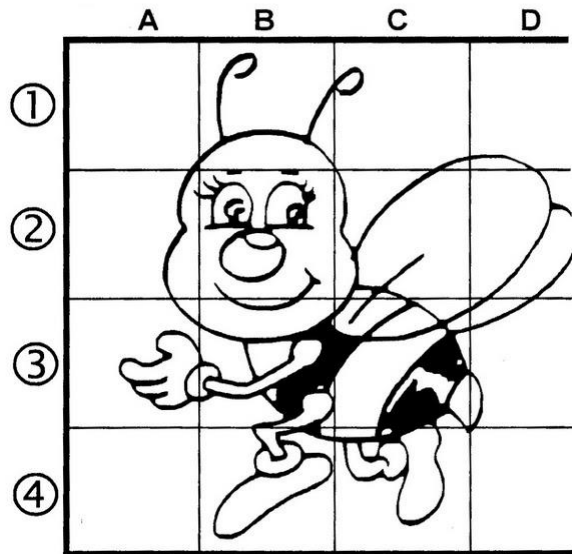

<https://i.pinimg.com/736x/ec/46/e6/ec46e621cb104969859d9b64e609f9f1.jpg>

<http://1.bp.blogspot.com/>

[5go2Elpl95M/UioT3Qxj2al/AAAAAAACBQ/3X_5voYmD0A/s1600/Digitalizar0076.jpg](http://1.bp.blogspot.com/5go2Elpl95M/UioT3Qxj2al/AAAAAAACBQ/3X_5voYmD0A/s1600/Digitalizar0076.jpg)

Desenhe!

Amplie o desenho do quadrinho menor para o quadro maior.



E.M "ZENI SOARES RAMALHO"

LÍNGUA PORTUGUESA

VERBOS:PASSADO E FUTURO



◆◆◆◆◆ Complete as frases abaixo com os verbos no passado e no futuro.

a) Ontem, os turistas _____ as praias, amanhã, eles _____ o shopping. (visitar)

b) Ontem, os camponeses _____ o trigo, amanhã _____ a soja. (colher)

c) Os funcionários da fábrica _____ ontem e agora só _____ novamente no próximo mês. (receber)

d) As crianças _____ ontem no clube e amanhã _____ na praia. (nadar)

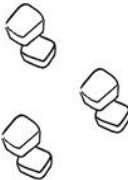


<https://4.bp.blogspot.com/>




[DyWot3Wk5Rw/VSZ7D3fYX_I/AAAAAAAAAAbc/qWBRoX5ly48/s1600/Atividades%2Bde%2Bportugu%C3%AAs%2B3%2Bano%2Bfundamental%2Bpara%2Bimprimir%2B5.jpg](https://4.bp.blogspot.com/-DyWot3Wk5Rw/VSZ7D3fYX_I/AAAAAAAAAAbc/qWBRoX5ly48/s1600/Atividades%2Bde%2Bportugu%C3%AAs%2B3%2Bano%2Bfundamental%2Bpara%2Bimprimir%2B5.jpg)

Para responder!



1. Resolva corretamente as divisões.

 \div  = 
6 cubos de gelo copos

 \div  = 
 pirulitos crianças

 \div  = 
 cadernos 1 mochila

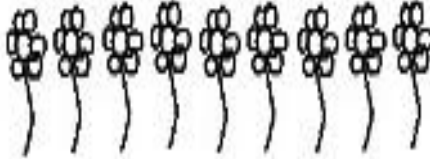




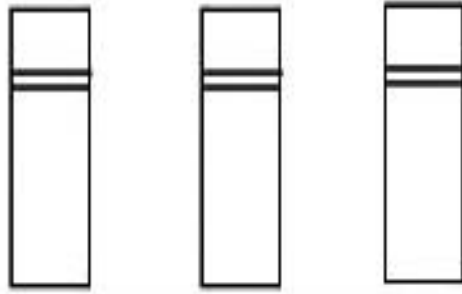




E.M "ZENI SOARES RAMALHO"

MATEMÁTICA

DIVISÃO

Represente estas divisões corretamente:

$9 \div 3 = \underline{\quad}$  	$8 \div 2 = \underline{\quad}$  
$15 \div 3 = \underline{\quad}$  	$12 \div 2 = \underline{\quad}$  

<http://1.bp.blogspot.com/>

2f_7aNO6ypI/VcjV_rBURRI/AAAAAAGbo/GETTZAQpb94/s1600/www.misturadealegria.blogspot.com.br-%2Bmatem%25C3%25A1tica-divis%25C3%25A3o-imprimir.jpg


E.M "ZENI SOARES RAMALHO"

GEOGRAFIA

POLUIÇÃO

1) Observe os desenhos abaixo e identifique o tipo de poluição que está ocorrendo no meio ambiente.

1 Poluição das águas 2 Poluição do ar 3 Poluição do solo



E.M “ZENI SOARES RAMALHO”

LÍNGUA PORTUGUESA

VERBOS

1) COMPLETE CORRETAMENTE AS FRASES ESCOLHENDO UM DOS VERBOS QUE ESTÃO ENTRE OS PARÊNTESES:

- a) As meninas _____ no jardim. (brinca – brincam)
- b) Eu _____ com meus pais. (moro – moram)
- c) Tu _____ muitas mensagens. (recebeste – recebeu)
- d) Ele _____ para o nordeste amanhã. (viajará – viajara)
- e) Nós _____ agora mesmo. (chegamos – cheguei)
- f) Eles _____ com os amigos ontem. (almoçarão – almoçaram)
- g) Maria e Paula _____ de caminhar na praia.
(gostam – gostas)
- h) As crianças _____ comer pizza. (queres – querem)
- g) Vocês _____ os parabéns ao Carlos? (deu – deram)
- h) Cristina _____ um lindo desenho. (fiz – fez)
- i) Você e Pedro _____ atrasados. (estão – estamos)

E.M "ZENI SOARES RAMALHO"

HISTÓRIA

Pecuária















A pecuária é o trabalho de criar e cuidar do gado.

Existem na pecuária do Brasil a criação de gado bovino (bois), suíno (porcos), ovinos (carneiros), caprino (cabras), eqüino (cavalos), asininos (jumentos), bufalinos (búfalos) e muar (mulas).

A criação de bois é o maior do Brasil e vem apresentando crescimento nos últimos anos fornecendo carne, leite e couro.

Recortando e Colando

♦ Recorte e cole os produtos no quadro certo:

Agricultura	Pecuária		
 ALGODÃO	 CENOURA	 COUVE	 FEIJÃO
 LÃ	 COURO	 OSSO	 LINGÜIÇA
 LEITE EM PÓ	 CARNE	 LARANJA	 MANTEIGA

http://4.bp.blogspot.com/_4LPWKp2Iosk/SaSFAGW-sBI/AAAAAAAAOhY/s7xkf8BBCFw/s1600/21.jpg

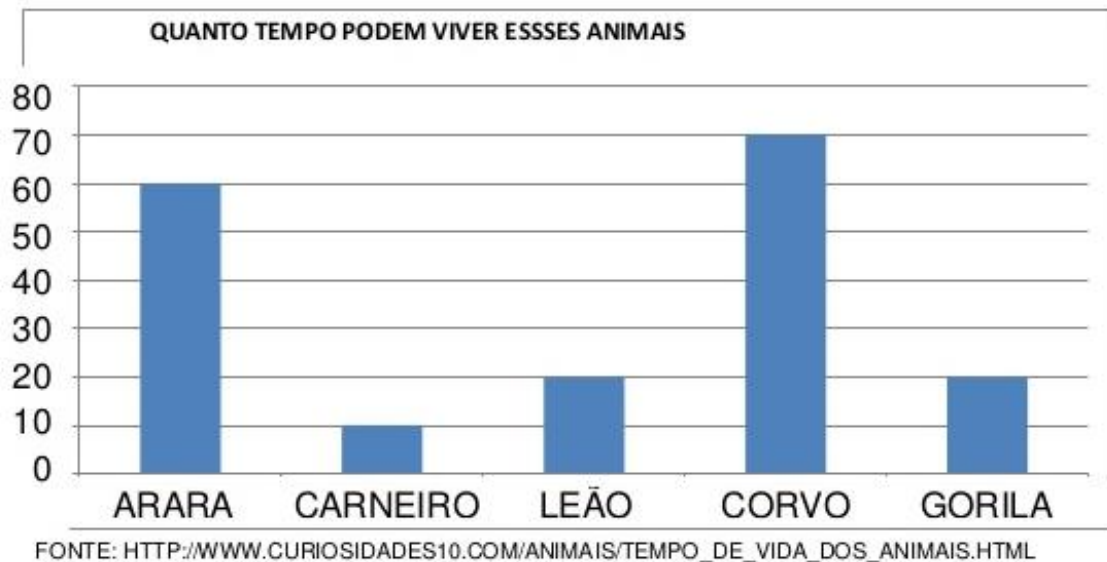
<https://i.pinimg.com/originals/f8/ec/3f/f8ec3f30d7ffe751826b8c6f31888d48.gif>

E.M "ZENI SOARES RAMALHO"

MATEMÁTICA

1

VEJA O GRÁFICO QUE A PROFESSORA DE MARIANI APRESENTOU A TURMA:



AGORA, RESPONDA:

a) QUAL ANIMAL VIVE MAIS TEMPO? _____

b) QUAL O ANIMAL QUE VIVE MENOS TEMPO?

c) O GORILA VIVE QUANTOS ANOS? _____

d) QUANTOS ANOS O CORVO VIVE MAIS QUE O LEÃO? _____

<http://2.bp.blogspot.com/->

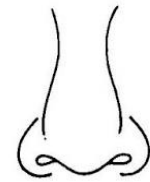
[QDvprkCn_NM/VdH_eubJuSI/AAAAAAAAAEzE/wJkQWtXg2bo/s1600/apostila-matematica-em-pdf-26-638.jpg](http://2.bp.blogspot.com/-QDvprkCn_NM/VdH_eubJuSI/AAAAAAAAAEzE/wJkQWtXg2bo/s1600/apostila-matematica-em-pdf-26-638.jpg)

E.M "ZENI SOARES RAMALHO"


CIÊNCIAS

OS ORGÃOS DOS SENTIDOS


Ligue a parte do corpo que as crianças usaram para:



NARIZ



OLHO



LÍNGUA



MÃO






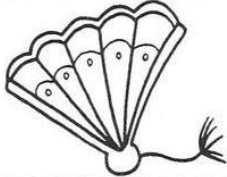



OUVIDO

E.M "ZENI SOARES RAMALHO"

LÍNGUA PORTUGUESA

VAMOS COMPLETAR AS PALAVRAS?

 COMPLETE OS QUADRINHOS COM AS SÍLABAS **QUA, QUE, QUI**. DEPOIS, ESCREVA A PALAVRA AO LADO.

<table border="1"><tr><td>TAN</td><td></td></tr></table>	TAN			
TAN					
<table border="1"><tr><td>BI</td><td></td><td>NI</td></tr></table>	BI		NI	
BI		NI			
<table border="1"><tr><td>LE</td><td></td></tr></table>	LE			
LE					
<table border="1"><tr><td></td><td>A</td><td>BO</td></tr></table>		A	BO	
	A	BO			
<table border="1"><tr><td></td><td>TRO</td></tr></table>		TRO		
	TRO				
<table border="1"><tr><td>A</td><td></td><td>RIO</td></tr></table>	A		RIO	
A		RIO			


<https://i.pinimg.com/originals/13/da/fc/13dafcc1a8406ca5b1779eaea70668ee.jpg>

E.M "ZENI SOARES RAMALHO"

ARTES

1) PINTE O DESENHO DE ACORDO COM A LEGENDA ABAIXO:

1	2	3	4
AZUL	VERMELHO	VERDE	AMARELO



<https://i.pinimg.com/originals/81/39/a1/8139a1e99a5f08d944209ea6ccf76911.jpg>


E.M "ZENI SOARES RAMALHO"

LÍNGUA PORTUGUESA

VAMOS COMPLETAR O QUADRO?

1 LEIA AS PALAVRAS ABAIXO:

QUADRO - QUATI - QUILO - QUEIJO
CAQUI - QUEROSENE - MACAQUINHO
QUARENTA - AQUARELA - QUIBE
PIQUENIQUE - QUINTO - PERIQUITO
PEQUENO - QUENTE



2 AGORA, ESCREVA NO QUADRO ABAIXO AS PALAVRAS, OBSERVANDO AS SÍLABAS INDICADAS.

QUA	QUE	QUI
.....
.....
.....
.....
.....

https://2.bp.blogspot.com/-KqYD8Uvn_k/VudRyPGbmzI/AAAAAAAAAJrE/J5F5NZjIP6QIF02vYeEsZWSs_gVwp3lQ/s1600/atividades-de-ortografia-qua-que-qui.jpg

E.M "ZENI SOARES RAMALHO"

GEOGRAFIA


POLUIÇÃO AMBIENTAL

Quando as alterações que dificultam a vida ocorrem no ar, falamos em poluição do ar ou poluição atmosférica; quando ocorrem na água, poluição da água, e, quando no solo, poluição do solo. A poluição é sempre ambiental, pois acaba sempre atingindo o ecossistema. Por isso, precisamos sempre preservar a natureza para garantir a continuidade da vida.



Relacione os elementos da coluna da esquerda com os nomes da coluna da direita:

a.



1. POLUIÇÃO SONORA

b.



2. POLUIÇÃO VISUAL

c.



3. POLUIÇÃO DO SOLO

d.



4. POLUIÇÃO DO AR

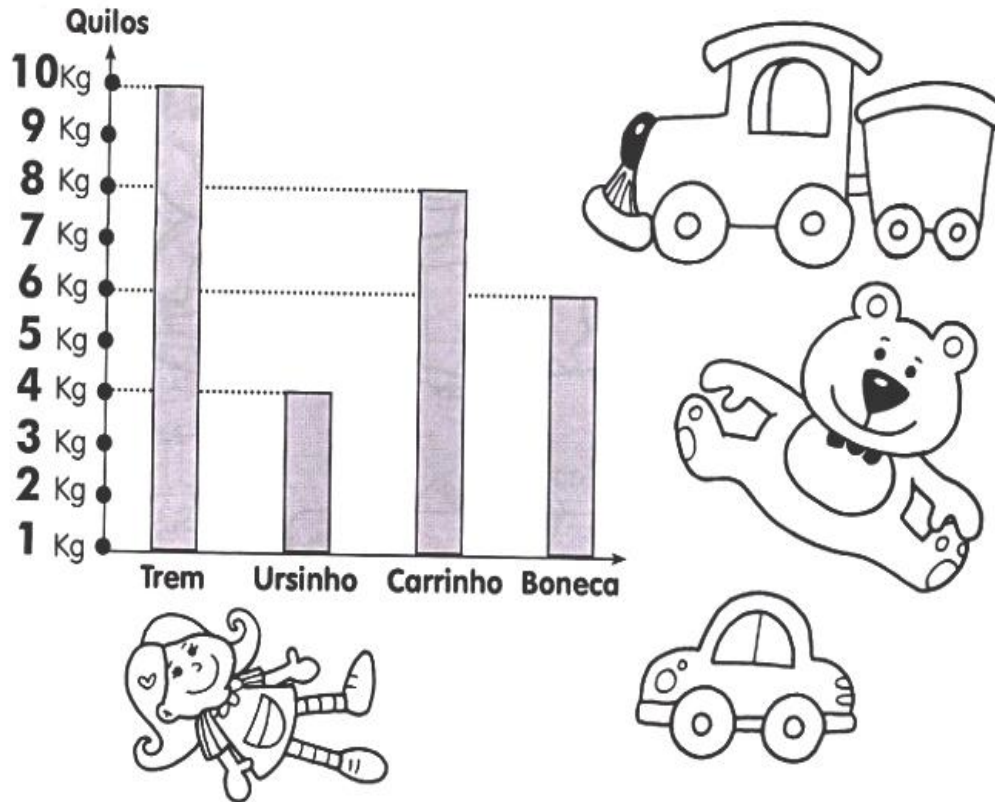
<https://i.pinimg.com/originals/82/82/12/828212df714ec7db3d530103985aa694.png>

<https://www.smartkids.com.br/content/puzzles/images/299/original/poluicao-relacione.png>

E.M "ZENI SOARES RAMALHO"

MATEMÁTICA

① Veja, no gráfico abaixo, quanto pesa cada brinquedo e, depois, responda:



- A) Qual é o brinquedo mais pesado?
- B) Quantos quilos ele pesa? quilos.
- C) Quantos quilos pesam o carrinho e a boneca juntos? quilos
- D) Qual a diferença de peso entre a boneca e o ursinho? quilos
- E) Escreva o nome de três brinquedos que, juntos, pesam 20 quilos.

.....

E.M "ZENI SOARES RAMALHO"

CIÊNCIAS

OS SENTIDOS

1. QUAL DESTES SENTIDOS VOCÊ USA QUANDO:

✓AUDIÇÃO ✓OLFATO ✓PALADAR ✓TATO ✓VISÃO

A) OUVE UMA MÚSICA	
B) VÊ A LUA NO CÉU	
C) SENTE O PERFUME DAS FLORES	
D) SABOREIA UM COPO DE SUCO	
E) TOCA EM UM OBJETO ÁSPERO	
F) COME UM PEDAÇO DE TORTA	
G) PASSA CREME NAS MÃOS	
H) OLHA A PAISAGEM	
I) SENTE A ÁGUA SOBRE SUA PELE	
J) OUVE O CANTO DOS PÁSSAROS	

2. LIGUE O NOME DO ÓRGÃO AO SENTIDO CORRESPONDENTE.

ORELHA

NARIZ

PELE

OLHOS

LÍNGUA

PALADAR

VISÃO

AUDIÇÃO

OLFATO

TATO




E.M "ZENI SOARES RAMALHO"

LÍNGUA PORTUGUESA

Ortografia... ch lh nh

1-Circule nas palavras abaixo, as sílabas com: ch, lh e nh.



cachorro



aranha



chapéu



ovelha



galinha



joaninha



abelha



chave



ninho



ilha

2-Classifique as palavras acima de acordo com a sílaba em destaque:

ch	lh	nh

[https://1.bp.blogspot.com/-](https://1.bp.blogspot.com/-7wxKm8Zsf3U/XbcZoZw8zZI/AAAAAAAAAmmk/vlg8hgHww7EhcgN2bhNmJpeR-666E8UwgCNcBGAsYHQ/s1600/ortografia.png)

[7wxKm8Zsf3U/XbcZoZw8zZI/AAAAAAAAAmmk/vlg8hgHww7EhcgN2bhNmJpeR-](https://1.bp.blogspot.com/-7wxKm8Zsf3U/XbcZoZw8zZI/AAAAAAAAAmmk/vlg8hgHww7EhcgN2bhNmJpeR-666E8UwgCNcBGAsYHQ/s1600/ortografia.png)

[666E8UwgCNcBGAsYHQ/s1600/ortografia.png](https://1.bp.blogspot.com/-7wxKm8Zsf3U/XbcZoZw8zZI/AAAAAAAAAmmk/vlg8hgHww7EhcgN2bhNmJpeR-666E8UwgCNcBGAsYHQ/s1600/ortografia.png)

E.M "ZENI SOARES RAMALHO"

ARTES

O que está desenhado?

Para descobrir, pinte de:

-  as partes que têm 1
-  as partes que têm 2
-  as partes que têm 3
-  as partes que têm 4
-  as partes que têm 5

O que é, o que é?
Tem pernas, mas não caminha.
Tem braços, mas não abraça.

