



Prefeitura da Estância Turística de
IBIÚNA
TRANSFORMAÇÃO RESPONSÁVEL. CUIDANDO DE PESSOAS.



E.M “ZENI SOARES RAMALHO

Atividades para estudo em Casa 4º ano B

13ª Apostila Período referente: 18\10 a 05\11\2.021

Dia de entrega da apostila: 08 de novembro de 2.021

Aluno: _____

Professora: Márcia Corrêa Cardoso.



Se estiver com outras crianças, fique
a pelo menos dois braços estendidos
de distância

Combinados das lições

- Lavar as mãos para fazer as lições;
- Escolher um lugar tranquilo e adequado para realizar as atividades;
- Ler com atenção;
- Seguir o roteiro das datas e fazer 2 atividades por dia, evitando assim o acúmulo;
- Fazer as tarefas com capricho e dedicação;
- Não amassar, não sujar e rasgar as atividades;
- Assistir aos links enviados pela professora no grupo de whatsapp;
- Se tiver dúvidas perguntar para a professora.

Lembre-se: A atividade deve ser feita com a letra do aluno.

Lembre-se:

Você é capaz!!!

Eu acredito em você!!!

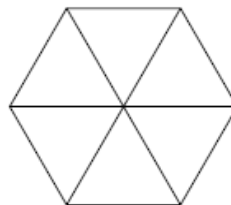
Após responder as questões de Matemática, preencha esse gabarito.

MATEMÁTICA

01	(A)	(B)	(C)	(D)
02	(A)	(B)	(C)	(D)
03	(A)	(B)	(C)	(D)
04	(A)	(B)	(C)	(D)
05	(A)	(B)	(C)	(D)
06	(A)	(B)	(C)	(D)
07	(A)	(B)	(C)	(D)
08	(A)	(B)	(C)	(D)
09	(A)	(B)	(C)	(D)
10	(A)	(B)	(C)	(D)
11	(A)	(B)	(C)	(D)
12	(A)	(B)	(C)	(D)

H11 **Questão 01** _____

. Veja o polígono abaixo.

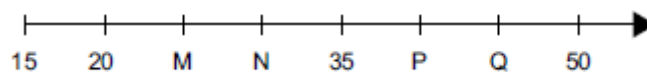


Esse polígono é formado por seis

- A) triângulos.
- B) retângulos.
- C) quadrados.
- D) losangos.

H4 **Questão 01** _____

. Veja a reta numérica abaixo.



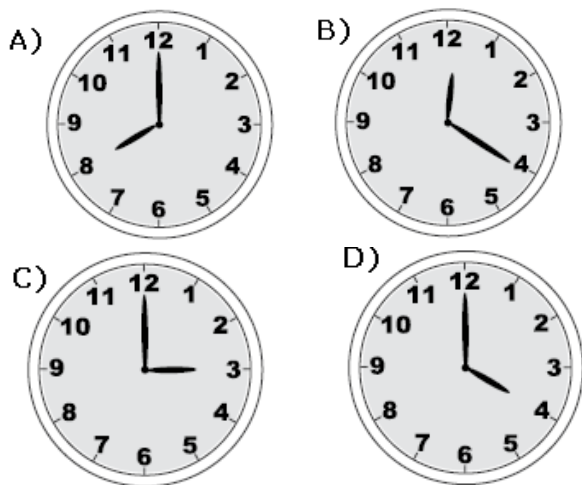
Os pontos M, N, P e Q representam quais números nessa reta?

- A) 21, 22, 36 e 37.
- B) 30, 40, 45 e 50.
- C) 25, 30, 40 e 45.
- D) 25, 35, 40 e 45.

H15 **Questão 03**

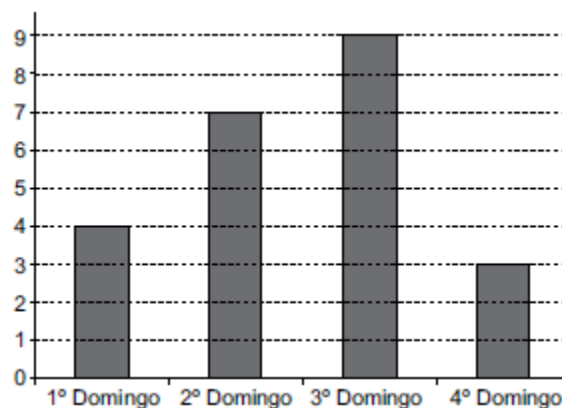
. A mãe de Rafaela está fazendo um bolo. Ela disse para a sua filha que o bolo vai ficar pronto às 4 horas da tarde.

O relógio que marca a hora que o bolo vai ficar pronto é



H18 **Questão 04**

. O gráfico abaixo mostra a quantidade de crianças que visitaram o zoológico nos quatro domingos do mês de julho.

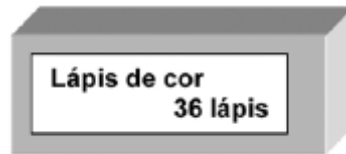


Quantas crianças visitaram o zoológico no segundo domingo do mês de julho?

- A) 2 B) 4 C) 7 D) 9

H6 **Questão 05**

Veja abaixo a quantidade de lápis de cor que há em uma caixa.



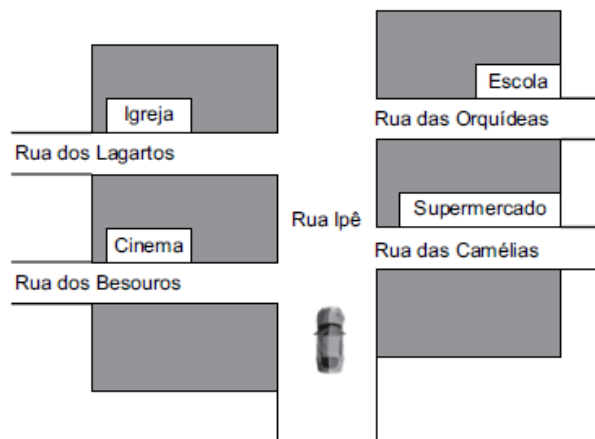
Nessa caixa, 14 lápis são vermelhos e os outros são azuis.

Quantos são os lápis azuis?

- A) 22 B) 23 C) 49 D) 50

H17 **Questão 06**

(Veja no mapa abaixo o carro que está indo pela Rua Ipê. Esse carro vai virar a segunda rua à direita.

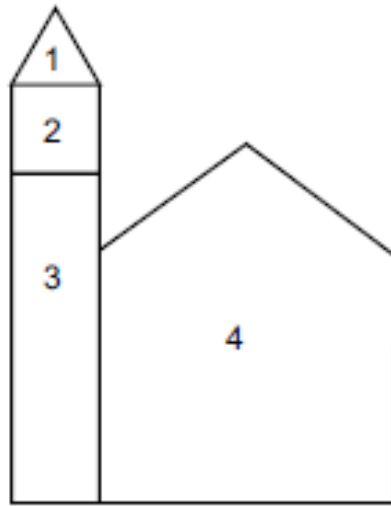


Esse carro chegará na rua

- A) das Orquídeas.
B) dos Lagartos.
C) das Camélias.
D) dos Besouros.

H11 **Questão 07**

. Veja esta figura formada por um pentágono, um quadrado, um retângulo e um triângulo.



Os itens nela numerados correspondem a

- A) (1) triângulo, (2) pentágono, (3) quadrado e (4) retângulo.
- B) (1) triângulo, (2) pentágono, (3) retângulo e (4) quadrado.
- C) (1) triângulo, (2) quadrado, (3) retângulo e (4) pentágono.
- D) (1) triângulo, (2) retângulo, (3) quadrado e (4) pentágono.

H2 **Questão 08**

Carolina digitou seiscentos e nove em uma calculadora.

Qual número apareceu no visor dessa calculadora?

- A) 69
- B) 96
- C) 609
- D) 690

H14 **Questão 09**

. Veja abaixo a nota que Sofia tinha. Ela trocou essa nota por duas notas de menor valor.



Quais notas Sofia recebeu nessa troca?



H9 **Questão 10**

. Em uma garagem, estão estacionados carros em 4 fileiras. Em cada fileira, há 8 carros.

Quantos carros há nessa garagem?

- A) 12
- B) 16
- C) 24
- D) 32

H9 **Questão 11**

. Marisa multiplicou 12 por 3.

Qual é o resultado dessa operação?

- A) 15
- B) 30
- C) 35
- D) 36

(Carlos está juntando dinheiro para comprar uma bicicleta. Ele já tinha 156 reais e ganhou 32 reais de sua madrinha. Agora, Carlos tem

- A) 32 reais.
- B) 124 reais.
- C) 156 reais.
- D) 188 reais.

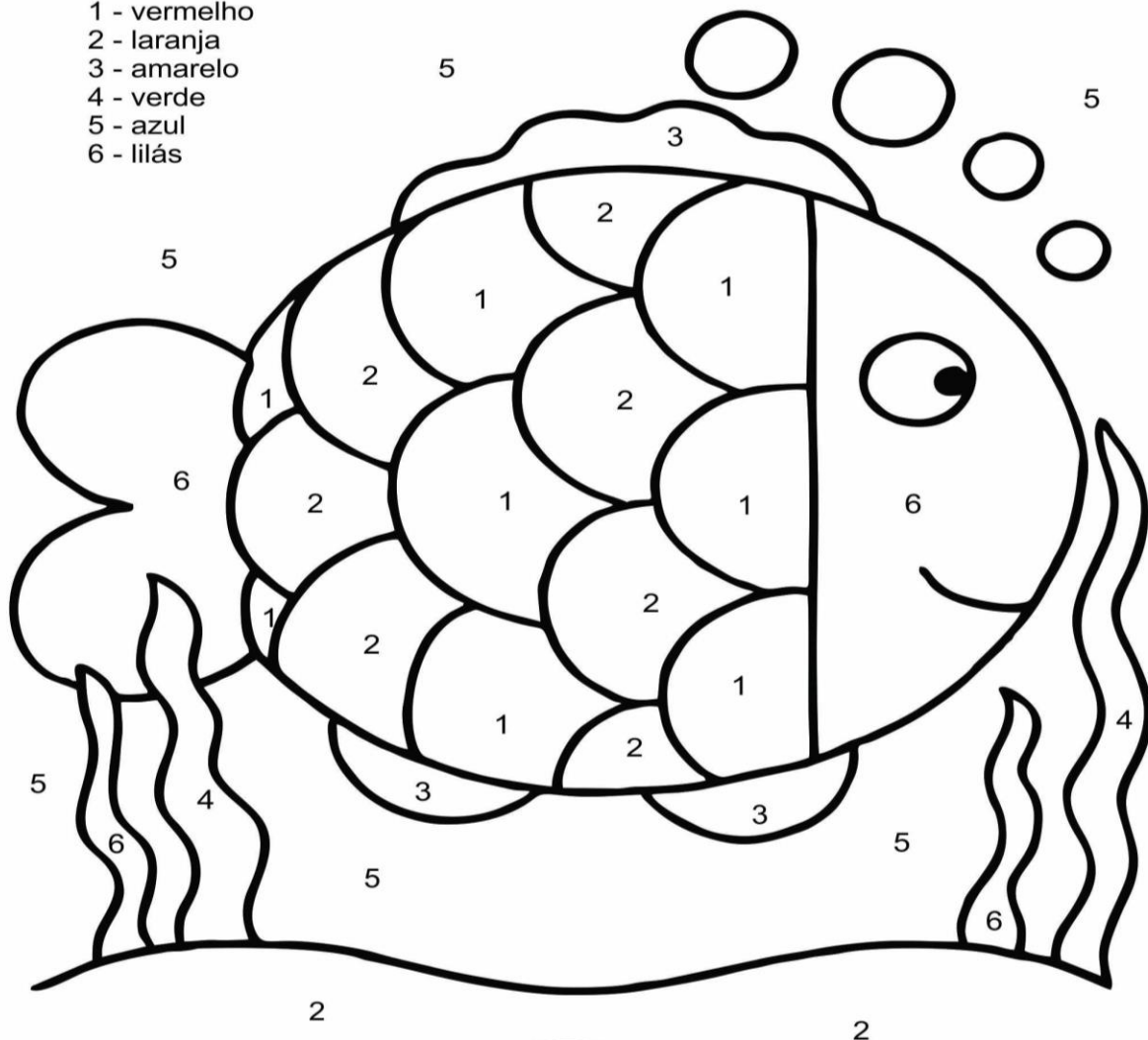
<https://profwarles.blogspot.com/2016/03/3-ano-ensino-fundamental-simulados.html>

Artes

Atividade de Artes

Pinte de acordo com os números:

- 1 - vermelho
- 2 - laranja
- 3 - amarelo
- 4 - verde
- 5 - azul
- 6 - lilás



<https://www.bma.art.br/wp-content/uploads/2019/01/atividade-1-ano-de-artes-1.jpg>

Resolva as questões de Língua Portuguesa e preencha o gabarito.

LÍNGUA PORTUGUESA

01	(A)	(B)	(C)	(D)
02	(A)	(B)	(C)	(D)
03	(A)	(B)	(C)	(D)
04	(A)	(B)	(C)	(D)
05	(A)	(B)	(C)	(D)
06	(A)	(B)	(C)	(D)
07	(A)	(B)	(C)	(D)
08	(A)	(B)	(C)	(D)
09	(A)	(B)	(C)	(D)
10	(A)	(B)	(C)	(D)
11	(A)	(B)	(C)	(D)
12	(A)	(B)	(C)	(D)
13	(A)	(B)	(C)	(D)
14	(A)	(B)	(C)	(D)
15	(A)	(B)	(C)	(D)

H4 Questão 01

Esta notícia apareceu em uma revista. Leia.

Cachorro ciclista

Cachorro também sabe pedalar.

No Japão, o dálmata Momotar vem encantando adultos e crianças com suas habilidades em cima de uma bicicleta.

Momotar tem três anos e seu dono garante que o animal aprendeu a pedalar em apenas seis semanas.

O dálmata ciclista virou até estrela de televisão, participando, constantemente de programas.

Fonte: Revista Zã, ano 1, n. 9abril 1997, p.9.

Esta notícia é sobre um cachorro que

- (A) late para as pessoas.
- (B) sabe chupar picolé.
- (C) pedala bicicleta.
- (D) vira lata de lixo.

oglobo.com.br

O GLOBO

SEXTA-FEIRA, 10 DE FEVEREIRO DE 2011 • R\$ 1,500 • Nº 27.061

Lula e FH contabilizam obras dos outros

Comparação do PAC com o Avança Brasil mostra continuidade de projetos de infraestrutura e programas sociais

• Em meio ao debate sobre o futuro do Brasil, o governo de Lula e o de Dilma Rousseff contabilizam as obras e programas sociais que serão realizados nos próximos meses. O governo de Lula realizou mais de 10 mil obras e programas sociais em todo o país durante seu mandato. O governo de Dilma Rousseff realizou mais de 10 mil obras e programas sociais em todo o país durante seu mandato. O governo de Dilma Rousseff realizou mais de 10 mil obras e programas sociais em todo o país durante seu mandato.

O palanque aceita tudo

Lula inaugura comunidade sem água

• Se a administração de Lula e Dilma Rousseff não quiser assumir o legado de Lula, o palanque de Dilma Rousseff não poderá aceitar tudo. O palanque de Dilma Rousseff não poderá aceitar tudo. O palanque de Dilma Rousseff não poderá aceitar tudo.



Figura 2

Brasil critica a adoção de sanções ao Irã

• O Brasil criticou a adoção de sanções ao Irã. O Brasil criticou a adoção de sanções ao Irã. O Brasil criticou a adoção de sanções ao Irã.

O ano da moedinha

Lucro de bancos e desemprego na indústria batem recordes

Eleitos da crise mundial abalam área industrial, mas não o setor financeiro

• Apesar de estar globalmente em recessão, o lucro de bancos e o desemprego na indústria batem recordes. O lucro de bancos e o desemprego na indústria batem recordes. O lucro de bancos e o desemprego na indústria batem recordes.




Figura 4

Este texto serve para

- (A) divulgar notícias do dia.
- (B) receitar um remédio.
- (C) preparar uma pizza.
- (D) cantar uma música.

**MEUS OMBROS
SUPORTAM...
UMA MOCHILA!**

Quando toca o sinal da escola, saem pelas ruas alunos e mais alunos, todos com mochilas enormes e pesadas. Parecem tartarugas carregando a casa inteira nas costas.



No trecho “Parecem tartarugas **carregando a casa inteira nas costas**”, a expressão destacada tem o sentido de

- (A) suportar uma mochila grande e pesada.
- (B) levar o material escolar para a escola.
- (C) pendurar uma mochila nos ombros.
- (D) colocar a tartaruga nas costas.

H6 **Questão 04**

Na volta às aulas, a mãe de Gabriel e Luciana, Maria de Fátima, precisou fazer compras.

Veja a nota do que comprou.

LIVRARIA CASA DO CONHECIMENTO

Rua da Cultura, 765
Copacabana
Rio de Janeiro - RJ
Tel: 2537 56 77
CNPJ:
88 772 2455/0055-88

Nota Fiscal de Venda ao Consumidor 1ª via – série < D – 1 >
Data: 14 de março de 2010.
Nome: Maria de Fátima dos Santos **Nº 78999**
End: Rua da Felicidade, 435

Quant.	Descrição	Valor Unitário	Valor Total
01	Livro de Literatura Infantil	18,00	18,00
01	Livro de Literatura Infantil	16,00	16,00
02	Canetas Azuis	0,90	1,80
Não vale como recibo		Total R\$	35,80

Fonte: adaptação

Na leitura acima, você observa que Maria de Fátima, a mãe de Gabriel e Luciana, fez compras na

- (A) farmácia.
- (B) padaria.
- (C) livraria.
- (D) feira.

H7 **Questão 05**

A escola de Gabriel e Luciana continua fazendo este ano a Campanha contra a Dengue. Este cartaz foi colocado na sala de aula.

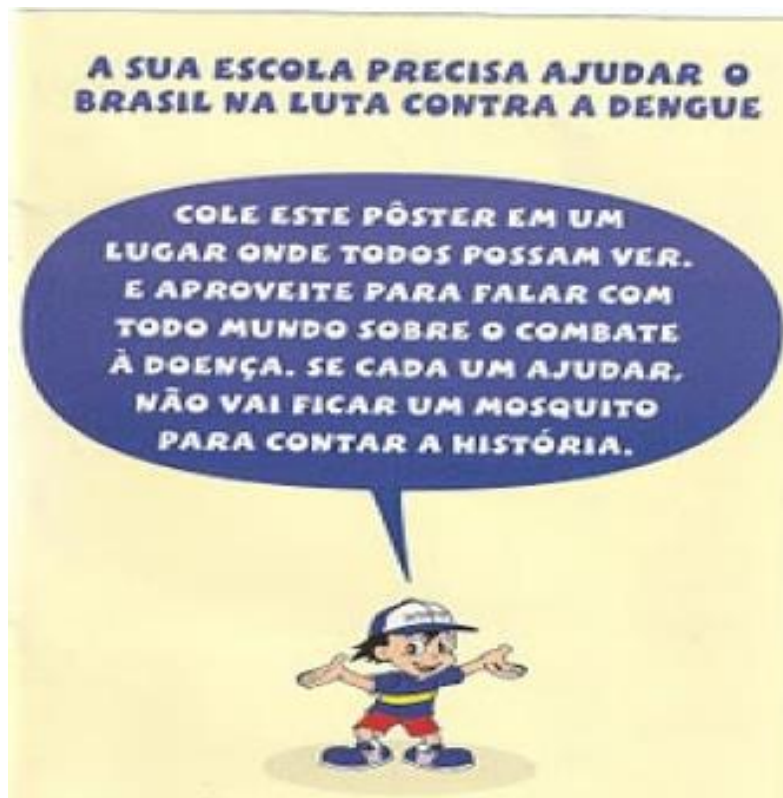


O cartaz convida as pessoas a se

- (A) prevenirem contra a dengue.
- (B) fantasiarem de mosquito.
- (C) cuidarem no carnaval.
- (D) afastarem do inseto.

H7 **Questão 06**

Este outro cartaz da Campanha contra a Dengue foi colocado no pátio da escola.



Fonte: <http://ensinareaprender-madoca.blogspot.com/2008/04/cartazes-sobre-dengue.ht>

O balão do cartaz indica que o personagem

- (A) convoca os estudantes para contarem histórias sobre a dengue.
- (B) alerta para a necessidade de cuidar da água parada.
- (C) sugere como tratar as pessoas com dengue.
- (D) solicita ajuda para o combate à dengue.

H7 **Questão 07**

Veja este outro cartaz!



FONTE: <http://proportoseguro.blogspot.com/search/label/Dengue>

Ao olhar a segunda imagem do cartaz, nós, leitores, entendemos que o personagem está

- (A) zangado.
- (B) cansado.
- (C) doente.
- (D) triste.

H3 **Questão 08**

Hoje a professora do 3º ano trouxe para a turma uma Marchinha de Carnaval.

Cidade Maravilhosa

Composição: André Filho

Cidade maravilhosa
Cheia de encantos mil
Cidade maravilhosa
Coração do meu Brasil
Cidade maravilhosa
Cheia de encantos mil
Cidade maravilhosa
Coração do meu Brasil
Berço do samba e das lindas canções
Que vivem n'alma da gente
És o altar dos nossos corações
Que cantam alegremente
Jardim florido de amor e saudade
Terra que a todos seduz
Que Deus te cubra de felicidade
Ninho de sonho e de luz.

Fonte: <http://letras.terra.com.br/marchinha-de-carnaval>

Este texto é uma música que tem como finalidade

- (A) convidar para conhecer a Cidade do Rio de Janeiro.
- (B) dar informação sobre a Cidade do Rio de Janeiro.
- (C) fazer um passeio pela Cidade do Rio de Janeiro.
- (D) falar dos encantos da Cidade do Rio de Janeiro.

H6 Questão 09



Nosso dia na escola hoje.	
<u>Segunda-feira</u>	
<u>Horário</u>	<u>Atividades</u>
7h30min	Vamos conversar
8h – 9h	Língua Portuguesa
9h – 9h30min	Projeto sobre animais
9h30min – 10h	Recreio
10h – 11h	Matemática
11h – 11h30min	Artes

Fonte: <http://www.fotosearch.com.br/fotos-imagens/quadro-negro.html>

Quando lemos o quadro acima, entendemos que a turma

- (A) gosta muito de desenhar.
- (B) faz a organização do dia.
- (C) planeja uma excursão.
- (D) pratica um esporte.

H7 **Questão 10**



Fonte: ziraldo.blogtv.uol.com.br/.../tiras-do-ziraldo-152

No primeiro quadrinho, o menino maluquinho, no primeiro balão, diz para o Bocão que ele deve

- (A) pescar com mais frequência
- (B) ser mais inteligente
- (C) ter mais paciência
- (D) comer mais peixe

H3 **Questão 11**

Ah! Na família de Gabriel e Luciana vai chegar um bebê.

Olha o que eles prepararam para entregar aos amigos.



Fonte: <http://invited.blog.terra.com.br/files/2009/05/cha-de-bebe.jpg>

O texto é

- (A) uma carta de agradecimento.
- (B) um convite de chá de bebê.
- (C) um convite de aniversário.
- (D) uma poesia infantil.

H6 **Questão 12**

Após o Chá de Bebê, o outro acontecimento mais importante na família será

- (A) o aniversário da mamãe.
- (B) o nascimento do bebê.
- (C) o batizado do bebê.
- (D) a chegada da vovó.

H3 **Questão 13**

Gabriel e Luciana, além de brincar de roda, também gostam muito de ler.

Veja a poesia que eles acabaram de escolher para ler.

<p>O livro Rosa Clement</p> <p>Eu sou um livro, Sou importante. <input type="text" value="1°"/></p> <p>Tenho um trabalho emocionante</p> <p>É com palavras que me sustento <input type="text" value="2°"/> e nelas levo conhecimento.</p> <p>Se alguém procura o que fazer, sou opção <input type="text" value="3°"/> de bom lazer.</p>	<p>Eu posso ser muito engraçado, <input type="text" value="4°"/> deixar você bem humorado.</p> <p>Eu posso ser seu professor <input type="text" value="5°"/> e lhe ensinar com todo amor.</p> <p>Eu posso ainda ser seu amigo <input type="text" value="6°"/> levar você</p> <p>Eu só não posso fazer careta <input type="text" value="7°"/> se me abandonam</p>
--	--

Fonte: www.sumauma.net/amazonian/criancas/crianca-livro.

A estrofe do texto em que o livro se apresenta ao leitor é a

- (A) primeira.
- (B) terceira.
- (C) quarta.
- (D) sexta.

H2 **Questão 14**

Na sala de aula, a professora selecionou as características do livro.

<p>O livro Rosa Clement</p> <p>Eu sou um livro, Sou importante. Tenho um trabalho emocionante</p> <p>É com palavras que me sustento e nelas levo Conhecimento.</p> <p>Se alguém procura o que fazer, sou opção de bom lazer.</p>	<p>Eu posso ser muito engraçado, deixar você bem humorado.</p> <p>Eu posso ser seu professor e lhe ensinar com todo amor.</p> <p>Eu posso ainda ser seu amigo levar você sempre comigo.</p> <p>Eu só não posso fazer careta se me abandonam numa gaveta.</p>
--	---

Fonte: www.sumauma.net/amazonian/criancas/crianca-livro.

Gabriel e Luciana colocaram as palavras destacadas em ordem alfabética. A ordem é

- (A) amigo – bom – engraçado – humorado.
- (B) bom – engraçado – humorado – amigo.
- (C) engraçado – humorado – amigo – bom.
- (D) humorado – amigo – bom – engraçado.

H4 **Questão 15**

Nesta busca pelo mundo dos livros, a turma do 3º ano descobriu estas informações sobre o Mico Leão Dourado.

Você sabia?

O Mico Leão Dourado é um primata brasileiro que possui pelagem cor de fogo e uma juba em torno da cabeça, o que deu origem ao seu nome. Ele se alimenta de frutas, insetos, ovos, pequenos pássaros e lagartos. O habitat deste animal no Brasil é a região montanhosa do sudoeste do Rio de Janeiro.

O mico leão está ameaçado de extinção devido às capturas ilegais para a venda a comerciantes inescrupulosos e ao intenso desmatamento no seu habitat.

Fonte: <http://www.saudeanimal.com.br/extinto14.htm>

O Mico Leão Dourado está em extinção, atualmente, porque tem ocorrido...

- (A) desaparecimento de seus alimentos básicos.
- (B) modificações no clima do Rio de Janeiro.
- (C) desmatamento em seu habitat.
- (D) alteração em sua pelagem.

Matemática

NOME: _____ Nº _____

SALA: _____ PROF^a _____ TURMA: _____



Resolva

$$\begin{array}{r} 35 \\ 59 \\ + 3 \\ \hline \end{array}$$

$$\begin{array}{r} 52 \\ 45 \\ + 3 \\ \hline \end{array}$$

$$\begin{array}{r} 88 \\ 94 \\ + 3 \\ \hline \end{array}$$

$$\begin{array}{r} 35 \\ 29 \\ + 9 \\ \hline \end{array}$$

$$\begin{array}{r} 39 \\ 99 \\ + 2 \\ \hline \end{array}$$

$$\begin{array}{r} 55 \\ 72 \\ + 7 \\ \hline \end{array}$$

$$\begin{array}{r} 66 \\ 25 \\ + 5 \\ \hline \end{array}$$

$$\begin{array}{r} 22 \\ 54 \\ + 3 \\ \hline \end{array}$$

$$\begin{array}{r} 49 \\ 49 \\ + 7 \\ \hline \end{array}$$

$$\begin{array}{r} 65 \\ 59 \\ + 5 \\ \hline \end{array}$$

$$\begin{array}{r} 32 \\ 69 \\ + 2 \\ \hline \end{array}$$

$$\begin{array}{r} 64 \\ 37 \\ + 7 \\ \hline \end{array}$$

$$\begin{array}{r} 73 \\ 76 \\ + 33 \\ \hline \end{array}$$

$$\begin{array}{r} 39 \\ 92 \\ + 23 \\ \hline \end{array}$$


$$\begin{array}{r} 89 \\ 87 \\ + 89 \\ \hline \end{array}$$

$$\begin{array}{r} 88 \\ 46 \\ + 73 \\ \hline \end{array}$$



<http://pedagogasdapaz.blogspot.com.br>

CRUZADA de MESTRE



Verticais

- 1- Ato de desfilar.
- 2- Aparelho eletrodoméstico usado para aspirar o pó.
- 3- Numeral que representa duas unidades.
- 4- Amigo do Cebolinha que não gosta de tomar banho.
- 5- Professor.
- 6- Cara; face.

Horizontais

- A- Pessoa que estuda; aluno.
- B- Filho do neto.
- C- Pequena espada.
- D- Fazer rabiscos.
- E- Caixa para guardar lápis.
- F- Lugar onde o gado pasta.

VERBO-TEMPO-FUTURO

Faça conforme o modelo.

Verbo: estudar

Eu _____
Tu _____
Ele (Ela) _____
Nós _____
Vós _____
Eles (elas) _____



Verbo: correr

Eu _____
Tu _____
Ele (Ela) _____
Nós _____
Vós _____
Eles (elas) _____

Verbo: cantar

Eu cantarei
Tu cantarás
Ele (Ela) cantará
Nós cantaremos
Vós cantareis
Eles (elas) cantarão



Verbo: partir

Eu _____
Tu _____
Ele (Ela) _____
Nós _____
Vós _____
Eles (elas) _____

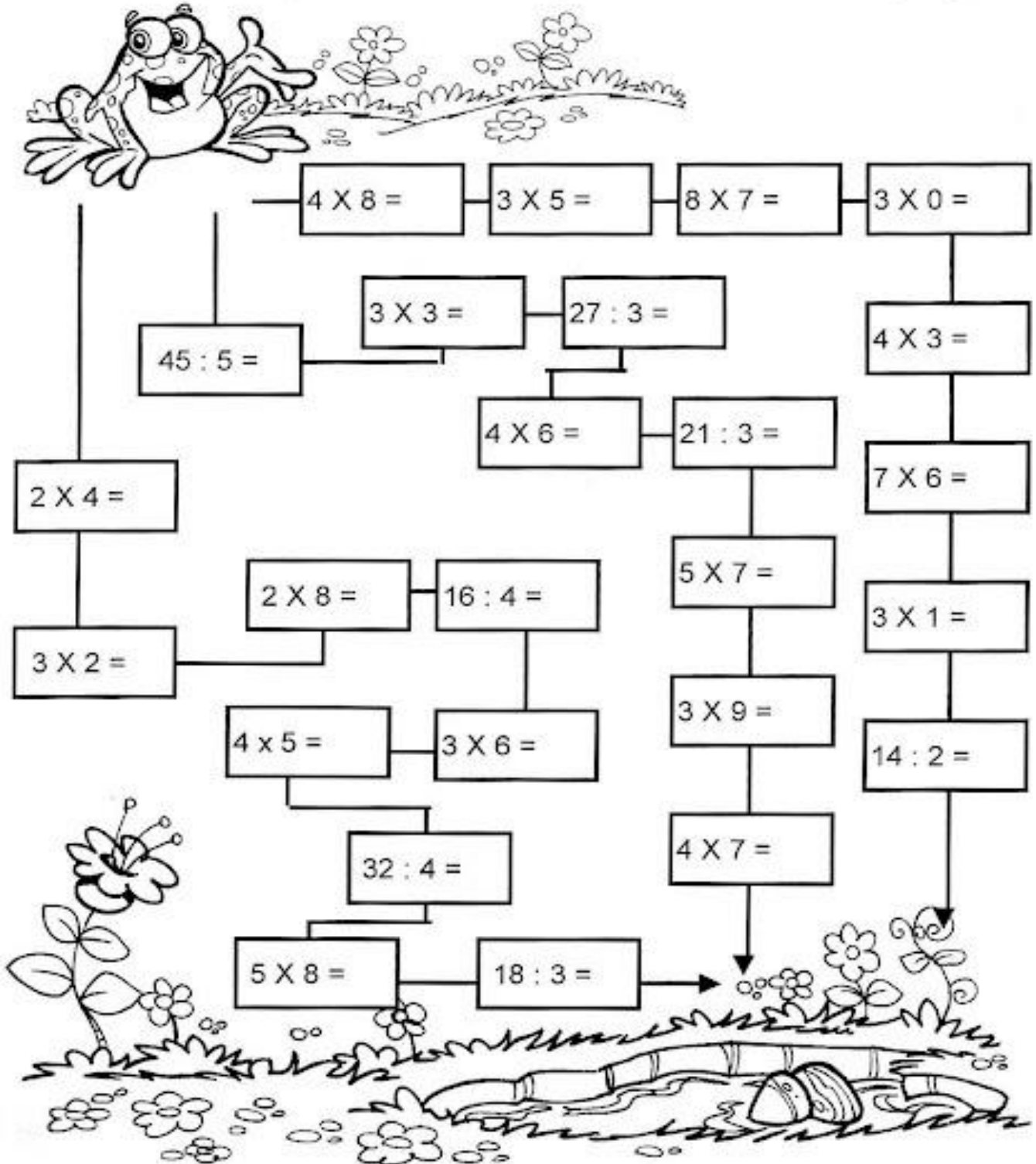


Quando o verbo indica uma ação que ainda vai acontecer, ele está no tempo futuro.

Pulando até a Lagoa

Leve o sapinho até a lagoa.

- Calcule os fatos e pinte o caminho em que todos os resultados sejam pares:



FIQUE ATENTO

Leia as dicas e escreva os nomes dos 9 premiados na "Olimpiada de matemática" da cidade.



O nono colocado foi o Alexandre. Ele gosta muito de brincar de detetive.

O sexto colocado foi o André e o que ele detesta é acordar cedo.

A Adriana ficou entre o Felipe e o Raul e nas horas de folga, lá está ela, lendo um novo livro.

A Leticia gosta de escrever poesias e colecionar papéis de carta. Ela foi a vencedora.

O classificado antes do André, foi o Felipe, que troca qualquer atividade pelo futebol.

O Raul ficou em terceiro lugar e, sempre que possível, toma um delicioso sorvete.

O Renato foi o penúltimo colocado e não sai de casa sem um boné.

A Claudinha ficou atrás da vencedora e comemorou com sua inseparável boneca de pano.

O Luan ficou em sétimo lugar e ria sozinho com a premiação.

Escreva em ordem o nome dos 9 classificados.

1º

4º

7º

2º

5º

8º

3º

6º

9º

Língua Portuguesa

NR
SZL

CRUZADINHA LEGAL

Após vogal

1. carrete__
2. a__dorinha
3. bo__boleta
4. e__trela
5. xadre__
6. lenço__
7. ga__so

8. ma__melo
9. cada__ço
10. pa__te__
11. vara__
12. arro__
13. nari__
14. elefa__te

15. e__xame
16. a__batro__
17. a__tena
18. ba__deja
19. me__
20. ave__tru__