



PREFEITURA DA ESTÂNCIA TURÍSTICA DE IBIÚNA
EM PROF. CALIL RAHAL NETO

Rua Projetada, 620 - Capim Azedo - Ibiúna - SP - Telefone: 3241-5917



13ª. APOSTILA DE ESTUDOS ATIVIDADES NÃO PRESENCIAIS 4º BIMESTRE



ENSINO FUNDAMENTAL

ALUNO:

PROFESSORA: Cleonice

TURMA: 5º B

DATA DE DEVOLUÇÃO: 08-11

Nome: _____

Professora: CLEONICE

Turma: 5º ano B

Data: 18/10/2021

Lingua Portuguesa

1. Observe os quadrinhos e faça a narrativa dos acontecimentos de forma coerente.







2. O que são tirinhas?

3. Que título interessante você daria á história?

4. Você conhece o personagem principal da história acima? Descreva-o?

Lingua Portuguesa

Com o objetivo de atrair para o município a fábrica de automóveis que a montadora francesa Renault pretende instalar no Brasil, a Prefeitura de Guarapuava publicou no Jornal Gazeta Mercantil de 23.01.96 o seguinte anúncio classificado.

Senhora com 176 anos, muito bem localizada, limpa, séria, trabalhadora, segura, discreta e virgem (em termos automobilísticos) procura por francês moderno, elegante, arrojado e bem sucedido, para relacionamento feliz, estável e duradouro. Contatos pelo fone: (042) 723-8387 (A Prefeitura de Guarapuava - PR está pronta para atender muito bem os senhores da Renault).

1 - Copie do texto acima todas as palavras acentuadas.

Levam acento todas as palavras oxítonas terminadas em **a, e, o** (seguidas ou não de **s**). Também levam acento as palavras oxítonas terminadas em **em** e **ens**.

Veja: está, francês, avô, avó, armazém, parabéns...

2 - Acentue as palavras abaixo quando necessário.

jacare	Parana	charme
parque	porem	anos
Jerusalem	nuvem	alguem
jovem	palito	domino
sofa	file	alo
guarana	banana	escravo

MAL e MAU

Na fala, a pronúncia de **mal** e **mau** se confunde; o problema maior está no texto escrito. Entretanto, é fácil diferenciar um do outro.

mal (advérbio) significa de modo irregular, erradamente, incorretamente.

Ex.: *Ela comeu mal.*

EM "Prof. Calil Rahal Neto"

Nome: _____

Professora: CLEONICE

Turma: 5º ano B

Data: 19/10/2021

Questão 1

Wagner construiu sua casa em 90 dias.

Este período corresponde a

- (A) 3 meses
- (B) 9 meses
- (C) 10 meses
- (D) 18 meses

Questão 2

José fez a subtração a seguir: $450 - 350$.

O resultado encontrado por José foi

- (A) 130
- (B) 120
- (C) 110
- (D) 100

Questão 3

Observe o número 1432.

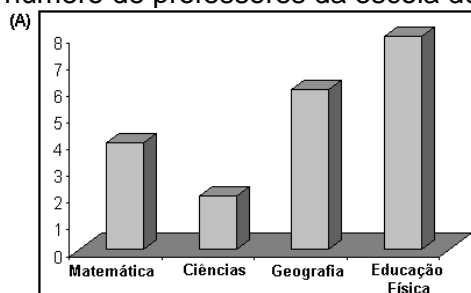
Ele é constituído por

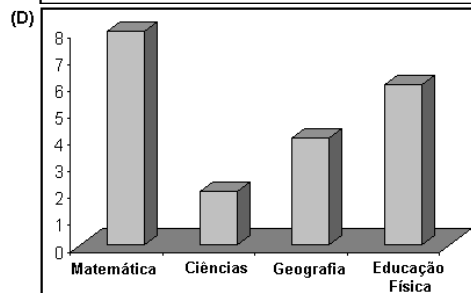
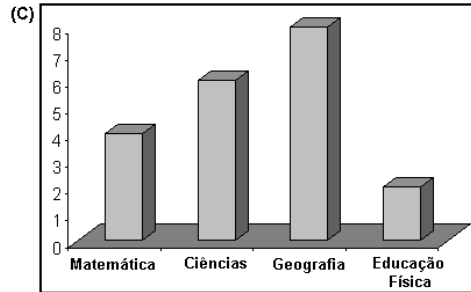
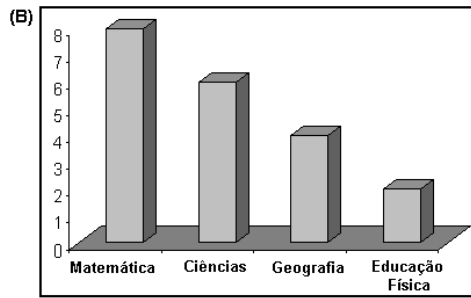
- (A) Uma unidade de milhar, quatro centenas, três unidades e duas dezenas.
- (B) Uma centena, quatro unidades de milhar, três dezenas e duas unidades.
- (C) Uma unidade de milhar, quatro centenas, três dezenas e duas unidades.
- (D) Uma unidade de milhar, quatro dezenas, três centenas e duas unidades.

Questão 4

Na escola de Guilherme existem 8 professoras de Matemática, 6 professoras de Ciências, 4 professoras de Geografia e 2 professores de Educação Física.

O gráfico que melhor representa o número de professores da escola de Guilherme é





Questão 5

Um número é decomposto em

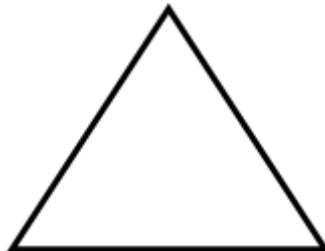
$$1 \times 1000 + 3 \times 100 + 4 \times 10$$

Esse número corresponde a

- (A) 134
- (B) 340
- (C) 1340
- (D) 1341

Questão 6

A figura a seguir é um polígono que possui 3 lados.



O nome deste polígono é

- (A) quadrado
- (B) retângulo
- (C) triângulo
- (D) círculo

Nome: _____

Professora: CLEONICE

Turma: 5º ano B

Data: 20/10/2021

Lingua Portuguesa

Questão 1 – Leia a piada a seguir e resolva as questões A,B,C e D

Isso é um assalto?

Chega um ladrão, aponta uma arma por debaixo da roupa e grita para o louco:

— Pare!

E o louco responde:

— Impare!

Aí o ladrão diz:

— Mas eu estou te roubando.

— Ah!... Então não brinco mais!

Domínio público.



a) O louco compreendeu "Pare" com o sentido de

- brincar de par ou ímpar
- deixar de andar.
- ficar como uma estátua.
- interromper uma ação.

b) O assaltante queria que o louco

- brincasse com ele.
- deixasse de andar.
- ficasse imóvel.
- interrompesse uma ação.

c) Quando o ladrão descobriu que estava assaltando um louco?

d) A fala do ladrão "Mas eu estou te roubando" indica que ele está

- calmo.
- nervoso.
- preocupado.
- surpreso.

LOTERIA DOS ACENTOS

Marque a coluna da acentuação correta das palavras:



palavras	/	^	escreva a palavra
saida			
chines			
anzois			
voce			
juizo			
ruina			
farois			
vovo			
robo			
portugues			
varios			
mes			
japones			
hoteis			
pinceis			
enjoo			
frances			
ingles			
pasteis			
marques			


EM "Prof. Calil Rahal Neto"

Nome: _____

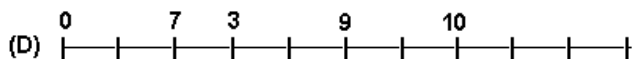
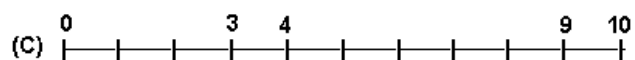
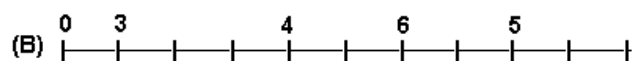
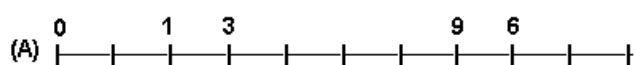
Professora: CLEONICE


Turma: 5º ano B

Data: 21/10/2021

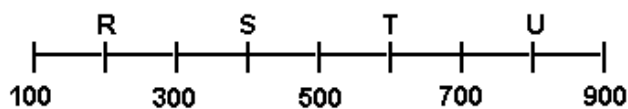
Questão 1 

Marque a alternativa que representa a reta numérica em ordem crescente.



Questão 2 

Na reta numérica a seguir, alguns números foram trocados por letra.



O ponto em que está localizada a letra S corresponde ao número

- (A) 200
- (B) 400
- (C) 600
- (D) 800

Questão 3 

O quadro a seguir mostra o horário de recreio da escola "Cantinho do Saber".

Início do Recreio	Término do recreio
9h 15min	9h 45 min

Esse recreio tem a duração de

- (A) 20 minutos
- (B) 25 minutos
- (C) 30 minutos
- (D) 35 minutos

Questão 4

Observe o campo de futebol a seguir:



A bola está localizada

- (A) a esquerda do campo.
- (B) a direita do campo.
- (C) na parte superior do campo.
- (D) no centro do campo.

EM "Prof. Calil Rahal Neto"

Nome: _____

Professora: CLEONICE

Turma: 5º ano B

Data: 22/10/2021

Lingua Portuguesa

1) Leia o texto atentamente e complete as lacunas com os advérbios.

atrás - logo - apressadamente - mais - muito - amanhã - nunca

O Pequeno Polegar

Era uma vez, um pobre lenhador que tinha sete filhos. O caçula era tão pequenino que se chamava Pequeno Polegar. Quando ele nasceu não media _____ do que um dedo polegar.

Uma noite, na cozinha, o lenhador falou à sua mulher:

- Querida, não temos _____ como alimentar as crianças. _____ deixarei todos na floresta, quem sabe alguém as encontre e cuide delas.

O Pequeno Polegar, como era muito esperto e bisbilhoteiro, escutou a conversa dos pais. Passou a noite inteira pensando no que faria para conseguir achar o caminho de volta para casa.

Na manhã seguinte, o lenhador seguiu com as crianças para a floresta. Polegar levou um pedaço de pão escondido no bolso, e ia deixando um rastro de migalhas pelo caminho.

No final do dia, as crianças se distraíram brincando, e quando perceberam, seu pai havia sumido. Assustados, todos começaram a chorar. Polegar falou para seus irmãozinhos:

- Não chorem, sei como faremos para voltar para a casa, basta seguir o caminho que fiz com migalhas de pão.

Eles começaram a seguir as migalhas, e um pouco mais para frente perceberam que os passarinhos haviam comido todas elas.

Sem saber para onde ir, começaram a caminhar pela floresta. De repente encontraram um castelo muito grande, e resolveram bater na porta.

Uma senhora _____ bondosa atendeu as crianças. Ela deu comida e bebida para elas, e disse que poderiam descansar à vontade. Ela contou que o dono do castelo era um gigante muito malvado, e devorava as crianças, mas ele estava viajando. Avisou-os que deveriam ir embora _____, caso o gigante voltasse.

No meio da noite o gigante apareceu de surpresa em casa. A senhora correu até o quarto das crianças e mandou-as fugir _____.

O gigante sentiu o cheiro das crianças, e começou a procurá-las. Elas pularam a janela, e correram para o bosque. O Malvado, zangou-se, porque deixou escapar tão boa comida. Calçou as suas botas mágicas, e saiu correndo _____ dos sete irmãozinhos. Ele correu a noite toda, e não encontrou os meninos. De manhã resolveu parar para descansar e adormeceu rapidamente.

O Pequeno Polegar, vendo que o gigante roncava alto, roubou as botas mágicas. Graças a elas as crianças conseguiram voltar para casa. Sem as botas, o gigante perdeu seus poderes e foi embora para um lugar distante. O rei ficou muito agradecido, porque os meninos espantaram o gigante do seu reino. Polegar ganhou o emprego de mensageiro do rei, e sua família _____ mais passou fome.

Lingua Portuguesa

Pronomes

1) Preencha os espaços em branco com os pronomes “eu” ou “mim”.

- a) O carteiro trouxe uma encomenda para _____.
- b) O gato estava pedindo para _____ fazer carinho nas suas orelhas.
- c) Qual desses presentes é para _____ ?
- d) A comida para _____ comer é esta.
- e) A tia da Clara falou para _____ que ela não iria à escola.
- f) Para _____ dormir direito, tenho que ficar no escuro.
- g) É só meu pai olhar para _____, que eu dou risada.
- h) Quais são as tarefas para _____ fazer?

2) Após fazer o exercício 1, complete a frase abaixo.

Antes de um verbo no infinitivo, utiliza-se sempre o pronome reto _____.

EM "Prof. Calil Rahal Neto"

Nome: _____

Professora: CLEONICE

Turma: 5º ano B

Data: 25/10/2021

Questão 1 ————— ◆

Paulo está estudando matemática e resolveu a operação 36×12 .

O resultado que Paulo encontrou foi

- A) 48
- B) 72
- C) 432
- D) 972

Questão 2 ————— ◆

Observe a tabela a seguir.

Produto	Valor
Refrigerante 300 ml	R\$ 1,50
Refrigerante 600 ml	R\$ 2,00
Refrigerante 1 ℓ	R\$ 2,50
Refrigerante 1,5 ℓ	R\$ 3,00
Refrigerante 2,0 ℓ	R\$ 4,00

Pela tabela o refrigerante de 1 ℓ custa

- A) mais que R\$ 4,00.
- B) menos que R\$ 2,50.
- C) menos que R\$ 3,00.
- D) mais que R\$ 2,50.

Questão 3 ————— ◆


Na escola da Emília, a aula de matemática começa às 14h30min e termina às 15h15min.

A aula de matemática na escola de Emília tem a duração de

- A) 40 minutos.
- B) 45 minutos.

C) 50 minutos.

D) 55 minutos.

Questão 4 

Regina fez corretamente esta subtração:

$$\begin{array}{r} 719 \\ -28 \\ \hline \end{array}$$


O resultado que ela encontrou foi

A) 601

B) 691

C) 700

D) 711

Questão 5 

Qual é o número formado pela adição abaixo?


$$4\ 000 + 300 + 20 + 1$$

A) 1 234

B) 2 134

C) 3 214

D) 4 321

Questão 6 

Observe as figuras representadas a seguir.



A figura que possui três lados é

A) o retângulo.

B) o quadrado.

C) o trapézio.

D) o triângulo.

Nome: _____

Professora: CLEONICE

Turma: 5º ano B

Data: 25/10/2021

Lingua Portuguesa

Ordene as sílabas e escreva as palavras nas colunas adequadas:
Veja o exemplo:

XC **SC** **SÇ**

~~ten ce~~
~~ex te~~

gam cres

ção ce
ex

gam des

re nas gam

nas to men ci

fas te nan ci


cia lên ce
ex

der ex ce

cí pu dis lo


XC	SC
e xc elente	_____
_____	_____
_____	_____
_____	_____

SÇ



Leia a manchete e pinte a palavra cuja consoante C seja precedida de S:

Verão impulsiona venda de produtos para tratamento de piscina



A HidroAll intensifica suas ações nos pontos de venda para suprir a crescente procura pelos produtos para piscina. O fornecimento dos produtos e utensílios para manter a piscina limpa e saudável no verão, torna-se imprescindível para o combate à transmissão de doenças e infecções.

Lingua Portuguesa

SINÔNIMOS E ANTÔNIMOS

Mônica está alegre
Mônica está feliz

João está triste
João está infeliz

Palavras sinônimas: São palavras que possuem o mesmo significado ou significado parecido.

Alegre e feliz são palavras sinônimas, pois têm o mesmo significado.

Palavras antônimas: São palavras que possuem significados contrários.

Alegre e triste são palavras antônimas, pois têm significados contrários.

EXERCÍCIO

1. Procure no quadro os antônimos das palavras abaixo:

salgado	bem	transparente	fraco	raso	Muito
comprido	mole	pequeno	claro	fino	Cheio
vitória	largo	lento	liso	achar	belo

- a) grosso _____ g) feio _____ n) pouco _____
b) grande _____ h) rápido _____ o) perder _____
c) mal _____ i) estreito _____ p) vazio _____
d) fundo _____ j) curto _____ q) forte _____
e) áspero _____ l) derrota _____ r) duro _____
f) doce _____ m) opaco _____ s) escuro _____

EM "Prof. Calil Rahal Neto"

Nome: _____

Professora: CLEONICE

Turma: 5º ano B

Data: 26/10/2021

Questão 1

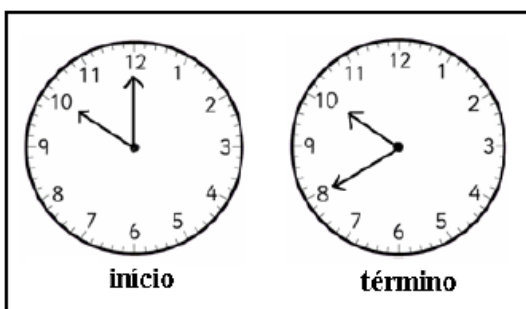
Observe no quadro abaixo as notas de cinco reais que Joana possui.



A quantidade, em reais, que Joana possui em notas de cinco reais é

- A) 5 reais.
- B) 7 reais.
- C) 30 reais.
- D) 35 reais.

Questão 2 O tempo de duração da brincadeira de Jordana e Tiago está representado nos relógios a seguir.

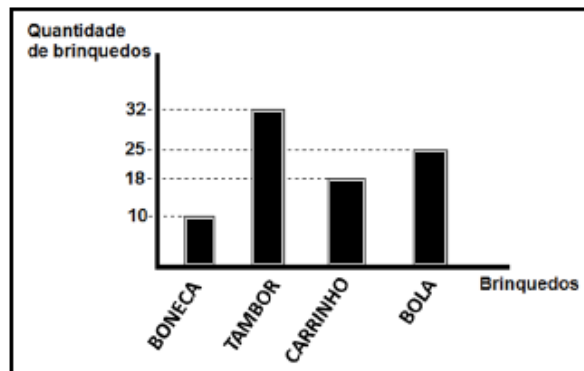


A duração da brincadeira de Jordana e Tiago é de

- A) 40 minutos.
- B) 30 minutos.
- C) 20 minutos.
- D) 10 minutos.

Questão 3

O gráfico a seguir apresenta os brinquedos que foram mais vendidos na loja Pague Menos no mês de março.



Dos brinquedos apresentados no gráfico o mais vendido no mês de março foi

- A) a boneca.
- B) o tambor.
- C) o carrinho.
- D) a bola.

Nome: _____

Professora: CLEONICE

Turma: 5º ano B

Data: 27/10/2021

Lingua Portuguesa

VERBO - TEMPO PASSADO

Complete conforme modelo:

Verbo: estudar

Eu estudei

Tu estudaste

Ele (Ela) estudou

Nós estudamos

Vós estudastes

Eles (elas) estudaram



Verbo: cantar

Eu _____

Tu _____

Ele (Ela) _____

Nós _____

Vós _____

Eles (elas) _____



Verbo: correr

Eu _____

Tu _____

Ele (Ela) _____

Nós _____

Vós _____

Eles (elas) _____



Verbo: partir

Eu _____

Tu _____

Ele (Ela) _____

Nós _____

Vós _____


Eles (elas) _____



Quando o verbo indica uma ação que já aconteceu, ele está no tempo passado.

Ortografia

CRUZA-ANH



Verticais

- 1- Aquele que racha troncos para fazer lenha.
- 2- Grande elevação de terra.
- 3- Gordura do porco.
- 4- Grande quantidade de galinhas.
- 5- Ter sonhos.
- 6- Mau cheiro, catinga.
- 7- O sexto mês do ano.

Horizontais

- A- Aquele que faz companhia.
- B- Furar com espinho.
- C- Feminino de rei.
- D- Antônimo de sossegado.
- E- Parte dura que recobre a ponta do dedo.
- F- Abrigar em ninho.
- G- Homem do mar; marujo.
- H- O visitante aciona quando chega a uma casa.

Respostas: Verticais: 1- lenhador; 2- montanha; 3- toucinho; 4- galinhada; 5- sonhar; 6- inhaca; 7- junho.
Horizontais: A- companheiro; B- espinhar; C- rainha; D- assanhado; E- unha; F- aninhar;
G- marinheiro; H- campainha.

EM "Prof. Calil Rahal Neto"

Nome: _____





Professora: CLEONICE

Turma: 5º ano B

Data: 28/10/2021

Questão 1

No diagrama a seguir, a localização de cada objeto é identificada por um número e uma letra. A abelha, por exemplo, está localizada no quadradinho representado por 2R.

S				
R				
Q				
P				
	1	2	3	4

De acordo com o diagrama, o coelhinho está localizado em

- (A) 4P.
- (B) 2R.
- (C) 3Q.
- (D) 2S.

Questão 2

Uma pessoa caminha, em média, 5.000 metros em uma hora.

Nessa condição, para caminhar 2.450 metros, uma pessoa gastará

- (A) um pouco menos de 30 minutos.
- (B) um pouco mais de 30 minutos.
- (C) exatamente 30 minutos.
- (D) exatamente 25 minutos.

Questão 3

Regina está organizando uma viagem com duração de 35 dias.

O período dessa viagem corresponde a

- (A) 3 semanas e 3 dias.
- (B) 2 quinzenas e 5 dias.
- (C) 3 quinzenas.
- (D) 4 semanas e 3 dias.

Questão 4

Juarez nasceu em janeiro de 1958 e seu neto Rodrigo nasceu em fevereiro de 2003.

Quando Rodrigo nasceu, Juarez tinha

- (A) 58 anos.
- (B) 57 anos.
- (C) 50 anos.
- (D) 45 anos.

Questão 5

Observe os algarismos a seguir:

1, 2, 3, 4 e 5.

O maior número que pode ser escrito com esses algarismos, sem repeti-los, é o

- (A) 54 321.
- (B) 54 231.
- (C) 54 213.
- (D) 54 132.

Questão 6

O professor escreveu no quadro a subtração a seguir:

$$206 - 87 = ?$$

O resultado dessa subtração é igual a

- (A) 119. (B) 121.
- (C) 131. (D) 181.

EM "Prof. Calil Rahal Neto"

Nome: _____

Professora: CLEONICE

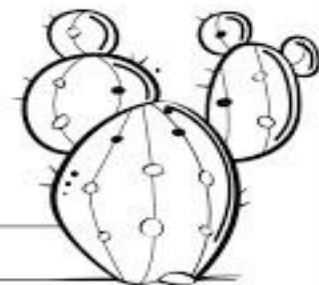
Turma: 5º ano B

Data: 29/10/2021

Geografia

ATIVIDADE

1-O QUE É VEGETAÇÃO?

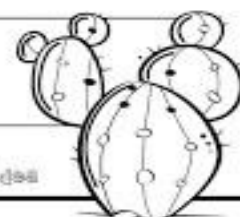


2- QUAL O TIPO DE VEGETAÇÃO PREDOMINANTE NO NORDESTE BRASILEIRO E QUAIS SUAS CARACTERÍSTICAS?

3- PESQUISE E ESCREVA OS NOMES DE 3 PLANTAS TÍPICAS DA CAATINGA.


4- EM QUAL REGIÃO DO PAÍS VOCÊ VIVE E QUAL O TIPO DE VEGETAÇÃO PREDOMINANTE NELA?

5- QUAL O SIGNIFICADO DA PALAVRA CAATINGA?




É falso ou verdadeiro?

♦ Marque Falso ou Verdadeiro, conforme as afirmativas.



	Falso	Verdadeiro	
1-			•As primeiras expedições exploradoras foram enviadas ao Brasil para conhecer a terra e verificar se nela havia riquezas.
2-			•A primeira riqueza exploradora foi o pau-brasil.
3-			•Os portugueses resolveram colonizar a terra, com receio de perder a posse dela.
4-			•Os índios, escravizados pelos portugueses, cortavam e armazenavam o pau-brasil.
5-			•Até hoje ainda há bastante pau-brasil em nossas matas.
6-			•Gaspar de Lemos foi o fundador da Vila São Vicente.

Respostas: 1-v; 2-v; 3-v; 4-v; 5-f; 6-f.



EM "Prof. Calil Rahal Neto"

Nome: _____

Professora: CLEONICE

Turma: 5º ano B

Data: 03/11/2021

Matemática

Questão 1

Amanda digitou na calculadora:

$$1 \ 3 \ 3 \ 4 \ \div \ 5 \ 8 \ =$$

Que resultado apareceu na tela?

- (A) 23
- (B) 40
- (C) 45
- (D) 58

Questão 2


Numa sala há 18 meninos e 21 meninas.

A quantidade de meninas a mais que meninos nessa sala é igual a

- (A) 3.
- (B) 4.
- (C) 5.
- (D) 6.

Questão 3

Na sala de aula do 4º ano as carteiras estão dispostas conforme a imagem a seguir:



A quantidade de carteiras nessa sala é igual a

- (A) 20.
- (B) 25.
- (C) 30.
- (D) 35.

Questão 4

A tabela a seguir mostra a quantidade de estudantes matriculados na escola em que Márcio estuda.

	Manhã	Tarde
2º ano	25	27
3º ano	28	30
4º ano	24	22
5º ano	23	26

A turma que tem a menor quantidade de estudantes matriculados no turno da manhã é o

- (A) 2º ano.
- (B) 3º ano.
- (C) 4º ano.
- (D) 5º ano.

Nome: _____ data: ____/____/____ @clickspduosativos

ATIVIDADES DE ORTOGRAFIA - 5º ANO

1. Circule os encontros vocálicos das palavras abaixo:

luteira - porta - pai - país - colheita - fito - estrito - ainda
caído - colheu - triunfo - qualquer - Paraguai - saída -
ainda - varroua - colho - rasteira - pelotão - pão.

2. Separe as sílabas e classifique em: monossílabo, dissílabo, trissílabo ou polissílabo.

- a) escolha: _____
b) Tesoura: _____
c) Pipoca: _____
d) Ovo: _____
e) Orelhão: _____
f) Carpinteiro: _____
g) Coelho: _____
h) Colheita: _____
i) Mão: _____
j) Carro: _____
k) Carroça: _____
l) Carroceiro: _____
m) Escolta: _____
n) Batata: _____
o) Prateleira: _____
p) Riacho: _____
q) Colchão: _____



EM "Prof. Calil Rahal Neto"

Nome: _____


Professora: CLEONICE

Turma: 5º ano B

Data: 05/11/2021


LIGUE-SE NO GRÁFICO

João é dono de uma fábrica de salgados. Observe no gráfico o número de salgados que ele vendeu em uma semana e depois responda:



- A) Quantos salgados João vendeu nos três primeiros dias da semana? _____
- B) Que dia da semana ele vendeu mais salgados? _____
- C) E menos salgados? _____
- D) Quantos salgados ele vendeu nessa semana? _____
- E) Se ele vendesse esse mesmo número de salgados em duas semanas, quantos ele venderia? _____
- F) Se nessa semana fosse feriado na 4º-feira, quantos salgados João venderia?

ARTE



VE	VERDE ESCURO	A	AZUL CLARO
VC	VERDE CLARO	AE	AZUL ESCURO
M	MARROM	A	AMARELO
L	LARANJA	B	BRANCO
V	VERMELHO		

SIGA A LEGENDA

Referências

<https://www.espacoprofessor.com/texto-informativo-com-interpretacao->
<http://www.professorzezinhoramos.com/2013/10/textos-curtos-para-interpretacao-com.html>

<https://acessaber.com.br/tag/interpretacao-de-texto>

<https://www.soescola.com/2020>

<http://adoletadoabc.blogspot.com/atividades>

<https://cucasuperlegal.com/>

<https://alicearteducacao.blogs>