

E.M. "BENEDITA CORDEIRO MEDELOS"

NOME: _____

TURMA: 2º ANO A

PROFESSORA: ELIANE

MINHAS ATIVIDADES



ATIVIDADES: 18/10/2021 a 05/11/2021

DATA DE RETIRADA: 19/10/2021

DATA DE DEVOLUÇÃO: 08/11/2021

IBIÚNA, 18 DE OUTUBRO DE 2021.

ESCOLA: _____

IBIÚNA, _____

NOME: _____

LÍNGUA PORTUGUESA

❖ PARLENDA "A CASINHA DA VOVÓ"



A CASINHA DA VOVÓ
CERCADINHA DE CIPÓ
O CAFÉ ESTÁ DEMORANDO
COM CERTEZA NÃO TEM PÓ



❖ PINTE O ESPAÇO ENTRE AS PALAVRAS:

ACASINHADA VOVÓ
CERCADINHA DE CIPÓ
O CAFÉ ESTÁ DEMORANDO
COM CERTEZA NÃO TEM PÓ.

❖ RESPONDA:

➤ QUAL O TÍTULO?

A CASINHA A CASINHA DA VOVÓ VOVÓ

➤ QUANTAS PALAVRAS TEM NO TEXTO?

17 16 18

➤ COMO É A CASINHA?

DE CIPÓ DE ARAME DE CHOCOLATE

<https://educacaoetransformacaooficial.blogspot.com/2018/12/parlenda-casinha-da-vovo.html>

MATEMÁTICA

COMPLETE A SEQUÊNCIA NUMÉRICA:

1									
	12								
		23							
			34						
				45					
					56				
						67			
							78		
								89	
									100

www.atividadesparaimprimir.com

<https://www.atividadesparaimprimir.com/2019/02/complete-sequencia-numerica.html>

IBIÚNA, 19 DE OUTUBRO DE 2021.

ESCOLA: _____
IBIÚNA, _____
NOME: _____


LÍNGUA PORTUGUESA


Nome: _____ Data: ____/____/____

2. A CASINHA É:

() DA MAMÃE () DA VOVÓ
() DO VOVÓ () DO PAPAÍ

3. VOVÓ ESTÁ PREPARANDO:







4. O MOTIVO DA DEMORA DO CAFÉ POSSIVELMENTE É:

() ACABOU O GÁS
() NÃO TEM AÇUCAR
() ACABOU O PÓ

5. A CASINHA DA VOVÓ É:

() CERCADINHA DE FLORES
() CERCADINHA DE ROSAS
() CERCADINHA DE CIPÓ

MATEMÁTICA

RESOLVA AS ADIÇÕES. NÃO ESQUEÇA DE COMEÇAR PELA **UNIDADE**, EM SEGUNDA **DEZENA**:

CONTINHAS DE ADIÇÃO

D	U
2	3
+2	2
<hr/>	



D	U
5	6
+1	3
<hr/>	

D	U
9	7
+0	2
<hr/>	

D	U
7	4
+2	4
<hr/>	

D	U
4	8
+3	1
<hr/>	

D	U
3	9
+1	0
<hr/>	

Dani Educar

D	U
1	5
+1	4
<hr/>	

D	U
2	5
+2	0
<hr/>	

D	U
5	0
+3	0
<hr/>	

D	U
8	6
+0	3
<hr/>	

IBIÚNA, 20 DE OUTUBRO DE 2021.

ESCOLA: _____

IBIÚNA, _____

NOME: _____

LÍNGUA PORTUGUESA

MEU BEM! PROCURE NO TEXTO ABAIXO A PALAVRA VOVÓ E CIRCULE.

A CASINHA DA VOVÓ

A CASINHA DA VOVÓ
CERCADINHA DE CIPÓ
O CAFÉ ESTÁ DEMORANDO
COM CERTEZA NÃO TEM PÓ.



AGORA, COMPLETE O QUADRO COM O QUE SE PEDE:

	LETRA INICIAL	LETRA FINAL	NÚMERO DE LETRAS
VOVÓ			
CIPÓ			
CAFÉ			
PÓ			

MATEMÁTICA

RESOLVA AS SUBTRAÇÕES. NÃO ESQUEÇA DE COMEÇAR PELA **UNIDADE**, EM SEGUIDA **DEZENA**:

RESOLVA AS SUBTRAÇÕES

-	D	U	-	D	U	-	D	U	-	D	U
	1	7		2	6		2	4		1	9
	1	1		1	2		1	4			5

-	D	U	-	D	U	-	D	U	-	D	U
	3	4		2	5		1	8		3	2
	1	2		1	1			2		2	0

-	D	U	-	D	U	-	D	U	-	D	U
	3	3		3	8		1	6		1	7
	2	1		1	3			6			6

-	D	U	-	D	U	-	D	U	-	D	U
	2	8		3	0		2	5		2	6
	1	4		2	0		1	5		1	1

IBIÚNA, 21 DE OUTUBRO DE 2021.

ESCOLA: _____

IBIÚNA, _____

NOME: _____

LÍNGUA PORTUGUESA

A CASINHA DA VOVÓ



**A CASINHA DA VOVÓ
CERCADINHA DE CIPÓ
O CAFÉ ESTÁ DEMORANDO
COM CERTEZA NÃO TEM PÓ.**

- 1- CIRCULE AS RIMAS DO TEXTO.
- 2- PINTE OS ESPAÇOS EM BRANCO ENTRE AS PALAVRAS.
- 3- SEPRE EM SÍLABAS AS PALAVRAS ABAIXO.

CASINHA:	CIPO:
CERTEZA:	CAFE:
DEMORANDO:	PO:
CERCADINHA:	COM:

<https://br.pinterest.com/pin/809381364273521483/>

MATEMÁTICA

NAS ATIVIDADES ANTERIORES VOCÊ VIU COMO MONTAR UMA OPERAÇÃO. PARA RESOLVER OS PROBLEMAS, MONTE AS OEPRAÇÕES E ESCREVA AS RESPOSTAS:



aprenderebrincar.com

BRUNA TEM 19 EXERCÍCIOS PARA RESOLVER. ELA JÁ RESOLVEU 7. QUANTOS AINDA FALTAM?

RESPOSTA: _____



aprenderebrincar.com

EM UM JARDIM, HÁ 10 FLORES VERMELHAS E 25 FLORES AMARELAS. QUANTAS FLORES HÁ NO TOTAL NO JARDIM?

RESPOSTA: _____



aprenderebrincar.com

O SORVETEIRO TINHA 34 SORVETES NO CARRINHO. CONSEGUIU VENDER 13. QUANTOS SORVETES FALTAM ELE VENDER?

RESPOSTA: _____



aprenderebrincar.com

NO JOGO DE BASQUETE, ALICE FEZ 8 PONTOS E BIA FEZ 2. QUANTOS PONTOS BIA PRECISA FAZER PARA ALCANÇAR ALICE?

RESPOSTA: _____

IBIÚNA, 22 DE OUTUBRO DE 2021.

ESCOLA: _____
IBIÚNA, _____
NOME: _____

LÍNGUA PORTUGUESA

CIRCOLE NO TEXTO A PALAVRAS QUE RIMAM COM VOVÓ.



A CASINHA DA VOVÓ
CERCADINHA DE CIPÓ
O CAFÉ TÁ DEMORANDO
COM CERTEZA
NÃO TEM PÓ.

2 FAÇA UM X NO QUADRADO QUE ESTA ESCRITO A PALAVRA QUE TERMINA COM A MESMA SÍLABA DO DESENHO



- | | | | |
|--------------------------|---------|--------------------------|---------|
| <input type="checkbox"/> | BANANA | <input type="checkbox"/> | GALINHA |
| <input type="checkbox"/> | GATINHO | <input type="checkbox"/> | CASA |

3 - SEPRE AS PALAVRAS EM SÍLABAS

CASINHA

VOVÓ

CERCADINHA

CAFÉ

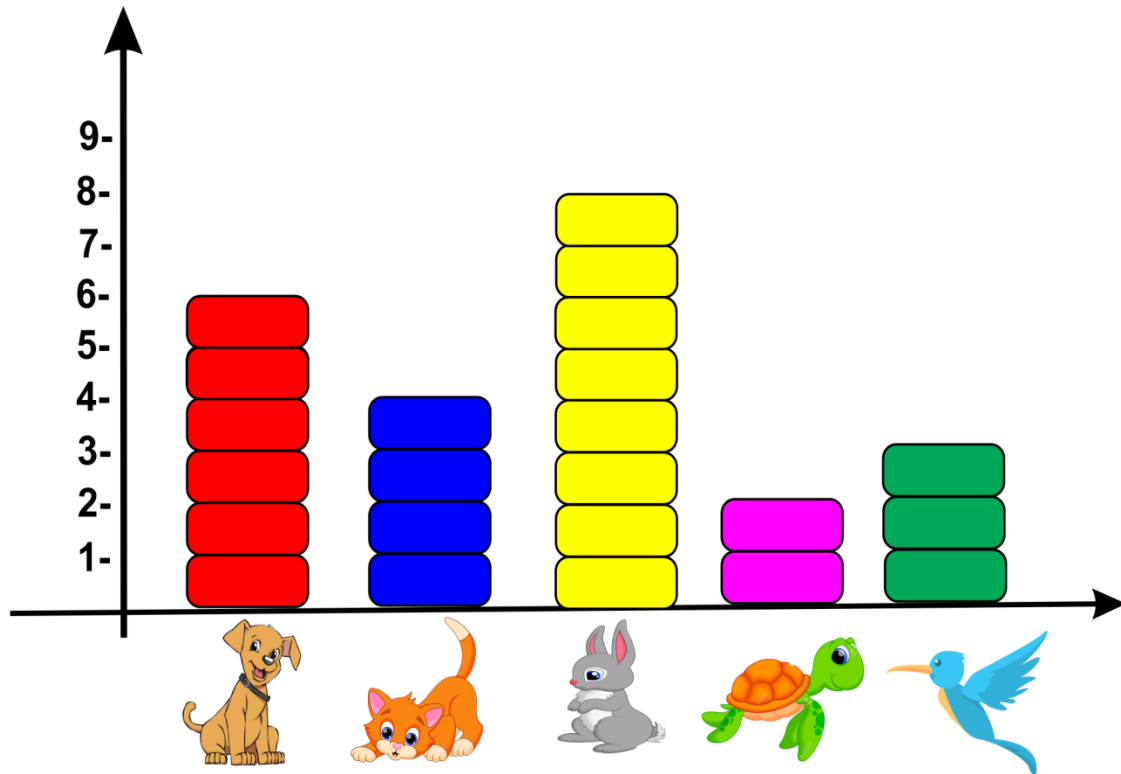
CIPÓ

PÓ



MATEMÁTICA

1 OBSERVE O GRÁFICO QUE MOSTRA OS ANIMAIS PREFERIDOS PELOS ALUNOS DO SEGUNDO ANO.



2. DE ACORDO COM O GRÁFICO, COMPLETE A TABELA ABAIXO, ESCRIVENDO O NOME DOS ANIMAIS E SUA RESPECTIVA QUANTIDADE.

NOME	QUANTIDADE

3 - RESPONDA:

QUAL ANIMAL MAIS VOTADO? _____

QUAL ANIMAL MENOS VOTADO? _____

QUANTOS VOTOS TEVE O CACHORRO? _____

QUAL ANIMAL MENOS VOTADO? _____

IBIÚNA, 25 DE OUTUBRO DE 2021.

ESCOLA: _____

IBIÚNA, _____

NOME: _____


LÍNGUA PORTUGUESA

TEXTO FATIADO

A CASINHA DA VOVÓ
CERCADINHA DE CIPÓ
O CAFÉ ESTÁ DEMORANDO
COM CERTEZA NÃO TEM PÓ



1- RECORTE E COLE
O TEXTO NA CASINHA,
SEGUINHO A ORDEM
CORRETA.

 _____

O CAFÉ ESTÁ DEMORANDO

CERCADINHA DE CIPÓ

A CASINHA DA VOVÓ

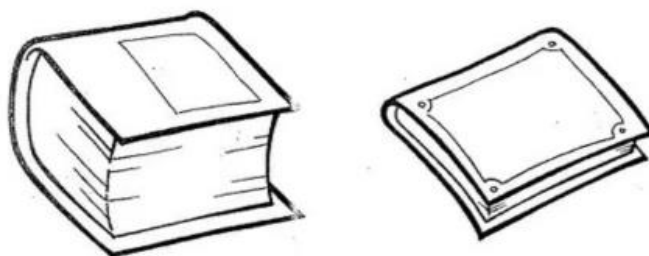
COM CERTEZA NÃO TEM PÓ

www.aartedeensinareaprender.com

MATEMÁTICA


RESOLVA:

- 1 DEPOIS DO RECREIO, A TURMA FOI À BIBLIOTECA, O LIVRO QUE A PROFESSORA ESCOLHEU É MAIS GROSSO DO QUE DE ANA. CIRCULE O LIVRO QUE A PROFESSORA PEGOU.



- 2 A SEGUIR ESTÃO OS LÁPIS DE ANA, DE OTÁVIO, DE MATEUS E DE LAURA. LEIA AS DICAS E ESCREVA AO LADO DE CADA LÁPIS O NOME DO SEU DONO. .

- MATEUS TEM O LÁPIS MAIS GROSSO DE TODOS.
- O LÁPIS DE OTÁVIO É O MAIS CURTO.
- O LÁPIS DE ANA NÃO É O MAIS LONGO DE TODOS.



<https://atividadeslegais.wordpress.com/2020/09/01/atividade-matematica-1o-ano/>

ESCREVA OS NÚMEROS DE 0 A 50:

0 - _____

IBIÚNA, 26 DE OUTUBRO DE 2021.

ESCOLA: _____

IBIÚNA, _____

NOME: _____

LÍNGUA PORTUGUESA

ATIVIDADE COM TEXTO AGLUTINADO:

COPIE O TEXTO COLOCANDO O ESPAÇO ENTRE
AS PALAVRAS:



ACASINHADA VOVÓ
CERCADINHA DE CIPÓ
O CAFÉ ESTÁ DEMORANDO
COM CERTEZA NÃO TEM PÓ

<https://educacaoetransformacaooficial.blogspot.com/2019/01/parlenda-casinha-da-vovo.html>

MATEMÁTICA

NOME _____

DATA ____/____/____



OBSERVE AS QUANTIDADES E MARQUE O CERTO.

SISTEMA MONETÁRIO



- 10 REAIS
- 12 REAIS
- 15 REAIS



- 7 REAIS
- 8 REAIS
- 9 REAIS



- 5 REAIS
- 11 REAIS
- 10 REAIS



- 14 REAIS
- 15 REAIS
- 10 REAIS



- 12 REAIS
- 11 REAIS
- 21 REAIS



- 19 REAIS
- 20 REAIS
- 30 REAIS



- 5 REAIS
- 6 REAIS
- 4 REAIS

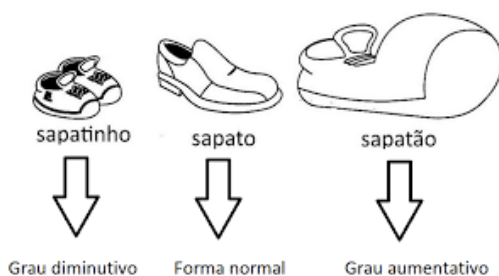


- 13 REAIS
- 11 REAIS
- 12 REAIS

IBIÚNA, 27 DE OUTUBRO DE 2021.

ESCOLA: _____
IBIÚNA, _____
NOME: _____

LÍNGUA PORTUGUESA
AUMENTATIVO E DIMINUTIVO



Coloque os nomes abaixo no aumentativo, e no diminutivo.

NORMAL	AUMENTATIVO	DIMINUTIVO
CAMA		
CASA		
BARATA		
CANETA		
LIVRO		
CADEIRA		
NUVEM		
VERMELHO		
ASA		
DOCE		

MATEMÁTICA

ESCOLA.....

ESTUDANTE:.....

DATA:/...../.....

ATIVIDADES DE MATEMÁTICA MEDIDAS DE GRANDEZA

1 - MARQUE APENAS OS PRODUTOS MEDIDOS COM O METRO.



2 - QUE INSTRUMENTOS USAMOS PARA PESAR.



3 - MARQUE APENAS OS PRODUTOS VENDIDOS POR QUILO.



IBIÚNA, 28 DE OUTUBRO DE 2021.

ESCOLA: _____
IBIÚNA, _____
NOME: _____

LÍNGUA PORTUGUESA/CIÊNCIAS

EU NO TEMPO

1 OS DESENHOS ABAIXO REPRESENTAM AS VÁRIAS ETAPAS POR QUE UMA PESSOA PASSA DURANTE A VIDA.
RECORTE AS FIGURAS E COLE-AS NA SEQUÊNCIA.

--	--	--	--

2 AGORA, FAÇA UM X NO DESENHO QUE REPRESENTA VOCÊ HOJE.
DEPOIS, PINTE AQUELE QUE MAIS SE PARECE COM SUA MÃE.



			
CRIANÇA	IDOSO	BEBÊ	ADULTO

MATEMÁTICA

<http://www.atividadespedagogicasuzano.com.br/>

Nome: _____


data: _____

domingo	2ª - feira	3ª - feira	4ª - feira	5ª - feira	6ª - feira	sábado																								
janeiro	fevereiro	março	abril	maio	junho	julho	agosto	setembro	outubro	novembro	dezembro																			
1	2	3	4	5	6	7	8	9	10	11	12	13	14	15	16	17	18	19	20	21	22	23	24	25	26	27	28	29	30	31


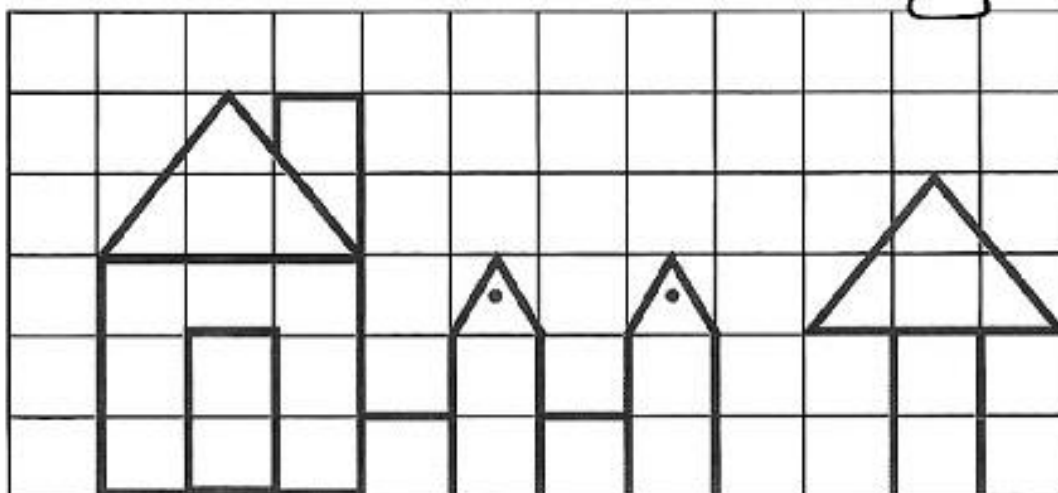


Geometria

@Atividades Suzano



Copie o desenho abaixo corretamente:



<https://atividadespedagogicasuzano.com.br/geometria-inicial-2-ano/>

IBIÚNA, 29 DE OUTUBRO DE 2021.

ESCOLA: _____

IBIÚNA, _____

NOME: _____

LÍNGUA PORTUGUESA/GEOGRAFIA

PESQUISA

- Procurar em jornais e/ou revistas gravuras de meios de transporte.
- Colar as gravuras de acordo com a sua classificação em mural na sala de aula.

MEIOS DE TRANSPORTE		
TERRESTRES	AÉREOS	AQUÁTICOS
		

(modelo para o mural)


<https://ensinorelacionado.blogspot.com/2019/03/atividades-meios-de-transporte-1-ano.html>

COLAR AS FIGURAS NO ESPAÇO ABAIXO:

MATEMÁTICA

MATEMÁTICA - LATERALIDADE - CONCEITO

OBSERVE OS DESENHOS E MARQUE O CERTO.



1 - O PINCEL ESTÁ:

() DEBAIXO DA MESA

() EM CIMA DA MESA

() AO LADO DA MESA

() LONGE DA MESA

2 - A MENINA SEGURA O BALÃO COM A MÃO:

() DIREITA

() ESQUERDA

3 - O QUE ESTÁ EM CIMA DA MESA É:

() O GATO

() A MOCHILA

() O PINCEL

4 - O GATINHO ESTÁ INDO EM DIREÇÃO:

() À ESQUERDA

() À DIREITA

5 - EM QUE LADO A MENINA ESTÁ DA MESA?

() DIREITO

() ESQUERDO

Alfakids.org

Educação Infantil e Ensino Fundamental I - Todos os direitos reservados ©

<https://br.pinterest.com/pin/716353884480478481/>

ESCREVA OS NÚMEROS DE 0 A 50:

0 - _____

IBIÚNA, 03 DE NOVEMBRO DE 2021.

ESCOLA: _____

IBIÚNA, _____

NOME: _____

LÍNGUA PORTUGUESA

MEIOS DE TRANSPORTES

As palavras deste caça palavras estão escondidas na horizontal e vertical.

T	M	C	T	E	H	C	S	E	T	O	N
Ô	A	U	P	I	U	N	H	S	T	E	A
N	U	W	T	L	E	R	V	C	W	R	V
I	E	T	E	G	B	O	T	E	N	N	I
B	A	N	A	V	I	Ã	O	E	M	E	O
U	H	E	L	I	C	Ó	P	T	E	R	O
S	D	U	A	R	I	I	M	O	T	O	S
H	E	O	E	C	C	Y	L	T	R	E	M
N	T	O	E	A	L	V	F	E	Ô	S	A
E	W	G	E	R	E	A	I	T	I	T	A
E	E	S	E	R	T	L	A	T	A	K	C
O	O	E	C	O	A	I	T	I	E	H	Q

AVIÃO BICICLETA BOTE CARRO HELICÓPTERO
METRÔ MOTO NAVIO TREM ÔNIBUS

https://es.liveworksheets.com/worksheets/pt/L%C3%ADngua_portuguesa/Leitura/Ca%C3%A7a_palavras_MEIOS_DE_TRANSPORTES_t1206399vq




O CALENDÁRIO

- COM A ORIENTAÇÃO DO(A) PROFESSOR(A), PREENCHA O CALENDÁRIO DO MÊS EM QUE ESTAMOS PARA, DEPOIS, RESPONDER ÀS PERGUNTAS ABAIXO.

ANO: _____

MÊS: _____



DOMINGO	SEGUNDA-FEIRA	TERÇA-FEIRA	QUARTA-FEIRA	QUINTA-FEIRA	SEXTA-FEIRA	SÁBADO

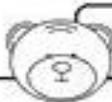
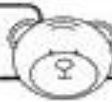
- A) EM QUAL ANO ESTAMOS? _____
- B) EM QUAL MÊS? _____
- C) PINTE DE VERMELHO O QUADRINHO QUE INDICA O DIA DE HOJE.
- D) QUAL É O NOME DO PRIMEIRO DIA DA SEMANA? _____
- E) QUAL É O NOME DO ÚLTIMO DIA DA SEMANA? _____
- F) QUANTOS DOMINGOS TEM ESTE MÊS? _____
- G) QUANTOS DIAS TEM UMA SEMANA? _____




IBIÚNA, 04 DE NOVEMBRO DE 2021.

ESCOLA: _____
IBIÚNA, _____
NOME: _____

LÍNGUA PORTUGUESA

 **A BOLA DE BETO** 

BETO TEM UMA BOLA.
BETO ADORA JOGAR COM
SEUS AMIGOS.
BETO CHUTA A BOLA.
A BOLA ROLA E VAI DIRETO PARA O GOL.



COMPREENSÃO DO TEXTO


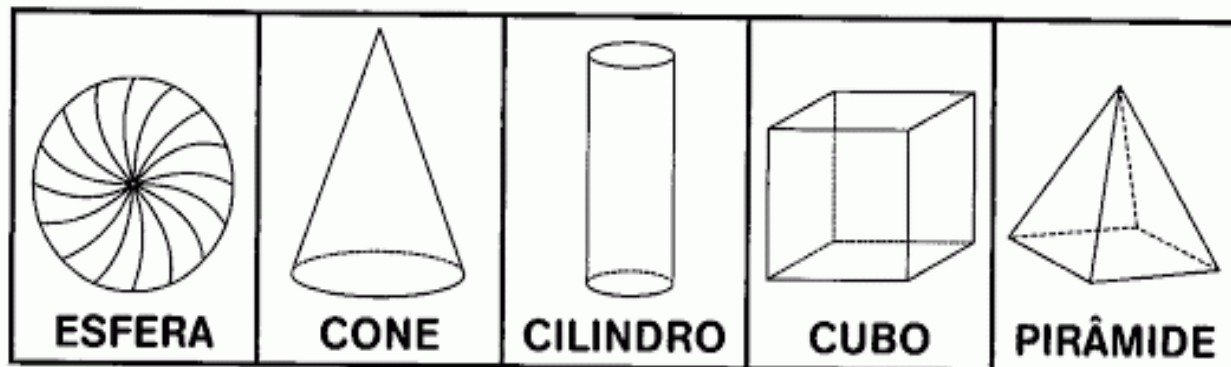
1. QUAL É O TÍTULO DO TEXTO?

2. O QUE BETO TEM?

3. O QUE BETO ADORA FAZER?

MATEMÁTICA

➔ **PROCURE NO CAÇA-PALAVRAS OS NOMES DOS SÓLIDOS GEOMÉTRICOS. VEJA O QUADRO ABAIXO PARA RECORDAR:**



IBIÚNA, 05 DE NOVEMBRO DE 2021.

ESCOLA: _____
IBIÚNA, _____
NOME: _____

LÍNGUA PORTUGUESA

1- COMPLETE COM:

CHA CHE CHI CHO CHU

	_____ VE
	_____ VEIRO
	_____ PÉU
	_____ NELO
	_____ PETA
	_____ VA
	_____ LEIRA

<http://atividadesdaProfessorabel.blogspot.com.br/> Página 144

<https://br.pinterest.com/pin/658229301781686051/>

COPIE AS PALAVRAS DA ATIVIDADE ACIMA:

MATEMÁTICA/ARTE




ESCOLA: _____
TURMA: _____ PROFESSOR(A): _____
EU SOU: _____

- 1- VERMELHO
- 2- LARANJA
- 3- AMARELO

PINTURA DIRIGIDA

- 4- VERDE
- 5- AZUL
- 6- LILÁS



A ARTE DE ENSINAR E APRENDER