

Interpretando texto:

O gatinho Tetéu

Tetéu é um gatinho muito fofo e gosta de ficar no colo de sua dona Marina.

Um dia ele estava sentado no sofá quando deu um pulo que caiu no chão assustado. Olhou a sua volta viu que tinha um passarinho na janela que estava fazendo barulho.

Preocupado correu até ele e o passarinho assustado voou.

Tetéu assustado pulou no colo de Marina. Quando ela viu seu gatinho assustado correu fechar a janela e começou a dar carinho para ele que se acalmar.



a) Qual é o título do texto?

b) O texto fala de um?

() cachorro

() Gato

() Pato

c) Qual é o nome do gatinho?

d) Qual é o nome da dona do gatinho?

IBIÚNA, 18 DE OUTUBRO DE 2021

e) O que Tetéu gosta de fazer?

f) Com o que Tetéu se assustou?

g) Que animal apareceu na janela?


Macaco

Galo

Passarinho

h) O que Marina fez?

i) Use sua criatividade e ilustre a história:



IBIÚNA, 19 DE OUTUBRO DE 2021

1 – ESCREVA O NUMERAL QUE ESTÁ ENTRE OS NÚMEROS ABA

8 _____ 10

40 _____ 42

13 _____ 15

53 _____ 55

16 _____ 18

67 _____ 69

22 _____ 24

69 _____ 71

25 _____ 27

86 _____ 88

36 _____ 38

92 _____ 94

2 – ESCREVA OS NÚMEROS QUE ESTÃO FALTANDO:

01 – 02 04 – 05 07 - 08 10

11 – 12 14 – 15 17 – 18 20


21 – 22 24 – 25 27 – 28 30

31 – 32 34 – 35 37 – 38 40

IBIÚNA, 19 DE OUTUBRO DE 2021

1 0 0 C E M C E N T O

1 C E N T E N A



QUANTOS SÃO UMA CENTENA? _____

0	1	2	3			6			9
10				14	15			18	19
	21					26			29
30		32			35				39
40			43				47		49
	51			54				58	
60					65				69
	71					76			79
80		82					87		
90					95			98	99

CICLO VITAL


OS SERES VIVOS NASCEM, CRESCEM SE REPRODUZEM E MORREM, ESTA SEQUÊNCIA É CHAMADA DE CICLO VITAL. DESENHE AS FASES DA VIDA DE UMA PESSOA.

BEBÊ	CRIANÇAS	ADOLESCENTE	ADULTO	IDOSO

OS SERES VIVOS PASSAM POR VÁRIAS TRANSFORMAÇÕES AO LONGO DA VIDA. OBSERVE ESTA PLANTA DE TOMATE DESDE A SEMENTE ATÉ OS FRUTOS.

QUE NOME DAMOS A ESSA SEQUÊNCIA DE EVENTOS?

- () NASCIMENTO
- () REPRODUÇÃO
- () CICLO VITAL
- () DESENVOLVIMENTO



IBIÚNA, 20 DE OUTUBRO DE 2021

SERES VIVOS E FATORES NÃO VIVOS

1 – OBSERVE AS PALAVRAS E SIGA AS ORIENTAÇÕES:

ROCHA	ARARA	NUVEM
SOLO	ÁGUA	MACACO
VENTO	CHUVA	COQUEIRO
ÁRVORE	FLOR	LEÃO



➤ PINTE AS PALAVRAS COM A COR..

 O NOME DOS SERES VIVOS;

 OS FATORES NÃO VIVOS;

2 – QUAL É O SER VIVO? USE AS DICAS E LIGUE:

SOU BONITA E ENFEITO OS JARDINS.

MEU PESCOÇO É GRANDE.

SOU UMA FRUTA GOSTOSA



MESES DO ANO

1º JANEIRO
2º FEVEREIRO
3º MARÇO
4º ABRIL
5º MAIO
6º JUNHO
7º JULHO
8º AGOSTO
9º SETEMBRO
10º OUTUBRO
11º NOVEMBRO
12º DEZEMBRO

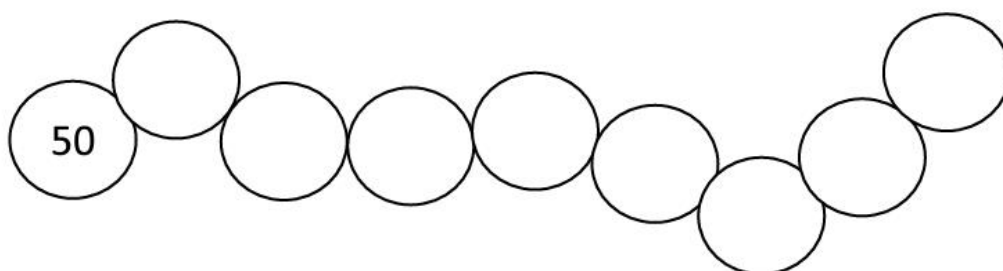
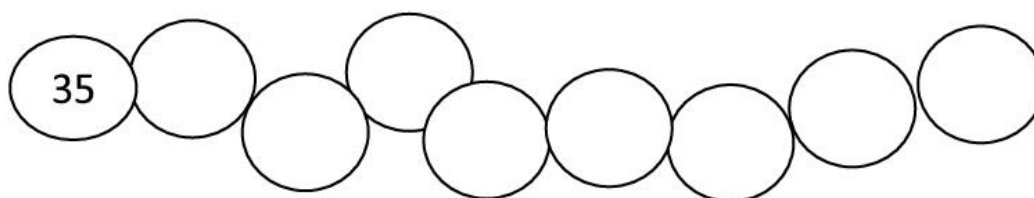
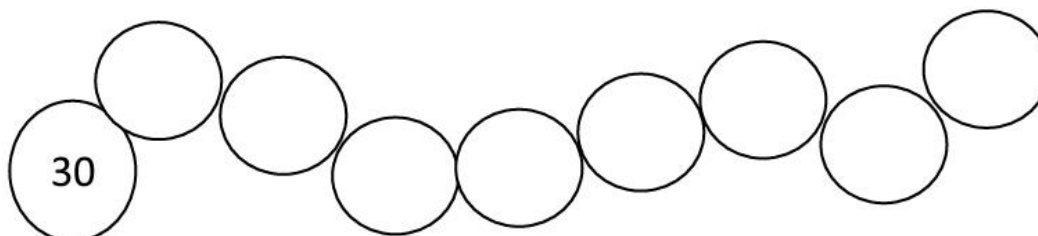
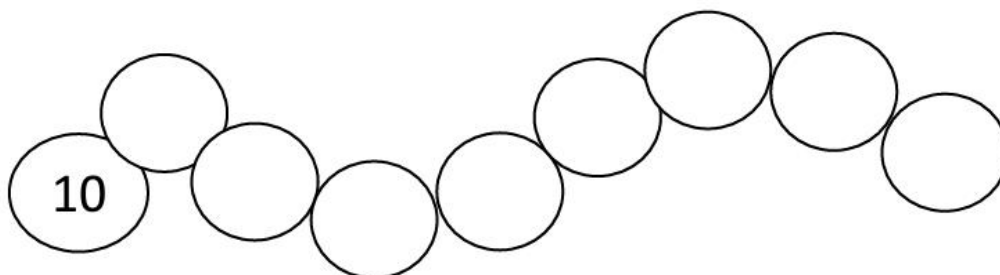
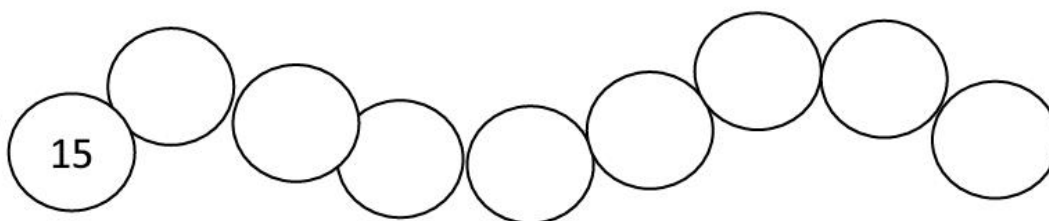
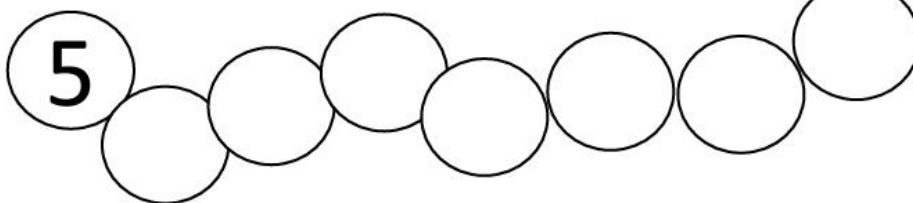


➤ RESPONDA AS QUESTÕES ABAIXO:

- QUANTOS MESES EXISTEM EM UM ANO?
- PINTE DE AZUL O MÊS DO SEU ANIVERSÁRIO.
- QUAL É O PRIMEIRO MÊS DO ANO?
- QUAL É O ÚLTIMO MÊS DO ANO?
- QUAL É O MÊS QUE TEM O MAIOR NÚMERO DE LETRAS?
- QUAL É O MÊS QUE POSSUI QUATRO LETRAS?
- QUAL É O MÊS QUE FESTEJAMOS O NATAL?
- QUAL É O MÊS QUE FESTEJAMOS A PÁScoa?
- QUAL É O MÊS QUE FESTEJAMOS O DIA DAS CRIANÇAS?

IBIÚNA, 21 DE OUTUBRO DE 2021

➤ **PRESTE ATENÇÃO NA SEQUÊNCIA, AGORA DE 2 EM 2.**



ATIVIDADE COM SÍLABA INICIAL

- MARQUE UM X NO QUADRINHO ONDE ESTÁ ESCRITO A PRIMEIRA SÍLABA DO NOME DA IMAGEM :

AR

ÁR

ÓR



- A PALAVRA ÁRVORE TEM:

3 SÍLABAS E 3 LETRAS

3 SÍLABAS E 4 LETRAS


3 SÍLABAS E 6 LETRAS

- MARQUE UM X NO QUADRINHO ONDE ESTÁ ESCRITO A PRIMEIRA SÍLABA DO NOME DA IMAGEM :

LA

MA

CA



- A PALAVRA CACHORRO TEM:

4 SÍLABAS E 5 LETRAS

5 SÍLABAS E 8 LETRAS

3 SÍLABAS E 8 LETRAS

ENCONTROS VOCÁLICOS

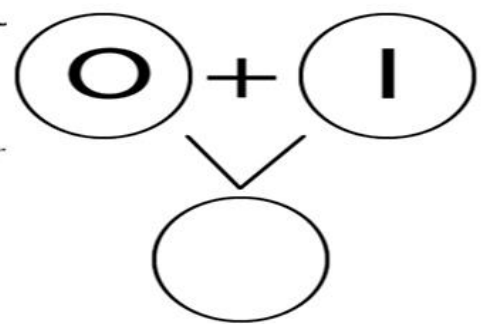
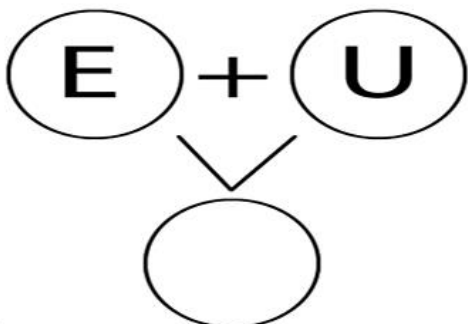
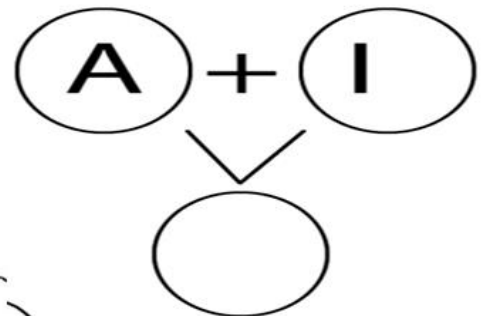
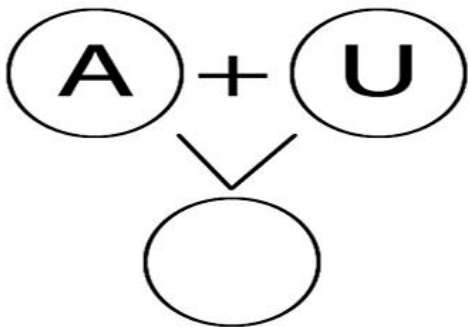
➤ JUNTE AS VOGAIS E LEIA:

A + I:	E + U:
I + A:	O + I:
E + I:	U + A + I:

➤ LEIA AS PALAVRAS E LIGUE COM AS IMAGENS:



➤ JUNTE AS VOGAIS E LEIA A PALAVRA QUE IRÁ FORMAR:



BRINCADEIRAS ANTIGAS

1 – ESCREVA O NOME DE CADA BRINQUEDO ABAIXO:



2 – QUAL DOS BRINQUEDOS ACIMA VOCÊ ACHA QUE AS CRIANÇAS BRINCAVAM ANTIGAMENTE. ESCREVA ABAIXO.

3 – ESCREVA QUAL DOS BRINQUEDOS DA QUESTÃO 1 VOCÊ CONHECE E BRINCA.

4 – ESCREVA QUAL BRINCADEIRA VOCÊ MAIS GOSTA DE BRINCAR:


5 – FAÇA UMA PESQUISA SOBRE QUAIS BRINCADEIRAS SEUS PAIS OU AVÓS BRINCAVAM NO PASSADO E ESCREVA.

IBIÚNA, 25 DE OUTUBRO DE 2021

6 - PESQUISE NOMES DE BRINCADEIRAS ANTIGAS E ESCREVA ABAIXO:

7- PESQUISE NOMES DE BRINCADEIRAS ATUAIS E ESCREVA ABAIXO:

8 – FAÇA UM DESENHO COM SEUS BRINQUEDOS OU BRINCADERIAS PREFERIDAS.



PAR E ÍMPAR



PAR





ÍMPAR

OS NÚMEROS PARES SÃO AQUELES TERMINADOS EM: **0-2-4-6-8**

OS NÚMEROS ÍMPARES SÃO AQUELES TERMINADOS EM: **1-3-5-7-9**

➤ JUNTE OS PARES:



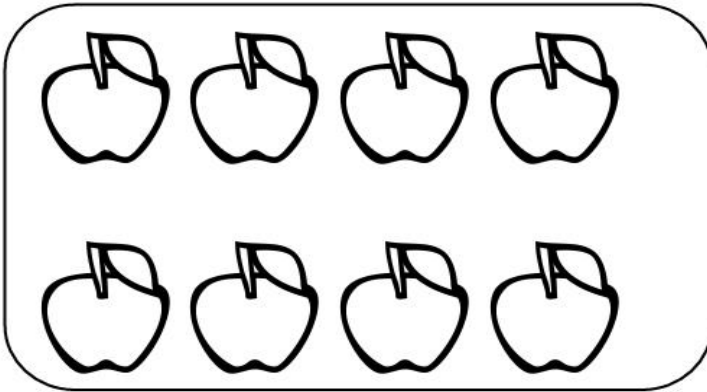
▪ QUANTOS PARES FORMOU?

▪ SOBROU ALGUM ELEFANTE?

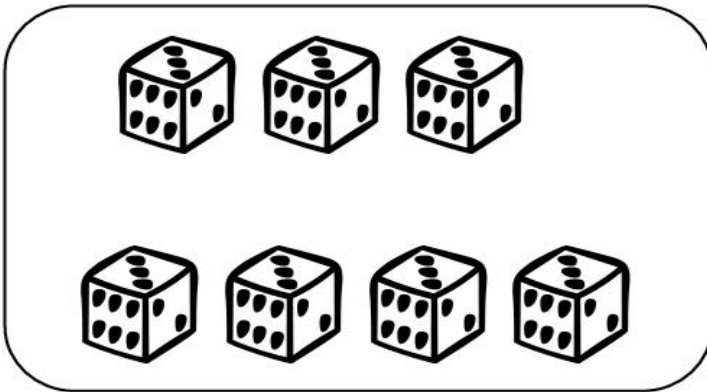
▪ ESSE É UM NÚMERO PAR OU ÍMPAR?

IBIÚNA, 26 DE OUTUBRO DE 2021

- FORME CONJUNTOS DE 2 EM 2 E RESPONDA:




- PAR
- ÍMPAR




- PAR
- ÍMPAR



- PAR
- ÍMPAR

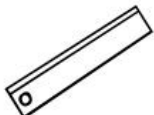



- PAR
- ÍMPAR



- PAR
- ÍMPAR

CONTE E ESCREVA A QUANTIDADE DE CADA IMAGEM



2- Resolva as operações:

$75 - 6 =$

D	U

$90 - 4 =$

D	U

$59 - 5 =$

D	U

$51 - 5 =$

D	U

$19 - 21 =$

D	U

$53 - 13 =$

D	U

$43 - 13 =$

D	U

$24 - 22 =$

D	U

	D	U
	○	
	3	7
+	5	8
<hr/>		
	○	○

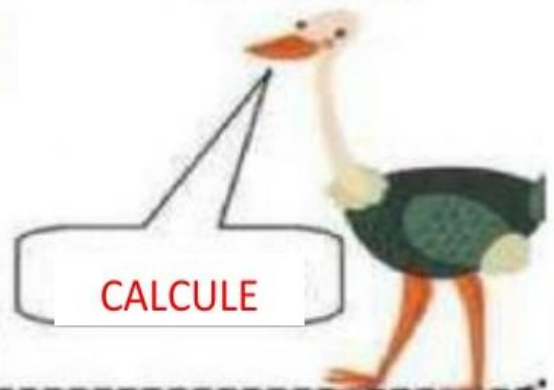
	D	U
	○	
	6	5
+	2	5
<hr/>		
	○	○

	D	U
	○	
	3	4
+	2	9
<hr/>		
	○	○

	D	U
	○	
	4	8
+	3	3
<hr/>		
	○	○

	D	U
	○	
	4	5
+	2	9
<hr/>		
	○	○

CALCULE



NOME: _____

O CALDEIRÃO DA BRUXA



GATO
SAPO
RATO



E O CORDÃO DO SAPATO



TUDO NA PANELA

PÓ DE CAFÉ

BOTÃO DE BONÉ



E UNHA DO DEDÃO DO PÉ

MEXE MEXE MEXE ...



E JOGA TEMPERO NELA!

JOGA TEMPERO NELA!

JOGA TEMPERO NELA!



COMIDA DE BRUXA

É UM LUXO!

PARA O BRUXO...



GLÁUCIA LEMOS

NOME: _____

O CALDEIRÃO DA BRUXA





E O CORDÃO DO _____



TUDO NA _____

PÓ DE _____

BOTÃO DE _____



E _____ DO DEDÃO DO _____



MEXE _____ MEXE ...



E JOGA TEMPERO NELA!

JOGA TEMPERO NELA!

JOGA TEMPERO NELA!



COMIDA DE _____

É UM LUXO!

PARA O _____



GLÁUCIA LEMOS

IBIÚNA, 29 DE OUTUBRO DE 2021

O CALDEIRÃO DA BRUXA

Vamos conversar sobre o texto?

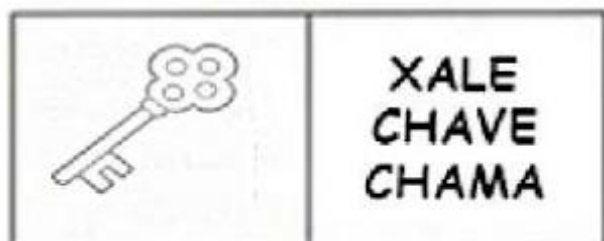


1- Desenhe no caldeirão os ingredientes usados pela bruxa:



2- Agora escreva o nome de cada ingrediente:

INGREDIENTES	
1	
2	
3	
4	
5	
6	
7	

Pinte o nome da figura



IBIÚNA, 03 DE NOVEMBRO DE 2021

ALFABETO

ESCREVA UMA PALAVRA PARA CADA LETRA ABAIXO:

A _____ N _____

B _____ O _____

C _____ P _____

D _____ Q _____

E _____ R _____

F _____ S _____

G _____ T _____

H _____ U _____

I _____ V _____


J _____ W _____

K _____ X _____

L _____ Y _____

M _____ Z _____

**PINTE AS LETRAS QUE FORMAM O NOME DA
IMAGEM, DEPOIS ESCREVA DE FORMA CORRETA:**



A B O
U D A
C A V A




A B O
U S A
C R V A



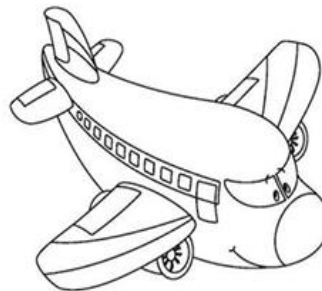
Á R O
U D E
R A V A



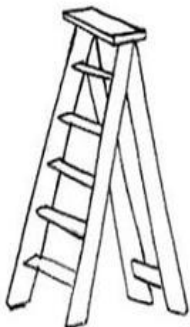
E B T
E S A C
R L A



A R X
C B E I
A V A



A Ñ O
U S A
C I V A



A D X
C B E I
S V A





A R D
C B E I
S P A

IBIÚNA, 04 DE NOVEMBRO DE 2021

CAÇA-PALAVRAS "NH"

D	I	N	H	E	I	R	O	R	B	M
C	G	C	Ç	O	R	Q	R	N	A	I
W	A	I	I	I	J	R	A	I	R	N
C	A	M	I	N	H	Ã	O	N	A	H
Q	H	Ç	T	Ç	N	I	P	H	N	O
B	A	R	E	D	R	S	A	O	H	C
G	A	L	I	N	H	A	B	S	A	A



ENCONTROS CONSONANTAIS

➤ Escreva uma palavra para cada encontro consonantal a seguir:

BL

BR

CL

CR

DR

FL

FR

GL

GR

PR


PN

TL

TR

VR

➤ Escreva 5 frases com diferentes encontros consonantais:

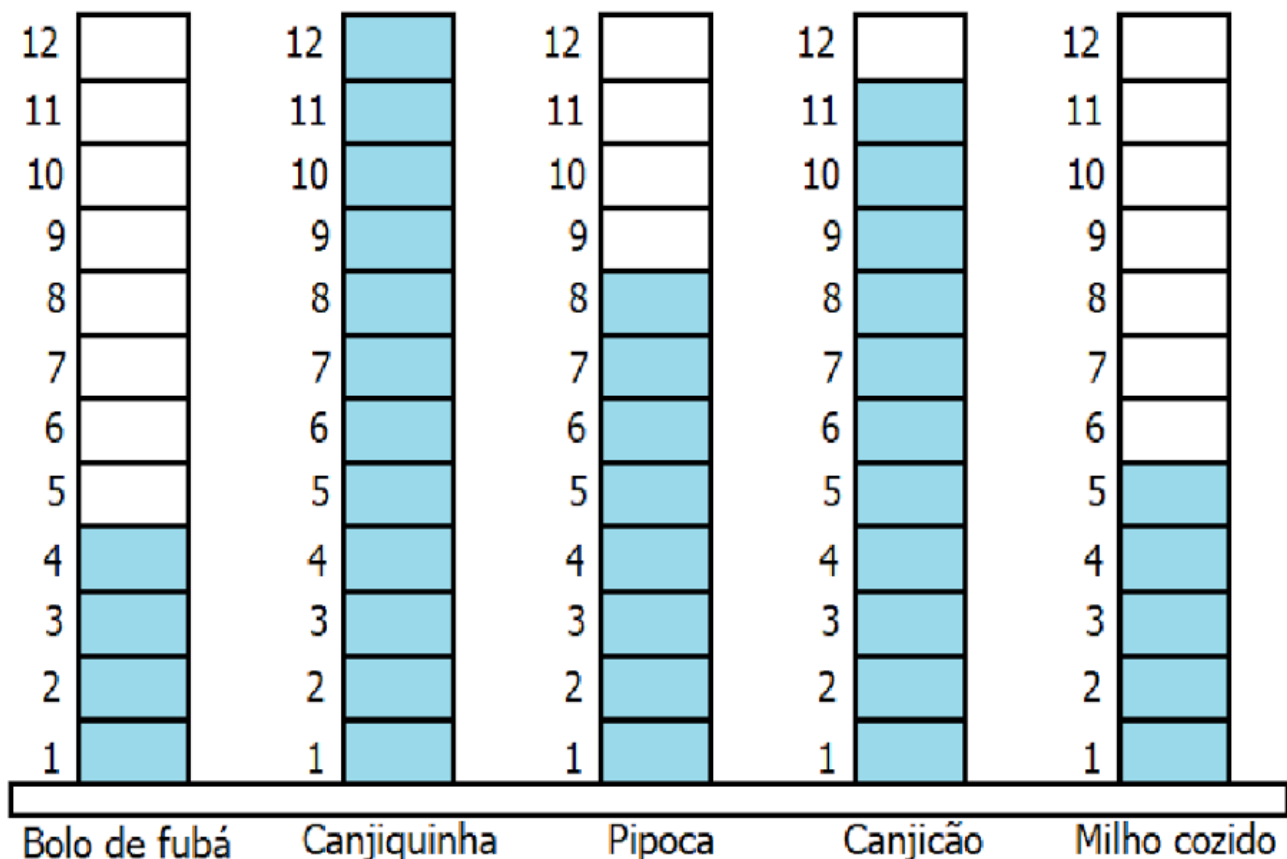


Trabalhando com gráfico

As crianças fizeram nas duas turmas do 3º ano uma pesquisa para saber qual a comida de festa junina preferida.

Com a coleta de dados, foi montado um gráfico das comidas mais votadas.

Observando os dados do gráfico, resolva as questões a seguir.



1) Quantos alunos participaram da entrevista?

2) Qual alimento foi menos votado?

3) Qual foi o mais votado?

IBIÚNA, 05 DE NOVEMBRO DE 2021



Fonte oficial: Internet.

O MUNDO É FEITO DE CORES

- 1) OBSERVE O DESENHO ACIMA E FAÇA UMA RELEITURA DESSA IMAGEM.**

REFERÊNCIAS

Sites:

materiaispdg.com.br

<https://www.lipitipi.org/2011/07/tabuada-divertida-multiplicacao-1-9.html>

www.krokotak.com

<https://br.pinterest.com/pin/486599934740581904/>

@atividadesanosiniciais

Apostilas em PDF:

- ✓ atividades 3ºano PDF prefeitura municipal de Fundão estado do espirito santo, secretária municipal de educação e sistema municipal de ensino 2021. 1º Bloco de atividades ensino fundamental I;
- ✓ atividades domiciliares PDF apostila II 3ºano- Ensino Fundamental- Prefeitura Municipal de São Vicente;
- ✓ atividades domiciliares PDF apostila III 3ºano- Ensino Fundamental- Prefeitura Municipal de São Vicente;