

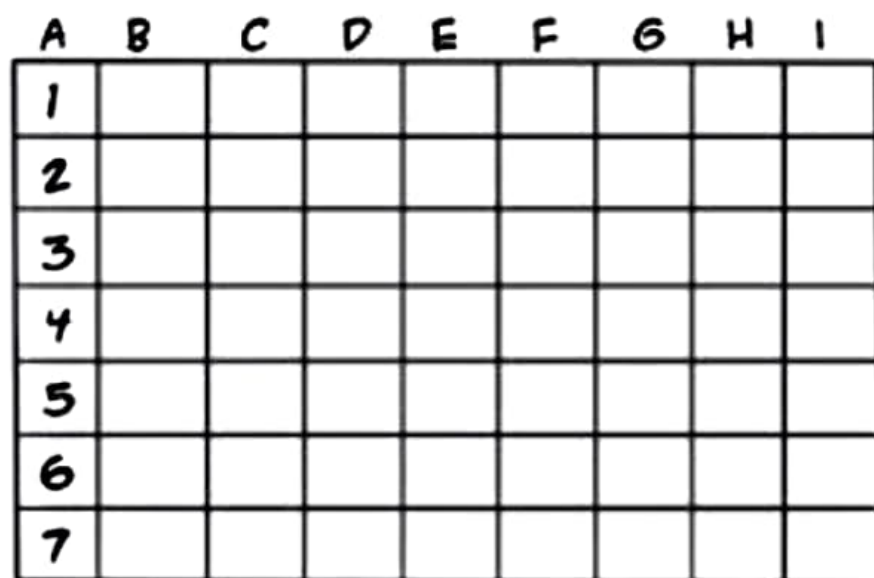

DESENHANDO QUADRO A QUADRO

(faixa etária: 8 a 10 anos)

AS PRÓXIMAS ATIVIDADES SÃO BASEADAS NA TÉCNICA DE DESENHAR QUADRO A QUADRO, SEGUINDO A ORIENTAÇÃO DE LETRAS E NÚMEROS EM GRÁFICOS, FACILITANDO, ASSIM, A REPRESENTAÇÃO DOS TRAÇADOS.


DESSA FORMA, VOCÊ TAMBÉM APRENDERÁ A TRABALHAR COM A LEITURA DE TABELAS E GRÁFICOS EM MATEMÁTICA! MÃOS À OBRA!

SOL E NUVEM



O Ciclo da Gotinha


◆ Leia e numere de 1 a 6 a história da gotinha d'água:



De tão pesadas que ficam, elas caem para molhar a terra.




O sol muito forte faz a gotinha evaporar.




E ela sobe para as nuvens.



E se juntam virando gotas grandes e pesadas.



Lá no alto, num lugar muito frio ela se encontra com milhares de gotinhas.



E com o calor do sol a gotinha e suas companheiras evaporam-se novamente.

• Escreva, com suas palavras, o que você entendeu:

A PODER EXECUTIVO

B PODER LEGISLATIVO

C PODER JUDICIÁRIO

() PRESIDENTE

() DEPUTADO FEDERAL

() JUIZ FEDERAL

() VEREADOR

() SENADOR

() GOVERNADOR

() PREFEITO

() DEPUTADO ESTADUAL

() JUIZ ESTADUAL



CRUZADINHA




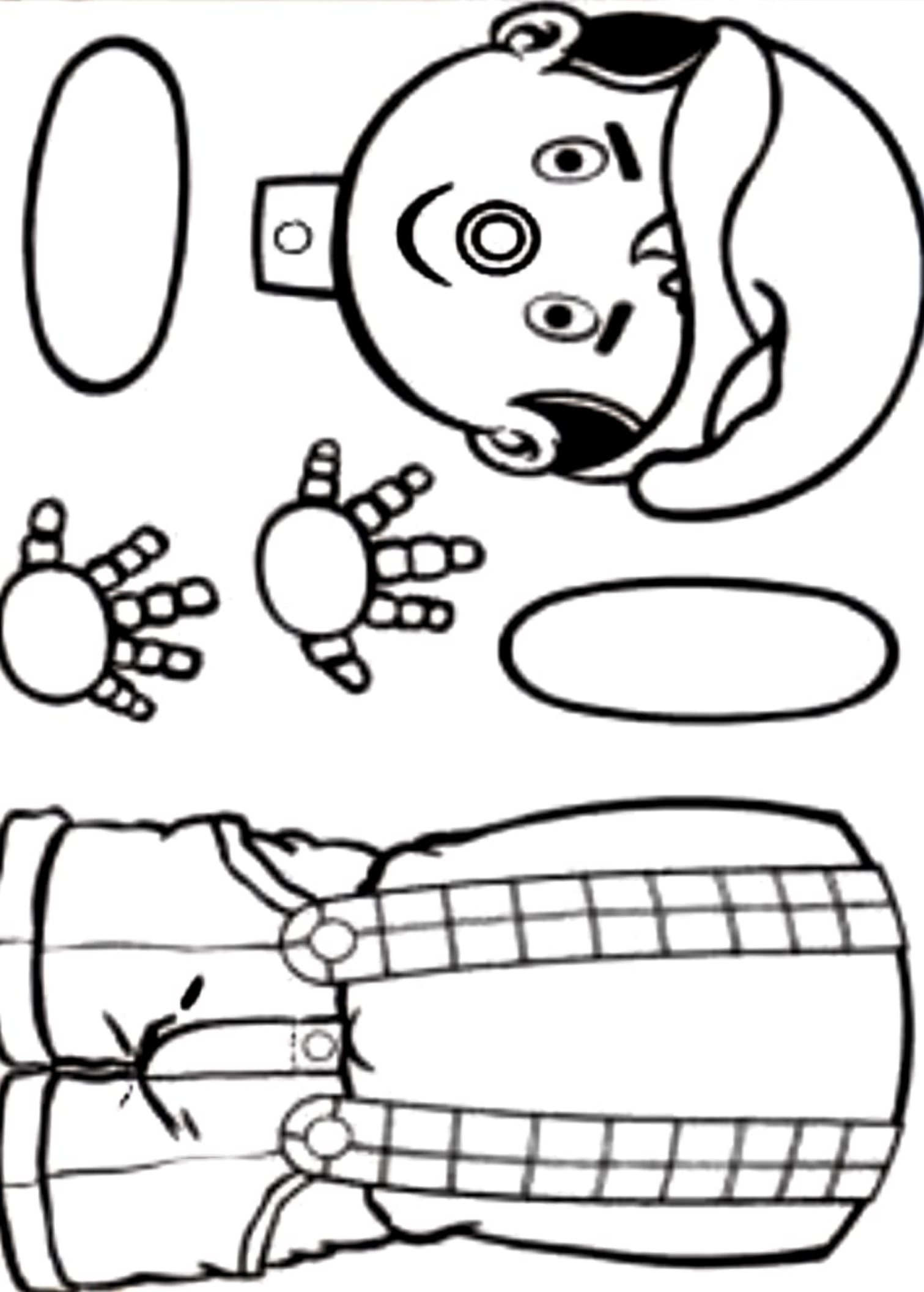
www.smartkids.com.br

Complete a cruzadinha com as palavras em destaque no quadro abaixo:

Você sabia?

- 1 - No Brasil muitos se envolveram com a causa do **aboliconismo**.
- 2 e 3 - Os portugueses buscavam negros na **África** para trabalharem como **escravos**.
- 4 - Os escravos trabalhavam nas **lavouras** de cana de açúcar, café e algodão.
- 5 - Finalmente em 13 de maio de 1888 a **Princesa** Isabel assina a Lei Áurea.





ESCOLA _____

NOME: _____

DATA: ____ / ____ / ____



MATEMÁTICA

FEVEREIRO



D	S	T	Q	Q	S	S
					1	2
3	4	5	6	7	8	9
10	11	12	13	14	15	16
17	18	19	20	21	22	23
24	25	26	27	28		

- QUANTOS SÁBADOS
HÁ EM FEVEREIRO?

- QUE DIA NO CALENDÁRIO
É 20 DE FEVEREIRO?

- ESCREVA O DIA DO MÊS
QUE INICIOU AS AULAS.

- QUANTAS SEMANAS
COMPLETAS TEM ESTE MÊS?

- QUAL É O ÚLTIMO DIA
DO MÊS?

- QUANTOS DIAS TEM A
ÚLTIMA SEMANA?



Big Brothers Circus

Armado no Caxias Shopping - RJ

Inf.: (21) 8368-5708

Diretamente de São Paulo

ESQUADRIGANS

Show ao Vivo

Sábado e Domingo às
16:00, 18:00 e 20:30h.

Criança de até 12 anos,
com este bônus,

R\$ 5,00

ESPETÁCULO DO
CIRCO + SHOW

SUCESSO DA



1) QUE TIPO DE PROPAGANDA É ESTA?

2) QUAL O NOME DO CIRCO?

3) DE QUEM SERÁ O SHOW?

4) ONDE SERÁ REALIZADO O SHOW?

5) DE QUE LUGAR ESTÁ VINDO ESTE ESPETÁCULO?

E.M "PROF. YOLANDA AGOSTINHO DE LIMA"

MINHAS ATIVIDADES

NOME: _____

ATIVIDADE DO 4º BIMESTRE

REMESSA: 13º

DIAS 18/10 ao 29/10/2021

ENTREGAR À ESCOLA DIA 03/11/2021

PROF.: JANETE SOARES MENDES

TURMA: 4º ANO A



2021

BOM TRABALHO