

**E.M “PROF. YOLANDA AGOSTINHO DE LIMA”**

# **MINHAS ATIVIDADES**

**NOME:** \_\_\_\_\_

**REMESSA:** 13<sup>a</sup>

**DIAS:** 18/10/2021 a 05/11/2021

**PROF.:** Márcia Maria Machado Cordeiro Fanti

**TURMA:** 5º. Ano B



**2021**

**BOM TRABALHO!**



Por que será que a Turminha foi chamada?

Leia a tirinha e escreva uma pequena cena sobre o motivo que levou o Franjinha a convocar todos para uma reunião:



Em uma bela tarde de sol Franjinha resolveu começar a solucionar mistérios. Ele sabia que sozinho não conseguiria. Foi então que teve uma brilhante ideia: chamar todos os meninos da turminha para serem detetives! Ligou para Cascão, Cebolinha e para o resto da garotada.

Quando Cascão chegou ao clubinho viu Cebolinha e perguntou:

- O Franjinha te chamou para uma reunião também? E Cebolinha respondeu:
- Chamou...

Quando olharam para trás viram que o restante dos meninos da turma também estava lá. Foi então que Franjinha surgiu com uma lupa. E disse que todos estavam convidados a solucionar o mistério da

.....  
 .....

Ao final do dia, todos .....

.....  
 .....





Uma turminha resolveu montar situações-problema para resolver nesta quarentena. Tudo que acontece em casa virou uma problemática cheia de desafios numéricos!

A avó de Alice lê todos os dias um livro de poesias. Sabendo que ela já leu 382 páginas e que faltam 278 para ela terminar, quantas páginas há ao todo neste livro?

**Cálculo**

**Resposta:** Há no livro \_\_\_\_\_ páginas.



A avó do menino Pedro nasceu em 1956. Quantos anos ela fará em 2020?

**Cálculo**

**Resposta:** Ela fará \_\_\_\_\_ anos.



A fábrica em que o pai de Lucas trabalha ainda está fechada por causa da pandemia. Nela trabalham 1265 funcionários durante o dia e 975 à noite. Quantos funcionários trabalham ao todo na fábrica do pai de Lucas?

**Cálculo**

**Resposta:** Trabalham \_\_\_\_\_ funcionários.





### Agora você é o escritor!

Complete o meio da história abaixo usando sua imaginação e sua criatividade.  
Não se esqueça do título e de pintar a cena!



João foi à sorveteria comprar um gostoso sorvetão com bastante cobertura de chocolate. Mas quando chegou lá, percebeu que tinha esquecido o dinheiro em casa.  
Então ele.....

---



---



---



---



---



---



---



---

E assim, conseguiu tomar o seu gostoso sorvete.



Antes da pandemia alguns alunos da turma 402 de uma escola brincaram de adivinhar numerais! Olha que legal! Eles escreveram dicas para você adivinhar!

Você consegue!!!

Veja as dicas abaixo e escreva os numerais corretos nos quadradinhos.

999	538	100	455	327
-----	-----	-----	-----	-----



É o **menor** numeral formado por três algarismos.

MILA



É um número **impar** e vem **antes** do 456.

PEDRO



Fica **entre** o 326 e o 328.

JAQUE



É o **maior** numeral formado por três algarismos.

OLAVO



É um número **par** e vem **depois** do 537.

LUANO

➔ Descubra...

A **metade** do valor de Mila é:  25.  40.  50.

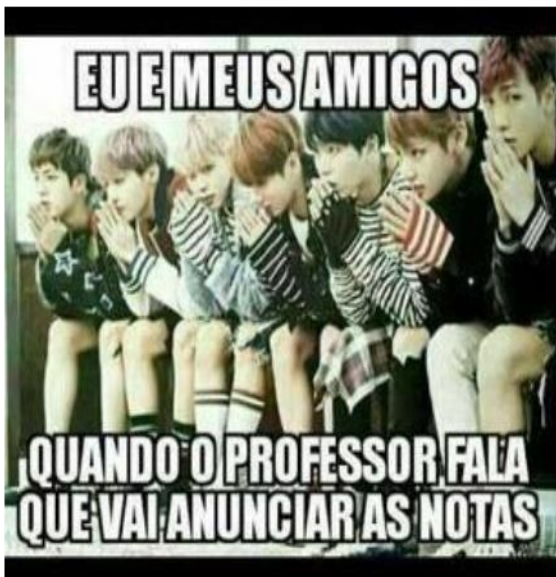
A **soma de todos os algarismos** do número de Jaque é igual a:  12.  14.  18.

### Você sabe o que é um “meme”?

Na internet, a expressão “meme” é usada para se referir a qualquer informação - imagens, vídeos ou gifs (vídeos muito curtos) de conteúdo engraçado, e que acabam se espalhando por meio das redes sociais ou fóruns.



➡ Veja os memes abaixo e depois responda:



a) No meme ao lado, os meninos estão:

- alegres.  
 doentes.  
 preocupados.

b) Na sua opinião, por que eles parecem estar desse jeito?

.....  
 .....  
 .....

a) Neste meme, qual das figuras parece combinar com a frase “**Férias chegando**”, a primeira ou a segunda? .....

Por que você pensa assim? .....

.....

b) E qual figura combina com a frase “**Fiquei de recuperação**”? .....

Por que você pensa assim? .....

.....

.....





Hoje falaremos sobre medidas de massa!  
Trabalhando com quilograma = Kg.

Veja os preços desses alimentos e resolva as situações-problema.

<b>Maçã ou pera</b> – o quilograma (Kg).....	R\$ 4,00
<b>Uva</b> – o quilograma (Kg).....	R\$ 6,00
<b>Caqui</b> – a dúzia.....	R\$ 2,00
<b>Alface crespa</b> – o pé.....	R\$ 1,00
<b>Batata</b> – o quilograma (Kg).....	R\$ 4,00
<b>Cebola</b> – o quilograma (Kg).....	R\$ 2,00
<b>Ovos</b> – 6 unidades .....	R\$ 2,00



Calcule quanto Alice gastará se comprar:

2kg de maçã	1kg e meio de pera	2kg de uva	2 dúzias e meia de caqui	5 pés de alface crespa	6 kg de batata



Aprendendo um pouco mais sobre o campo e a cidade!  
Aproveite e dê um colorido ao desenho!!!

## A Relação Cidade – Campo



O campo e a cidade possuem funções e atividades diferentes, porém se complementam. Cabe ao campo a produção de alimentos, que serão consumidos e diversos tipos de matérias-primas que as indústrias transformam em bens de consumo: tecidos, calçados, móveis, alimentos industrializados, etc.


As cidades se urbanizam, em função principalmente da atividade industrial e do crescimento do setor de serviços, o campo precisa se tornar mais produtivo para atender ao crescente consumo nas cidades. Com o desenvolvimento industrial o campo precisa das cidades para comprar máquinas e tecnologia para aumentar a produção.

➡ Ligue as matérias-primas encontradas no campo com os bens fabricados pelas indústrias nas cidades:

Algodão
Madeira
Couro
Leite
Soja

óleo
sapatos, cintos
tecidos
móveis
iogurte, queijo





Brinquedos	Quantidade
A - Carros	<input type="text"/>
B - Helicóptero	<input type="text"/>
C - Bolas	<input type="text"/>
D - Jogos	<input type="text"/>
E - Miniaturas	<input type="text"/>
F - Patins	<input type="text"/>



Veja quantos brinquedos Paulo tem pelo gráfico e depois responda!

a) Qual é o brinquedo que Paulo tem em maior quantidade?

b) E em menor quantidade?

c) Sabendo quantas bolas tem Paulo, que brinquedo tem a **metade** dessa quantidade?

d) Qual a **diferença** entre a quantidade de jogos e a quantidade de miniaturas?

● Agora, observe a quantidade de cada brinquedo e calcule o que se pede:

carros + jogos

helicópteros + miniaturas

bolas + patins + miniaturas

carros + helicópteros + bolas



Assistir televisão é legal, mas eu prefiro brincar. Assim que essa pandemia passar, vou brincar muito com meus amigos!

## TELEVISÃO



Televisão é uma caixa de imagens que faz barulho.

Quando os adultos não querem ser incomodados, mandam as crianças assistirem à televisão.

O que eu gosto mais na televisão são os desenhos animados de bichos.

Bicho imitando gente é muito mais engraçado do que gente imitando gente como nas telenovelas.

Não gosto muito de programas infantis com gente se fingindo de criança.

Em vez de ficar olhando essa gente brincar de mentira, prefiro ir brincar de verdade com meus amigos e amigas.

Também os doces que aparecem anunciados na televisão não têm gosto de coisa alguma porque ninguém pode comer uma imagem.

Já os doces que minha mãe faz e que como todo dia, esses sim, são gostosos.

Conclusão: A vida fora da televisão é melhor do que dentro dela.

José Paulo Paes

1- O meio de comunicação ao qual o texto se refere é:

- rádio.     internet.     televisão.

2- A que conclusão o autor chega ao final do texto?

- A televisão é o melhor passatempo que existe.
- A vida fora da televisão é melhor do que dentro dela.
- Os doces anunciados na televisão têm gosto de infância.

3- A definição de “Televisão” dada pelo autor é:

- Uma fonte de conhecimento.
- Uma coisa muito legal.
- Uma caixa de imagens que fazem barulho.

4- Qual o programa que o autor mais gosta de assistir?

- Desenhos de bichos imitando gente.
- Telenovelas.
- Desenho de gente imitando gente.



Quem é o **primeiro** a acordar na sua casa?  
E o último a dormir?

Nós já estudamos os números ordinais na apostila passada. Então, vamos ver se você se lembra? Pode pegar a apostila anterior para servir de apoio.

**DESAFIO:** Há uma palavra misteriosa abaixo.

Para completá-la você precisa seguir as orientações dadas. Uma letra já foi encontrada:

1 <sup>a</sup>	2 <sup>a</sup>	3 <sup>a</sup>	4 <sup>a</sup>	5 <sup>a</sup>	6 <sup>a</sup>	7 <sup>a</sup>	8 <sup>a</sup>
					i		

Sou a nona letra do alfabeto e ocupo a 6<sup>a</sup> posição na palavra.

Sou a primeira letra do alfabeto e ocupo a 8<sup>a</sup> posição na palavra.

Sou a terceira letra do alfabeto e ocupo a 1<sup>a</sup> posição na palavra.

Sou a décima sexta letra do alfabeto e ocupo a 5<sup>a</sup> posição na palavra.

Sou a vigésima primeira letra do alfabeto e ocupo a 2<sup>a</sup> e a 4<sup>a</sup> posição na palavra.

Sou a décima oitava letra do alfabeto e ocupo a 3<sup>a</sup> e a 7<sup>a</sup> posição na palavra.



Você conhece o Garfield?  
Os quadrinhos do Garfield são sempre muito engraçados!  
Que tal você escrever uma história deste famoso gato?!

Veja os quadrinhos abaixo e invente uma história. O início de cada quadrinho já está feito:



Garfield detesta aranhas. Um dia, ele viu uma aranha e

---

---

---

---

---

---

---

---



Garfield viu que a aranha não morreu e

---

---

---

---

---

---

---

---



Então, Garfield viu que tinha cometido um engano porque

---

---

---

---

---

---

---

---



Ano passado algumas escolas realizaram um campeonato de basquete. Observe a tabela abaixo e depois responda.

ALUNOS INSCRITOS PARA O CAMPEONATO ESCOLAR DE BASQUETE		
Idade	Meninos	Meninas
8 anos	95	47
10 anos	187	240
13 anos	356	308



Quantos são os alunos do sexo masculino?

R:

Cálculo

No total, quantos alunos têm 13 anos?

R:

Cálculo

Qual a diferença entre meninas e meninos de 10 anos?

R:

Cálculo

Quantas meninas de 8 anos faltam para completar o mesmo número de meninos?

R:

Cálculo

Calcule o total e responda: há mais meninos ou meninas?

R:

Cálculo



A casa deste texto é a mais estranha que eu já vi!  
Vamos ler?

<b>A Casa</b> <i>Vinicius de Moraes</i>	
<p>Era uma casa Muito engraçada Não tinha teto Não tinha nada Ninguém podia Entrar nela não Porque na casa Não tinha chão Ninguém podia Dormir na rede</p>	<p>Porque na casa Não tinha parede Ninguém podia Fazer pipi Porque penico Não tinha ali Mas era feita Com muito esmero Na Rua dos Bobos Número Zero</p>

● O texto que você leu é:



uma fábula.



uma receita.



um poema.

● Sobre o que fala o texto?



sobre uma casa.



sobre um parque.



sobre uma vila.

● Qual é o endereço da casa?

● Por que não se podia entrar nela?

● Escreva 3 coisas que a casa não tem:

● Quem escreveu o poema?

● A expressão “muito engraçada” é:



uma qualidade da rede.



uma qualidade da casa.



um verbo.

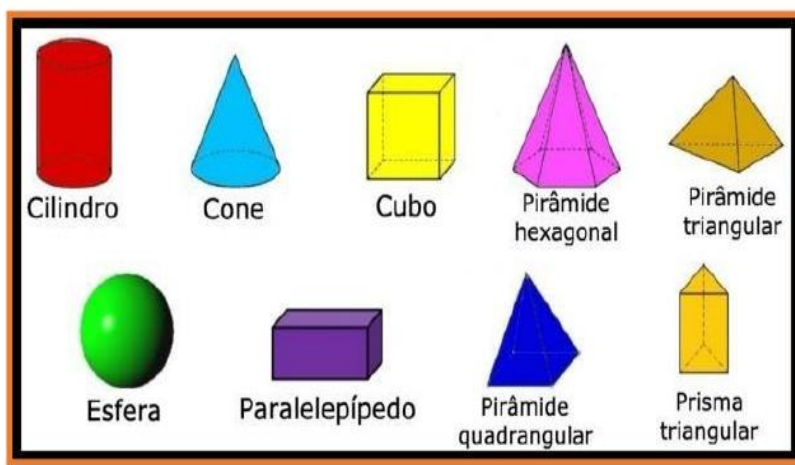
## Os sólidos geométricos e suas relações com os objetos cotidianos

Grande parte dos objetos que nos são familiares tem forma geométrica definida; são denominados **sólidos geométricos**.

Eles possuem 3 dimensões: altura, largura e comprimento.


Os nomes dos sólidos geométricos são dados, geralmente, a partir de sua característica determinante: seja em relação ao número de faces que o compõe, seja como referência a objetos conhecidos no cotidiano.

Os sólidos geométricos são:




Basta você olhar ao seu redor e irá encontrar vários sólidos geométricos!


1) – Pinte somente os objetos que lembrem a forma de um cone:




3) – Circule os objetos que lembrem a forma de uma esfera:



2) – Faça um X nos objetos que lembrem a forma de um cilindro:



4) – Pinte somente os objetos que lembrem a forma de um cubo:



**E HOJE VAMOS TER MAIS UM DESAFIO!  
SE PRECISAR, PEÇA AJUDA A UM ADULTO.**

Vamos consultar o calendário com atenção!



webid.com.br						
Maio 2020						
Domingo	Segunda	Terça	Quarta	Quinta	Sexta	Sábado
					1	2
3	4	5	6	7	8	9
10	11	12	13	14	15	16
17	18	19	20	21	22	23
24	25	26	27	28	29	30
31						

a) A semana tem 7 dias. Quais são?

.....

.....

b) Em que dia da semana o mês de maio começou? .....

c) O dia 14 corresponde a qual dia da semana? .....

d) Qual é a data do quarto sábado? ..... E a data da primeira terça-feira? .....

e) O que comemora o feriado do dia 1º de maio? .....

f) Em que dia da semana o mês termina? .....

g) O dia 20 corresponde a qual dia da semana? .....

h) Alguém da sua família faz aniversário no mês de maio? .....

i) Se tem, escreva o nome da pessoa e o dia do aniversário dela:

.....

.....



**“Água e sabão  
Pra fugir desse vilão!”  
Xô, Coronavírus!!!**





Feche os olhos e imagine que você está em uma ilha deserta! Uau!!!  
Que tal escrever como seria essa experiência?!  
Vamos para essa aventura?!



- Imagine que você está perdido em uma ilha deserta.
- Você pode se desenhar na ilha ao lado.
- Pense em todas essas perguntas:
  - ✓ Como você se chama?
  - ✓ Como você foi parar nessa ilha?
  - ✓ O que você faria?
  - ✓ O que comeria?
  - ✓ Como você saiu de lá?
- Agora, escreva em forma de texto tudo o que você imaginou.

.....  
.....  
.....

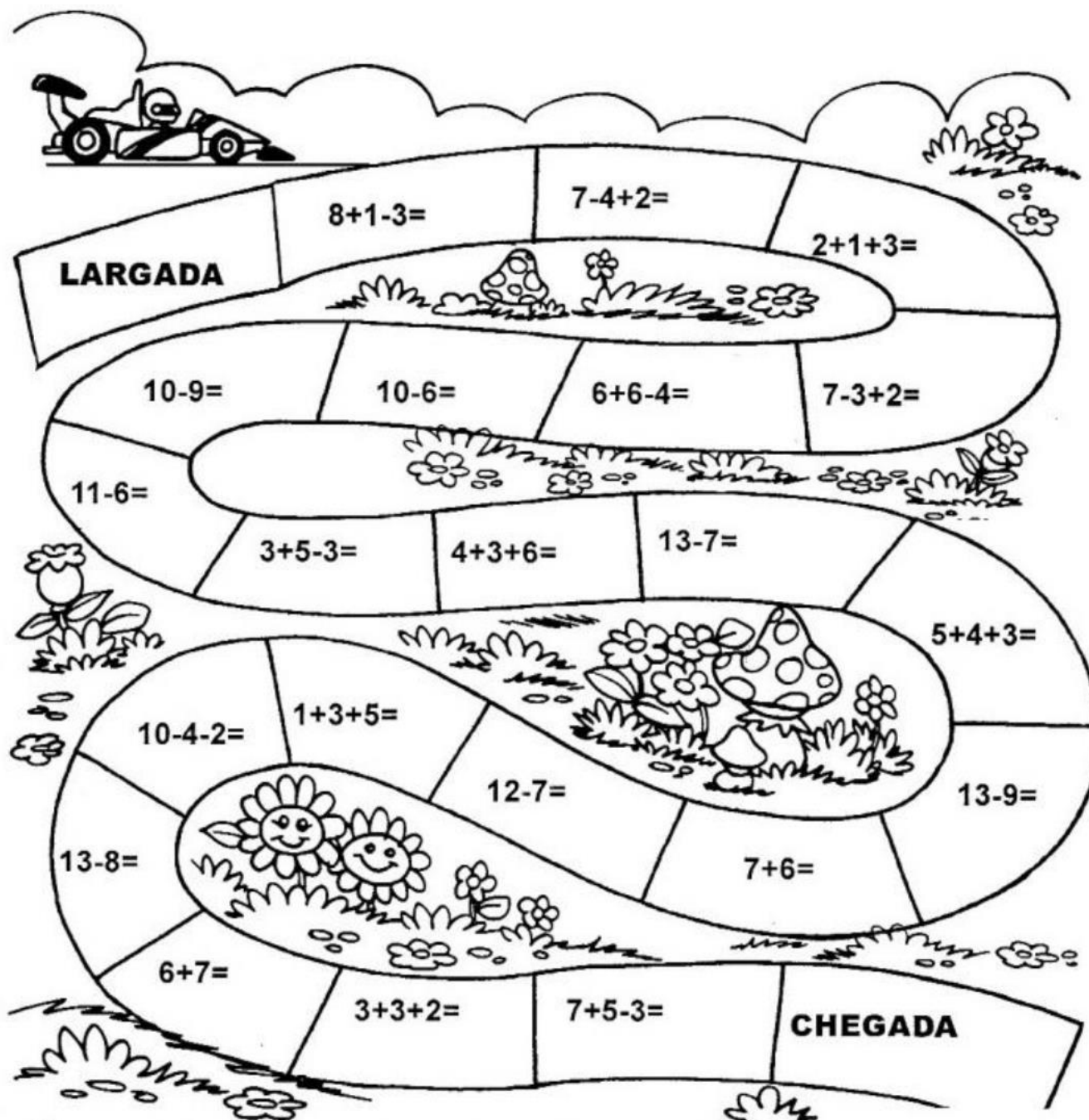
.....  
.....  
.....  
.....  
.....

Eu consegui sair de lá .....

.....  
.....


**ESTAMOS TODOS NA CORRIDA CONTRA O COVID-19!**

Faça as continhas até terminar a corrida. Depois pinte o desenho:



**ALÉM DE REALIZAR ESSA ATIVIDADE,  
NÃO ESQUEÇA DE COMER ALIMENTOS SAUDÁVEIS!  
E LAVE SEMPRE AS MÃOS!**


## A praia do coqueiro deitado

A Praia de Aventureiro, segundo muitos visitantes, é o local mais paradisíaco da Ilha Grande com deslumbrantes paisagens. Apresenta cerca de 500m de areia fina e prateada, fundo raso e consistente, água límpida e mar agitado, exceto na extremidade esquerda de quem chega pelo mar, onde existe um pequeno cais para atracação. No lado esquerdo de quem olha do mar, está o coqueiro mais famoso da Ilha Grande, o “coqueiro deitado” é cartão postal da praia de Aventureiro e da Ilha Grande, no local também existe uma pequena piscina natural.

Seu nome faz sentido porque nem sempre é fácil chegar à Praia do Aventureiro. Quando o mar está de ressaca não é aconselhável navegar, fazendo a travessia das “temíveis” pontas do Drago e Meros. Nessas circunstâncias, o único jeito para se chegar em Aventureiro é caminhando a partir da Vila de Provetá.



Que praia linda, não é mesmo?!  
Sei que você leu com bastante atenção,  
então, vai ser fácil responder!



- Sobre que praia fala o texto?
- Onde ela fica?
- Qual é o cartão postal mais famoso da Praia do Aventureiro?
- Marque um “X” nas qualidades dadas à Praia do Aventureiro:
 

<input type="checkbox"/> água límpida	<input type="checkbox"/> areia grossa	<input type="checkbox"/> mar agitado
<input type="checkbox"/> suja	<input type="checkbox"/> rasa	<input type="checkbox"/> areia fina
- A praia tem este nome porque:
  - é muito fácil chegar nela.
  - só se chega lá nadando.
  - nem sempre é fácil chegar nela e, quando há ressaca, o melhor jeito é caminhando a partir da Vila de Provetá.

TANTAS COISAS ACONTECEM NO ANO! JÁ NOTOU?

2020



Qual é o primeiro mês do ano?

Qual é o último mês do ano?

Quantos meses tem um ano?

Quantos meses têm dois anos?

E três anos quantos meses têm?

Agora vamos completar a tabela com o nome dos meses e o número de dias. E depois continue respondendo...

Primeiro Semestre			Segundo Semestre		
	Nome do mês	Nº dias		Nome do mês	Nº dias
1º mês			7º mês		
2º mês			8º mês		
3º mês			9º mês		
4º mês			10º mês		
5º mês			11º mês		
6º mês			12º mês		

Qual é a quantidade de dias?

- a) Se em uma semana há 7 dias, em duas semanas teremos \_\_\_\_\_ dias.
- b) Se uma quinzena são quinze dias, duas quinzenas são \_\_\_\_\_ dias.
- c) Se um mês possui 30 dias, três meses têm \_\_\_\_\_ dias.
- d) Se um bimestre possui dois meses, então um bimestre tem \_\_\_\_\_ dias.
- e) Se em um ano há 365 dias, em dois anos há \_\_\_\_\_ dias.

30  
730  
14  
90  
60

a) Que meses possuem 30 dias?

b) Se um semestre possui 6 meses, quais são os meses do 2º semestre do ano?



Você sabe como começou a agricultura e sua importância em nossas vidas?

29/10/2021

## O que é agricultura?

O termo agricultura quer dizer “arte de cultivar”. É o conjunto de técnicas concebidas para cultivar a terra a fim de obter produtos dela. Os produtos da agricultura são primariamente os alimentos, contudo, com os avanços nas técnicas e na tecnologia, a agricultura tem servido cada vez mais para a produção de fibras, energia, matéria-prima para roupas, combustível, construção, medicamentos, ferramentas, ornamentação e inúmeras outras finalidades. Esses produtos, bem como os métodos agrícolas utilizados, podem variar de uma parte do mundo para outra.



A irrigação é uma das técnicas agrícolas que permite o controle da produção e da produtividade, independentemente de fatores naturais.

## Origem

A agricultura marcou o início do sedentarismo humano e está essencialmente ligada ao surgimento dos primeiros agrupamentos humanos e às primeiras civilizações. Antes da agricultura, as pessoas eram nômades e passavam a maior parte de suas vidas se mudando atrás de caça e de coleta de frutos e plantas para a alimentação.

Cerca de 11.500 anos atrás, os seres humanos, gradualmente, aprenderam a cultivar cereais e tubérculos e, assim, puderam fixar-se em um único lugar e estabelecer uma vida baseada na agricultura. No mesmo período, também se iniciou a pecuária, com a gradual domesticação e criação de animais, que até então eram selvagens.

● De acordo com o texto, marque um “X” nas frases corretas:

- O termo agricultura quer dizer “a arte de cultivar”.
- A agricultura é o conjunto de técnicas concebidas para cultivar a terra e a fim de obter produtos dela.
- A irrigação é uma técnica agrícola que permite o controle da produção e da produtividade, independentemente de fatores naturais.
- Antes da agricultura, o homem era nômade, isto é, como não sabia plantar, vivia se mudando atrás de caça e pesca.
- A agricultura e a pecuária são a mesma coisa.



### Falando dos famosos...

Hoje é dia de pesquisar sobre alguma pessoa famosa que você goste! Fique esperto (a) e complete com as informações pedidas!

Recorte, de jornais ou de revistas, a foto de uma pessoa famosa (cantor, atleta, escritor, político, etc.). Pesquise sobre a pessoa escolhida e responda às perguntas abaixo.



a) Nome completo: \_\_\_\_\_

\_\_\_\_\_

b) Nome artístico: \_\_\_\_\_

\_\_\_\_\_

c) Atividade profissional: \_\_\_\_\_

\_\_\_\_\_

d) Cidade onde vive: \_\_\_\_\_

e) O que você conhece sobre ele(ela): \_\_\_\_\_

\_\_\_\_\_

f) Qual a sua opinião sobre ele(ela): \_\_\_\_\_

\_\_\_\_\_

\_\_\_\_\_



(Foto)



**Alguém da sua família já teve Zika ou Chikungunya?  
É preciso conhecer para se proteger!**

### A ZIKA E A CHIKUNGUNYA: TODO CUIDADO É POUCO

Lembra-se de quando falamos do mosquito (vetor) que transmite a dengue? Pois é, ele também transmite o vírus da chikungunya e o da zika.

A zika é uma doença recente no Brasil e só apareceu em 2015, primeiro no Nordeste e depois se espalhou por todo o Brasil.

Os sintomas da zika são manchas no corpo, coceira, febre, conjuntivite, além de dores nas articulações.

Os sintomas da chikungunya começam com febre, dor de cabeça, mal estar, dores pelo corpo e muita dor nas juntas (joelhos, cotovelos, tornozelos, etc), em geral, dos dois lados, podendo também apresentar, em alguns casos, manchas vermelhas ou bolhas pelo corpo. O quadro agudo dura até 15 dias. Há pessoas que pegam a doença, mas não desenvolvem os sintomas, por isso são chamadas de assintomáticas.

Por isso, é muito importante não deixar o mosquito (vetor) se reproduzir.

Ele precisa de água parada para proliferar, portanto, o período do ano com maior transmissão são os meses mais chuvosos de cada região. A melhor forma de prevenção dessas doenças é evitar a multiplicação do mosquito *Aedes Aegypti*, eliminando água armazenada que podem se tornar possíveis criadouros, como em vasos de plantas, caixas d'água sem tampa, pneus, garrafas plásticas, piscinas sem uso e sem manutenção, e até mesmo em recipientes pequenos, como tampas de garrafas.



- Você ou alguém da sua família já teve dengue, zika ou chikungunya? Quem?

- O que essa pessoa sentiu?

- O que quer dizer assintomático?

- Escreva 3 modos de se evitar a multiplicação do mosquito transmissor:







Observe atentamente a obra "A Família" de Tarsila do Amaral e responda:

A pintura mostra uma família que mora no campo ou na cidade?

Quantas pessoas compõem esta família?

Há apenas pessoas nesta foto? Quem mais aparece?

Você tem animal de estimação? Se tem, você o considera como membro da sua família ou não?

O que a menina de azul segura nas mãos?

Qual é o nome deste quadro?

Quem o pintou?



**Você sabe quem foi Tarsila do Amaral?**

Tarsila de Aguiar do Amaral foi uma pintora, desenhista e tradutora brasileira. Nasceu em São Paulo, no ano de 1886 e faleceu também em São Paulo, em 1973.





Você faz coleção de algum objeto?  
O André faz! Vamos conhecê-lo e completar a história abaixo...

## CRIANDO O MEIO DA HISTÓRIA

André era um colecionador, mas algo aconteceu com uma de suas coleções.

Leia o início e o final da história abaixo e complete-a de acordo com a sua imaginação.

Não se esqueça de lhe dar um título.



André era um menino que gostava de colecionar objetos.

Ele colecionava carrinhos, bolinhas de gude, chaveiros, figurinhas, etc.

Todas as pessoas que o conheciam, familiares e amigos sempre o presenteavam com objetos para sua coleção

Um dia \_\_\_\_\_

---



---



---



---



---



---



---

Então, André pediu ajuda à sua mãe e à sua irmã. Elas encontraram a sua coleção dentro do armário da cozinha.

André ficou muito feliz.



Já percebeu que os animais são bem diferentes?  
Cada animal pertence a um determinado grupo e possui um conjunto de características próprias!

## OS ANIMAIS

Os animais são seres vivos que nascem, respiram, alimentam-se, crescem se reproduzem e morrem.

O local onde os animais vivem chama-se habitat. Os animais podem viver em ambientes aquáticos que vivem na água, ou terrestres que vivem na terra.

Ao conjunto de animais que vivem no mesmo habitat e que se relacionam são chamados de fauna.

Nós podemos agrupar os seres vivos pelas semelhanças corporais que eles possuem e pela maneira como eles nascem e crescem. Nós podemos fazer vários agrupamentos de acordo com essas características algumas delas são:

. **animais vertebrados** (que contém coluna vertebral) e **invertebrados** (que não possuem coluna vertebral);

. **animais mamíferos** (que têm pelos, mamam e nascem da barriga da mãe), **aves** (têm penas, bico e nascem de ovos), **répteis** (têm pele seca, escamas e nascem de ovos), **anfíbios** (têm pele úmida e nascem na água e quando adultos vivem na terra. ex: sapo) e os **peixes** (têm escamas, vivem na água e nascem de ovos);

. **animais herbívoros** (só comem plantas), **carnívoros** (que comem carne), **onívoros** (que comem tanto carne, quanto vegetais) e **destrutivos** (que comem restos de animais mortos);

Os animais que nascem de ovos são chamados de **ovíparos**.



● Complete com as informações que você acabou de aprender!

a) Os animais ..... são aqueles que têm pelo, mamam e nascem da barriga da mãe.

b) Os ..... têm escamas, vivem na água e nascem de ovos.

c) Os animais ..... são aqueles que só comem plantas.

d) O local onde os animais vivem chama-se .....

e) Os ..... têm a pele úmida, nascem na água e quando adultos vivem na terra.



### Você sabe o que é um outdoor?

É um anúncio em forma de cartaz, painel luminoso etc., de grandes dimensões, exposto à margem de vias urbanas ou em outros pontos ao ar livre.

Depois de observar e ler o outdoor acima, responda:

● Ele faz uma propaganda de:

roupas.

calçados.

alimentos.

● A palavra “delivery”, escrita em inglês, já faz parte de nosso dia a dia e quer dizer que algo pode ser entregue na casa do comprador. Além desta palavra, que outra frase diz que isso é possível?

As delícias do Bob's vão até você.

Trio Bob's.

Consulte nossas lojas.

● O que você acha que o pão mordido no cartaz quer dizer?

Dá vontade de pedir o sanduíche porque parece saboroso.

Mostra que o sanduíche não é gostoso.

Não quer dizer nada. O cartaz está quebrado.

## REFERENCIA BIBLIOGRAFICA

- <https://atividadespedagogicasuzano.com.br/situacoes-problema-para-4-ano-matematica/>
- <https://br.pinterest.com/pin/584975439087124531/>
- <https://novaescola.org.br>
- <https://br.pinterest.com/pin/815996026216189763/>
- <https://www.bol.uol.com.br/memes/album/2018/07/01/foto=1>
- <https://atividadespedagogicas.net/2014/09/atividades-para-interpretar-graficos-e-tabelas-4-e-5-ano.html>
- <https://amorensina.com.br/testando-sua-memoria-alfabetica-desafio/>
- <http://profmarinalda.blogspot.com/2013/04/producao-de-texto.html>
- <https://www.soescola.com/tabela>
- <https://www.lipitipi.org/2014/11/atividades-interpretacao-de-texto-poema.html>
- <http://pedagogiccos.blogspot.com/2017/02/atividades-campo-e-cidade.html>
- <https://br.pinterest.com/pin/667447607246922106/>
- <https://brasilecola.uol.com.br/o-que-e/geografia/o-que-e-agricultura.html>
- [https://www.espacoeducar.net/2014/07/80-atividades-de-producao-textual-ou.html?utm\\_source=feedburner&utm\\_medium=email&utm\\_campaign=Feed:+EspaoEducar+\(Espa%C3%A7o+Educar\)](https://www.espacoeducar.net/2014/07/80-atividades-de-producao-textual-ou.html?utm_source=feedburner&utm_medium=email&utm_campaign=Feed:+EspaoEducar+(Espa%C3%A7o+Educar))
- <http://www.saude.gov.br/saude-de-a-z/chikungunya>
- <https://brainly.com.br/tarefa/27602509>
- <https://editoracapivara.com.br/tarsila-do-amaral-modernismo-brasileiro/>
- <https://acessaber.com.br/atividades/atividade-de-ciencias-os-animais-4o-ou-5o-ano/>