



PREFEITURA DA ESTÂNCIA TURÍSTICA DE
IBIÚNA
Por uma Ibiúna próspera. Investindo no presente, gerando o futuro.



E.M. PREFEITO SEME ISSA

Aluno(a): _____

Ano: 3º ano B Bairro: _____

Professor(a): Keith Paolla Fone: _____

12ª APOSTILA 2021



Família!!!
Gratidão
pelo apoio!!!

Juntos somos
mais fortes!!!


- A apostila é referente aos dias: 29, 30/09, 01, 04, 05, 06, 07 e 08/10 = 08 dias
- Esta APOSTILA deverá ser devolvida para correção no **dia 07/10 (quinta-feira)**

Atenciosamente

Equipe E.M “Prefeito Seme Issa”

E.M. "PREFEITO SEME ISSA"


NOME: _____ **DATA:** 29/09/2021
PROFESSORA: KEITH PAOLLA **ANO/SÉRIE:** 3º ANO B
LÍNGUA PORTUGUESA



Atividade de classe casa

Letras maiúsculas ou minúsculas?

Escrevemos com letras maiúsculas:
Nome de pessoas, animais, lugares,
rios e no início de frases.



1. Complete as frases:

___ mãe fez um bolo muito gostoso.

___ pai tem um lindo carro.

___ abriel viajou e seu ___ irmão também.

___ edro gosta muito de ___ orvete.

___ uana vai ao ___ inema hoje.

___ rio ___ mazonas é grande.

___ meu cachorro chama-se ___ otó

O ___ rasil é um país lindo.



2. Escreva nome de 2 colegas seus:

_____ e _____

3. Escreva nome de 2 lugares que você conhece:

_____ e _____

E.M. "PREFEITO SEME ISSA"

NOME: _____ **DATA:** 29/09/2021
PROFESSORA: KEITH PAOLLA **ANO/SÉRIE:** 3º ANO B

MATEMÁTICA

Veja o relógio abaixo:

a) Quantos números aparecem no mostrador do relógio



b) Em que número o ponteiro maior está?

c) Em que número o ponteiro menor está? _____

d) Quantas horas o relógio está marcando? _____

Pense e resolva:

Júlia tem aula de informática às 11hs da manhã. Agora são 7 horas da manhã. Quantas horas faltam para começar a aula de informática de Júlia?

Leia.

Lucas, um caminhoneiro, saiu de casa às 1, para ir ao supermercado. Ele retornou para sua casa 7 horas mais tarde. Pinte o relógio que marca a hora exata em que Lucas chegou em casa.



7h



6h



11h



E.M. "PREFEITO SEME ISSA"

NOME: _____ **DATA:** 30/09/2021
PROFESSORA: KEITH PAOLLA **ANO/SÉRIE:** 3º ANO B
LÍNGUA PORTUGUESA

VAMOS COMPLETAR?

LEITURA E ESCRITA

1-COMPLETE O QUADRO DE ACORDO COM O MODELO.

PALAVRA	SÍLABAS	LETRAS
COZINHA	CO – ZI - NHA	7
VIZINHA		
AZEDO		
AZUL		
JUIZ		
PAZ		

2-COMPLETE AS FRASES COM AS PALAVRAS DO QUADRO.

O LIMÃO É _____.

O _____ APITOU O FINAL DO JOGO.

AS PANELAS ESTÃO NA _____.

A _____ VIAJOU COM A FAMÍLIA.

O VESTIDO _____ FOI VENDIDO.

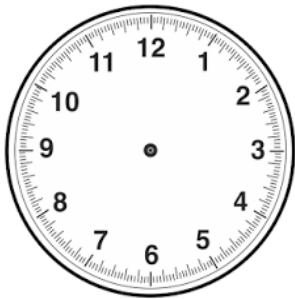
A _____ É UM SONHO MUNDIAL.

E.M. "PREFEITO SEME ISSA"

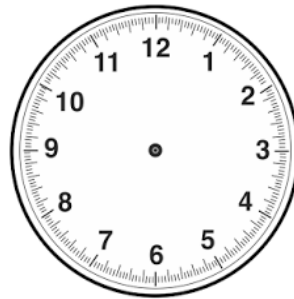
NOME: _____ **DATA:** 30/09/2021
PROFESSORA: KEITH PAOLLA **ANO/SÉRIE:** 3º ANO B
MATEMÁTICA



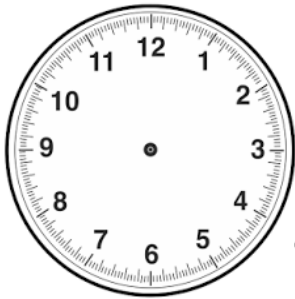
Marque nos relógios as horas indicadas.



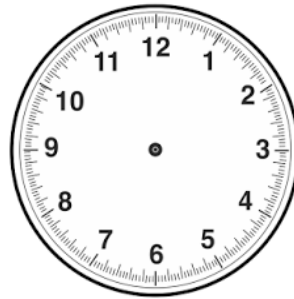
8h:45min



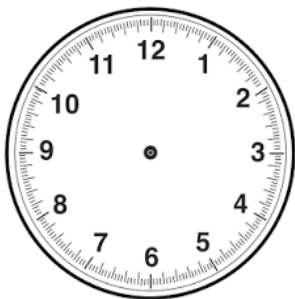
1h:50min



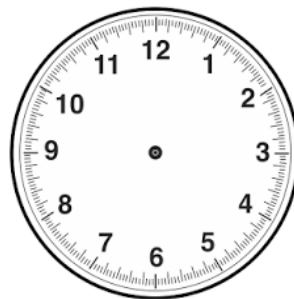
12h:15min



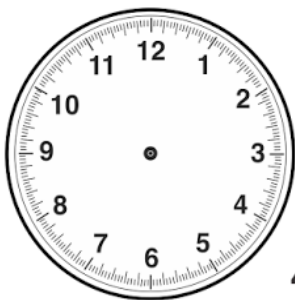
11h:10min



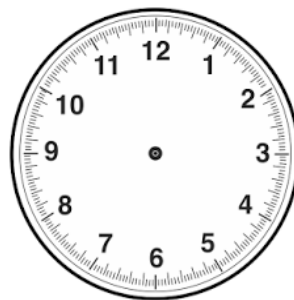
10h:5min



6h:00min



4h:30min



8h:40min

E.M. "PREFEITO SEME ISSA"

NOME: _____

DATA: 01/10/2021

PROFESSORA: KEITH PAOLLA

ANO/SÉRIE: 3º ANO B

LÍNGUA PORTUGUESA

SUBSTANTIVO PRÓPRIO E COMUM

Substantivos próprios: indicam seres, países, estados, sendo grafados com letra maiúscula, por exemplo: São Paulo, Brasil. Substantivos comuns: grafados com letra minúscula, designam seres da mesma espécie (animais, plantas, objetos), por exemplo, as palavras: cidade, país.

REESCREVA AS FRASES ABAIXO, SUBSTITUINDO OS SUBSTANTIVOS COMUNS POR SUBSTANTIVOS PRÓPRIOS:

A MENINA CHAMOU SUA MÃE.

O PREFEITO CONVERSOU COM A MORADORA.

A PROFESSORA PASSOU A LIÇÃO DE CASA.

CRIE E ESCREVA SUBSTANTIVOS PRÓPRIOS PARA OS SUBSTANTIVOS COMUNS.



LEÃO



MENINO



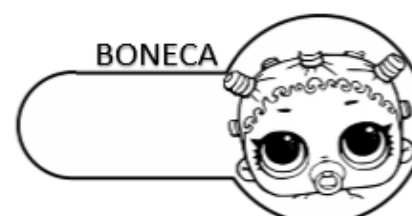
LEITE



MENINA



MACACO



BONECA

E.M. "PREFEITO SEME ISSA"

NOME: _____ **DATA:** 01/10/2021
PROFESSORA: KEITH PAOLLA **ANO/SÉRIE:** 3º ANO B

MATEMÁTICA

Meses do ano

1. Consulte um calendário e preencha corretamente.

- a) 1 mês tem _____ dias .
- b) 1 ano tem _____ meses.
- c) 1 ano tem _____ bimestres.
- d) 1 ano tem _____ trimestres.
- e) 1 ano tem _____ semestres.



2. Quais são os meses que têm 30 dias.

3. Quais são os meses que têm 31 dias.

4. Quantos dias tem o mês de fevereiro?

5. Descubra o nome do mês.

- a) Menor mês do ano. _____
- b) Mês em que se comemora o dia das crianças. _____
- c) Mês do folclore. _____
- d) Mês em que se comemora o dia das mães. _____
- e) Mês em que se comemora o dias dos pais. _____

E.M. "PREFEITO SEME ISSA"

NOME: _____

DATA: 04/10/2021

PROFESSORA: KEITH PAOLLA

ANO/SÉRIE: 3º ANO B

LÍNGUA PORTUGUESA



ONDE FICA ESSE LUGAR?

Fico sempre assentada,
Parada no jardim a pensar:
Onde vão as fileiras de formigas?
Onde ficam depois de tanto andar?

Carregando folhinhas partidas,
Bichinhos mortos e frutas picadas,
Andam, andam sem parar!
Onde guardam tantas coisas?
Onde fica esse lugar?



Graça Batituci

Auto-avaliação – Minha leitura foi: ótima.
 boa.

muito boa.
 regular.

1) Marque as respostas corretas de acordo com o texto:

a) Os insetos que aparecem no texto são:

borboletas. formigas. lagartas.

b) O que os insetos da história carregam?

c) Onde você acha que vão as fileiras de formigas?

Silene Ribeiro

E.M. "PREFEITO SEME ISSA"

NOME: _____ **DATA:** 04/10/2021
PROFESSORA: KEITH PAOLLA **ANO/SÉRIE:** 3º ANO B
MATEMÁTICA



Ideia Criativa.

Atividade



Lucas vende flores em frente a sua casa três vezes por semana. Hoje ele resolveu fazer as contas e descobrir quanto ganhou nas últimas semanas. Faça os cálculos e descubra quanto Lucas tem lucrado no comércio de flores.
Obs: cada dúzia custa R\$ 3,00

Vendas	Quantas dúzias	Quanto Lucas ganhou:
Segunda - 12 dúzias Terça - 10 dúzias Quarta - 14 dúzias		
Segunda - 25 dúzias Terça - 5 dúzias Quarta - 12 dúzias		
Segunda - 10 dúzias Terça - 8 dúzias Quarta - 2 dúzias		

<https://lh5.googleusercontent.com/-lh4P55ggQ1s/TYObelMGTVI/AAAAAAAAAAI/mc/0lh2e5klddc/v1600/atividade+3%25C2%25B0+ano+4%25C3%25BAzias+e+sistema+monet%25C3%25A1+rio+ideia+criativa.jpg>



E.M. "PREFEITO SEME ISSA"

NOME: _____

DATA: 05/10/2021

PROFESSORA: KEITH PAOLLA

ANO/SÉRIE: 3º ANO B

LÍNGUA PORTUGUESA

SINÔNIMO E ANTÔNIMO

* Antônimo é o contrário de alguma coisa.

Exemplo: Antônimo de bonito é feio.

* Sinônimo é o mesmo que alguma coisa. Exemplo:
Sinônimo de bonito é lindo.

1) Dê o sinônimo usando as palavras do retângulo :

alegre - bicho - alimento - lindo - morada - enorme - inteligente
enxergar - automóvel - pessoa

bonito = _____

esperto = _____

grande = _____

animal = _____

casa = _____

carro = _____

gente = _____

olhar = _____

feliz = _____

comida = _____

2) Reescreva a frase substituindo a palavra sublinhada por seu antônimo.

a) O caçador é muito corajoso.

O caçador é muito medroso.

b) Gosto de café bem forte.

c) A seleção do Brasil poderá perder o jogo.

d) Faço os deveres bem depressa.

e) Devemos deixar as luzes sempre acesas durante o dia.

<https://jardimcoloridodatialiu.files.wordpress.com/2020/09/ff05a-ativ2b01.jpg>

amiga da educação / colaboração de seguidores (créditos)

E.M. "PREFEITO SEME ISSA"

NOME: _____

DATA: 05/10/2021

PROFESSORA: KEITH PAOLLA

ANO/SÉRIE: 3º ANO B

CIÊNCIAS

TIPOS DE LIXO

✎ Relacione a 2ª coluna de acordo com a 1ª.

- | | |
|---|--|
| <input type="radio"/> 1 Lixo domiciliar | <input type="radio"/> Sobras produzidas por diversas atividades. |
| <input type="radio"/> 2 Lixo público | <input type="radio"/> Produzido em hospitais, clínicas, etc. |
| <input type="radio"/> 3 Lixo radioativo | <input type="radio"/> Produzido por empresas que trabalham com radiação eletromagnética. |
| <input type="radio"/> 4 Lixo hospitalar | <input type="radio"/> Sobras produzidas em nossas residências. |
| <input type="radio"/> 5 Entulhos | <input type="radio"/> Produzido em locais públicos. |



Uma parte do lixo é **biodegradável**, isto é, decompõe-se formando substâncias úteis ao solo. Isso acontece com os restos de alimentos, de plantas e de animais, que formam o lixo orgânico.

E.M. "PREFEITO SEME ISSA"

NOME: _____

DATA: 06/10/2021

PROFESSORA: KEITH PAOLLA

ANO/SÉRIE: 3º ANO B

MATEMÁTICA

RESPOSTAS

A)

B)

C)

D)

E)

<https://atividadespedagogicas.net/wp-content/uploads/2014/12/Matematica-para-imprimir-3-ano.gif>

SITUAÇÕES- PROBLEMA

A mãe da Magali resolveu fazer tortas de maçã para vender. Pediu a ela que fosse à feira comprar alguns tipos de maçãs. Sendo 35 maçãs Red (Argentina), 15 maçãs Fuji, 23 maçãs Granny Smith (Verde) e 50 maçãs Gala.

De acordo com as informações acima, resolva: (em seu caderno)



- a) Quantas maçãs, Magali comprou?
- b) No caminho, Magali teve fome e comeu meia dezena das maçãs Gala, uma dúzia das maçãs Red e três maçãs Fuji. Quantas maçãs ela comeu?
- c) Com quantas maçãs Magali chegou em casa?
- d) Das maçãs que Magali levou, mamãe usou 67 naquele dia. Quantas restaram para as tortas do dia seguinte?
- e) Para completar 2 centenas de maçãs, quantas maçãs a mais, Magali deveria ter comprado?

E.M. "PREFEITO SEME ISSA"

NOME: _____ **DATA:** 06/10/2021
PROFESSORA: KEITH PAOLLA **ANO/SÉRIE:** 3º ANO B

GEOGRAFIA

FELIZ DIA DAS CRIANÇAS

Os Direitos das Crianças

		
Lazer	Desenvolver sua inteligência	Saúde
		
Alimentação	Fazer suas próprias descobertas	Ser protegida
		
Amor e carinho	Liberdade de expressão	Descanso

<https://i.pinimg.com/736x/f8/f7/9d/f8f79d51779af185dac82df6a583c7ca.jpg>

E.M. "PREFEITO SEME ISSA"

NOME: _____ **DATA:** 07/10/2021
PROFESSORA: KEITH PAOLLA **ANO/SÉRIE:** 3º ANO B

HISTÓRIA

Dia das crianças

O **Dia das Crianças** é comemorado anualmente em **12 de outubro** no Brasil. Esta data celebra os direitos das crianças e adolescentes, ajudando a conscientizar as pessoas (os pais, em especial) sobre os cuidados necessários durante esta fase da vida.

Tradicionalmente, no Dia das Crianças os adultos costumam oferecer presentes ou proporcionar atividades especiais e de entretenimento para os mais jovens.

Em alguns países, como Portugal, por exemplo, as crianças são homenageadas em **1 de junho**, data conhecida como **Dia Internacional da Criança**.

Origem do Dia das Crianças

A proposta para a criação desta data é de autoria do deputado federal Galdino do Valle Filho. Após a sua aprovação, surgiu o **Decreto de Lei nº 4867**, de 5 de novembro de 1924, que oficializou o dia 12 de outubro como o Dia das Crianças.

No entanto, o dia ganhou maior popularidade a partir de 1960, quando a Fábrica de Brinquedos Estrela fez uma promoção com a *Johnson & Johnson* e criou a "Semana do Bebê Robusto" (como uma estratégia para aumentar as suas vendas).

A partir deste momento, a data passou a ser marcada pela oferta de presentes as crianças, principalmente brinquedos.

O Dia das Crianças coincide com o dia de Nossa Senhora de Aparecida, que é feriado.

De acordo com a Organização das Nações Unidas (ONU), o **Dia Universal da Criança** é celebrado em **20 de novembro**, em homenagem à data da aprovação da **Declaração dos Direitos da Criança**, nesta mesma data em 1959.

<https://www.calendarr.com/brasil/dia-das-criancas/>



E.M. "PREFEITO SEME ISSA"

NOME: _____

DATA: 07/10/2021

PROFESSORA: KEITH PAOLLA

ANO/SÉRIE: 3º ANO B

ARTES

FELIZ DIA DAS CRIANÇAS



SER CRIANÇA TEM UM GOSTINHO ESPECIAL...
CORRER, PULAR, BRINCAR,
COMER MELADO E SE LAMBUZAR...
TUDO ISSO VOCÊ TEM QUE APROVEITAR!