



PREFEITURA DA ESTÂNCIA TURÍSTICA DE  
**IBIÚNA**  
*Por uma Ibiúna próspera. Investindo no presente, gerando o futuro.*  
**SECRETARIA DE EDUCAÇÃO**



Rua Raimundo Santiago, nº 27 - Centro  
Telefone: (15) 3248-1292/e-mail: apoiopedagogicosmeibiuna@hotmail.com

# E.M. "Maria Aparecida Gabriel Cardoso"

## 4º BIMESTRE



Professora: Vitória Aparecida Soares

NOME: \_\_\_\_\_

**ATIVIDADES REFERENTE AOS DIAS : 18, 19, 20, 21, 22, 25, 26  
27, 28, 29/10 e 03, 04 e 05/11**

**2º ANO B  
APOSTILA Nº13**

## QUESTÃO 01

Marque um X no quadradinho onde aparece somente letras.

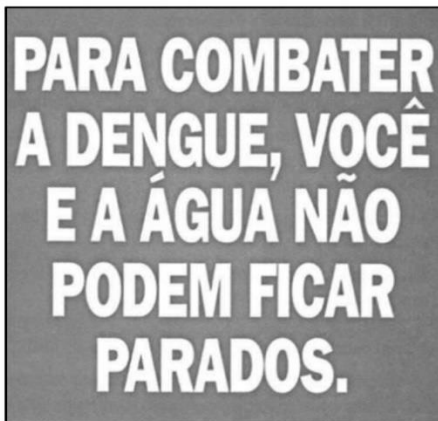
A)



B)



C)



D)



## QUESTÃO 02

Leia a palavra abaixo.

SALADA


Marque um X na sílaba final da palavra que você leu.

- A)  AS
- B)  DA
- C)  LA
- D)  SA

\*\*\*\*\*

## QUESTÃO 03

Observe a figura.



Marque um X no quadradinho onde está a palavra que rima com a figura que você viu.

- A)  CAMARÃO.
- B)  MAR.
- C)  PEIXE.
- D)  PRAIA.

\*\*\*\*\*

## QUESTÃO 04

Leia a frase abaixo.

NESTE ANO O CARNAVAL SERÁ EM FEVEREIRO!

Marque um X no quadradinho com a última palavra da frase que você leu.

- A)  ANO.
- B)  CARNAVAL.
- C)  FEVEREIRO.
- D)  NESTE.

### QUESTÃO 05

Ouçã a palavra.

**TAPETE**

Marque um X na figura que rima com a palavra que você ouviu.

A)




B)



C)




D)



\*\*\*\*\*

### QUESTÃO 06

Veja a figura abaixo.



Marque um X no quadradinho onde mostra quantidade de sílabas dessa figura.

A)  2

B)  3

C)  4

D)  5

**QUESTÃO 07**

Leia o texto abaixo.

**ARROZ-DOCE****Ingredientes**

1 xícara (chá) de arroz  
1 lata de leite condensado  
5 xícaras (chá) de água  
1 unidade de canela em pau grande  
1 unidade de casca de limão  
cravo e canela a gosto

**Modo de preparo**

Numa panela de pressão leve o arroz ao fogo com a água, a casquinha de limão e os cravos. deixe cozinhar por 10 minutos (só conte o tempo depois de a panela começar a apitar). abra a panela, acrescente o leite condensado. deixe ferver por mais 5 minutos. despeje num refratário, polvilhe a canela.

Esse texto serve para

- A)  divulgar um evento sobre alimentação saudável.  
B)  ensinar a preparar uma comida.  
C)  falar sobre os nutrientes do arroz.  
D)  informar sobre a importância da alimentação.

**QUESTÃO 08**

Leia o texto abaixo.

Oi Fátima  
Sábado eu vou ao sítio de seu Paulo.  
Eu telefono à noite tá?  
Rafaela

Quem escreveu o bilhete foi

- A)  a mãe de Rafaela.  
B)  Fátima.  
C)  Paulo.  
D)  Rafaela.

**QUESTÃO 09**

Leia o texto e responda.

**O SAPO**

Uma princesa linda e muito rica passando perto de uma lagoa quando ouviu um sapo cantando, numa folha.

Atraída pela música olhou para aquele sapo feio e minúsculo e ficou assustada, mas o sapo enfeitiçou a bela princesa por que era gentil e tinha um bom coração.

Assim, todo dia ela visitava o sapo, até que ela lhe deu um beijo e ele se transformou em um lindo príncipe.

De acordo com o texto, o sapo estava cantando

- A)  numa árvore.  
B)  numa folha.  
C)  numa praia.  
D)  num rio.

\*\*\*\*\*

**QUESTÃO 10**

Leia o texto.

**O sabiá**

O sabiá voa bem alto.

João pede seu pai:

— Pai, pega o sabiá.

O sabiá voa e pousa no vaso da mesa.

Papai pega o sabiá e coloca na gaiola.

João fala:

— Papai é um herói.

De acordo com o texto, João fala que o pai é um herói porque ele

- A)  deixa o João fazer tudo o que quer.  
B)  deixa o sabiá ir embora.  
C)  é muito forte.  
D)  pega o sabiá e coloca na gaiola.

**QUESTÃO 11**

Leia o texto e responda.

**VENDE-SE UMA BICICLETA**

Vendo minha bicicleta azul, novinha, 18 marchas, aro 26, lanterna e retrovisor. Aceito trocas! Última semana que colocarei para venda!

**APROVEITEM!!!**  
**INTERESSADOS LIGAR PARA: (61) 2488-9009**

Esse texto tem a finalidade de

- A)  contar uma piada.  
B)  ensinar uma receita.  
C)  fazer um convite.  
D)  vender um produto.

\*\*\*\*\*

**QUESTÃO 12**

Leia o texto abaixo.

Ziraldo Alves Pinto nasceu em Caratinga no dia 24 de outubro de 1932.

É o mais velho de uma família de sete irmãos. Seu nome vem da combinação dos nomes da sua mãe, Zizinha com o de seu Pai Geraldo. Surgiu então o Ziraldo, um nome único.

Formou-se na faculdade de direito de Minas Gerais, em Belo Horizonte. No ano seguinte casou-se com Vilma Gontijo com quem teve três filhos. Começou sua carreira nos anos 50 em jornais e revistas de expressão, como jornal do Brasil, o Cruzeiro, Folha de Minas, etc. Além de pintor ele é cartunista, chargista, dramaturgo, escritor, cronista, desenhista e jornalista.

Ziraldo é o criador de personagens famosos, como o menino Maluquinho, e, atualmente, um dos mais conhecidos e aclamados escritores infantis do Brasil e conhecido internacionalmente.

O texto que você leu é um (uma)

- A)  biografia.  
B)  carta.  
C)  convite.  
D)  parlenda.

**QUESTÃO 13**

Leia o texto.

**O Meu Galinho**

Cantigas Populares

Há três noites que eu não durmo, ola lá!  
Pois perdi o meu galinho, ola lá!  
Coitadinho, ola lá! Pobrezinho, ola lá!  
Eu perdi lá no jardim.

Ele é branco e amarelo, ola lá!  
Tem a crista vermelhinha, ola lá!  
Bate as asas, ola lá! Abre o bico, ola lá!  
Ele faz qui-ri-qui-qui.

Já rodei em Mato Grosso, ola lá!  
Amazonas e Pará, ola lá!  
Encontrei, ola lá! Meu galinho, ola lá!  
No sertão do Ceará!

De acordo com o texto, a crista do galinho é

- A)  amarela.  
B)  branca.  
C)  engraçadinha.  
D)  vermelhinha.

**QUESTÃO 14**

Leia o texto abaixo.

**Palavras, palavrinhas, palavrões**

Era uma vez uma menina que gostava muito de palavras. Estava sempre querendo aprender palavras novas. Prestava atenção toda vez que ouvia uma diferente. Queria reparar como é que se usava para poder repetir depois. Para ela, todas eram interessantes: as pequenas, as médias e as grandes. As palavrinhas, as palavras e os palavrões.

Só que os outros não achavam interessante. E, às vezes, nem ela mesma entendia. Ou entendia os outros. Às vezes ela ouvia alguém dizer umas palavras imensas e nem conseguia repetir direito. Como no dia em que um homem falou na rua:

— Tem um paralelepípedo solto... Cuidado.

PARALELEPÍPEDO? Mesmo com todo o cuidado, falando bem devagar, era difícil repetir. A língua dela se enrolava toda com um palavrão desse tamanho.

O texto que você leu, fala sobre uma menina

- A)  mal-educada.  
B)  que gostava muito de palavras.  
C)  que não falava.  
D)  que não gostava de estudar.



**QUESTÃO 15**

Leia o texto e responda.

**VEXAME****Muita gente não sabe usar um celular. Veja o que você NÃO deve fazer com ele.**

- Não ande com o celular pendurado na calça. Fica feio. Guarde-o na mochila. Dá para escutá-lo do mesmo jeito.
- Desligue o celular durante as aulas – ou em lugares públicos, como o cinema. Depois você acessa a caixa postal e pega a mensagem.
- Nunca telefone durante a aula. Não adianta se abaixar, nem cobrir o celular com o cabelo. As pessoas vão perceber que você está no telefone.
- Quando estiver apenas com uma amiga, não fique horas falando no celular.
- Não fique oferecendo seu telefone só para ser simpática. Lembre-se da conta que vai chegar.



O assunto principal do texto é

- A)  a dificuldade de falar ao celular.
- B)  coisas que não se deve fazer com o celular.
- C)  o local correto de guardar o celular.
- D)  o uso do celular na sala de aula.

\*\*\*\*\*

**QUESTÃO 16**

Leia o texto abaixo.

**O porquinho sabido**

O porquinho Pipote estava com fome e foi procurar comida.

Ele viu o lobo papão. Mas Pipote não é bobo, não! Ele voltou correndo para casa e chamou o cachorro valente.

Valente latiu e lobo papão fugiu.

De acordo com o texto, ao ver o lobo, Pipote

- A)  continuou procurando comida.
- B)  escondeu-se no caminho.
- C)  ficou tremendo de medo.
- D)  voltou correndo para casa e chamou o cachorro.

**QUESTÃO 17**

Leia o texto abaixo.

**O casamento de Emília**

[...] Chegou a hora. Vieram vindo os noivos. Emília, de vestido branco e véu; Rabicó, de cartola e faixa de seda em torno do pescoço. Vinha muito sério, mas assim que se aproximou da mesa e sentiu o cheiro das cocadas, ficou de água na boca, assanhadíssimo. Não viu mais nada.

Logo depois veio o padre e casou-os. Narizinho abraçou Emília e chorou lágrima de verdade, dando-lhe muitos conselhos. Depois, como a boneca não tivesse dedos, enfiou-lhe no braço um anelzinho seu. Pedrinho fez o mesmo com o Marquês; enfiou-lhe no braço uma aliança de laranja, que Rabicó por duas vezes tentou comer.

Os outros animais do Sítio, as cabras, as galinhas e os porcos, também assistiram à festa, mas de longe. Olhavam, olhavam, sem compreenderem coisa nenhuma. [...]

Disponível em: <http://contobrasileiro.com.br/o-casamento-da-emilia-conto-de-monteiro-lobato/>. Acesso em: 28 set. 2019.

De acordo com o texto, Rabicó sentiu vontade de

- A)  brincar com os outros animais.
- B)  chorar.
- C)  comer as cocadas.
- D)  dançar com Emília.

\*\*\*\*\*

**QUESTÃO 18**

Leia o texto.



Esse cartaz fala principalmente sobre

- A)  a vacinação infantil.
- B)  as chuvas.
- C)  o ataque dos bichos.
- D)  o combate à dengue.

**QUESTÃO 19**

Leia o texto abaixo.

**MARGARIDA FRIORENTA**

Ana Maria tirou o casaquinho da boneca. Porque a boneca não estava com frio nenhum. E vestiu o casaquinho na Margarida.

— Agora você está bem. Durma e sonhe com os anjos.

Mas quem sonhou com os anjos foi Ana Maria. A Margarida continuou a tremer.

Ana Maria acordou com o barulhinho.

— Outra vez? Então já sei. Vou arranjar uma casa para você!

E Ana Maria arranjou uma casa para a Margarida. Mas quando ia adormecendo ouviu outro barulhinho. Era a Margarida tremendo.

Então Ana Maria descobriu tudo. Foi lá e deu um beijo na Margarida. E a Margarida parou de tremer e dormiram bem a noite toda.

Segundo o texto, Margarida parou de tremer quando Ana Maria foi lá e

- A)  brigou muito.  
 B)  deu um beijo.  
 C)  deu um sorriso.  
 D)  pôs um agasalho.

**QUESTÃO 20**

Leia o texto.

**CURTA TEMPORADA** **CIRCO RANZONI**

**ESPETÁCULOS**  
 De 2ª a 6ª das 19 às 22 horas  
 Sábados, Domingos e Feriados  
 a partir das 14 horas

Palhaços      Mágicos      Macaca Alfabeticada  
 Malabaristas  
 Roleta Russa      Focas e Cães Amestrados



**VENHA RIR E SE DIVERTIR A VALER!**

Menores de cinco anos não pagam ingresso

Esse texto é um exemplo de

- A)  anúncio.  
 B)  bilhete.  
 C)  carta.  
 D)  tirinha.

**QUESTÃO 21**

Leia o texto abaixo.

**A borboletinha e o gatinho solitário**

A Borboleta de óculos mágicos voava perto de umas árvores imensas quando ouviu um barulho estranho que vinha lá debaixo.

Olhou para o chão e viu um belo gatinho solitário brincando com um monte de folhas secas...

O gatinho num pulo agarrou a borboleta com as duas patas.

Ela deu um grito:

— Aiiiiiiiiiiii... seus óculos caíram no chão e as estrelinhas desapareceram...

— Me larga – gritou ela com medo. O gato olhou para a Borboleta e depois sorrindo disse:

— Calma, linda Borboleta . Não tenha medo de mim. Não vou te comer!

— Não? Então ponha-me no chão – ordenou ela – e pegue meus óculos por que não enxergo sem eles.

O gato obedeceu.

— Desculpe. Começou ele – só queria brincar um pouco com você.

— Brincar? Você me deu o maior susto e só queria brincar?

— disse com desespero. Depois olhou bem para o gatinho e disse:

— Muito bem, obrigado por ter me soltado

— colocou os óculos e arrumou a roupa.

— Estava passando quando ouvi o barulho das folhas. Por que você brinca com as folhas?

— Sou o gato Tufique, não tenho irmãos e nem amiguinhos para brincar. Sou um gato solitário.

Por isso me distraio com essas folhas secas.

De acordo com o texto o gatinho brinca com as folhas secas porque ele

- A)  gosta de brincar com folhas.
- B)  não sabe brincar de outra coisa.
- C)  não tem irmãos e nem amiguinhos para brincar.
- D)  se sente feliz.

**QUESTÃO 22**

Leia o texto e responda.



De acordo com o texto, Cebolinha ficou

- A)  curioso.
- B)  feliz.
- C)  surpreso.
- D)  zangado.

**QUESTÃO 23**

Leia o texto.

**Olha pro céu, meu amor**

Olha pro céu, meu amor  
Vê como ele está lindo  
Olha praquele balão multicolor  
Como no céu vai sumindo.  
Foi numa noite igual a esta  
Que tu me deste o teu coração  
O céu estava assim em festa porque era  
noite de São João  
Havia balões no ar ,Xote, baião no salão  
E no terreiro, o teu olhar  
Que incendiou meu coração.  
José Fernandes e Luiz Gonzaga

Segundo o texto, o céu estava em festa porque

- A)  era noite de lua cheia.  
B)  era noite de São João.  
C)  o sol brilhava.  
D)  tinha muitas estrelas.

\*\*\*\*\*

**QUESTÃO 24**

Leia o texto e responda.

**Dondoca, a cadelinha**

Dondoca é uma cadelinha de madame, ela morava numa bela casa e tinha uma caminha bem fofinha. Todo dia a cadelinha se alimenta com ração pepita e a tarde vai passear no carro com sua dona. Ela sai toda enfeitada de lacinho vermelho nas orelhas. A cadelinha ficou muito feliz porque ganhou uma coleira, com o seu nome gravado.

O assunto do texto é

- A)  a coleira da cadela.  
B)  a doença dos cachorros.  
C)  a madame.  
D)  a vida da cadelinha.

### QUESTÃO 01

(CAED) Observe abaixo as figurinhas que Lívia colou na capa de seu caderno.



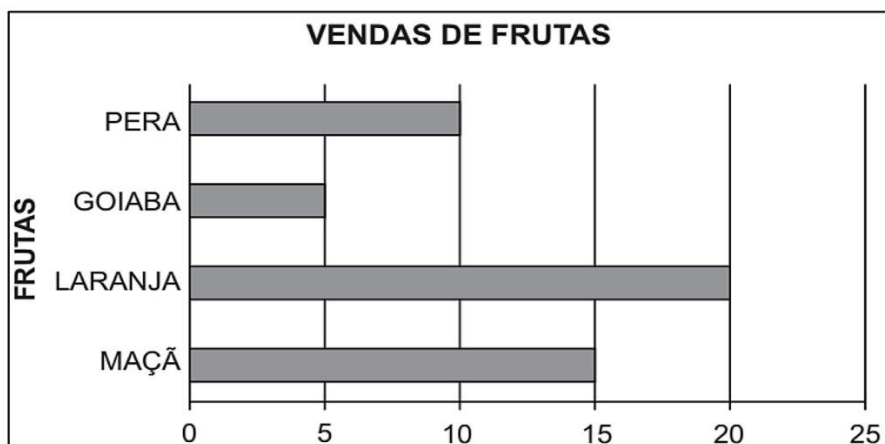
Quantas figurinhas, ao todo, Lívia colou na capa de seu caderno?

- A)  25.
- B)  24.
- C)  6.
- D)  4.

\*\*\*\*\*

### QUESTÃO 02

(CAED) O gráfico abaixo apresenta a quantidade de frutas que João vendeu na feira em um dia de trabalho.



De acordo com esse gráfico, qual foi a fruta menos vendida?

- A)  GOIABA.
- B)  LARANJA.
- C)  MAÇÃ.
- D)  PERA.

### QUESTÃO 03

(CAED) Veja os números abaixo.

$$112 - 122 - 132 - 142$$

Marque um X no último número do quadro.

- A)  112.  
B)  122.  
C)  132.  
D)  142.
- \*\*\*\*\*

### QUESTÃO 04

(CAED) Resolva a conta abaixo.

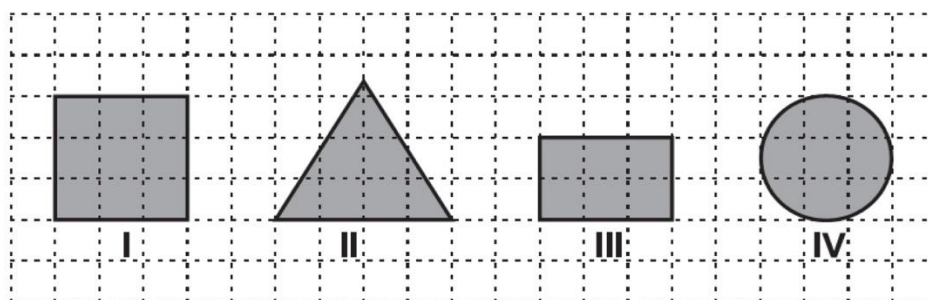
$$98 + 76 =$$

Qual o resultado dessa conta?

- A)  22.  
B)  124.  
C)  147.  
D)  174.
- \*\*\*\*\*

### QUESTÃO 05

(CAED) Observe as figuras geométricas abaixo.



Qual dessas figuras é um quadrado?

- A)  I.  
B)  II.  
C)  III.  
D)  IV.

**QUESTÃO 06**

(CAED) Veja as moedas abaixo.



Qual o valor dessas moedas?

- A)  76 CENTAVOS.
- B)  1 REAL E 50 CENTAVOS.
- C)  1 REAL E 65 CENTAVOS.
- D)  1 REAL E 75 CENTAVOS.

\*\*\*\*\*

**QUESTÃO 07**

(CAED) Observe os números no quadro abaixo.

80 - 65 - 39 - 26
-------------------

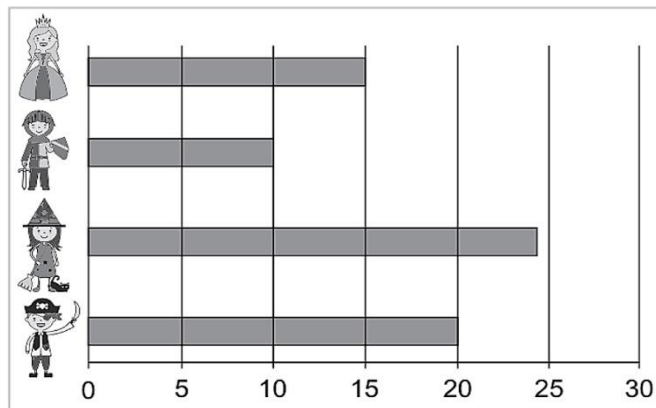
Qual dos números acima é o menor?

- A)  26.
- B)  39.
- C)  65.
- D)  80.

\*\*\*\*\*

**QUESTÃO 08**

A escola onde Alice estuda divulgou uma pesquisa sobre as fantasias preferidas das crianças em período de carnaval.

De acordo com esse gráfico, a fantasia de  obteve quantos votos?

- A)  10
- B)  15
- C)  20
- D)  25

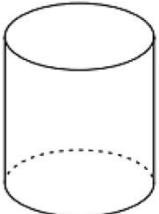
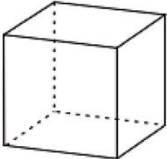
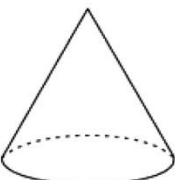
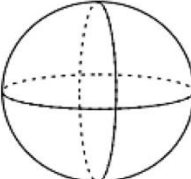


**QUESTÃO 09**

(CAED) Observe a laranja no desenho abaixo.



A forma dessa laranja se assemelha a qual sólido geométrico?

- A)  
- B)  
- C)  
- D)  

\*\*\*\*\*

**QUESTÃO 10**

(CAED) A tabela abaixo apresenta as atividades que Larissa faz nos dias de semana após a escola.

DIA DA SEMANA	ATIVIDADE
SEGUNDA-FEIRA	INGLÊS
TERÇA-FEIRA	BALÉ
QUARTA-FEIRA	VÔLEI
QUINTA-FEIRA	NATAÇÃO
SEXTA-FEIRA	TEATRO

De acordo com essa tabela, qual é a atividade que Larissa faz às segundas-feiras após a escola?

- A)  INGLÊS.
- B)  NATAÇÃO.
- C)  TEATRO.
- D)  VÔLEI.

### QUESTÃO 11

(CAED) Alice fez uma viagem que durou 2 semanas.  
Quantos dias durou essa viagem de Alice?

- A)  2
- B)  7
- C)  10
- D)  14

\*\*\*\*\*

### QUESTÃO 12

(CAED) Observe abaixo a decomposição de um número.

2 DEZENAS E 7 UNIDADES

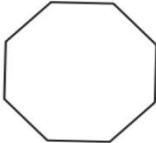

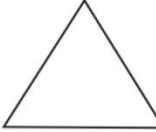
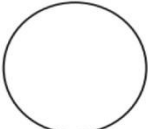
Essa é a decomposição do número

- A)  27
- B)  72
- C)  207
- D)  270

\*\*\*\*\*


### QUESTÃO 13

(CAED) Qual das formas geométricas abaixo representa um círculo?

- A)  
- B)  
- C)  
- D)  

### QUESTÃO 14

(CAED) Observe abaixo as crianças na sala de aula.



Qual é a criança que está entre Pedro e Mateus?

- A)  JÉSSICA
- B)  JOÃO
- C)  LAURA
- D)  MARCOS.

\*\*\*\*\*

### QUESTÃO 15

(CAED) Observe no relógio abaixo o horário que Tereza saiu de casa para passear.



De acordo com esse relógio, em qual horário Tereza saiu de casa para passear?

- A)  1 HORA E 20 MINUTOS.
- B)  2 HORAS E 1 MINUTO.
- C)  12 HORAS.
- D)  15 HORAS.

### QUESTÃO 16

(CAED) Observe a sequência numérica abaixo.

$$16 - 26 - \underline{\quad} - 46 - 56$$

Ela começou no 16 e terminou no 56.

Qual é o número que completa essa sequência numérica?

- A)  27
- B)  31
- C)  36
- D)  45

\*\*\*\*\*

### QUESTÃO 17

(CAED) Resolva a operação abaixo.

$$\begin{array}{r} 52 \\ - 40 \\ \hline \end{array}$$

Qual é o resultado dessa operação?

- A)  10
- B)  12
- C)  22
- D)  92

\*\*\*\*\*

### QUESTÃO 18

(CAED) Observe abaixo a quantia que Jeferson gastou na mercearia.



Qual foi a quantia que Jeferson gastou na mercearia?

- A)  5 REAIS.
- B)  10 REAIS.
- C)  12 REAIS.
- D)  15 REAIS.

### QUESTÃO 19

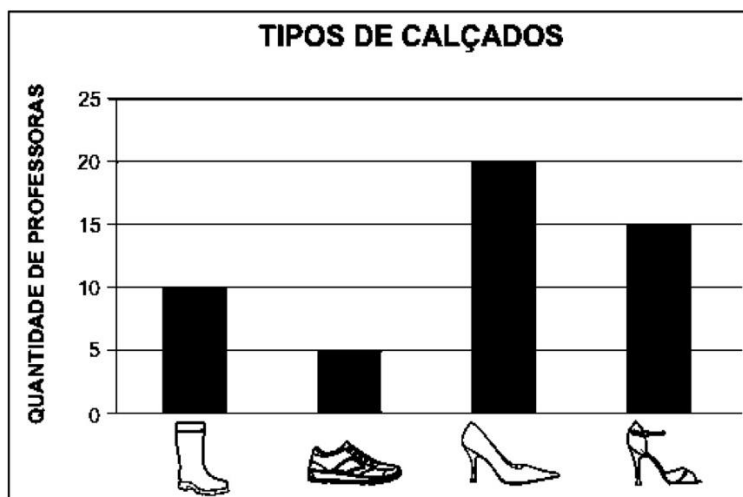
(CAED) Em uma partida de basquete, Samuel fez 16 pontos e Lucas fez 9 pontos. Quantos pontos Lucas fez a menos que Samuel nessa partida de basquete?

- A)  7
- B)  8
- C)  16
- D)  25




\*\*\*\*\*

### QUESTÃO 20

(CAED) O gráfico abaixo mostra o resultado de uma pesquisa sobre o tipo de calçado escolhido pelas professoras de uma escola.



De acordo com esse gráfico, qual é o calçado menos escolhido pelas professoras dessa escola?

- A)  
- B)  
- C)  
- D)  