



## *E.M Prefeito Seme Issa*

Aluno(a): \_\_\_\_\_ . Ano/ Série: 1º ano-B.

Profª: Dalva Apª Gonçalves Altava. Telefone: (15) 99718-2541.

### 13ª APOSTILA 4º Bimestre



- ATIVIDADES REFERENTES AOS DIAS: 18, 19, 20, 21, 22, 25, 25, 26, 27, 28, 29/10 E 03, 04, 05/11.(13 DIAS).
- ESTA APOSTILA DEVERÁ SER DEVOLVIDA PARA CORREÇÃO NO DIA 08/11.

*Atenciosamente:*

*Equipe: E.M “Prefeito Seme Issa”*


USE O SEU CRACHÁ E ESCREVA SEU NOME COMPLETO NA LINHA ABAIXO:

NOME: \_\_\_\_\_

**FICHA DE LEITURA**

**LEITURA**

t T  
t T



TATU

ta- te- ti- to- tu  
TA- TE- TI- TO- TU  
ta- te- ti- to- tu  
Ta- Te- Ti- To- Tu

TAPETE	TATU	TUDO
TIPO	TELEVISÃO	TIO
TELEFONE	TUDO	
TOUCA	TOURO	TUBO

O TATU CAVOU SUA TOCA AO LADO DO PÉ DE LIMÃO.

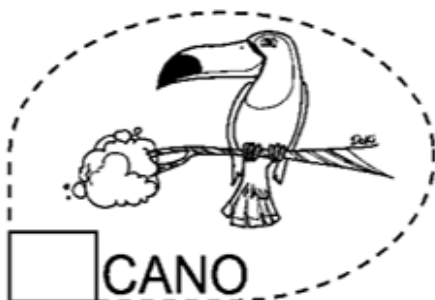
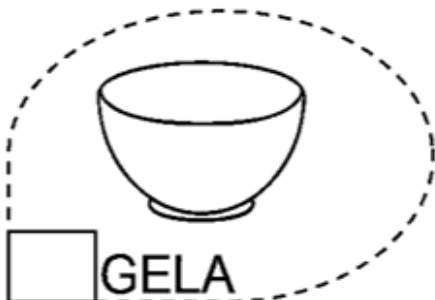
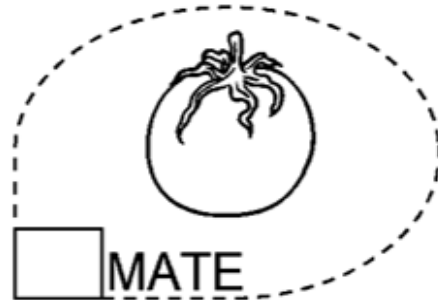
GRUPO MATERIAIS PEDAGÓGICOS



TA TE TI TO TU TÃO

ta te ti to tu tão

COMPLETE AS PALAVRAS COM AS SÍLABAS  
CORRESPONDENTES.






Para fixar  
na cuca:

UMA DÚZIA = 12 UNIDADES  
MEIA DÚZIA = 6 UNIDADES

DONA VÂNIA COMPROU OVOS PARA FAZER UM DELICIOSO PUDIM.  
QUANTOS OVOS ELA COMPROU?




MEIA DÚZIA

1 DÚZIA

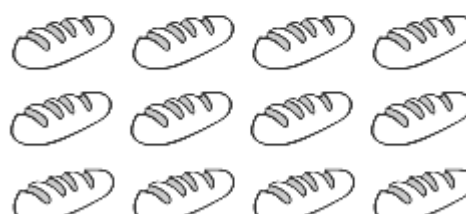
2 DÚZIAS

1 DÚZIA E MEIA

CONTE OS PÃES DOS CONJUNTOS ABAIXO E RESPONDA:

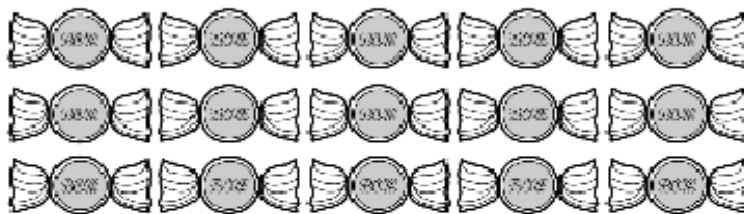


HÁ \_\_\_\_\_ PÃES OU  
\_\_\_\_\_ DÚZIA DE PÃES



HÁ \_\_\_\_\_ PÃES OU  
\_\_\_\_\_ DÚZIA DE PÃES

FORME GRUPOS (CIRCULANDO), DE MEIA DÚZIA DE ELEMENTOS COM OS  
DOCES ABAIXO, EM SEGUIDA RESPONDA O QUE SE PEDE:



1- QUANTOS GRUPOS FORAM FORMADOS?

2- HOVE SOBRA DE DOCES?



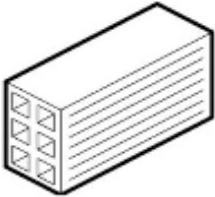






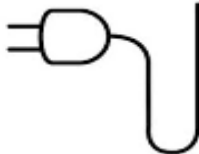
3- QUANTOS SOBRARAM?

NOME: \_\_\_\_\_

**ATIVIDADE**

1. CIRCULE A PALAVRA DE ACORDO COM O NOME DE CADA FIGURA.

**LETRA T**

	TAPETE TOPADA TOMATE		TIPO TOPA TOCA
	TOPETE TIJOLO TITIO		TOPADA TOMADA TORNEIRA
	TATU TAPA TACA		TOTÓ TOMA TOURO
	TOMADA TUTU TAPETE		TOURO TEIA TELA
	TOALHA TUCANO TELA		TOMADA TOCA TOPADA

**COMPLETE AS PALAVRAS COM TA TE TI TO TU**

			
<b>API</b> _____	<b>LEI</b> _____	<b>RA</b> _____	<b>CANE</b> _____
			
____ <b>MADA</b>	<b>TIN</b> _____	____ <b>PE</b> ____	<b>CAS</b> ____ <b>LO</b>

**METADE:**

A METADE DE ALGUMA COISA, É QUANDO  
DIVIDIMOS EM DUAS (2) PARTES IGUAIS:

EXEMPLO TEMOS 2 ABACAXIS, ENTÃO:



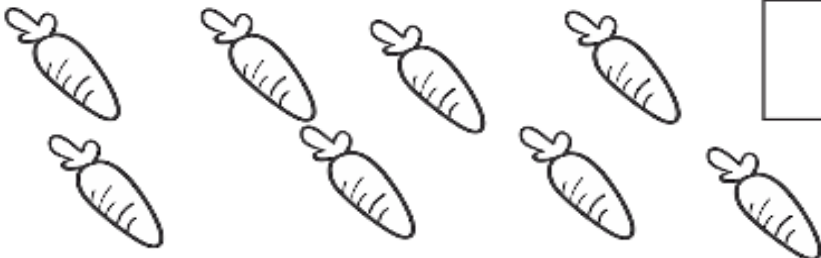



1 PARA VOCÊ

E



1 PARA A MAMÃE


AGORA VAMOS ANOTAR O TOTAL DOS DESENHOS NO PRIMEIRO QUADRADINHO, EM  
SEGUIDA PINTE A METADE, CONTE E ANOTE A METADE PINTADA NO OUTRO QUADRADINHO:

<input type="text"/>		<input type="text"/>
<input type="text"/>		<input type="text"/>
<input type="text"/>		<input type="text"/>
<input type="text"/>		<input type="text"/>


NOME: \_\_\_\_\_

USE AS PALAVRAS DO QUADRO PARA SUBSTITUIR OS DESENHOS DAS FRASES ABAIXO,  
E REESCREVA COM A PALAVRA CORRETA:



TESOURA - TARTARUGA - TATU  
TREZE - TIJOLOS - TORTA - TOMATE  
TUBARÃO - TÊNIS.



1. O  DE CASA É VERDE.


O TAPETE DE CASA É VERDE. ← EXEMPLO

2. MAMÃE USOU A  ONTEM.

3. NO ZOOLOGICO TEM  E .





4. NA LOJA TEM  .

5. VOVÓ FEZ UMA  DE .

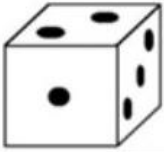















6. O  ESTÁ NO MAR.

7. O  DO MENINO ESTÁ SUJO.

## FORMAS GEOMÉTRICAS:

RECORTE AS FIGURAS ABAIXO E COLE NO QUADRO ACIMA DE ACORDO COM A FORMA COM A QUAL SE PARECEM:



NOME: \_\_\_\_\_

**CAÇA-PALAVRAS SILÁBICO!**

TA

TE

TI

TO

TU

POTE

FOTO

LEITÃO

TOMATE

FO	TO	MO	TA	TA
TA	MA	TO	BA	BUA
PO	TE	TU	CA	NO
TA	BO	SA	PA	TO
LI	TI	GA	TO	LEI
TA	JÃO	LA	TÃO	TÃO

TUCANO

LATÃO

SAPATO

BOTIJÃO

**LEIA DEVAGAR E ESCREVA AS SÍLABAS MARCADAS:**

ABACATE 
 JABUTICABA

BATUCADA 
 MATEMÁTICA

**ORDENE AS LETRAS E TENDE DESCOBRIR QUAIS AS PALAVRAS QUE ESTÃO DENTRO DE CADA BALÃO:**

P  
E  
O  
T

\_\_\_\_\_

I  
T  
A  
P  
O

\_\_\_\_\_

O  
B  
T  
E

\_\_\_\_\_

A  
E  
C  
B  
T  
A  
A


\_\_\_\_\_

9


1 - Complete a sequência numérica:

0								
10								
20								
30								
40								

QUEM VEM ANTES?



QUEM VEM DEPOIS?



SE VOCÊ CIRCULAR GRUPOS DE 5, QUANTOS GRUPOS SE FORMARÃO?



- (A) 2 GRUPOS
- (B) 3 GRUPOS
- (C) 4 GRUPOS


COMPLETE A SEQUÊNCIA:

25	26				30	31
----	----	--	--	--	----	----

NOME: \_\_\_\_\_

ATIVIDADE DE LEITURA E ESCRITA

1) NUMERE AS COLUNAS DE ACORDO COM OS NOMES DAS FIGURAS:



- ( ) MARTELO
- ( ) MACACO
- ( ) MAÇÃ
- ( ) MORANGO

















- ( ) CAVALO
- ( ) CAQUI
- ( ) CHAVE
- ( ) CACHORRO

- ( ) LARANJA
- ( ) SERROTE
- ( ) LAGARTA
- ( ) ALICATE

2) AGORA CLASSIFIQUE AS FIGURAS ACIMA NAS LISTAS :

FRUTAS	ANIMAIS	FERRAMENTAS

RESOLVA AS SUBTRAÇÕES ABAIXO:



REALIZE A SUBTRAÇÃO E COLOQUE O RESULTADO


$12 - 5 =$

$20 - 9 =$

NOME: \_\_\_\_\_

**FICHA DE LEITURA**

**LEITURA**



V V  
v v

VACA

va- ve- vi- vo- vu  
VA- VE- VI- VO- VU  
va- ve- vi- vo- vu  
Va- Ve- Vi- Vo- Vu

VACA	VELA	VOCÊ
VALEU	VULCÃO	VICE
VIVO	VALOR	VILA
VELUDO	VOZ	VOTO

VIVIANE VISITOU O SÍTIO DE SEU VOVÔ E VIU UMA VACA.

GRUPO MATERIAIS PEDAGÓGICOS



VA

VE

VI

VO

VU

VÃO

va

ve

vi

vo

vu

vão

COMPLETE AS PALAVRAS COM AS SÍLABAS  
CORRESPONDENTES.



LANTE



LA



OLÃO



LCÃO



SSOURA



LA



MPIRO



CA

**QUESTÃO 1**

AS PRAÇAS DA CIDADE SÃO UM PEDACINHO DA NATUREZA PERTO DE NÓS. É TÃO BOM TER ESPAÇO PARA BRINCAR E CORRER ENTRE AS ÁRVORES, NÃO É? OBSERVE AS CRIANÇAS NO QUADRO ABAIXO.



QUANTAS CRIANÇAS APARECEM BRINCANDO NA PRAÇA?

- A)  5
- B)  7
- C)  8
- D)  6

**QUESTÃO 2**



ALEX TEM **NOVE** BRINQUEDOS DIFERENTES. FAÇA UM X NO QUADRADINHO QUE MOSTRA O NÚMERO DE BRINQUEDOS QUE ALEX TEM.

- A)  909
- B)  99
- C)  90
- D)  9

**QUESTÃO 3**

GEPETO FEZ 14 CAIXINHAS DE MADEIRA, SE 4 SE QUEBRARAM, QUANTAS RESTARAM?



- (A) 9
- (B) 10
- (C) 11

NOME: \_\_\_\_\_

B F I Z V X A M I C F H  
C V P G A C V I L A N R  
F I T R L P I K H Q T S  
R D L P A V Ã O G P Y X  
Q A N S B V O V Ô P V C  
W G V A C A G H M Q K L  
M Y V A L E T A B R X Y  
T P Q R T Y P S D F G J  
E H J K L Z X C V B N M



**AVIÃO, VILA, PAVÃO, VOVÓ, VACA,  
VIDA, VALETA, VALA**

COMPLETE COM VA - VE - VI - VO - VU E COPIE:

\_\_OLA \_\_\_\_\_ CA\_\_LO \_\_\_\_\_

LE\_\_DO \_\_\_\_\_ A\_\_ÃO \_\_\_\_\_

NO\_\_LO \_\_\_\_\_ O\_\_ \_\_\_\_\_



ESCREVA COMO LEMOS CADA UM DOS NÚMEROS ABAIXO:

11	ONZE	16	_____
12	_____	17	_____
13	_____	18	_____
14	_____	19	_____
15	_____	20	_____



## DEZENA

1 - UMA **DEZENA** CORRESPONDE A **10 UNIDADES**. COMPLETE O RETÂNGULO ABAIXO ATÉ CHEGAR 10 UNIDADES (**1 DEZENA**).



2 - QUANTAS UNIDADES FALTAM PARA COMPLETAR **1 DEZENA**? REGISTRE O NÚMERO.

































3 - A METADE DE **1 DEZENA** É **MEIA DEZENA** QUE SÃO **5 UNIDADES**. CIRCULE A METADE DOS ELEMENTOS.

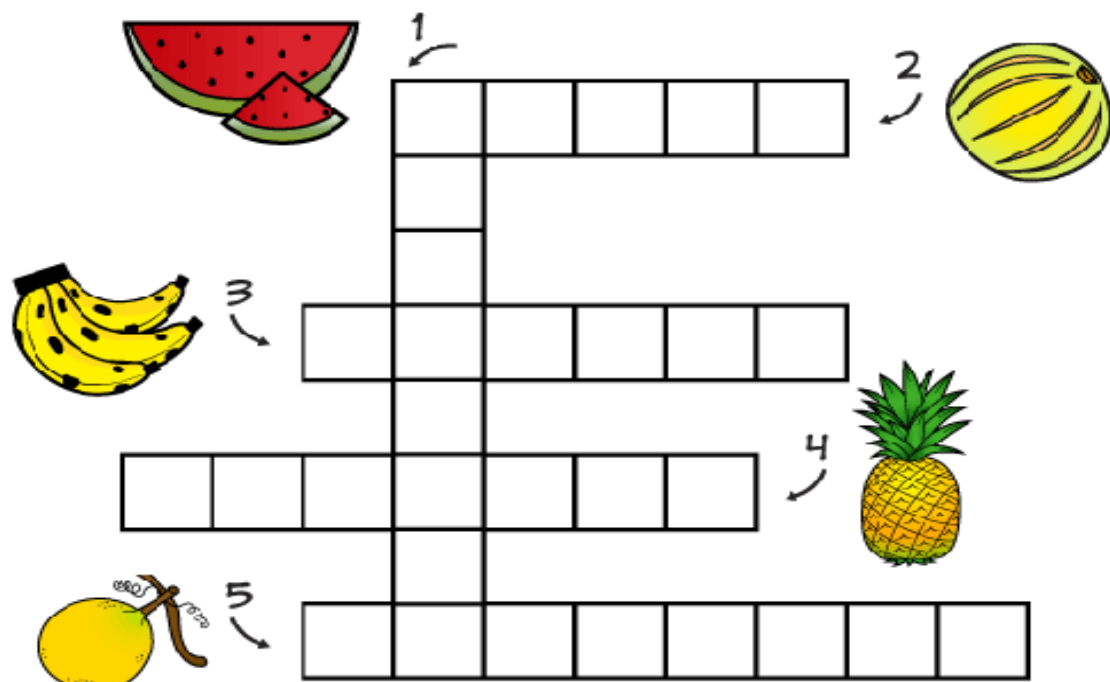


NOME: \_\_\_\_\_

OBSERVE OS ALIMENTOS ABAIXO, EM SEGUIDA ESCOLHA E CIRCULE A CARINHA TRISTE PARA AQUELES QUE VOCÊ NÃO GOSTA, OU A CARINHA FELIZ PARA AQUELES QUE VOCÊ GOSTA:

CRUZADINHA DE FRUTAS:


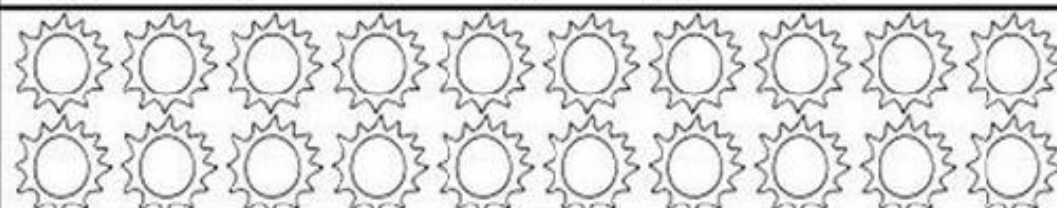

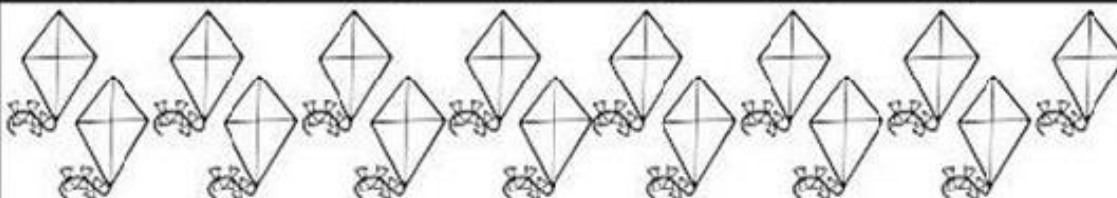

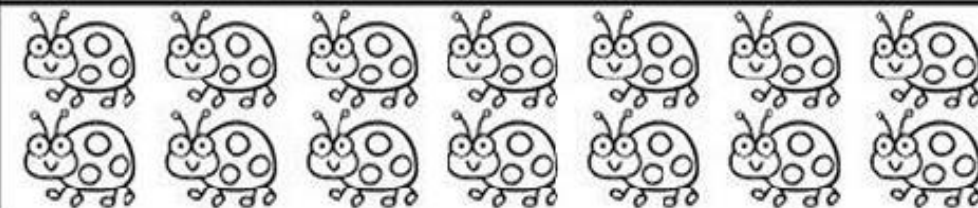
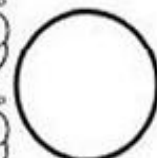

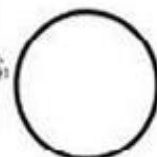



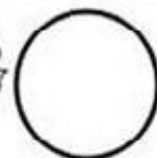




A crossword puzzle grid with five clues and illustrations:

- 1. MELÃO (Watermelon) - 5 letters
- 2. MALANCIA (Melon) - 6 letters
- 3. BANANA (Banana) - 6 letters
- 4. ABACAXI (Pineapple) - 7 letters
- 5. LARANJA (Orange) - 7 letters


ABACAXI- BANANA- LARANJA- MALANCIA- MELÃO.

1- CONTE E ESCREVA O NUMERAL QUE INDICA A QUANTIDADE DE ELEMENTOS NO CÍRCULO AO LADO.



NOME: \_\_\_\_\_

1- OBSERVE OS NOMES DOS MEIOS DE TRANSPORTE E FAÇA O QUE SE PEDE




TREM

\*LETRA INICIAL?

\*LETRA FINAL?

\*QUANTAS LETRAS?



AVIÃO

\*LETRA INICIAL?

\*LETRA FINAL?

\*QUANTAS LETRAS?




BARCO

\*LETRA INICIAL?

\*LETRA FINAL?

\*QUANTAS LETRAS?



ÔNIBUS

\*LETRA INICIAL?

\*LETRA FINAL?

\*QUANTAS LETRAS?




MOTO

\*LETRA INICIAL?

\*LETRA FINAL?

\*QUANTAS LETRAS?



CAMINHÃO

\*LETRA INICIAL?

\*LETRA FINAL?

\*QUANTAS LETRAS?

AGORA QUE VOCÊ TERMINOU A ATIVIDADE ACIMA, PINTE OS MEIOS DE TRANSPORTE COM CAPRICHOS!

## MEIOS DE TRANSPORTE

LIGUE



NAVIO

TÁXI

BALÃO

AVIÃO

CAMINHÃO

TREM

ÔNIBUS

MOTO

## MEIOS DE TRANSPORTE

COMPLETE A LETRA INICIAL




\_\_ARCO



\_\_ARRO



\_\_ETRÔ



\_\_AXI



\_\_OGUETE



\_\_KATE



\_\_ELICÓPTERO



\_\_NIBUS



\_\_OTO



\_\_ICICLETA



\_\_REM



\_\_VIÃO



\_\_AMINHÃO



\_\_ALÃO



\_\_AVIO

NOME: \_\_\_\_\_

INTERPRETAÇÃO DE TEXTO:

- MAMÃE, LER O TEXTO JUNTO COM A CRIANÇA:
- E DEPOIS QUE A CRIANÇA CIRCULAR OU MARCAR (X) NA RESPOSTA CORRETA, PEDIR PARA PINTAR O DESENHO CORRETO:

**ERA UMA BRUXA  
À MEIA - NOITE  
EM UM CASTELO MAL - ASSOMBRADO  
COM UMA FACA NA MÃO  
PASSANDO MANTEIGA NO PÃO**



CIRCULE ABAIXO ONDE A BRUXA ESTAVA À MEIA NOITE.




MARQUE COM X O QUE A BRUXA TINHA NA MÃO.









MARQUE COM X ONDE ELA PASSA A MANTEIGA.







OBSERVE E CONTE OS DESENHOS ACIMA, ANOTE DE ACORDO NOS QUADRADINHOS ABAIXO E EM SEGUIDA SOME OS NÚMEROS ANOTADOS:

			
<input type="text"/>	+	<input type="text"/>	+
<input type="text"/>		+	<input type="text"/>
		=	<input type="text"/>
			
<input type="text"/>	+	<input type="text"/>	+
<input type="text"/>		+	<input type="text"/>
		=	<input type="text"/>


NOME: \_\_\_\_\_


**CIRCULE SOMENTE OS NOMES CORRETOS DAS FIGURAS**

	<p>BUCHA BONECA BRUXA</p>
---	-----------------------------------

	<p>PORTA POTE PORCA</p>
--	---------------------------------

	<p>MATO SAPO GATO</p>
---	-------------------------------

	<p>XALE CHAVE CHAMA</p>
--	---------------------------------

	<p>VARA VASSOURA VACA</p>
--	-----------------------------------

	<p>CALA CASA CAMA</p>
---	-------------------------------

	<p>CHAPÉU PAPEL CHANEL</p>
---	------------------------------------

	<p>COMIDA CORUJA COLEGA</p>
--	-------------------------------------

**VAMOS COMPLETAR O DIAGRAMA ABAIXO:**



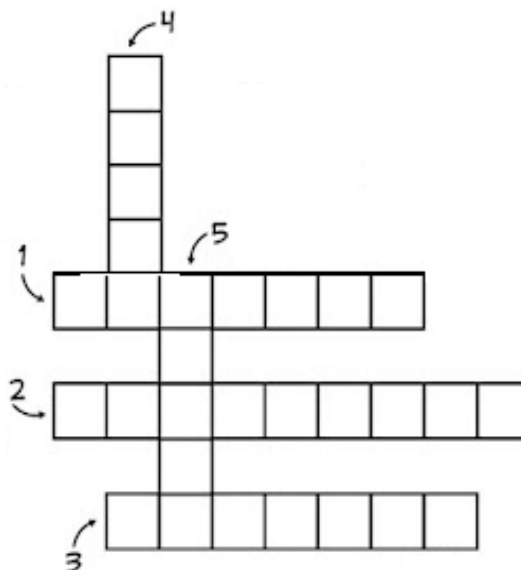
1- VAMPIRO



2- CEMITÉRIO



3- CASTELO



4- BRUXA



5- MUMIA



VAMOS PREENCHER O CALENDÁRIO DO MÊS DE NOVEMBRO, E PINTAR DE VERMELHO OS DOMINGOS E OS FERIADOS:

DICAS: DIA 2 COMEMORAMOS O DIA DE FINADOS;  
DIA 15 COMEMORAMOS O DIA DA PROCLAMAÇÃO DA REPÚBLICA;  
DIA 19 COMEMORAMOS O DIA DA BANDEIRA, (MAS NÃO É FERIADO).

# NOVEMBRO-2021



Dom	Seg	Ter	Quar	Qui	Sex	Sab
	1					

NOME: \_\_\_\_\_

### DIA E NOITE...



PARA TER SAÚDE E CUIDAR DA NOSSA HIGIENE PESSOAL, PRECISAMOS REALIZAR ALGUMAS ATIVIDADES TODOS OS DIAS. VAMOS LER?

AS FIGURAS REPRESENTAM ATIVIDADES QUE VOCÊ DEVE REALIZAR, DIARIAMENTE, PARA TER SAÚDE E CUIDAR DA SUA HIGIENE PESSOAL.

QUAIS DELAS VOCÊ REALIZA DURANTE O DIA? QUAIS À NOITE? E QUAIS DELAS VOCÊ REALIZA TANTO DE DIA QUANTO À NOITE? MARQUE UM X PARA INDICAR AS AÇÕES REALIZADAS DE DIA, À NOITE OU NOS DOIS MOMENTOS.

DORMIR  (    ) DIA ☀ (    ) NOITE ☾	ESCOVAR OS DENTES  (    ) DIA ☀ (    ) NOITE ☾
ESTUDAR  (    ) DIA ☀ (    ) NOITE ☾	TOMAR BANHO  (    ) DIA ☀ (    ) NOITE ☾

O DIA PODE SER DIVIDIDO EM DIFERENTES PERÍODOS: **MANHÃ, TARDE E NOITE.**



MANHÃ



TARDE



NOITE

OBSERVE AS ILUSTRAÇÕES ACIMA. DEPOIS, MARQUE COM UM X A ALTERNATIVA CORRETA.

A) NO PERÍODO DA MANHÃ O MENINO:

ACORDOU.       BRINCOU.       TOMOU BANHO.

B) NO PERÍODO DA TARDE, O MENINO:







ESTUDOU.       ACORDOU.       ALMOÇOOU.

C) NO PERÍODO DA NOITE, O MENINO:

ALMOÇOOU.       FOI DORMIR.       TOMOU BANHO.

VAMOS PROCURAR AS PALAVRAS:

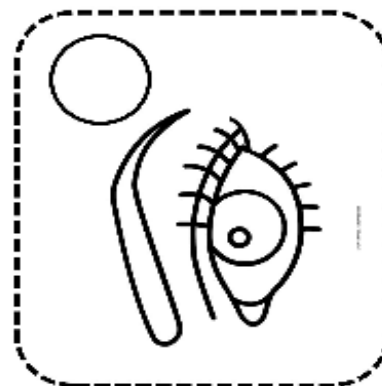
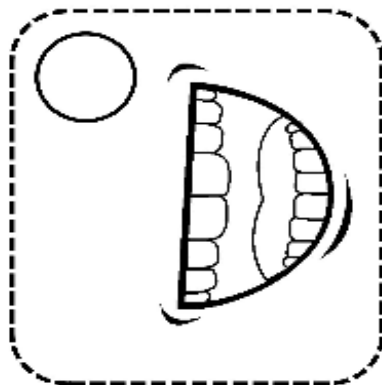
B	N	O	L	H	O	D
N	A	R	I	Z	D	O
T	Y	U	D	G	P	É
T	R	D	M	Ã	O	V
A	B	O	C	A	Y	X
O	R	E	L	H	A	C

	MÃO		PÉ		ORELHA		OLHO		NARIZ		BOCA
---	-----	---	----	---	--------	--	------	---	-------	--	------




ENUMERE RELACIONANDO OS SENTIDOS ÀS PARTES DO CORPO.

1. AUDIÇÃO
2. OLFATO
3. PALAÇAR
4. VISAO
5. TATO



**DITADO RECORTADO**

RECORTE AS PALAVRAS E COLE-AS  
DE ACORDO COM OS DESENHOS.



VELA	VACA	AVIÃO	VASO
VIOLÃO	NAVIO	VASSOURA	VARAL
OVO	PAVÃO	UVA	CAVALO

ATIVIDADE DIAGNÓSTICA


SENHORES PAIS, POR FAVOR APENAS REPITAM O NOME DE CADA OBJETO ABAIXO PARA A CRIANÇA, E DEIXE QUE ELA ESCREVA SOZINHA. OBRIGAGA!!

AUTODITADO

F ou V



20



## REFERÊNCIAS:

- MATERIAIS IMPRESSOS PARA ALFABETIZAÇÃO,
- COLEÇÃO TINDOLELÉ.

## IMAGENS RETIRADAS DO GOOGLE:

- [https://www.nossoclubinho.com.br/wp-content/uploads/2013/02/atividades\\_matematica\\_duzia\\_agrupamento.png](https://www.nossoclubinho.com.br/wp-content/uploads/2013/02/atividades_matematica_duzia_agrupamento.png)
- <https://i.pinimg.com/736x/91/6d/2c/916d2cca929d4718ec24a23ed7a9b4c0.jpg>
- <https://2.bp.blogspot.com/-bkYQe7tc75o/W7Ya7xzJczl/AAAAAACNgQ/1BbB3YsUGWwpMbdlJAHwFFTxFIZsyuvwCLcBGAs/s1600/se-quencia-alfabetica-para-ditado-da-letra-t-imprimir-atividade.jpg>
- [https://3.bp.blogspot.com/-QLj695oUXBM/VGKwspdtcl/AAAAAAAKQM/udGJbQI4qPQ/s1600/atividades-educativas-metade-matematica-ideia-criativa-ensino-fundamental%2B\(2\).png](https://3.bp.blogspot.com/-QLj695oUXBM/VGKwspdtcl/AAAAAAAKQM/udGJbQI4qPQ/s1600/atividades-educativas-metade-matematica-ideia-criativa-ensino-fundamental%2B(2).png)
- [https://files.liveworksheets.com/def\\_files/2021/4/1/10401000540624591/10401000540624591001.jpg](https://files.liveworksheets.com/def_files/2021/4/1/10401000540624591/10401000540624591001.jpg)
- <https://i.pinimg.com/474x/9a/cc/4a/9acc4aaad6482182c897275386d9c27f.jpg>
- [https://cdn.slidesharecdn.com/ss\\_thumbnails/eraumabruxa2014afonsinogracy-180428142417-thumbnail-4.jpg?cb=1525014355](https://cdn.slidesharecdn.com/ss_thumbnails/eraumabruxa2014afonsinogracy-180428142417-thumbnail-4.jpg?cb=1525014355)
- <http://3.bp.blogspot.com/-OrLutiinYII/Umwikt6cC5I/AAAAAAAAGds/RBsLeyeVmuE/s1600/Atividades+Halloween+em+ingles.jpg>
- [https://lh3.googleusercontent.com/proxy/frarQpEDsNgHuiNxcMX4ETrJDoBLFoXuoZ\\_PdQ8TGoXC2RLMSexQzQ0UQpimr\\_t1PI89cMLx55uU3EmyKWyyfnfBYcUx9-2VeuJi0Z92a3appuMJvHD59A-HSfqnzstDErYBcti-RfsUiSohC\\_YFrkvvN5TTMj8K0rT9mjukUJQ](https://lh3.googleusercontent.com/proxy/frarQpEDsNgHuiNxcMX4ETrJDoBLFoXuoZ_PdQ8TGoXC2RLMSexQzQ0UQpimr_t1PI89cMLx55uU3EmyKWyyfnfBYcUx9-2VeuJi0Z92a3appuMJvHD59A-HSfqnzstDErYBcti-RfsUiSohC_YFrkvvN5TTMj8K0rT9mjukUJQ)
- <https://i.pinimg.com/originals/e3/1c/04/e31c040a548e73d6d1dcef8a4defb063.jpg>
- <https://amorensina.com.br/wp-content/uploads/2018/07/adiC3A7C3A3o-e-subtraC3A7C3A3o-pintando-a-operaC3A7C3A3o-que-corresponde-ao-resultado-da-interseC3A7C3A3o-1C2BA-ano2-724x1024.png>
- <https://www.soescola.com/wp-content/uploads/2017/07/simulado-de-matematica-2.jpg>
- <https://image.slidesharecdn.com/matematica1ano-150310161821-conversion-gate01/95/avaliacao-diagnostica-de-matematica-1-ano-4-638.jpg?cb=1426004387>
- <https://i.pinimg.com/474x/11/de/62/11de625e4b458c1b843fc8652b2c2e5b.jpg>
- <https://1.bp.blogspot.com/-8ZqBae7E7cs/Xqr6m402GII/AAAAAAAAnDc/b1spSqpg2Nc7nQ4Qyccqh4WxrLyi-zcvwCNcBGAsYHQ/s1600/MEIOS%2BDE%2BTRANSPORTES2.png>
- <https://i.pinimg.com/originals/e8/1d/96/e81d96c55b7f8608fbfa1d5719031935.png>
- <https://i.pinimg.com/originals/ad/a7/88/ada788644ce88e579b08e8a4f4a67c00.png>
- <https://atividadespedagogicas.net/wp-content/uploads/2019/03/cruzadinha-e-c%C3%A7a-palavras-sobre-o-corpo-humano-2.png>
- <https://i.pinimg.com/474x/e0/cc/26/e0cc26afd606d33d4f70e5f837910449.jpg>
- <http://docplayer.com.br/docs-images/69/60800678/images/34-3.jpg>
- <http://4.bp.blogspot.com/-aZPWxDLfwml/ULkgcpfw75I/AAAAAAAABVA/YWnBZcaQW5g/s1600/Ditado+recortado+V+001.jpg>
- <https://i.pinimg.com/originals/a2/d5/6a/a2d56abfe2e773fa0e26b49c3cd30234.jpg>