

E.M. ALEXANDRE VANNUCHI LEME

APOSTILA 13

PERÍODO DE 18 DE OUTUBRO À 05 DE NOVEMBRO

DATA DA ENTREGA: 08 DE NOVEMBRO



PROFESSORA: CATARINA SELMA DE OLIVEIRA CEZAR

1º TERMO A

Nome do aluno-----

1) LEIA O TEXTO:

PARLENDA DO MACACO FOLCLORE

MEIO-DIA

MACACO ASSOBIÁ

PANELA NO FOGO

BARRIGA VAZIA.



MEIO-DIA

MACACA SOFIA

FAZENDO CARETA

PRA DONA MARIA.

2) RESPONDA DE ACORDO COM O TEXTO:

A) COMO SE CHAMA A MACACA?

B) PARA QUEM A MACACA FAZ CARETA?

C) O QUE O MACACO FAZ?

D) QUE HORAS SÃO NO TEXTO?

E) ONDE A PANELA ESTÁ?

12 - Escreva os nomes dos animais.






























FRASES

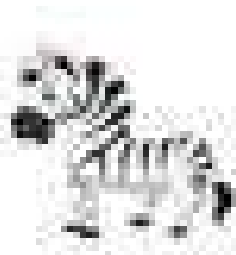
O



COMEU A



A




GOSTA DE



O



PULOU NO



Nome: _____

Data: __/__/____

ESCREVA POR EXTENSO:

16 _____

A

17 _____

B

18 _____

19 _____

C

20 _____

21 _____

D

22 _____

23 _____

E

24 _____

25 _____

F

26 _____

27 _____

G

28 _____

29 _____

H

30 _____

Escola _____



Nome: _____

Professora: _____

Data: ____/____/____

SITUAÇÕES - PROBLEMA



Num pomar há 37 laranjeiras e 15 goiabeiras.

Quantas árvores frutíferas há no pomar?

Papai tem 32 anos. Eu tenho 11 anos. Quantos anos papai é mais velho que eu?

Num saquinho havia 39 balas. Carlos chupou 18 balas. Quantas balas sobraram?

Mamãe fez doces para a reunião de pais e professores. Ela fez 22 docinhos de leite, 32 brigadeiros e 12 cocadas. Quantos doces mamãe fez?

ONÇA PINTADA



A ONÇA VIVE EM FLORESTAS E CAVERNAS DA AMÉRICA DO SUL E AMÉRICA CENTRAL. NO BRASIL, PRINCIPALMENTE NO PANTANAL E NA AMAZÔNIA.

O SEU PRATO PREFERIDO É COMER CAPIVARAS, PORCOS-DO-MATO E OUTROS MAMÍFEROS, AVES, RÉPTEIS E ATÉ PEIXES.

SEU PESO É DE 130 A 160 QUILOS E O SEU TAMANHO É DE 70 E 80 CENTÍMETROS DE ALTURA E CERCA DE 2 METROS PODENDO CHEGAR ATÉ 3 METROS DE COMPRIMENTO

SEU TEMPO DE VIDA É DE CERCA DE 20 ANOS.

UMA CARACTERÍSTICA IMPORTANTE É QUE AS ONÇAS-PINTADAS SÃO SOLITÁRIAS E SO BUSCAM A COMPANHIA DE UM PAR DURANTE A ÉPOCA DE ACASALAMENTO. A GESTAÇÃO DURA EM MÉDIA 100 DIAS E ATÉ QUATRO FILHOTES PODEM SER GERADOS.

AGORA VAMOS PREENCHER A FICHA DO ANIMAL QUE VOCÊ LEU:

FICHA TÉCNICA	
NOME DO ANIMAL -	
PESO -	
FILHOTES -	
ONDE VIVE -	
ALIMENTAÇÃO -	
HÁBITOS -	

Escola: _____


Turma: _____

Nome: _____

Data: __/__/__

PARTES DA PLANTA

Nesta paisagem temos uma árvore e algumas flores. Pinte as partes do desenho conforme a legenda indicada.



ESCOLA: _____

NOME: _____

DATA: ____/____/____

SEGUNDA TERÇA QUARTA QUINTA SEXTA



MATEMÁTICA

- Resolva as operações de adição.

1)
$$\begin{array}{r} 56 \\ + 99 \\ \hline \end{array}$$

2)
$$\begin{array}{r} 29 \\ + 85 \\ \hline \end{array}$$

3)
$$\begin{array}{r} 75 \\ + 49 \\ \hline \end{array}$$

4)
$$\begin{array}{r} 93 \\ + 78 \\ \hline \end{array}$$

5)
$$\begin{array}{r} 75 \\ + 57 \\ \hline \end{array}$$

6)
$$\begin{array}{r} 92 \\ + 18 \\ \hline \end{array}$$

7)
$$\begin{array}{r} 52 \\ + 58 \\ \hline \end{array}$$

8)
$$\begin{array}{r} 97 \\ + 43 \\ \hline \end{array}$$

9)
$$\begin{array}{r} 77 \\ + 69 \\ \hline \end{array}$$

10)
$$\begin{array}{r} 38 \\ + 92 \\ \hline \end{array}$$

11)
$$\begin{array}{r} 64 \\ + 58 \\ \hline \end{array}$$

12)
$$\begin{array}{r} 18 \\ + 95 \\ \hline \end{array}$$

13)
$$\begin{array}{r} 69 \\ + 99 \\ \hline \end{array}$$

14)
$$\begin{array}{r} 53 \\ + 88 \\ \hline \end{array}$$

15)
$$\begin{array}{r} 96 \\ + 96 \\ \hline \end{array}$$

16)
$$\begin{array}{r} 35 \\ + 76 \\ \hline \end{array}$$

NOME: _____ DATA: _____

QUE HORAS SÃO?

CIRCULE A HORA MOSTRADA NO RELÓGIOS ABAIXO



10:00

9:00

8:00



1:30

3:30

4:30



5:00

12:00

3:00



4:00

3:00

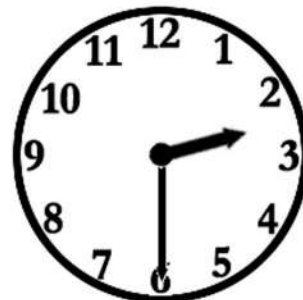
9:00



1:30

12:30

6:30



2:30

3:30

3:00



8:30

9:30

10:30



3:00

2:00

1:00

ESCOLA: _____

NOME: _____

TURMA: _____ DATA: ____/____/____ CONCEITO: _____



professoracorujarj.blogspot.com

MARQUE A FRASE QUE ESTÁ DE ACORDO COM CADA IMAGEM:



- AS CRIANÇAS COMEM ALFACE.
- AS CRIANÇAS PLANTAM UMA HORTA.
- AS CRIANÇAS COMEM TORTA.



- A FORMIGA PEGA A BOLA.
- A FORMIGA CARREGA UMA ROLHA.
- A FORMIGA CARREGA UMA FOLHA.



- O NADADOR SUBIU A ESCADA.
- O NADADOR VENCEU A PROVA.
- O NADADOR VENCEU O JOGO.



- A MENINA COME A MAÇÃ.
- A MENINA COMPRA A MAÇÃ.
- A MENINA TOMA SUCO DE MAÇÃ.



- O HOMEM PEGA AS FLORES.
- O HOMEM VÊ AS BORBOLETAS.
- O HOMEM PEGÁ AS BORBOLETAS.



- O PASSARINHO VOA FELIZ.
- O PASSARINHO PEGA A SEMENTE.
- O PASSARINHO PEGA A SERPENTE.



- O MENINO PULA DA ÁRVORE.
- O MENINO SOBE NA ÁRVORE.
- O MENINO COLOCA A ESTRELA NA ÁRVORE.



- A MULHER PEGA A BOLA.
- A MULHER COSTURA AS BOLSAS.
- A MULHER PEGA A BOLSA.

Escola: _____

Data: _____ Turma: _____ **EDUCARX.COM**

Aluno: _____

Escreva o feminino das palavras abaixo.

Anão _____

Esposo _____

Bode _____

Cavalo _____

Irmão _____

Poeta _____

Amigo _____

Leão _____

Senhor _____

Juiz _____

Aluno _____

Autor _____

Sogro _____

Rei _____

Moço _____

Avô _____

Escreva o masculino das palavras abaixo

Costureira _____

Abelha _____

Ladra _____

Neta _____

Madrinha _____

Prima _____

Mãe _____

Gata _____

Atriz _____

Mulher _____

Toda _____

Índia _____

Sozinha _____

Pavoa _____

Referência Eja APOSTILA 13

<https://br.pinterest.com/pin/360358407692059961/>

<https://br.pinterest.com/pin/25403185388863613/>

<https://br.pinterest.com/pin/740419994981107394/>

<https://br.pinterest.com/catia0533/numeros-300400/>

<https://br.pinterest.com/pin/803188914768160805/>

<https://br.pinterest.com/pin/286682332515743844/>

<https://viacarreira.com/wp-content/uploads/2021/04/atividades-de-ciencia-1-e-2-ano-do-ensino-fundamental-3.jpg>

<https://alfakids.org/atividades-de-matematica-3oano-desafios-fatos-fundamentais-e-operacoes/>

<https://oespacoeducar.com.br/2020/05/25/trabalhando-as-horas-sugestoes-com-o-tema-atividades-para-imprimir-e-materiais/>

<https://br.pinterest.com/pin/15129348739135895/>

<http://aprender-e-educar.blogspot.com/2016/04/atividades-masculino-e-feminino.html>