

E.M. ALEXANDRE VANNUCHI LEME

APOSTILA 13

PERÍODO: 18 DE OUTUBRO Á 05 DE NOVEMBRO

DATA DA ENTREGA: 08 DE NOVEMBRO



PROFESSORA: EUNICE

SEGUNDO ANO A

Nome do aluno: _____

NOME: _____

DATA: _____

Vamos aprender adição



1. Responda as questões e depois pinte o desenho

A cartoon pig character is shown from the side, holding a large rectangular sign. The pig has a curly tail and is looking towards the sign. The sign contains a list of addition problems, each followed by an empty box for the answer.

10 + 6 =	<input type="text"/>
14 + 4 =	<input type="text"/>
12 + 2 =	<input type="text"/>
8 + 3 =	<input type="text"/>
4 + 12 =	<input type="text"/>
9 + 4 =	<input type="text"/>
1 + 16 =	<input type="text"/>
13 + 5 =	<input type="text"/>
6 + 11 =	<input type="text"/>
8 + 12 =	<input type="text"/>

NOME: _____

DATA: _____

**1. Responda as questões abaixo:**

$$\begin{array}{r} 20 \\ + 13 \\ \hline \end{array}$$

$$\begin{array}{r} 22 \\ + 11 \\ \hline \end{array}$$

$$\begin{array}{r} 13 \\ + 21 \\ \hline \end{array}$$

$$\begin{array}{r} 12 \\ + 22 \\ \hline \end{array}$$

$$\begin{array}{r} 23 \\ + 11 \\ \hline \end{array}$$

$$\begin{array}{r} 14 \\ + 52 \\ \hline \end{array}$$

$$\begin{array}{r} 26 \\ + 32 \\ \hline \end{array}$$

$$\begin{array}{r} 35 \\ + 42 \\ \hline \end{array}$$

$$\begin{array}{r} 44 \\ + 24 \\ \hline \end{array}$$

$$\begin{array}{r} 65 \\ + 10 \\ \hline \end{array}$$

$$\begin{array}{r} 30 \\ + 47 \\ \hline \end{array}$$

$$\begin{array}{r} 41 \\ + 15 \\ \hline \end{array}$$

$$\begin{array}{r} 57 \\ + 12 \\ \hline \end{array}$$

$$\begin{array}{r} 60 \\ + 16 \\ \hline \end{array}$$

$$\begin{array}{r} 28 \\ + 51 \\ \hline \end{array}$$

$$\begin{array}{r} 29 \\ + 70 \\ \hline \end{array}$$

$$\begin{array}{r} 34 \\ + 54 \\ \hline \end{array}$$

$$\begin{array}{r} 40 \\ + 56 \\ \hline \end{array}$$

$$\begin{array}{r} 33 \\ + 62 \\ \hline \end{array}$$

$$\begin{array}{r} 46 \\ + 20 \\ \hline \end{array}$$

$$\begin{array}{r} 50 \\ + 18 \\ \hline \end{array}$$

$$\begin{array}{r} 53 \\ + 25 \\ \hline \end{array}$$

$$\begin{array}{r} 17 \\ + 31 \\ \hline \end{array}$$

$$\begin{array}{r} 19 \\ + 70 \\ \hline \end{array}$$

$$\begin{array}{r} 27 \\ + 61 \\ \hline \end{array}$$

NOME: _____

DATA: _____

Arme e resolva

$96 - 55 =$

D	U

$96 - 33 =$

D	U

$79 - 13 =$

D	U

$97 - 53 =$

D	U

$66 - 24 =$

D	U

$66 - 23 =$

D	U

$86 - 15 =$

D	U

$86 - 43 =$

D	U

$99 - 33 =$

D	U

$76 - 11 =$

D	U

$67 - 25 =$

D	U

$68 - 55 =$

D	U



NOME: _____ DATA: _____

PAPO (JOSÉ PAULO PAES)

- ONDE VAI JOANINHA ?
- A CASA DA VIZINHA.

VER SE ELA TEM TINTA
PARA MINHAS PINTAS.

- VOCÊ GOSTA DE CORES?
- CLARO, POIS VIVO ENTRE AS FLORES

COMENDO OS PULGÕES
QUE ESTRAGAM AS PLANTAÇÕES

E ACABAM COM O VERDE
TÃO GOSTOSO DE VER-SE.

MAS CHEGA DE PAPO
QUE O SOL JÁ VAI ALTO!

- ENTÃO ADEUS, JOANINHA.
- ENTÃO ADEUS, VIZINHA.

**Interpretação de texto**

1- A joaninha vai _____

() as plantações

() a casa da vizinha

2- O que a joaninha queria da vizinha?

3- Por que a joaninha gosta de cores?

4- O que a joaninha faz entre as flores?

5- O verso "Que o sol já vai alto" significa que _____

() já é tarde para joaninha

() ainda é cedo para joaninha

6- Com quem a joaninha conversava?

NOME: _____ DATA: _____

Matemática



As crianças estão se organizando para fazer a fila de entrada na sala de aula. Observe quantas crianças abaixo e resolva as questões a seguir.

1 - Quantas crianças ao todo?

2 - Na sala de dona Aurora tem o dobro deste número. Quantos alunos têm na sala de dona Aurora?



3 - Na sala do berçário, tem a metade do número de alunos da dona Aurora. Quantos alunos têm na sala do berçário?

4 - Juntando mais 7 alunos a estas crianças que estão organizando a fila, quantas crianças serão?

5 - A turma do 2º ano é formada pelo dobro do número encontrado na questão 4. Quantos alunos têm a turma do 2º ano?

NOME: _____

DATA: _____

Ortografando

► Palavras escritas com: **ce - ci**



Ditado das bolhas

Marcelo e Aparecida fazem bolhas de sabão na bacia.

❖ Junte as sílabas e forme palavras:



- 1- _____
- 5- _____
- 9- _____
- 2- _____
- 6- _____
- 10- _____
- 3- _____
- 7- _____
- 11- _____
- 4- _____
- 8- _____
- 12- _____

❖ Forme palavras e registre-as no quadro:



ce	ci

NOME: _____ DATA: _____

TEXTO LACUNADO

1 COMPLETE O TEXTO USANDO O BANCO DE PALAVRAS.

MARIA – BRUXA
PAIS – IRMÃOS
JOÃO – FUGIR
CAMINHO
FLORESTA



JOÃO E MARIA ERAM _____

UM DIA FORAM PASSEAR NA _____

ELES PERDERAM O _____ DE VOLTA PARA CASA.

A _____ PRENDEU _____ E _____

ELES CONSEGUIRAM _____

ENCONTRARAM SEUS _____ NA FLORESTA E






VOLTARAM PARA CASA.



NOME: _____

DATA: _____

Palavras cruzadas

1.  2.  3.  4.  5.  6.  7.  8.  9.  10.  11.  12.  13.  14. 

NOME: _____

DATA: _____

LENDO EU APRENDO

A PIPA

PALOMA É UMA BOA MENINA. ELA BRINCA COM A PIPA NO PARQUE.

TODOS OS DIAS PALOMA PEDE AO PAPAI PARA SOLTAR PIPA COM ELA.

PAPAI LEVA DINHEIRO PARA COMPRAR PICOLÉ E PIPOCA PARA COMEREM JUNTOS.

ISABEL CRISTINA S. SOARES



1- O NOME DA MENINA É:

2 - ELA GOSTA DE SOLTAR:

3 - ONDE A MENINA GOSTA DE SOLTAR PIPA?

4 - QUEM SOLTA PIPA COM PALOMA?

NOME: _____ DATA: _____

As Estações do Ano

Nascem os frutos,
Não é frio, nem quente,
no agradável Outono,
Eu fico contente.



Chegou a Primavera,
A estação das flores.
Há pássaros, borboletas
De todas as cores.



Faz tanto frio.
Ao Inverno chegar,
Não nado, não brinco,
Não vou passear.



Apenas três meses
Dura cada estação,
E todas elas trazem
Alegria no coração.







Com muita chuva,
Chegou o Verão.
Calor forte e sol
Faz nesta estação.




Filomena Maria da Silva. - Estado de Minas, 22/07/1995.

- ◆ Circule, no poema, com lápis de cor os nomes das estações do ano.
- ◆ Escreva o nome da estação que nos lembra cada cena abaixo:

			
---	---	--	---

NOME: _____

DATA: _____

**BILHETE**

SAMUEL,
VOU VIAJAR E NÃO POSSO IR À SUA CASA HOJE.
VENHA EM MINHA CASA NO SÁBADO A TARDE PARA
JOGARMOS VIDEO GAME.

UM ABRAÇO,
RAFAEL

1 – ESCREVA OS NOMES.

QUEM ESCREVEU O BILHETE:

PARA QUEM ERA O BILHETE:

2 – PARA QUAL DIA DA SEMANA FOI O CONVITE?

DOMINGO

SEGUNDA-FEIRA

SÁBADO

3 – PARA QUAL PERÍODO DO DIA FOI O CONVITE?

MANHÃ

TARDE

NOITE

NOME: _____

DATA: _____

Bilhetinho Entre Amigos



Data

27-05

Nome de quem vai receber o bilhete

Andréa,

Mensagem

Quero lhe mostrar minha coleção de selos. Espero-a na porta da Biblioteca, na hora do lanche.


Agradecimento ou despedida

Beijinhos

Nome de quem escreveu o bilhete

Sofia

◆ Escreva um bilhete para um colega contando-lhe que você ganhou uma bicicleta. Convide-o para vir até sua casa para brincarem juntos.



NOME: _____ DATA: _____

BILHETE 1

Belinha,

Passsei na sua casa para contar o
que aconteceu comigo ontem à noite.

Telefone para mim hoje à tarde, que
eu vou contar tudinho para você!

Um beijinho da amiga Juliana.

15/04/11

1- Marque a resposta certa:

Este gênero textual é um:

 CARTÃO AVISO BILHETE CONTO

2- O assunto principal do texto é para:

 mostrar um brinquedo. convidar para passear.
 contar um acontecimento.

3- Quem escreveu o bilhete foi:

 BELINHA JULIANA PAULA

4- Para quem ela escreveu?

 JULIANA BELINHA PAULA

5- A data do bilhete é:

 15 de junho de 2011 15 de janeiro de 2011.
 15 de abril de 2011.

6- A palavra que indica o tempo do acontecido:

 HOJE ONTEM AMANHÃ

7- O meio de comunicação usado foi:

 CARTA TELEGRAMA TELEFONE

8- Copie todos os sinais de pontuação existentes no bilhete