

E.M. “ Alexandre Vannuchi Leme”

Nome: _____

2º termo A EJA

Professora: Milena

Caderno de Atividades Nº 13

Apostila referente aos dias 18 a 29/10, 03 a 05/11

Data de entrega: 19/10

Data de devolução: 08/11



Interpretando Imagens

1- FAÇA UM X NO QUADRADINHO CORRETO:

O QUE CASÇÃO ESTÁ FAZENDO?

JOGANDO O LIXO NO CHÃO.

LEVANDO O LIXO PARA CASA.

JOGANDO O LIXO NO LUGAR CERTO.



<http://pt-br.monica.wikia.com>

2) Observe a tirinha e responda:



Copyright © 2000 Mauricio de Souza Produções Ltda. Todos os direitos reservados.

7726

CASCÃO TEM MEDO DE TARTARUGA.

O CASÇÃO TEM MEDO DE CHUVA.

O CASÇÃO TOMOU BANHO.

3) MÔNICA E CASÇÃO PEDIRAM 2 BOLAS DE SORVETE CADA UM. MAGALI PEDIU O DOBRO DO QUE OS DOIS TOMARAM JUNTOS E MAIS UMA. QUANTAS BOLAS DE SORVETE ELA PEDIU?

8

9

4



ATIVIDADE DE PORTUGUÊS: GÊNERO TEXTUAL FÁBULA

Leia o texto com atenção:

A raposa e o corvo

Era uma vez um corvo. Ele fugiu com um queijo no bico e decidiu pousar sobre uma árvore. Encontrou uma raposa que lhe disse:

– Como é lindo o seu corpo! Se você tivesse voz, seria superior a todas as aves.

O corvo ficou vaidoso com os elogios. Resolveu levantar o pescoço para cantar. Quando abriu o bico, derrubou o queijo.

A raposa pegou o queijo e foi embora rindo.

Só então que o corvo percebeu que tinha sido enganado.

Moral: não se deixe iludir com os elogios fáceis.



01. O assunto do texto é:

- (A) o corvo valente
(B) o corvo vaidoso
(C) o corvo tímido
(D) o corvo apressado

02. O corvo percebeu que foi enganado quando:

- (A) caiu da árvore
(B) a raposa fugiu com o queijo
(C) estava cantando
(D) desfilava para a raposa

03. A palavra **ELE** em destaque no texto refere-se:

- (A) ao bico
(B) ao corvo
(C) ao queijo
(D) a raposa

04. Qual o Gênero do texto acima?

- (A) Convite
(B) Informativo
(C) Receita
(D) Fábula

05. A finalidade desse texto é:

- (A) Divertir o leitor
(B) Contar uma história
(C) Mandar um recado
(D) Transmitir um ensinamento

DESPESAS DA FAMÍLIA

• Observe:

Mês agosto despesas

Aluguel.....	R\$ 450,00
Supermercado.....	R\$ 170,00
Luz.....	R\$ 54,00
Condomínio.....	R\$ 80,00
Telefone.....	R\$ 76,00
Escola.....	R\$ 300,00
Diversos.....	R\$ 180,00



Faça você



- Qual a maior despesa dessa família? _____
- Qual é a menor? _____
- Qual é o gasto total em aluguel, condomínio, telefone e supermercado?

- Com R\$ 800,00 por mês consegue-se pagar essa despesa? _____

Cálculos:





Resuelve:



$$\begin{array}{r} \textcircled{1} \\ 37 \\ + 85 \\ \hline 122 \end{array}$$

$$\begin{array}{r} \textcircled{1} \\ 39 \\ + 29 \\ \hline \end{array}$$

$$\begin{array}{r} \textcircled{} \\ 28 \\ + 63 \\ \hline \end{array}$$

$$\begin{array}{r} \textcircled{} \\ 47 \\ + 18 \\ \hline \end{array}$$

$$\begin{array}{r} \textcircled{} \\ 75 \\ + 26 \\ \hline \end{array}$$

$$\begin{array}{r} \textcircled{} \\ 25 \\ + 19 \\ \hline \end{array}$$

$$\begin{array}{r} \textcircled{} \\ 84 \\ + 16 \\ \hline \end{array}$$

$$\begin{array}{r} \textcircled{} \\ 72 \\ + 45 \\ \hline \end{array}$$

$$\begin{array}{r} \textcircled{} \\ 82 \\ + 46 \\ \hline \end{array}$$

$$\begin{array}{r} \textcircled{} \\ 57 \\ + 28 \\ \hline \end{array}$$

$$\begin{array}{r} \textcircled{} \\ 94 \\ + 15 \\ \hline \end{array}$$

$$\begin{array}{r} \textcircled{} \\ 64 \\ + 16 \\ \hline \end{array}$$

$$\begin{array}{r} \textcircled{} \\ 56 \\ + 85 \\ \hline \end{array}$$

$$\begin{array}{r} \textcircled{} \\ 79 \\ + 25 \\ \hline \end{array}$$

$$\begin{array}{r} \textcircled{} \\ 89 \\ + 54 \\ \hline \end{array}$$

$$\begin{array}{r} \textcircled{} \\ 26 \\ + 17 \\ \hline \end{array}$$

$$\begin{array}{r} \textcircled{} \\ 95 \\ + 26 \\ \hline \end{array}$$

$$\begin{array}{r} \textcircled{} \\ 33 \\ + 18 \\ \hline \end{array}$$

$$\begin{array}{r} \textcircled{} \\ 45 \\ + 97 \\ \hline \end{array}$$

$$\begin{array}{r} \textcircled{} \\ 54 \\ + 36 \\ \hline \end{array}$$

PASSAMOS POR UM MOMENTO MUITO DIFÍCIL!

Observe com atenção a charge!



a) A charge tem relação com:

- o Coronavírus. a Dengue. a Zica.

b) Quem está do lado de fora do quarto do hospital?

- são pessoas. são planetas do Sistema Solar. são animais.

c) Os planetas estão:

- desejando feliz aniversário.
 desejando boas férias.
 desejando que a pandemia de Coronavírus no planeta Terra passe logo.

d) O Covid-19 é considerado uma pandemia porque:

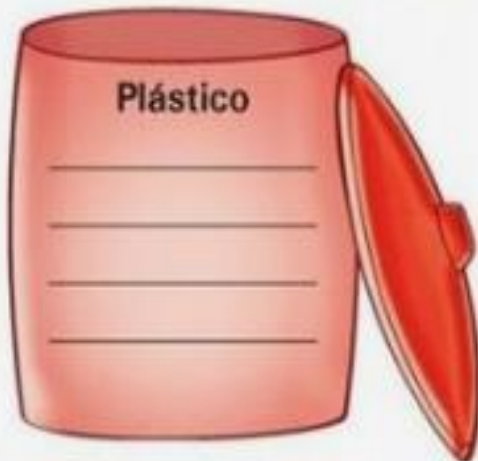
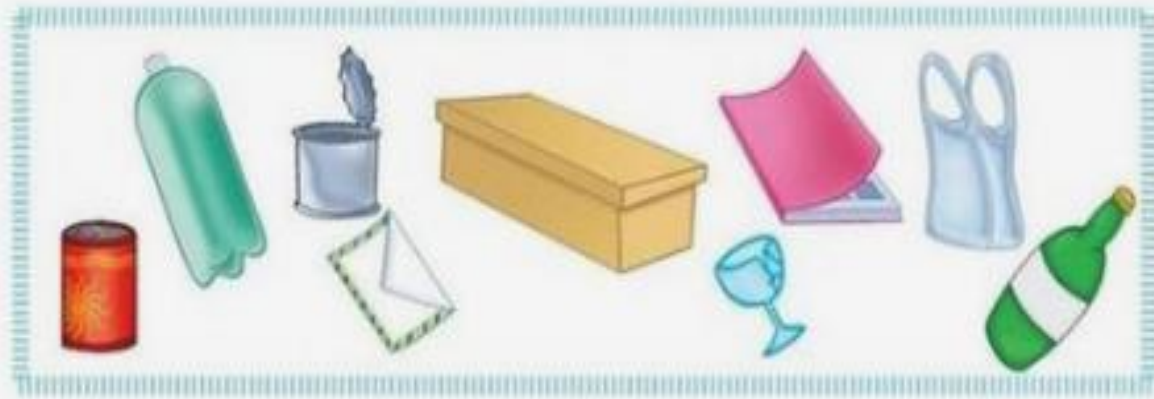
- é uma doença contagiosa que se espalha rapidamente e atinge países ou continentes.
 é uma doença contagiosa que se espalha lentamente e atinge um país ou continente.
 é uma doença contagiosa que se espalha rapidamente e atinge apenas uma região.

e) Você tem seguido as recomendações para evitar o contágio do Coronavírus?

- Sim, o tempo todo. Não, não preciso. Só lembro às vezes.

Atividade sobre reciclagem / descarte correto

- Faça a coleta seletiva escrevendo o nome de cada material no lugar certo.



DESAFIO


OBSERVE OS QUADROS ABAIXO E SIGA AS INSTRUÇÕES ABAIXO



PIPA



©daniaducart



SOPA



1. AS RODAS DO CARRO SÃO VERDES.
2. PINTE A TINTA DO BALDE DE AMARELO.
3. FAÇA UM MAR AZUL EMBAIXO DO NAVIO.
4. PINTE SOMENTE A FITA DO VESTIDO DE ROSA.
5. FAÇA 4 COCOS NO COQUEIRO.
6. PINTE O DADO DE MARROM.
7. PINTE AS PÉTALAS DA FLOR DE ROXO.
8. PINTE A PALAVRA PIPA DE LARANJA.
9. CIRCULE A PALAVRA SOPA.
10. PINTE O PEIXE DE VERMELHO.
11. PINTE A BORRACHA DE AZUL.

Nome: _____ Data: ___/___/___



Leia o texto:

O VESTIDO DE MANOELA

O vestido de Manoela é novo. Foi a vovó quem deu para ela.

Manoela ficou tão feliz com seu vestido novo!

Como Manoela é uma menina tagarela, todos ficaram sabendo da novidade.



Fonte: <https://atividadesparaeducadores.blogspot.com.br>

01. Numere os parágrafos do texto.

02. A primeira palavra do texto é: _____

03. A última palavra do texto é: _____

04. O vestido de Manoela é:

() marron () novo () velho

5. Quem deu o vestido para Manoela?

() sua mãe

() sua tia

() seu avô

() sua avó

6. A reação da Manoela ao ganhar o vestido foi de:

() surpresa () raiva () felicidade





EM UM GALINHEIRO HAVIAM 10 PINTINHOS.
NASCERAM MAIS 6. QUANTOS PINTINHOS HÁ
AGORA NO GALINHEIRO?

aprenderebrincar.com

RESPOSTA: _____



ANA TEM 5 LÁPIS DE COR. QUANTO ELA
PRECISARÁ GANHAR PARA FICAR COM 12
LÁPIS?

aprenderebrincar.com

RESPOSTA: _____



OS AMIGOS ESTÃO JOGANDO FUTEBOL.
LUCAS FEZ 9 GOLS E SEU AMIGO FELIPE FEZ 3.
QUANTOS GOLS ELES FIZERAM NO TOTAL?

aprenderebrincar.com

RESPOSTA: _____



NO JOGO DE XADREZ PEDRO FEZ 7 PONTOS E
MARIANA FEZ 4. QUANTOS PONTOS ELES
FIZERAM JUNTOS?

aprenderebrincar.com

RESPOSTA: _____

APRENDER E BRINCAR



aprenderebrincar.com

GIOVANA TEM 12 CANETAS, MARCIA TEM 5.
QUANTAS CANETAS MARCIA TÊM A MENOS DO
QUE GIOVANA?

RESPOSTA: _____



aprenderebrincar.com

NUM DESFILE MILITAR HAVIA 95 SOLDADOS. 73
ESTAVAM DE FARDA VERDE E O RESTANTE DE
FARDA BRANCA. QUANTOS ESTAVAM DE
FARDA BRANCA?

RESPOSTA: _____



aprenderebrincar.com

UM TIGRE, UM LEÃO E UM LOBO PESAM JUNTOS
697 QUILOS. O TIGRE PESA 295 QUILOS E O LEÃO
PESA 273 QUILOS. QUANTO PESA O LOBO?

RESPOSTA: _____



aprenderebrincar.com

JOÃO RECEBEU R\$183,00 E GASTOU R\$121,00
PAGANDO AS CONTAS DE ÁGUA E LUZ. COM
QUANTO ELE FICOU?

RESPOSTA: _____

Referências bibliográficas

<https://atividadespedagogicas.net/2018/11/4-livro-de-matematica-para-o-ensino-fundamental-em-pdf-download.html>

<https://br.pinterest.com/pin/1688918598228389/>

<https://ensinar-aprender.com/2013/04/apostila-para-eja-70-atividades-html/>

<https://atividadespedagogicas.net/2018/10/3-apostila-de-portugues-para-concurso-pdf-atualizada.html>

https://www.google.com/search?q=atividades%20matematica%20eja&tbm=isch&tbs=rimg:CTG7h9whcvfjYZ4kqmEF9YyfsGIGcIIABAA&rlz=1C1GCEA_enBR946BR946&hl=pt-BR&sa=X&ved=0CBsQuIlBahcKEwiY8YD3itXzAhUAAAAAHQAAAAAQGg&biw=1903&bih=880