

ALUNO:

PROFESSORA: Celina TURMA: 4º ANO B

ATIVIDADES

REFERENTES AO PERÍODO DE: 18/10 à 05/11/2021

13ª Apostila



Data prevista para a devolução da 13ª Apostila: 08/11/2021

NOME: _____ DATA: ____/____/____

O LOBO E OS SETE CABRITINHOS

A MÃE CABRA VIVIA COM OS SEUS SETE CABRITINHOS NUMA CASINHA PERTO DA FLORESTA. UM DIA, DECIDIU IR AO MERCADO E RECOMENDOU QUE NÃO ABRISSEM A PORTA PARA NINGUÉM.

UM LOBO ESFOMEADO, ESCONDIDO ATRÁS DE UM ARBUSTO, VIU A MÃE CABRA PARTIR. BATEU À PORTA E PEDIU PARA OS CABRITINHOS ABRIREM.

OS CABRITINHOS, RECONHECENDO A VOZ DO LOBO, NÃO ABRIRAM A PORTA.

O LOBO TENTOU ADOÇAR A VOZ COM MEL, BATEU À PORTA, MAS OS CABRITINHOS VIRAM-LHE AS PATAS PRETAS. MAIS UMA VEZ, NÃO LHE ABRIRAM A PORTA.

O LOBO FOI ENTÃO À PADARIA, MERGULHOU AS PATAS NA FARINHA DO PADEIRO E VOLTOU A CASA DOS CABRITINHOS.

ENGANADOS, OS CABRITINHOS ABRIRAM A PORTA. QUANDO VIRAM O LOBO, CORRERAM A ESCONDER-SE DEBAIXO DA CAMA, DENTRO DO ARMÁRIO, E DO RELÓGIO. O LOBO COMEU-OS TODOS, MENOS A CABRITINHA MIMI.

QUANDO A MÃE CHEGOU A CASA, A CABRITINHA MIMI SAIU DO RELÓGIO E CONTOU-LHE TUDO.

A MÃE CABRA FOI À PROCURA DO LOBO E ENCONTROU-O A DORMIR PROFUNDAMENTE. ABRIU-LHE A BARRIGA, SALVOU-LHE OS FILHOS E ENCHEU A BARRIGA DO LOBO COM PEDRAS.

O LOBO, QUANDO ACORDOU, FOI BEBER ÁGUA AO POÇO E, DE TÃO PESADO QUE ESTAVA, MORREU AFOGADO.

NOME: _____ DATA: ____/____/____

RESPONDA DE ACORDO COM O TEXTO

1 - QUAL É O TÍTULO DO TEXTO?

2 - QUAIS SÃO OS PERSONAGENS DA HISTÓRIA?

3 - QUAL FOI A RECOMENDAÇÃO DA MAMÃE CABRA A SEUS FILHOTES QUANDO SAIU?

4 – OS FILHOTES OBEDECERAM A MAMÃE? O QUE ACONTECEU COM ELES?

5 – VOCÊ OBEDECE SEUS PAIS?

6 – POR QUE É IMPORTANTE OBEDECER ?

NOME: _____ DATA: ____/____/____

TEXTO FATIADO

RECORTE E COLE O TEXTO CORRETAMENTE:

O LOBO FOI ENTÃO À PADARIA, MERGULHOU AS PATAS NA FARINHA DO PADEIRO E VOLTOU A CASA DOS CABRITINHOS.

ENGANADOS, OS CABRITINHOS ABRIRAM A PORTA. QUANDO VIRAM O LOBO, CORRERAM A ESCONDER-SE DEBAIXO DA CAMA, DENTRO DO ARMÁRIO, E DO RELÓGIO. O LOBO COMEU-OS TODOS, MENOS A CABRITINHA MIMI.

A MÃE CABRA VIVIA COM OS SEUS SETE CABRITINHOS NUMA CASINHA PERTO DA FLORESTA. UM DIA, DECIDIU IR AO MERCADO E RECOMENDOU QUE NÃO ABRISSE A PORTA PARA NINGUÉM.

QUANDO A MÃE CHEGOU A CASA, A CABRITINHA MIMI SAIU DO RELÓGIO E CONTOU-LHE TUDO.

A MÃE CABRA FOI À PROCURA DO LOBO E ENCONTROU-O A DORMIR PROFUNDAMENTE. ABRIU-LHE A BARRIGA, SALVOU-LHE OS FILHOS E ENCHEU A BARRIGA DO LOBO COM PEDRAS.


O LOBO, QUANDO ACORDOU, FOI BEBER ÁGUA AO POÇO E, DE TÃO PESADO QUE ESTAVA, MORREU AFOGADO.

UM LOBO ESFOMEADO, ESCONDIDO ATRÁS DE UM ARBUSTO, VIU A MÃE CABRA PARTIR. BATE À PORTA PEDIU PARA O CABRITINHOS ABRIREM

OS CABRITINHOS, RECONHECENDO A VOZ DO LOBO, NÃO ABRIRAM A PORTA.

NOME: _____ DATA: ____/____/____

COLE AQUI O TEXTO NA ORDEM DOS ACONTECIMENTOS:



NOME: _____ DATA: ____/____/____

**LEIA O TEXTO (O LOBO E OS SETE CABRITINHOS) DO LIVRO "APRENDER SEMPRE"
PÁGINAS 23 e 24**

DEPOIS PONTUE CORRETAMENTE O TRECHO ABAIXO:

O lobo correu então até o padeiro e lhe disse

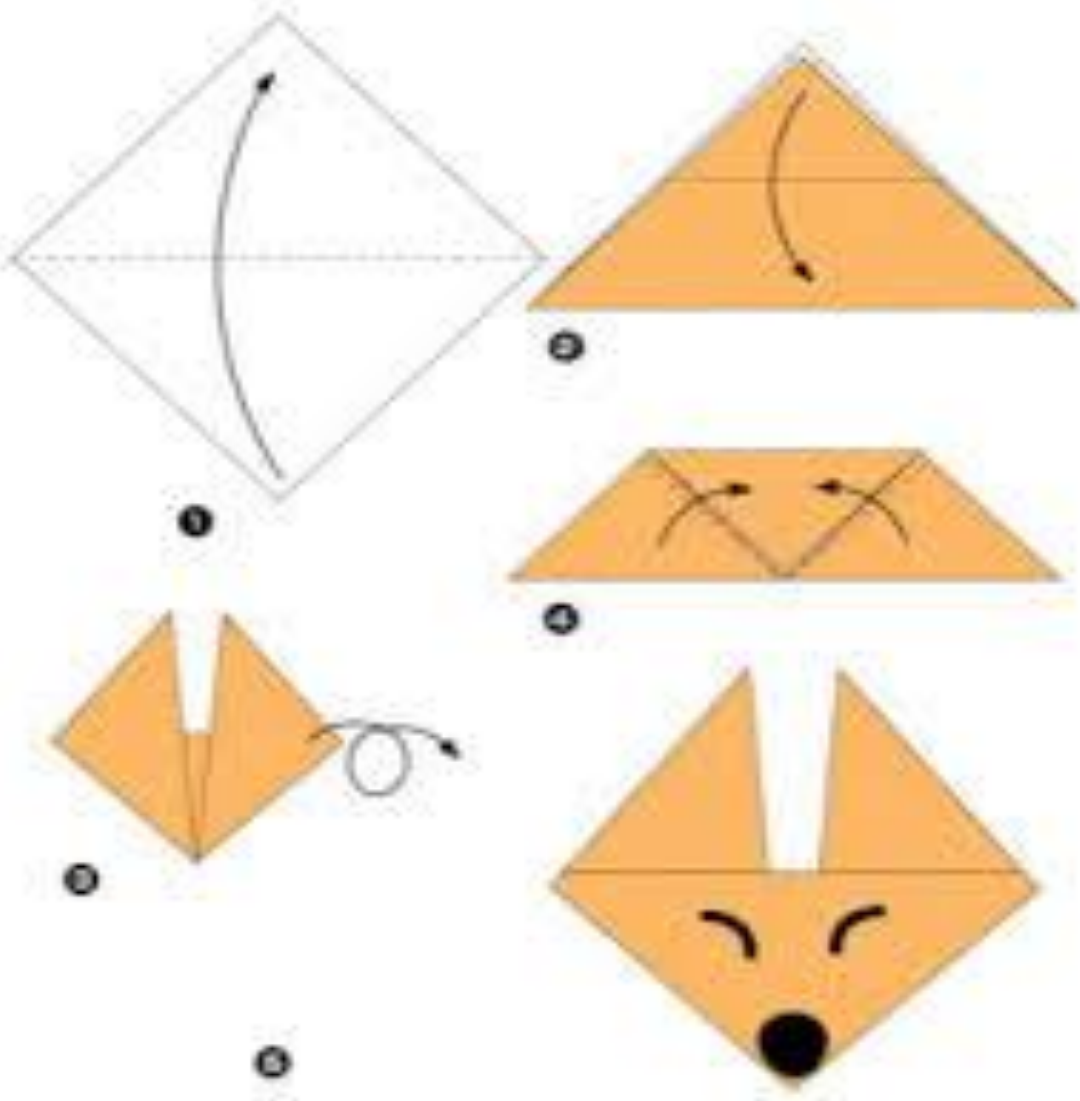
Machuquei o pé queres esparramar- lhe em cima um pouco de massa

Quando o padeiro lhe espargiu a massa na pata correu até o moleiro e disse

Espalha um pouco de farinha de trigo na minha pata

NOME: _____ DATA: ____/____/____

OBSERVE AS FIGURAS ABAIXO DE COMO FAZER DOBRADURA . FAÇA O LOBO COM A FOLHA ABAIXO:



NOME: _____ DATA: ____/____/____

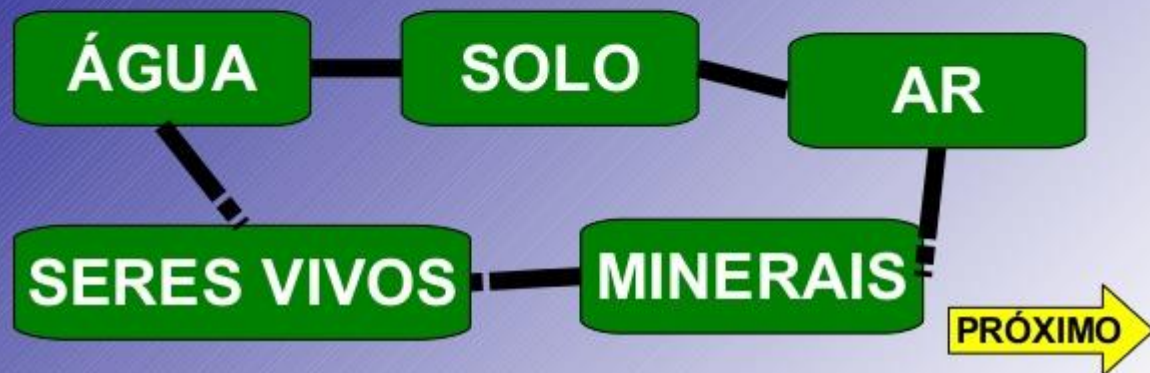
CIÊNCIAS

OS RECURSOS NATURAIS

A natureza é a fonte de recursos naturais.

O que são recursos naturais?

Recurso natural é tudo aquilo que o homem retira da natureza para realizar as suas tarefas.



NOME: _____

DATA: ____/____/____

CIÊNCIAS

O homem e a natureza



Os rios, as montanhas, as plantas e as pedras fazem parte da natureza.

O homem aproveita e modifica os lugares da natureza, para poder viver neles.

1) Escreva na primeira coluna as coisas da natureza e na segunda, as coisas inventadas pelo homem: (1)

cavalo - avião - árvore - estátua - fruta - livro

Coisas da natureza	Coisas inventadas pelo homem

NOME: _____ DATA: ___/___/___

Matemática

x4
1 X 4 =
2 X 4 =
3 X 4 =
4 X 4 =
5 X 4 =
6 X 4 =
7 X 4 =
8 X 4 =
9 X 4 =
10 X 4 =

$58 \overline{)4}$

$76 \overline{)4}$

$89 \overline{)4}$

$15 \overline{)4}$

$65 \overline{)4}$

$34 \overline{)4}$

$88 \overline{)4}$

$46 \overline{)4}$


Escola: _____

Data: _____ Turma: _____

Aluno: _____



Vamos Dividir!



$9 \overline{) 3}$

$63 \overline{) 3}$

$157 \overline{) 3}$

$699 \overline{) 3}$

$933 \overline{) 3}$

$995 \overline{) 3}$

$320 \overline{) 3}$

$405 \overline{) 3}$

$546 \overline{) 3}$

$650 \overline{) 3}$

$729 \overline{) 3}$

$801 \overline{) 3}$

$729 \overline{) 2}$

$515 \overline{) 2}$

$920 \overline{) 2}$

RECURSOS NATURAIS

Encontre no caça palavras os recursos naturais encontrados na natureza: rio, árvores, terra, montanhas, animais, frutos e cachoeira.



Á	R	F	V	E	B	R	I	C
F	M	H	L	R	I	O	N	A
C	O	K	M	N	F	R	M	C
A	N	I	M	A	I	S	A	H
M	T	G	N	E	F	I	R	O
O	Á	R	V	O	R	E	S	E
N	N	C	H	X	U	A	E	I
T	H	O	I	A	T	Q	A	R
G	A	H	E	R	O	V	Ç	A
V	S	U	D	J	S	A	S	Z
A	R	R	T	E	R	R	A	X


POLUIÇÃO :AR E ÁGUA

A poluição é uma prática que prejudica o meio ambiente. **Poluição da água:** é o lançamento de lixo e esgoto nos rios, mares e lagos além das impurezas, pode transmitir doenças, intoxicação e até a morte dos seres vivos. Também devemos conscientizar sobre o excesso de sacolas, garrafas PET e outros produtos plásticos.


Poluição do ar

Poluição do ar: Acontece pelo aumento de gases poluentes na atmosfera que prejudica a qualidade do ar, podendo provocar doenças respiratórias em diversas pessoas. Alguns grandes responsáveis pela poluição do ar são: escapamento de veículos, indústrias e queimadas de florestas.

Escreva uma legenda abaixo de cada imagem a seguir e pinte somente o ambiente mais agradável para viver.



--	--



--	--


NOME: _____ DATA: ____ / ____ / ____

CUIDANDO DO PLANETA

Escreva atitudes boas que os personagens da Turma da Mônica faz em cada cena quanto ao meio ambiente.







©www.danieladoc.com.br

Observe o mapa e responda as questões a seguir:



Fonte IBGE

NOME: _____ DATA: ____/____/____

Atividade

Observe o mapa do Brasil:




1. Pinte de verde o estado em que você mora.
2. Faça um x nos estados que compõem a região em que se encontra seu estado.
3. Identifique no mapa os estados da região Sul e pinte de verde.
4. Quantos estados compõem a República Federativa do Brasil?

5. Qual o menor estado de nosso País?

6. Localize e marque no mapa os estados banhados pelo Oceano Atlântico.
7. Quais estados fazem divisa com o Ceará?

8. Contorne de caneta o maior estado do Brasil.

9- Quais são as cinco regiões do Brasil?



10. Qual região possui maior número de estados?

11. Relacione corretamente:

- | | |
|---------------------------|----------------|
| (1) Região Centro-Oeste | () 09 estados |
| (2) Região Norte | () 04 estados |
| (3) Região Sudeste | () 07 estados |
| (4) Região Nordeste | () 03 estados |

12. Encontre o intruso.

Região Sul

Paraná (PR)

Minas Gerais (MG)

Santa Catarina (SC)

13. Qual o nome oficial do Brasil?

15. Qual a capital do Brasil e onde está localizada?

16. Em qual hemisfério se encontra o Brasil?

17. Qual a capital?

Amazonas _____

Ceará _____

Bahia _____

Paraná _____

Rio Grande do Norte _____

Rondônia _____

Tocantins _____

Pará _____



ROTEIRO DE ATIVIDADES DO LIVRO:

LIVRO- APRENDER SEMPRE VOLUME 1

UNIDADE 1 – Sequência didática 2 – Escrita de contos de Fadas :

Pág. 23 - Aula 2 – LEITURA DO CONTO “O LOBO E OS SETE CABRITINHOS”

Pág. 24 - Aula 2 – LEITURA DO CONTO “O LOBO E OS SETE CABRITINHOS”

Pág. 25 - Aula 3 – PLANEJAMENTO DA HISTÓRIA

Pág. 28 - Aula 8 – A PONTUAÇÃO DE DIÁLOGO NOS CONTOS.

LIVRO- CURRÍCULO EM AÇÃO – EMAI 4º ANO – Volume 1

UNIDADE 2 :

Pág. 47 – ATIVIDADE - 7.2 – TABELA

Pág. 48 – ATIVIDADE 7.3 – SITUAÇÃO PROBLEMA

Pág. 49 – ATIVIDADE 7.4 – CÁLCULO MENTAL

Pág. 50 – ATIVIDADE 7.5 – OPERAÇÃO NO CAMPO ADITIVO (ADIÇÃO) POR DECOMPOSIÇÃO

Pág. 51 – ATIVIDADE 7.6 – OPERAÇÃO NO CAMPO ADITIVO (ADIÇÃO E SUBTRAÇÃO)

SEQUÊNCIA 8

Pág. 52 – ATIVIDADE 8.1- GEOMETRIA

Pág. 53 - ATIVIDADE 8.1 –GEOMETRIA (NÚMERO DE VÉRTICES)

Pág. 54 – ATIVIDADE 8.2 – GEOMETRIA (NÚMERO DE FACES)

Pág. 55 – ATIVIDADE 8.3 – GEOMETRIA (NÚMERO DE ARESTAS)

REFERÊNCIAS BIBLIOGRÁFICAS

<https://br.pinterest.com>

<https://deimportantehistoriablogspot.com>

<https://www.ensinando.com>

<https://.pinterest.com>

<youtube dobraduradocarinhodolobo.com.br>