



Prefeitura da Estância Turística de

**IBIÚNA**



**E.M “JOSÉ GABRIEL MACHADO”**

**1º ANO C**

**PROFESSORA: DIRCE APARECIDA COPANI**



**APOSTILA DE ATIVIDADES REMOTAS Nº 13**

**PERÍODO DE: 18/10 A 05/11**
























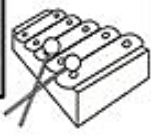



**NOME:**

E.M. "JOSÉ GABRIEL MACHADO".

IBIÚNA, 18 DE OUTUBRO DE 2021.

MEU NOME É \_\_\_\_\_

COLOQUE A LETRA INICIAL DE CADA DESENHO:

	<input type="text"/>		<input type="text"/>		<input type="text"/>		<input type="text"/>
	<input type="text"/>		<input type="text"/>		<input type="text"/>		<input type="text"/>
	<input type="text"/>		<input type="text"/>		<input type="text"/>		<input type="text"/>
	<input type="text"/>		<input type="text"/>		<input type="text"/>		<input type="text"/>
	<input type="text"/>		<input type="text"/>		<input type="text"/>		<input type="text"/>
	<input type="text"/>		<input type="text"/>		<input type="text"/>		<input type="text"/>
	<input type="text"/>		<input type="text"/>				

www.artedeensinareaprender.com

VIDEO DO ALFABETO:

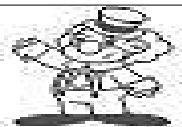
<https://www.youtube.com/watch?v=pBsfpU9zWNI&t=32s>

1	2	3	4	5	6	7	8	9	10
11	12	13	14	15	16	17	18	19	20
21	22	23	24	25	26	27	28	29	30
31	32	33	34	35	36	37	38	39	40
41	42	43	44	45	46	47	48	49	50
51	52	53	54	55	56	57	58	59	60
61	62	63	64	65	66	67	68	69	70
71	72	73	74	75	76	77	78	79	80
81	82	83	84	85	86	87	88	89	90
91	92	93	94	95	96	97	98	99	100

1000000000

## Números até 100

Complete com os números faltantes



	2	3				7			
				15				19	
		23							30
					36				
41							48		
			54			57			
	62							69	
				75					80
81		83							
			94			97			100

E.M. "JOSÉ GABRIEL MACHADO".

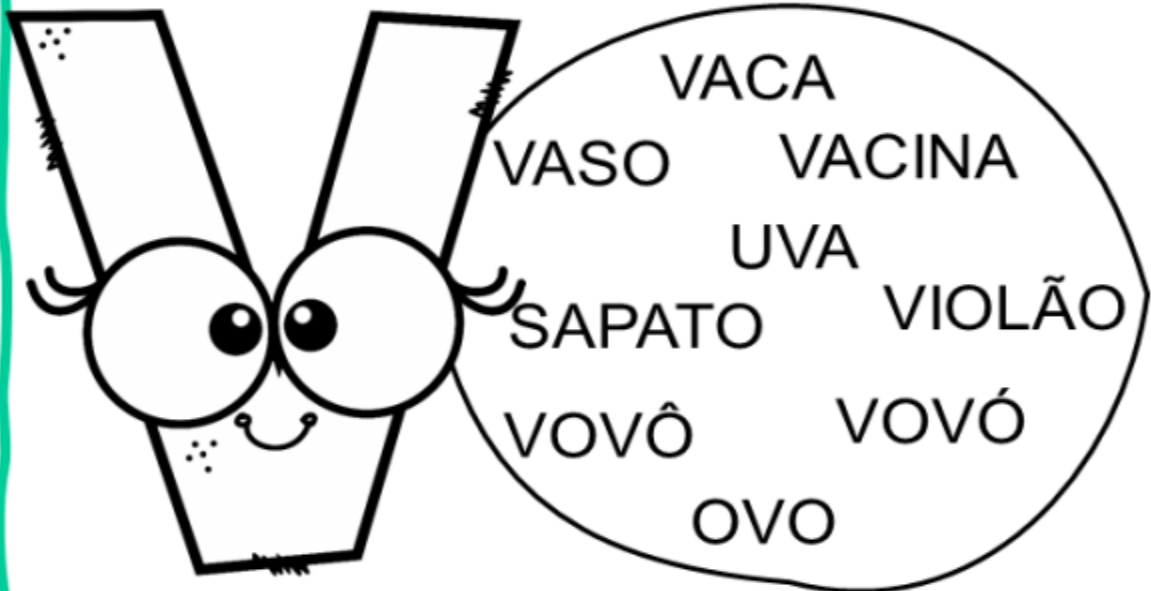
IBIÚNA, 19 DE OUTUBRO DE 2021.

MEU NOME É \_\_\_\_\_

LÍNGUA PORTUGUESA

NOME: \_\_\_\_\_ DATA: \_\_\_/\_\_\_/\_\_\_

ENCONTRE E CIRCULE AS PALAVRAS INICIADAS COM A LETRA V.



COMPLETE AS PALAVRAS COM A LETRA V.



\_\_\_\_\_ACA



\_\_\_\_\_OVÓ



\_\_\_\_\_IOLÃO



\_\_\_\_\_ASO



\_\_\_\_\_OVÔ



\_\_\_\_\_ACINA

CONTABILIDADE ANTROPOMÉTRICA



[www.espacoprofessor.com](http://www.espacoprofessor.com)





Material produzido pela Psicopedagoga Kátia Teixeira



Conteúdo protegido pela Lei de Direitos autorais. Número do Copyright: WEB121989

# Atividade

I- CONTE E PINTE A QUANTIDADE NO GRÁFICO:

10				
9				
8				
7				
6				
5				
4				
3				
2				
1				
				



Educação e Transformação

E.M. "JOSÉ GABRIEL MACHADO".


IBIÚNA, 20 DE OUTUBRO DE 2021.

MEU NOME É \_\_\_\_\_

LÍNGUA PORTUGUESA


NOME: \_\_\_\_\_ DATA: \_\_\_\_ / \_\_\_\_ / \_\_\_\_

LEIA O TEXTO E CIRCULE AS PALAVRAS INICIADAS COM A LETRA V.



O V ESTÁ NA VACA  
NO VESTIDO E NA VELA.  
ESTÁ NO VIOLINO  
E NO VASO DA ANABELA.

ESCREVAS OS NOMES DOS DESENHOS.



[www.espacoprofessor.com](http://www.espacoprofessor.com)




Material produzido pela Psicopedagoga Kátia Teixeira

Conteúdo protegido pela Lei de Direitos autorais. Número do Copyright: WEB121989

CIÊNCIAS

O QUE DEVEMOS FAZER PARA PRESERVAR O MEIO AMBIENTE.

FAÇA UM X NO QUADRADINHO DA ATITUDE CORRETA:



E.M. "JOSÉ GABRIEL MACHADO".

IBIÚNA, 21 DE OUTUBRO DE 2021.

MEU NOME É \_\_\_\_\_

LÍNGUA PORTUGUESA

**1. LEIA AS PALAVRAS E CIRCULE A LETRA "V":**

VITALIDADE  
VOAR

VIAGEM  
VESPA

VIDA  
VITÓRIA

VETADO  
VILÃO

**2. COMPLETE COM VA, VE, VI, VO ou VU E LEIA:**



CA \_\_\_\_ LO



\_\_\_\_ LA



\_\_\_\_ SPA



\_\_\_\_ OLÃO



\_\_\_\_ LCÃO



\_\_\_\_ VÓ



NA \_\_\_\_ O



A \_\_\_\_ ãO

**3. ESCREVA OS NOMES DAS FIGURAS E SEPRE AS SÍLABAS NOS QUADRINHOS:**



\_\_\_\_\_

--	--	--



\_\_\_\_\_

--	--



\_\_\_\_\_

--	--	--



\_\_\_\_\_

--	--	--



# QUANTOS A MAIS?

OBSERVE AS FRUTAS, ESCREVA SUAS QUANTIDADES,  
IDENTIFIQUE A QUE TEM MAIS E ESCREVA  
QUANTAS FRUTAS A MAIS TEM.

CIRCULE O CONJUNTO QUE TEM MAIS FRUTAS.



QUANTAS TEM?



QUANTAS TEM?



EXISTEM   UVAS A MAIS QUE BANANAS.

E.M. "JOSÉ GABRIEL MACHADO".

IBIÚNA, 22 DE OUTUBRO DE 2021.


MEU NOME É \_\_\_\_\_

MATEMÁTICA

ESCREVA O NOME DE CADA NUMERAL:

## OS NUMERAIS

1.	<input type="text"/>	8.	<input type="text"/>
2.	<input type="text"/>	9.	<input type="text"/>
3.	<input type="text"/>	10.	<input type="text"/>
4.	<input type="text"/>		
5.	<input type="text"/>		
6.	<input type="text"/>		
7.	<input type="text"/>		



A vertical list of ten empty rectangular boxes for writing the names of the numbers 1 through 10. To the right of the boxes is a vertical column of ten dashed-line boxes containing the words for the numbers: UM, DOIS, TRÊS, QUATRO, CINCO, SEIS, SETE, OITO, NOVE, and DEZ. In the center of the page, there is a cartoon illustration of a girl with curly hair, wearing a uniform with a belt and boots, holding a very large pencil.

A ARTE DE ENSINAR E APRENDER

FAZENDO A LETURA DAS PALAVRAS NO BANCO DE DADOS ABAIXO, ESCREVA OS NOMES DAS FIGURAS:



VACA

VAGA-LUME

VARA

VASO

VASSOURA

VELA

VENTILADOR

VESTIDO

VULCÃO



Analice Gomes



E.M. "JOSÉ GABRIEL MACHADO".

IBIÚNA, 25 DE OUTUBRO DE 2021.

MEU NOME É \_\_\_\_\_

LÍNGUA PORTUGUESA

# FAMÍLIA SILÁBICA

## V

LIGUE:

VA



VE



VI



VO



VU






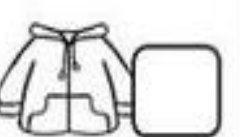
# MATEMÁTICA

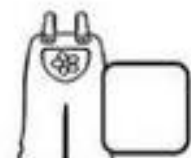

OBSERVE O GRÁFICO DE ROUPAS ARRECADADAS PELAS CRIANÇAS E RESPONDA AS QUESTÕES A SEGUIR.



- QUANTOS?

QUANTOS  A MAIS  
QUE  ?

QUANTAS  A MENOS  
QUE  ?

E.M. "JOSÉ GABRIEL MACHADO".


IBIÚNA, 26 DE OUTUBRO DE 2021.

MEU NOME É \_\_\_\_\_

LÍNGUA PORTUGUESA

VOCÊ CONHECE ESTA MÚSICA?

VAMOS FAZER A LEITURA:



COMO PODE UM PEIXE VIVO  
VIVER FORA DA ÁGUA FRIA?  
COMO PODEREI VIVER  
COMO PODEREI VIVER  
SEM A TUA, SEM A TUA  
SEM A TUA COMPANHIA?  
SEM A TUA, SEM A TUA  
SEM A TUA COMPANHIA?

◆ ENCONTRE E PINTE NO TEXTO O NOME DO ANIMAL.

PINTEREST.COM

AGORA COPIE A PALAVRA QUE VOCÊ PINTOU :

\_\_\_\_\_


QUANTAS LETRAS TEM ESTA PALAVRA QUE VOCÊ COPIOU ? \_\_\_\_\_

QUANTAS SÍLABAS? \_\_\_\_\_

QUAL É A PRIMEIRA SÍLABA? \_\_\_\_\_

QUAL É A ÚLTIMA SÍLABA? \_\_\_\_\_

**PINTE SOMENTE O ANIMAL QUE VIVE NA ÁGUA:**



*"Você é o meu amor!"*

E.M. "JOSÉ GABRIEL MACHADO".

IBIÚNA, 27 DE OUTUBRO DE 2021.

MEU NOME É \_\_\_\_\_

LÍNGUA PORTUGUESA

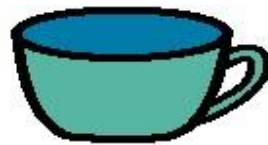
OLHE ESTAS PALAVRAS. VEJA COMO ELAS COMEÇAM?



**XA** LE



PEI **XE**



**XÍ** CARA



LI **XO**



**XU** XA

ATIVIDADES PARA EDUCAÇÃO ESPECIAL.COM

**COPIE ABAIXO SOMENTE AS PALAVRAS QUE TEM O X NO INICIO:**

\_\_\_\_\_



3

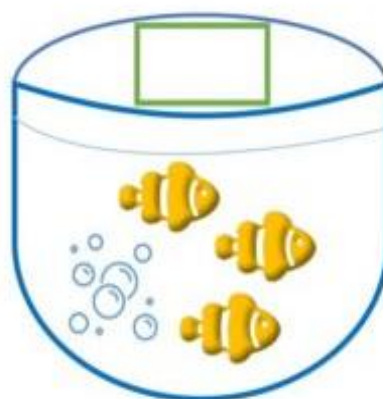
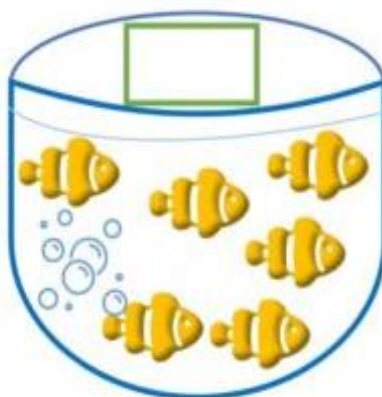
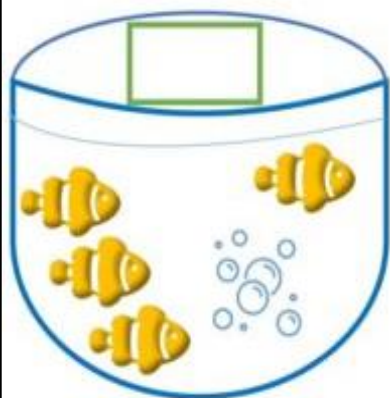
HOJE VAMOS COMEÇAR CANTANDO...  
VOCÊ CONHECE ESSA CANTIGA POPULAR?



COMO PODE O PEIXE VIVO  
VIVER FORA DA ÁGUA FRIA...



QUANTOS PEIXES TÊM EM CADA AQUÁRIO?



COMPLETE OS AQUÁRIOS DESENHANDO A QUANTIDADE DE PEIXES INDICADA.

5



8



10



E.M. "JOSÉ GABRIEL MACHADO".

IBIÚNA, 28 DE OUTUBRO DE 2021.

MEU NOME É \_\_\_\_\_

LÍNGUA PORTUGUESA



DESCUBRA A LETRA QUE ESTÁ FALTANDO :



★ COMPLETE A FAMÍLIA DO X:

XA

\_\_\_\_\_

\_\_\_\_\_

\_\_\_\_\_

XO

\_\_\_\_\_

0	1	2	3	4	5	6	7	8	9	10
---	---	---	---	---	---	---	---	---	---	----

1) FAÇA UM X NA CRIANÇA MAIS ALTA:



2) CIRCULE A CRIANÇA QUE NÃO ESTÁ SE CUIDANDO CONTRA A COVID-19:



3) CONTE QUANTOS PEIXES TEM EM CADA QUADRO E ESCREVA O NÚMERO NO QUADRINHO:

--	--	--

E.M. "JOSÉ GABRIEL MACHADO".



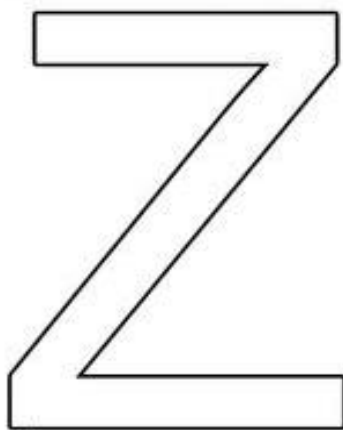
IBIÚNA, 29 DE OUTUBRO DE 2021.

MEU NOME É \_\_\_\_\_


LÍNGUA PORTUGUESA

## Z DE ZUM-ZUM-ZUM

1- FAÇA O CONTORNO COM TINTA A DEDO, CUBRA COM GIZ COLORIDO E COPIE NO QUADRO.



2- PINTE TODOS OS DESENHOS CUJO OS NOMES INICIAM COM A LETRA Z.



www.artedeensinareaprender.com

# MATEMÁTICA

OBSERVE OS VALORES DOS PRODUTOS:



R\$ 10,00



R\$ 5,00



R\$ 4,00



R\$ 3,00



R\$ 8,00



**PINTE A ETIQUETA DO PRODUTO MAIS CARO**

E.M. "JOSÉ GABRIEL MACHADO".

IBIÚNA, 03 DE NOVEMBRO DE 2021.

MEU NOME É \_\_\_\_\_

LINGUA PORTUGUESA

**1- LEIA O TEXTO E RESPONDAS AS PERGUNTAS:**

## A ZEBRA ZAZÁ

WENIDARC CINTRA

ZAZÁ É A ZEBRINHA  
QUE MORA NO ZOOLOGICO.  
ELA É TODA LISTRADINHA.  
SE É BONITA? É LÓGICO!

ELA NÃO É BRAVA.  
O ZICO É O ZELADOR,  
QUE CUIDA DA ZAZÁ,  
COM CARINHO E AMOR.



<https://www.liveworksheets.com/worksheets>

### ZAZÁ É UMA:

ZELADORA

MENINA

ZEBRINHA

MULHER

### ZAZÁ MORA:

NA MATA

NO ZOOLOGICO

NA SELVA

NO QUINTAL

### ZICO CUIDA DA ZAZÁ COM:

CARINHO

AMOR

EDUCAÇÃO


REVOLTA




<https://www.aprenderebrincar.com>

MATEMÁTICA


VAMOS FAZER AS SUBTRAÇÕES:




$8 - 4 = 4$




$9 - 6 = \underline{\quad}$




$7 - 5 = \underline{\quad}$




$10 - 3 = \underline{\quad}$




$9 - 3 = \underline{\quad}$




$4 - 1 = \underline{\quad}$




$6 - 3 = \underline{\quad}$




$7 - 5 = \underline{\quad}$




$7 - 2 = \underline{\quad}$



$7 - 4 = \underline{\quad}$



$5 - 4 = \underline{\quad}$



$8 - 6 = \underline{\quad}$

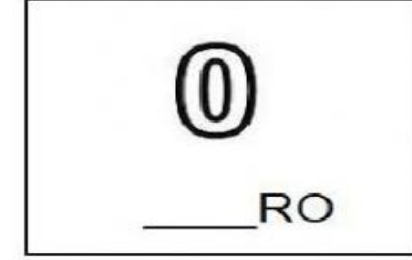



E.M. "JOSÉ GABRIEL MACHADO".

IBIÚNA, 04 DE NOVEMBRO DE 2021.

MEU NOME É \_\_\_\_\_

LÍNGUA PORTUGUESA


COMPLETE AS PALAVRAS COM AS SÍLABAS **ZA, ZE, ZI, ZO** OU **ZU**.





## MATEMÁTICA

VEJA O CHAPEUZINHO DO ANIVERSÁRIO DA ELIZAMA.



QUAL DAS FIGURAS ABAIXO TEM A MESMA FORMA DO CHAPEUZINHO?



A)



B)




C)



D)

### QUESTÃO 04

VANESSA E SEUS AMIGOS SAÍRAM PARA IR AO CIRCO E COMBINARAM QUE A PESSOA MAIS ALTA DO GRUPO COMPRARIA OS INGRESSOS NA BILHETERIA.



QUEM FOI COMPRAR OS INGRESSOS?

A)  AMANDA

B)  PEDRO

C)  TATIANA

D)  MARCELO

E.M. "JOSÉ GABRIEL MACHADO".

IBIÚNA, 05 DE NOVEMBRO DE 2021.


MEU NOME É \_\_\_\_\_

LÍNGUA PORTUGUESA

CIRCULE AS SÍLABAS ZA, ZE, ZI, ZO, ZU DOS NOMES DAS FIGURAS:

<p>ZAZÁ</p> 	<p>ZELADOR</p> 	<p>ZEPELIM</p> 
<p>ZERO</p> 	<p>ZEBRA</p> 	<p>ZEBU</p> 
<p>ZECA</p> 	<p>ZÉ LELE</p> 	<p>ZEZÉ</p> 
<p>ZICO</p> 	<p>ZÍPER</p> 	<p>ZORRO</p> 

OBSERVE E RESPONDA:



★ QUANTAS MAÇÃS TÊM DENTRO DO CESTO?

★ QUANTAS MAÇÃS TÊM EM FRENTE AO CESTO?

★ QUANTAS MAÇÃS TÊM AO LADO DO CESTO?

RESOLVA AS CONTINHAS E DESENHE OS RESULTADOS.

$$\begin{array}{c} \boxed{\text{4 pears}} + \boxed{\text{5 pears}} = \boxed{\phantom{000}} \\ \phantom{\boxed{\text{4 pears}}} + \phantom{\boxed{\text{5 pears}}} = \phantom{\boxed{\phantom{000}}} \\ \phantom{\boxed{\text{4 pears}}} + \phantom{\boxed{\text{5 pears}}} = \phantom{\boxed{\phantom{000}}} \end{array}$$

$$\begin{array}{c} \boxed{\text{6 strawberries}} + \boxed{\text{8 strawberries}} = \boxed{\phantom{000}} \\ \phantom{\boxed{\text{6 strawberries}}} + \phantom{\boxed{\text{8 strawberries}}} = \phantom{\boxed{\phantom{000}}} \\ \phantom{\boxed{\text{6 strawberries}}} + \phantom{\boxed{\text{8 strawberries}}} = \phantom{\boxed{\phantom{000}}} \end{array}$$

$$\begin{array}{c} \boxed{\text{5 lemons}} + \boxed{\text{7 lemons}} = \boxed{\phantom{000}} \\ \phantom{\boxed{\text{5 lemons}}} + \phantom{\boxed{\text{7 lemons}}} = \phantom{\boxed{\phantom{000}}} \\ \phantom{\boxed{\text{5 lemons}}} + \phantom{\boxed{\text{7 lemons}}} = \phantom{\boxed{\phantom{000}}} \end{array}$$